

Haryana Staff Selection Commission

Notations :

- Options shown in green color and with ✓ icon are correct.
- Options shown in red color and with ✗ icon are incorrect.

Subject Name:	CAT 8 Senior Scale Stenographer English Hindi CBT Exam
Total Marks:	200
Display Marks:	Yes
Calculator:	None
Magnifying Glass Required?:	No
Ruler Required?:	No
Eraser Required?:	No
Scratch Pad Required?:	No
Rough Sketch/Notepad Required?:	No
Protractor Required?:	No

CAT 8 Senior Scale Stenographer English Hindi CBT Exam

Group Marks: 200

CAT 8 Senior Scale Stenographer English Hindi CBT Exam

Section Marks:	200
Display Number Panel:	Yes
Group All Questions:	No

Question Number : 1 Question Id : 168000701 Display Question Number : Yes Single Line Question Option : No Option Orientation : Vertical

Which of the following districts of Haryana has yielded evidence of Rang Mahal Culture?

Options :

- ✗ Faridabad
- ✗ Gurugram
- ✗ Palwal
- ✓ Sirsa

Question Number : 1 Question Id : 168000701 Display Question Number : Yes Single Line Question Option : No Option Orientation : Vertical

हरियाणा के निम्नलिखित में से किस जिले में रंग महल संस्कृति के प्रमाण मिले हैं?

Options :

1. ✘ फरीदाबाद
2. ✘ गुरुग्राम
3. ✘ पलवल
4. ✔ सिरसा

Question Number : 2 Question Id : 168000702 Display Question Number : Yes Single Line Question Option : No Option Orientation : Vertical

Aisukari in Panini's Astadhyayi has been identified with which city?

Options :

1. ✘ Agroha
2. ✘ Ambala
3. ✔ Hissar
4. ✘ Rewari

Question Number : 2 Question Id : 168000702 Display Question Number : Yes Single Line Question Option : No Option Orientation : Vertical

पाणिनि की अष्टाध्यायी में ऐसुकारी की पहचान किस शहर के रूप में हुई थी?

Options :

1. ✘ अग्रोहा
2. ✘ अंबाला
3. ✔ हिसार
4. ✘ रेवाड़ी

Question Number : 3 Question Id : 168000703 Display Question Number : Yes Single Line Question Option : No Option Orientation : Vertical

Raja Gajpat Singh of Jind was the scion of:

Options :

1. ✘ Ahluwalia Misl
2. ✘ Bhangi Misl
3. ✔ Phulkian Misl
4. ✘ Ramgarhia Misl

Question Number : 3 Question Id : 168000703 Display Question Number : Yes Single Line Question Option : No Option Orientation : Vertical

जींद के राजा गजपत सिंह किसके वंशज थे?

Options :

1. ✘ अहलुवालिया मिस्ल
2. ✘ भंगी मिस्ल
3. ✔ फुलकेन मिस्ल
4. ✘ रामगढ़िया मिस्ल

Question Number : 4 Question Id : 168000704 Display Question Number : Yes Single Line Question Option : No Option Orientation : Vertical

Originally, the tomb of Razia Begum was situated at:

Options :

1. ✘ Ambala
2. ✔ Kaithal
3. ✘ Karnal
4. ✘ Kurukshetra

Question Number : 4 Question Id : 168000704 Display Question Number : Yes Single Line Question Option : No Option Orientation : Vertical

प्रारम्भतः रजिया बेगम का मकबरा कहाँ पर स्थित था?

Options :

1. ✘ अंबाला

2. ✓ कैथल

3. ✗ करनाल

4. ✗ कुरुक्षेत्र

Question Number : 5 Question Id : 168000705 Display Question Number : Yes Single Line Question Option : No Option Orientation : Vertical

The Council of Ministers of the present Haryana Government has _____ cabinet ministers.

Options :

1. ✗ 5

2. ✗ 7

3. ✓ 9

4. ✗ 11

Question Number : 5 Question Id : 168000705 Display Question Number : Yes Single Line Question Option : No Option Orientation : Vertical

वर्तमान हरियाणा सरकार के मंत्रिपरिषद में _____ कैबिनेट मंत्री हैं।

Options :

1. ✗ 5

2. ✗ 7

3. ✓ 9

4. ✗ 11

Question Number : 6 Question Id : 168000706 Display Question Number : Yes Single Line Question Option : No Option Orientation : Vertical

What is the name of the insurance scheme for cattle breeders launched by the Haryana Government?

Options :

1. ✓ Pashudhan Bima Yojana

2. ✗ Pashu Suraksha Yojana

3. ✗ Maaljaal Bima Yojana

4. ✘ Atal Pashu Bima Yojana

Question Number : 6 Question Id : 168000706 Display Question Number : Yes Single Line Question Option : No Option Orientation : Vertical

हरियाणा सरकार द्वारा पशु प्रजनकों के लिए शुरू की गयी बीमा योजना का नाम क्या है?

Options :

1. ✔ पशुधन बीमा योजना
2. ✘ पशु सुरक्षा योजना
3. ✘ मालजाल बीमा योजना
4. ✘ अटल पशु बीमा योजना

Question Number : 7 Question Id : 168000707 Display Question Number : Yes Single Line Question Option : No Option Orientation : Vertical

The NCR Taxi Scheme implemented by the Government of Haryana will cover all of the following districts Except:

Options :

1. ✘ Karnal
2. ✔ Sirsa
3. ✘ Mahendragarh
4. ✘ Gurugram

Question Number : 7 Question Id : 168000707 Display Question Number : Yes Single Line Question Option : No Option Orientation : Vertical

हरियाणा सरकार द्वारा लागू की गयी एनसीआर टैक्सी योजना में निम्नलिखित में से किस जिले के अलावा सभी जिलों को शामिल किया जाएगा?

Options :

1. ✘ करनाल
2. ✔ सिरसा
3. ✘ महेन्द्रगढ़
4. ✘ गुरुग्राम

Question Number : 8 Question Id : 168000708 Display Question Number : Yes Single Line Question Option : No Option
Orientation : Vertical

The Haryana Government signed a memorandum of understanding (MoU) with _____ to set up its manufacturing unit in Bawal, Haryana.

Options :

1. ✘ Apple
2. ✔ Karbonn
3. ✘ Micromax
4. ✘ Samsung

Question Number : 8 Question Id : 168000708 Display Question Number : Yes Single Line Question Option : No Option
Orientation : Vertical

हरियाणा सरकार ने हरियाणा के बावल में विनिर्माण इकाई स्थापित करने के लिए _____ के साथ एक समझौता ज्ञापन (एमओयू) पर हस्ताक्षर किये हैं।

Options :

1. ✘ एप्पल
2. ✔ कार्बन
3. ✘ माइक्रोमैक्स
4. ✘ सैमसंग

Question Number : 9 Question Id : 168000709 Display Question Number : Yes Single Line Question Option : No Option
Orientation : Vertical

Who is the author of the novel 'Kath Ke Putley'?

Options :

1. ✘ Jainath Nalin
2. ✔ Dhan Singh
3. ✘ KPS Singh
4. ✘ Madan Gulati

Question Number : 9 Question Id : 168000709 Display Question Number : Yes Single Line Question Option : No Option
Orientation : Vertical

'काठ के पुतले' नामक उपन्यास के लेखक कौन हैं?

Options :

1. ✘ जयनाथ नलिन
2. ✔ धन सिंह
3. ✘ के.पी.एस. सिंह
4. ✘ मदन गुलाटी

Question Number : 10 Question Id : 168000710 Display Question Number : Yes Single Line Question Option : No Option Orientation : Vertical

Who among the following is the author of the Haryanvi Sahitya's "Haryana Ke Heere"?

Options :

1. ✔ P P Singhal
2. ✘ Rajendra Gautam
3. ✘ P D Nirmal
4. ✘ Surendra Sharma

Question Number : 10 Question Id : 168000710 Display Question Number : Yes Single Line Question Option : No Option Orientation : Vertical

निम्नलिखित में से हरियाणवी साहित्य की किताब "हरियाणा के हीरे" के लेखक कौन है?

Options :

1. ✔ पी पी सिंघल
2. ✘ राजेंद्र गौतम
3. ✘ पी डी निर्मल
4. ✘ सुरेंद्र शर्मा

Question Number : 11 Question Id : 168000711 Display Question Number : Yes Single Line Question Option : No Option Orientation : Vertical

The drama "Talaash Jaari Hai" was written by:

Options :

1. ✘ Baijnath Singhal
2. ✘ Sukh Chain Singh Bhandari
3. ✔ Amrit Lal Madaan
4. ✘ Madan Gulati

Question Number : 11 Question Id : 168000711 Display Question Number : Yes Single Line Question Option : No Option Orientation : Vertical

“तलाश जारी है” नामक नाटक के लेखक हैं:

Options :

1. ✘ बैजनाथ सिंघल
2. ✘ सुख चैन सिंह भंडारी
3. ✔ अमृत लाल मदान
4. ✘ मदन गुलाटी

Question Number : 12 Question Id : 168000712 Display Question Number : Yes Single Line Question Option : No Option Orientation : Vertical

According to the Government _____ kilograms of fertilizers is the per hectare consumption of Haryana during 2010-11.

Options :

1. ✘ 200.4
2. ✔ 209.8
3. ✘ 218.5
4. ✘ 226.3

Question Number : 12 Question Id : 168000712 Display Question Number : Yes Single Line Question Option : No Option Orientation : Vertical

सरकार के अनुसार 2010-11 के दौरान हरियाणा में प्रति हेक्टेयर _____ किलोग्राम उर्वरक की खपत हुई।

Options :

1. ✘ 200.4
2. ✔ 209.8

3. ✘ 218.5

4. ✘ 226.3

Question Number : 13 Question Id : 168000713 Display Question Number : Yes Single Line Question Option : No Option Orientation : Vertical

Which of the following trees are found in the plains of Haryana?

Options :

1. ✘ Acacia

2. ✘ Chad

3. ✘ Mahua

4. ✔ Mango

Question Number : 13 Question Id : 168000713 Display Question Number : Yes Single Line Question Option : No Option Orientation : Vertical

हरियाणा के मैदानी इलाकों में निम्नलिखित में से कौन से पेड़ पाए जाते हैं?

Options :

1. ✘ बबूल

2. ✘ चाड

3. ✘ महुआ

4. ✔ आम

Question Number : 14 Question Id : 168000714 Display Question Number : Yes Single Line Question Option : No Option Orientation : Vertical

The population of Haryana according to the 2011 census is:

Options :

1. ✘ 23,255,462

2. ✔ 25,351,462

3. ✘ 28,531,462

4. ✘ 29,751,462

Question Number : 14 Question Id : 168000714 Display Question Number : Yes Single Line Question Option : No Option Orientation : Vertical

2011 की जनगणना के अनुसार हरियाणा की जनसंख्या है:

Options :

1. ✘ 23,255,462
2. ✔ 25,351,462
3. ✘ 28,531,462
4. ✘ 29,751,462

Question Number : 15 Question Id : 168000715 Display Question Number : Yes Single Line Question Option : No Option Orientation : Vertical

Who has the distinction of becoming the Chief Minister of Haryana four times?

Options :

1. ✘ Bansilal
2. ✘ Bhupender Singh Hooda
3. ✔ O P Chautala
4. ✘ Banarsi Das Gupta

Question Number : 15 Question Id : 168000715 Display Question Number : Yes Single Line Question Option : No Option Orientation : Vertical

किसे हरियाणा का चार बार मुख्यमंत्री बनने का गौरव प्राप्त है?

Options :

1. ✘ बंसी लाल
2. ✘ भूपेन्द्र सिंह हुड्डा
3. ✔ ओ पी चौटाला
4. ✘ बनारसी दास गुप्ता

Question Number : 16 Question Id : 168000716 Display Question Number : Yes Single Line Question Option : No Option Orientation : Vertical

The Haryana Municipal Act, 1973 was amended for the first time in the year _____.

Options :

1. ✓ 1973
2. ✗ 1976
3. ✗ 1978
4. ✗ 1979

Question Number : 16 Question Id : 168000716 Display Question Number : Yes Single Line Question Option : No Option Orientation : Vertical

हरियाणा नगरपालिका अधिनियम, 1973 को पहली बार _____ में संशोधित किया गया था।

Options :

1. ✓ 1973
2. ✗ 1976
3. ✗ 1978
4. ✗ 1979

Question Number : 17 Question Id : 168000717 Display Question Number : Yes Single Line Question Option : No Option Orientation : Vertical

How many female members are there in the Haryana Vidhan Sabha?

Options :

1. ✗ 10
2. ✓ 13
3. ✗ 14
4. ✗ 15

Question Number : 17 Question Id : 168000717 Display Question Number : Yes Single Line Question Option : No Option Orientation : Vertical

हरियाणा विधानसभा में कितनी महिला सदस्य हैं?

Options :

1. ✗ 10
2. ✓ 13

3. ✘ 14

4. ✘ 15

Question Number : 18 Question Id : 168000718 Display Question Number : Yes Single Line Question Option : No Option Orientation : Vertical

In the 2014 Indian General Election, in Haryana, the lone INC Lok Sabha seat was won by:

Options :

1. ✘ Naveen Jindal

2. ✘ Sampat Singh

3. ✔ Deepender Singh Hooda

4. ✘ Rao Dharampal

Question Number : 18 Question Id : 168000718 Display Question Number : Yes Single Line Question Option : No Option Orientation : Vertical

वर्ष 2014 के भारतीय लोकसभा चुनावों में हरियाणा की इकलौती कांग्रेसी लोकसभा सीट किसने जीती थी?

Options :

1. ✘ नवीन जिंदल

2. ✘ संपत सिंह

3. ✔ दीपेंद्र सिंह हुड्डा

4. ✘ राव धर्मपाल

Question Number : 19 Question Id : 168000719 Display Question Number : Yes Single Line Question Option : No Option Orientation : Vertical

A part of which of the following mountain ranges lies in the southern part of Haryana?

Options :

1. ✘ Himalaya mountain range

2. ✘ Purvanchal mountain range

3. ✘ Satpura mountain range

4. ✓ Aravalli mountain range

Question Number : 19 Question Id : 168000719 Display Question Number : Yes Single Line Question Option : No Option Orientation : Vertical

निम्नलिखित में से कौन सी पर्वतमाला का एक भाग हरियाणा के दक्षिणी भाग में स्थित है?

Options :

1. ✗ हिमालय पर्वतमाला
2. ✗ पूर्वांचल पर्वतमाला
3. ✗ सतपुड़ा पर्वतमाला
4. ✓ अरावली पर्वतमाला

Question Number : 20 Question Id : 168000720 Display Question Number : Yes Single Line Question Option : No Option Orientation : Vertical

A part of which of the following mountain ranges lies in the north-eastern part of Haryana?

Options :

1. ✓ Shivalik mountain range
2. ✗ Vindhya mountain range
3. ✗ Dhauladhar mountain range
4. ✗ Kaimur mountain range

Question Number : 20 Question Id : 168000720 Display Question Number : Yes Single Line Question Option : No Option Orientation : Vertical

निम्नलिखित में से कौन सी पर्वतमाला का एक भाग हरियाणा के उत्तर-पूर्वी भाग में स्थित है?

Options :

1. ✓ शिवालिक पर्वतमाला
2. ✗ विन्ध्य पर्वतमाला
3. ✗ धौलाधर पर्वतमाला
4. ✗ काङ्गूर पर्वतमाला

Question Number : 21 Question Id : 168000721 Display Question Number : Yes Single Line Question Option : No Option Orientation : Vertical

Which is the state flower of Haryana?

Options :

1. ✘ Rose
2. ✘ Sunflower
3. ✔ Lotus
4. ✘ Lily

Question Number : 21 Question Id : 168000721 Display Question Number : Yes Single Line Question Option : No Option Orientation : Vertical

हरियाणा का राज्य फूल कौन सा है?

Options :

1. ✘ गुलाब
2. ✘ सूरजमुखी
3. ✔ कमल
4. ✘ कुमुदिनी

Question Number : 22 Question Id : 168000722 Display Question Number : Yes Single Line Question Option : No Option Orientation : Vertical

Who is believed to have created the Panchanada Tirtha?

Options :

1. ✘ Lord Brahma
2. ✔ Lord Rudra (Shiva)
3. ✘ Lord Vishnu
4. ✘ Lord Surya

Question Number : 22 Question Id : 168000722 Display Question Number : Yes Single Line Question Option : No Option Orientation : Vertical

मान्यताओं के अनुसार पंचांडा तीर्थ का निर्माण किसने किया था?

Options :

1. ✘ भगवान ब्रह्मा
2. ✔ भगवान रुद्र (शिव)
3. ✘ भगवान विष्णु
4. ✘ भगवान सूर्य

Question Number : 23 Question Id : 168000723 Display Question Number : Yes Single Line Question Option : No Option Orientation : Vertical

Hansdehar is a place in Jind. Which of the following legends is associated with this place?

Options :

1. ✔ Lord Brahma attended Kardam Rishi's marriage here and he arrived on a goose (hans)
2. ✘ Lord Brahma attended Sri Krishna's marriage here and he arrived on a goose (hans)
3. ✘ Lord Shiva attended Kardam Rishi's marriage here and he arrived on a goose (hans)
4. ✘ Lord Vishnu attended Kardam Rishi's marriage here and he arrived on a goose (hans).

Question Number : 23 Question Id : 168000723 Display Question Number : Yes Single Line Question Option : No Option Orientation : Vertical

हंसदेहर जींद में एक स्थान है। इस स्थान से निम्नलिखित में से कौन सा दिव्य व्यक्ति सम्बंधित हैं?

Options :

1. ✔ यहां भगवान ब्रह्मा ने कर्दम ऋषि के विवाह में भाग लिया और वह हंस की सवारी पर आये थे।
2. ✘ यहां भगवान ब्रह्मा ने श्री कृष्ण के विवाह में भाग लिया और वह हंस की सवारी पर आये थे।
3. ✘ यहां भगवान शिव ने कर्दम ऋषि के विवाह में भाग लिया और वह हंस की सवारी पर आये थे।
4. ✘ यहां भगवान विष्णु ने कर्दम ऋषि के विवाह में भाग लिया और वह हंस की सवारी पर आये थे।

Question Number : 24 Question Id : 168000724 Display Question Number : Yes Single Line Question Option : No Option Orientation : Vertical

Dasasvamedha Tirtha is situated in which district of Haryana?

Options :

1. ✘ Bhiwani
2. ✘ Rewari
3. ✔ Jind
4. ✘ Palwal

Question Number : 24 Question Id : 168000724 Display Question Number : Yes Single Line Question Option : No Option Orientation : Vertical

हरियाणा के किस जिले में दसस्वमेध तीर्थ स्थित है?

Options :

1. ✘ भिवानी
2. ✘ रेवाड़ी
3. ✔ जींद
4. ✘ पलवल

Question Number : 25 Question Id : 168000725 Display Question Number : Yes Single Line Question Option : No Option Orientation : Vertical

The Kapal Mochan Mela is held in which district of Haryana?

Options :

1. ✔ Yamunanagar
2. ✘ Sonipat
3. ✘ Rohtak
4. ✘ Bhiwani

Question Number : 25 Question Id : 168000725 Display Question Number : Yes Single Line Question Option : No Option Orientation : Vertical

हरियाणा के किस जिले में कपाल मोचन मेले का आयोजन किया जाता है?

Options :

1. ✔ यमुना नगर

2. ✘ सोनीपत

3. ✘ रोहतक

4. ✘ भिवानी

Question Number : 26 Question Id : 168000726 Display Question Number : Yes Single Line Question Option : No Option Orientation : Vertical


Select coalescents from the given options:

Options :

1. ✘ 

2. ✘ 

3. ✔ 

4. ✘ 

Question Number : 26 Question Id : 168000726 Display Question Number : Yes Single Line Question Option : No Option Orientation : Vertical


Select coalescents from the given options:

Options :

1. ✘ 

2. ✘ 

3. ✔ 

4. ✘ 

Question Number : 27 Question Id : 168000727 Display Question Number : Yes Single Line Question Option : No Option Orientation : Vertical

Third place vowel signs are written before the _____ stroke.

Options :

1. ✘ first
2. ✔ second
3. ✘ third
4. ✘ fourth

Question Number : 27 Question Id : 168000727 Display Question Number : Yes Single Line Question Option : No Option Orientation : Vertical

Third place vowel signs are written before the _____ stroke.

Options :

1. ✘ first
2. ✔ second
3. ✘ third
4. ✘ fourth

Question Number : 28 Question Id : 168000728 Display Question Number : Yes Single Line Question Option : No Option Orientation : Vertical

There is no _____ hook to curves.

Options :

1. ✔ f or v
2. ✘ s or w
3. ✘ m or n
4. ✘ w or y

Question Number : 28 Question Id : 168000728 Display Question Number : Yes Single Line Question Option : No Option Orientation : Vertical

There is no _____ hook to curves.

Options :

1. ✔ f or v
2. ✘ s or w

3. ✘ m or n

4. ✘ w or y

Question Number : 29 Question Id : 168000729 Display Question Number : Yes Single Line Question Option : No Option Orientation : Vertical

Medial _____ is generally written upward.

Options :

1. ✘ 'm'

2. ✘ 'n'

3. ✔ 'l'

4. ✘ 'p'

Question Number : 29 Question Id : 168000729 Display Question Number : Yes Single Line Question Option : No Option Orientation : Vertical

Medial _____ is generally written upward.

Options :

1. ✘ 'm'

2. ✘ 'n'

3. ✔ 'l'

4. ✘ 'p'

Question Number : 30 Question Id : 168000730 Display Question Number : Yes Single Line Question Option : No Option Orientation : Vertical

'Intro' is expressed by ntr.

Options :

1. ✘ 

2. ✘ 

3. ✘ 



Question Number : 30 Question Id : 168000730 Display Question Number : Yes Single Line Question Option : No Option Orientation : Vertical

'Intro' is expressed by ntr.

Options :



Question Number : 31 Question Id : 168000731 Display Question Number : Yes Single Line Question Option : No Option Orientation : Vertical

Halving a stroke indicates the addition of _____.

Options :

1. I or m

2. S or ses

3. T or d

4. .st or str

Question Number : 31 Question Id : 168000731 Display Question Number : Yes Single Line Question Option : No Option Orientation : Vertical

Halving a stroke indicates the addition of _____.

Options :

1. I or m

2. S or ses

3. T or d

4. ✘ .st or str

Question Number : 32 Question Id : 168000732 Display Question Number : Yes Single Line Question Option : No Option Orientation : Vertical

'sh' is written _____ after the heavy stroke 'd' (1).

Options :

1. ✘ downward

2. ✔ upward

3. ✘ forward

4. ✘ backward

Question Number : 32 Question Id : 168000732 Display Question Number : Yes Single Line Question Option : No Option Orientation : Vertical

'sh' is written _____ after the heavy stroke 'd' (1).

Options :

1. ✘ downward

2. ✔ upward

3. ✘ forward

4. ✘ backward

Question Number : 33 Question Id : 168000733 Display Question Number : Yes Single Line Question Option : No Option Orientation : Vertical

Select the correct word for 'sugar'.

Options :

1. ✔ 

2. ✘ 

3. ✘ 

4. ✘ 

Question Number : 33 Question Id : 168000733 Display Question Number : Yes Single Line Question Option : No Option Orientation : Vertical

Select the correct word for 'sugar'.

Options :

1. ✓ 

2. ✗ 

3. ✗ 


4. ✗ 


Question Number : 34 Question Id : 168000734 Display Question Number : Yes Single Line Question Option : No Option Orientation : Vertical

Select the option that states, "I have been asked this evening to speak to you about social services."

Options :

1. ✗ 

2. ✗ 


3. ✓ 


4. ✗ 

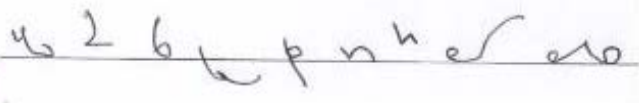
Question Number : 34 Question Id : 168000734 Display Question Number : Yes Single Line Question Option : No Option Orientation : Vertical


Select the option that states, "I have been asked this evening to speak to you about social services."

Options :

1. ✘ 

2. ✘ 


3. ✔ 


4. ✘ 

Question Number : 35 Question Id : 168000735 Display Question Number : Yes Single Line Question Option : No Option Orientation : Vertical


Select the option that states, "If you prefer to avail yourself of the cash on delivery, that can also be arranged easily."

Options :

1. ✘ 

2. ✘ 


3. ✘ 


4. ✔ 

Question Number : 35 Question Id : 168000735 Display Question Number : Yes Single Line Question Option : No Option Orientation : Vertical


Select the option that states, "If you prefer to avail yourself of the cash on delivery, that can also be arranged easily."

Options :

1. ✘ 


2. ✘ 

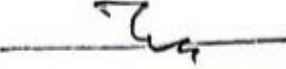
3. ✘ 


4. ✔ 

Question Number : 36 Question Id : 168000736 Display Question Number : Yes Single Line Question Option : No Option Orientation : Vertical

'कर दिया था' वाक्यांश के लिए सही चिह्न बताएँ:

A. 

B. 

C. 

D. 

Options :

1. ✘ A

2. ✘ B

3. ✔ C

4. ✘ D

Question Number : 36 Question Id : 168000736 Display Question Number : Yes Single Line Question Option : No Option Orientation : Vertical

‘कर दिया था’ वाक्यांश के लिए सही चिह्न बताएँ:

- A.
- B.
- C.
- D.

Options :

1. ✘ A
2. ✘ B
3. ✔ C
4. ✘ D

Question Number : 37 Question Id : 168000737 Display Question Number : Yes Single Line Question Option : No Option Orientation : Vertical

इस संक्षिप्त वाक्यांश को पहचानें।

Options :

1. ✔ उत्तर देते हुए कहा
2. ✘ उत्तर कहा
3. ✘ उत्तर कहता रहा
4. ✘ उत्तर देते रहा

Question Number : 37 Question Id : 168000737 Display Question Number : Yes Single Line Question Option : No Option Orientation : Vertical

इस संक्षिप्त वाक्यांश को पहचानें।





Options :

1. ✔ उत्तर देते हुए कहा

2. ✘ उत्तर कहा
3. ✘ उत्तर कहता रहा
4. ✘ उत्तर देते रहा

Question Number : 38 Question Id : 168000738 Display Question Number : Yes Single Line Question Option : No Option Orientation : Vertical

पूर्ण नियम के अनुसार 'समापन' के लिए शब्द-चिह्न बनाएँ।





- A. 
- B. 
- C. 
- D. 

Options :

1. ✔ A
2. ✘ B
3. ✘ C
4. ✘ D

Question Number : 38 Question Id : 168000738 Display Question Number : Yes Single Line Question Option : No Option Orientation : Vertical

पूर्ण नियम के अनुसार 'समापन' के लिए शब्द-चिह्न बनाएँ।

- A. 
- B. 
- C. 
- D. 

Options :

1. ✔ A

2. ✘ B

3. ✘ C

4. ✘ D

Question Number : 39 Question Id : 168000739 Display Question Number : Yes Single Line Question Option : No Option Orientation : Vertical

पूर्ण नियम के अनुसार 'विधि' के लिए प्रयुक्त संक्षिप्त शब्द-चिन्ह को पहचानें:

A.

B.

C.

D.

Options :

1. ✔ A

2. ✘ B

3. ✘ C

4. ✘ D

Question Number : 39 Question Id : 168000739 Display Question Number : Yes Single Line Question Option : No Option Orientation : Vertical

पूर्ण नियम के अनुसार 'विधि' के लिए प्रयुक्त संक्षिप्त शब्द-चिन्ह को पहचानें:

A.

B.

C.

D.

Options :


1. ✔ A

2. ✘ B

3. ✘ C

4. ✘ D

Question Number : 40 Question Id : 168000740 Display Question Number : Yes Single Line Question Option : No Option Orientation : Vertical

इस शब्दांश को पहचानें: 

Options :


1. ✘ घट-बढ

2. ✘ कट-पट

3. ✘ कटा-पीटा

4. ✔ घटा-बढा

Question Number : 40 Question Id : 168000740 Display Question Number : Yes Single Line Question Option : No Option Orientation : Vertical

इस शब्दांश को पहचानें: 

Options :

1. ✘ घट-बढ

2. ✘ कट-पट

3. ✘ कटा-पीटा

4. ✔ घटा-बढा

Question Number : 41 Question Id : 168000741 Display Question Number : Yes Single Line Question Option : No Option Orientation : Vertical

वाक्यांश 'हमारा यह प्रयोजन नहीं था' को पहचानें:

- A.
- B.
- C.
- D.

Options :

1. ✓ A
2. ✗ B
3. ✗ C
4. ✗ D

Question Number : 41 Question Id : 168000741 Display Question Number : Yes Single Line Question Option : No Option Orientation : Vertical

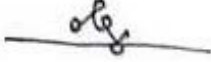
वाक्यांश 'हमारा यह प्रयोजन नहीं था' को पहचानें:

- A.
- B.
- C.
- D.

Options :

1. ✓ A
2. ✗ B
3. ✗ C
4. ✗ D

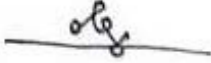
Question Number : 42 Question Id : 168000742 Display Question Number : Yes Single Line Question Option : No Option Orientation : Vertical

इस शब्दांश को पहचानें: 

Options :

1. ✘ सर्व सहमत से पास हुआ
2. ✘ सारे संमत से पास हुआ
3. ✔ सर्व सम्मति से पास हुआ
4. ✘ शीघ्र सहमति से पास हुआ

Question Number : 42 Question Id : 168000742 Display Question Number : Yes Single Line Question Option : No Option Orientation : Vertical





इस शब्दांश को पहचानें: 

Options :

1. ✘ सर्व सहमत से पास हुआ
2. ✘ सारे संमत से पास हुआ
3. ✔ सर्व सम्मति से पास हुआ
4. ✘ शीघ्र सहमति से पास हुआ

Question Number : 43 Question Id : 168000743 Display Question Number : Yes Single Line Question Option : No Option Orientation : Vertical

पूर्ण नियमानुसार शब्दांश  (गिरफ्तार) के दूसरे प्रारूप को पहचानें:





- A. 
- B. 
- C. 
- D. 

Options :

1. ✓ A
2. ✗ B
3. ✗ C
4. ✗ D

Question Number : 43 Question Id : 168000743 Display Question Number : Yes Single Line Question Option : No Option Orientation : Vertical

पूर्ण नियमानुसार शब्दांश  (गिरफ्तार) के दूसरे प्रारूप को पहचानें:

- A. 
- B. 
- C. 
- D. 

Options :

1. ✓ A
2. ✗ B
3. ✗ C
4. ✗ D

Question Number : 44 Question Id : 168000744 Display Question Number : Yes Single Line Question Option : No Option Orientation : Vertical

'क' वर्ग के व्यंजन में यदि मात्रा व्यंजन से पहले आये तो मात्रा का चिह्न कहाँ लगाया जायेगा?

Options :

1. ✗ व्यंजन के दाहिने
2. ✗ व्यंजन के बाएँ
3. ✓ व्यंजन के ऊपर
4. ✗ व्यंजन के नीचे

Question Number : 44 Question Id : 168000744 Display Question Number : Yes Single Line Question Option : No Option Orientation : Vertical



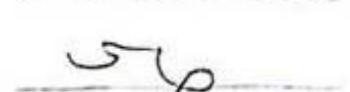

‘क’ वर्ग के व्यंजन में यदि मात्रा व्यंजन से पहले आये तो मात्रा का चिह्न कहाँ लगाया जायेगा?

Options :

1. ✘ व्यंजन के दाहिने
2. ✘ व्यंजन के बाएँ
3. ✔ व्यंजन के ऊपर
4. ✘ व्यंजन के नीचे

Question Number : 45 Question Id : 168000745 Display Question Number : Yes Single Line Question Option : No Option Orientation : Vertical

‘नौकरशाही’ का पूर्ण संकेत बताएँ:

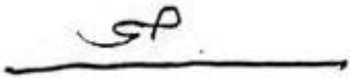

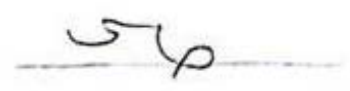

- A. 
- B. 
- C. 
- D. 

Options :

1. ✔ A
2. ✘ B
3. ✘ C
4. ✘ D

Question Number : 45 Question Id : 168000745 Display Question Number : Yes Single Line Question Option : No Option Orientation : Vertical

'नौकरशाही' का पूर्ण संकेत बताएँ:

- A. 
- B. 
- C. 
- D. 

Options :

1. ✓ A
2. ✗ B
3. ✗ C
4. ✗ D

Question Number : 46 Question Id : 168000746 Display Question Number : Yes Single Line Question Option : No Option Orientation : Vertical

Select the appropriate option and fill in the blank.

There were no buses available _____ the drivers were on strike.

Options :

1. ✗ as if
2. ✗ though
3. ✗ but
4. ✓ because

Question Number : 46 Question Id : 168000746 Display Question Number : Yes Single Line Question Option : No Option Orientation : Vertical

Select the appropriate option and fill in the blank.

There were no buses available _____ the drivers were on strike.

Options :

1. ✘ as if
2. ✘ though
3. ✘ but
4. ✔ because

Question Number : 47 Question Id : 168000747 Display Question Number : Yes Single Line Question Option : No Option Orientation : Vertical

Select the appropriate option and fill in the blank.

_____ I had tried my best, I didn't get through IIT.

Options :

1. ✘ Even if
2. ✘ In case
3. ✔ Even though
4. ✘ Whereas

Question Number : 47 Question Id : 168000747 Display Question Number : Yes Single Line Question Option : No Option Orientation : Vertical

Select the appropriate option and fill in the blank.

_____ I had tried my best, I didn't get through IIT.

Options :

1. ✘ Even if
2. ✘ In case
3. ✔ Even though
4. ✘ Whereas

Question Number : 48 Question Id : 168000748 Display Question Number : Yes Single Line Question Option : No Option Orientation : Vertical

Select the appropriate option and fill in the blank.

He spent money on holidaying _____ he was a millionaire.

Options :

1. ✓ as if
2. ✗ even if
3. ✗ though
4. ✗ until

Question Number : 48 Question Id : 168000748 Display Question Number : Yes Single Line Question Option : No Option Orientation : Vertical

Select the appropriate option and fill in the blank.

He spent money on holidaying _____ he was a millionaire.

Options :

1. ✓ as if
2. ✗ even if
3. ✗ though
4. ✗ until

Question Number : 49 Question Id : 168000749 Display Question Number : Yes Single Line Question Option : No Option Orientation : Vertical

Select the appropriate option and fill in the blank.

He knew he _____ the driving test if he tried hard enough.

Options :

1. ✗ will pass
2. ✗ can pass
3. ✗ had passed
4. ✓ could pass

Question Number : 49 Question Id : 168000749 Display Question Number : Yes Single Line Question Option : No Option Orientation : Vertical

Select the appropriate option and fill in the blank.

He knew he _____ the driving test if he tried hard enough.

Options :

1. ✘ will pass
2. ✘ can pass
3. ✘ had passed
4. ✔ could pass

Question Number : 50 Question Id : 168000750 Display Question Number : Yes Single Line Question Option : No Option Orientation : Vertical

Select the appropriate option and fill in the blank.

Next week, I _____ to visit my sister and shall take some sweets for her.

Options :

1. ✔ intend
2. ✘ will intend
3. ✘ intending
4. ✘ intended

Question Number : 50 Question Id : 168000750 Display Question Number : Yes Single Line Question Option : No Option Orientation : Vertical

Select the appropriate option and fill in the blank.

Next week, I _____ to visit my sister and shall take some sweets for her.

Options :

1. ✔ intend
2. ✘ will intend
3. ✘ intending
4. ✘ intended

Question Number : 51 Question Id : 168000751 Display Question Number : Yes Single Line Question Option : No Option Orientation : Vertical

Select the appropriate option and fill in the blank.

They arrived without _____ us that they were coming to stay with us.

Options :

1. ✘ warn
2. ✔ having warned
3. ✘ warned
4. ✘ being warned

Question Number : 51 Question Id : 168000751 Display Question Number : Yes Single Line Question Option : No Option Orientation : Vertical

Select the appropriate option and fill in the blank.

They arrived without _____ us that they were coming to stay with us.

Options :

1. ✘ warn
2. ✔ having warned
3. ✘ warned
4. ✘ being warned

Question Number : 52 Question Id : 168000752 Display Question Number : Yes Single Line Question Option : No Option Orientation : Vertical

Select the misspelt word from the options below.

Options :

1. ✘ elite
2. ✘ elixir
3. ✔ eleminate
4. ✘ elegant

Question Number : 52 Question Id : 168000752 Display Question Number : Yes Single Line Question Option : No Option Orientation : Vertical

Select the misspelt word from the options below.

Options :

1. ✘ elite
2. ✘ elixir

3. ✓ eleminate

4. ✗ elegant

Question Number : 53 Question Id : 168000753 Display Question Number : Yes Single Line Question Option : No Option Orientation : Vertical

Select the misspelt word from the options below.

Options :

1. ✗ placard

2. ✗ placate

3. ✗ placid

4. ✓ plageu

Question Number : 53 Question Id : 168000753 Display Question Number : Yes Single Line Question Option : No Option Orientation : Vertical

Select the misspelt word from the options below.

Options :

1. ✗ placard

2. ✗ placate

3. ✗ placid

4. ✓ plageu

Question Number : 54 Question Id : 168000754 Display Question Number : Yes Single Line Question Option : No Option Orientation : Vertical

Select the misspelt word from the options below.

Options :

1. ✓ accessory

2. ✗ accessorry

3. ✗ accesory

4. ✗ acesory

Question Number : 54 Question Id : 168000754 Display Question Number : Yes Single Line Question Option : No Option Orientation : Vertical

Select the misspelt word from the options below.

Options :

1. ✓ accessory
2. ✗ accessorry
3. ✗ accesory
4. ✗ acessory

Question Number : 55 Question Id : 168000755 Display Question Number : Yes Single Line Question Option : No Option Orientation : Vertical

Select the appropriate option and fill in the blank.

The strikers seem to be determined. They are not in a mood to _____.

Options :

1. ✓ give in
2. ✗ give out
3. ✗ give away
4. ✗ give off

Question Number : 55 Question Id : 168000755 Display Question Number : Yes Single Line Question Option : No Option Orientation : Vertical

Select the appropriate option and fill in the blank.

The strikers seem to be determined. They are not in a mood to _____.

Options :

1. ✓ give in
2. ✗ give out
3. ✗ give away
4. ✗ give off

Question Number : 56 Question Id : 168000756 Display Question Number : Yes Single Line Question Option : No Option Orientation : Vertical

‘अत्यानंद’ किन दो शब्दों से बना है?

Options :

1. ✓ अति + आनंद
2. ✗ अत्या + नंद
3. ✗ अ + त्यानंद
4. ✗ अत्य + नंद

Question Number : 56 Question Id : 168000756 Display Question Number : Yes Single Line Question Option : No Option Orientation : Vertical

‘अत्यानंद’ किन दो शब्दों से बना है?

Options :

1. ✓ अति + आनंद
2. ✗ अत्या + नंद
3. ✗ अ + त्यानंद
4. ✗ अत्य + नंद

Question Number : 57 Question Id : 168000757 Display Question Number : Yes Single Line Question Option : No Option Orientation : Vertical

‘प्राणपति’ शब्द में कौन-सा समास है?

Options :

1. ✗ बहुव्रीहि
2. ✗ कर्मधारय
3. ✗ अव्ययीभाव
4. ✓ तत्पुरुष

Question Number : 57 Question Id : 168000757 Display Question Number : Yes Single Line Question Option : No Option Orientation : Vertical

'प्राणपति' शब्द में कौन-सा समास है?

Options :

1. ✘ बहुव्रीहि
2. ✘ कर्मधारय
3. ✘ अव्ययीभाव
4. ✔ तत्पुरुष

Question Number : 58 Question Id : 168000758 Display Question Number : Yes Single Line Question Option : No Option Orientation : Vertical

'जो दिखाई न दे' इस वाक्य के लिए एक शब्द होगा:

Options :

1. ✘ अदर्शनीय
2. ✔ अदृश्य
3. ✘ दर्शित
4. ✘ दर्शन

Question Number : 58 Question Id : 168000758 Display Question Number : Yes Single Line Question Option : No Option Orientation : Vertical

'जो दिखाई न दे' इस वाक्य के लिए एक शब्द होगा:

Options :

1. ✘ अदर्शनीय
2. ✔ अदृश्य
3. ✘ दर्शित
4. ✘ दर्शन

Question Number : 59 Question Id : 168000759 Display Question Number : Yes Single Line Question Option : No Option Orientation : Vertical

'रात्रि' का पर्यायवाची नहीं है:

Options :

1. ✘ निशा
2. ✘ रजनी
3. ✔ तम
4. ✘ यामिनी

Question Number : 59 Question Id : 168000759 Display Question Number : Yes Single Line Question Option : No Option Orientation : Vertical

‘रात्रि’ का पर्यायवाची नहीं है:

Options :

1. ✘ निशा
2. ✘ रजनी
3. ✔ तम
4. ✘ यामिनी

Question Number : 60 Question Id : 168000760 Display Question Number : Yes Single Line Question Option : No Option Orientation : Vertical

निम्नलिखित में से कौन-सा शब्द अशुद्ध है?

Options :

1. ✔ श्रेष्ठ
2. ✘ घनिष्ठ
3. ✘ शुष्क
4. ✘ वृद्ध

Question Number : 60 Question Id : 168000760 Display Question Number : Yes Single Line Question Option : No Option Orientation : Vertical

निम्नलिखित में से कौन-सा शब्द अशुद्ध है?

Options :

1. ✔ श्रेष्ठ

2. ✘ घनिष्ठ

3. ✘ शुष्क

4. ✘ वृद्ध

Question Number : 61 Question Id : 168000761 Display Question Number : Yes Single Line Question Option : No Option Orientation : Vertical

‘सगुण’ शब्द का विलोम होता है:

Options :

1. ✘ अवगुण

2. ✔ निर्गुण

3. ✘ अगुण

4. ✘ निरगुण

Question Number : 61 Question Id : 168000761 Display Question Number : Yes Single Line Question Option : No Option Orientation : Vertical

‘सगुण’ शब्द का विलोम होता है:

Options :

1. ✘ अवगुण

2. ✔ निर्गुण

3. ✘ अगुण

4. ✘ निरगुण

Question Number : 62 Question Id : 168000762 Display Question Number : Yes Single Line Question Option : No Option Orientation : Vertical

निम्नलिखित में से कौन-सा शब्द तत्सम है?

Options :

1. ✘ दाँत

2. ✘ दूध
3. ✘ पक्का
4. ✔ पक्षी

Question Number : 62 Question Id : 168000762 Display Question Number : Yes Single Line Question Option : No Option Orientation : Vertical

निम्नलिखित में से कौन-सा शब्द तत्सम है?

Options :

1. ✘ दाँत
2. ✘ दूध
3. ✘ पक्का
4. ✔ पक्षी

Question Number : 63 Question Id : 168000763 Display Question Number : Yes Single Line Question Option : No Option Orientation : Vertical

'यश प्राप्त करना' इस अर्थ को व्यक्त करने वाला मुहावरा है:

Options :

1. ✘ नाक रगड़ना
2. ✔ नाम कमाना
3. ✘ फूले न समाना
4. ✘ पर निकलना

Question Number : 63 Question Id : 168000763 Display Question Number : Yes Single Line Question Option : No Option Orientation : Vertical

'यश प्राप्त करना' इस अर्थ को व्यक्त करने वाला मुहावरा है:

Options :

1. ✘ नाक रगड़ना
2. ✔ नाम कमाना

3. ✘ फूले न समाना

4. ✘ पर निकलना

Question Number : 64 Question Id : 168000764 Display Question Number : Yes Single Line Question Option : No Option Orientation : Vertical

निम्नलिखित में से कौन-सा शब्द तद्भव है?

Options :

1. ✘ कपोत

2. ✘ कृष्ण

3. ✘ धृत

4. ✔ काज

Question Number : 64 Question Id : 168000764 Display Question Number : Yes Single Line Question Option : No Option Orientation : Vertical

निम्नलिखित में से कौन-सा शब्द तद्भव है?

Options :

1. ✘ कपोत

2. ✘ कृष्ण

3. ✘ धृत

4. ✔ काज

Question Number : 65 Question Id : 168000765 Display Question Number : Yes Single Line Question Option : No Option Orientation : Vertical

'दल' शब्द का कौन-सा अर्थ नहीं होता?

Options :

1. ✘ समूह

2. ✘ पत्ता

3. ✘ सेना

4. ✓ सफलता

Question Number : 65 Question Id : 168000765 Display Question Number : Yes Single Line Question Option : No Option Orientation : Vertical

‘दल’ शब्द का कौन-सा अर्थ नहीं होता?

Options :

1. ✗ समूह

2. ✗ पत्ता

3. ✗ सेना

4. ✓ सफलता

Question Number : 66 Question Id : 168000766 Display Question Number : Yes Single Line Question Option : No Option Orientation : Vertical

The sum of the first 25 terms in the sequence 5, 10, 15, is:

Options :

1. ✗ 1655

2. ✗ 1652

3. ✓ 1625

4. ✗ 1632

Question Number : 66 Question Id : 168000766 Display Question Number : Yes Single Line Question Option : No Option Orientation : Vertical

श्रेणी 5, 10, 15, में पहले 25 पदों का योगफल है:

Options :

1. ✗ 1655

2. ✗ 1652

3. ✓ 1625

4. ✗ 1632

Question Number : 67 Question Id : 168000767 Display Question Number : Yes Single Line Question Option : No Option Orientation : Vertical

The average of 100 numbers is 50. If two numbers, 20 and 30, are removed, then the average of the remaining numbers is: (round to one decimal)

Options :

1. ✓ 50.5
2. ✗ 50.6
3. ✗ 50
4. ✗ 50.4

Question Number : 67 Question Id : 168000767 Display Question Number : Yes Single Line Question Option : No Option Orientation : Vertical

100 संख्याओं का औसत 50 है। यदि दो संख्याएं 20 और 30 हटा दी जाती हैं, तो शेष संख्याओं का औसत होता है: (एक दशमलव स्थान तक पूर्णांकित किया हुआ)

Options :

1. ✓ 50.5
2. ✗ 50.6
3. ✗ 50
4. ✗ 50.4

Question Number : 68 Question Id : 168000768 Display Question Number : Yes Single Line Question Option : No Option Orientation : Vertical

X deposits equal sums at simple and compound interest for 2 years at 4% per annum. After 2 years, the difference in the interest is ₹ 50. Then the sum deposited originally is:

Options :

1. ✗ ₹ 31,255
2. ✗ ₹ 31,220
3. ✗ ₹ 31,550
4. ✓ ₹ 31,250

Question Number : 68 Question Id : 168000768 Display Question Number : Yes Single Line Question Option : No Option Orientation : Vertical

X दो बराबर धनराशियों को 2 वर्षों के लिए 4% वार्षिक दर पर साधारण और चक्रवृद्धि ब्याज के लिए जमा करता है। 2 वर्ष बाद प्राप्त होने वाले दोनों ब्याजों में अंतर ₹ 50 है, तो जमा की गयी वास्तविक धनराशि है:

Options :

1. ✘ ₹ 31,255
2. ✘ ₹ 31,220
3. ✘ ₹ 31,550
4. ✔ ₹ 31,250

Question Number : 69 Question Id : 168000769 Display Question Number : Yes Single Line Question Option : No Option Orientation : Vertical

In the recent election, two candidates A and B contested. A got 40% of total votes but lost by 1,000 votes to B. The total number of people who voted is:

Options :

1. ✘ 5,500
2. ✘ 5,050
3. ✔ 5,000
4. ✘ 5,005

Question Number : 69 Question Id : 168000769 Display Question Number : Yes Single Line Question Option : No Option Orientation : Vertical

हाल के चुनाव में, दो प्रत्याशियों A और B ने चुनाव लड़ा था। A को कुल वोटों के 40% वोट प्राप्त हुए थे लेकिन वह B से 1,000 वोट से हार गया था। वोट करने वाले लोगों की कुल संख्या थी:

Options :

1. ✘ 5,500
2. ✘ 5,050
3. ✔ 5,000
4. ✘ 5,005

Question Number : 70 Question Id : 168000770 Display Question Number : Yes Single Line Question Option : No Option Orientation : Vertical

If the equation $x^2 + bx + c = 0$ has roots being two consecutive numbers, then $b^2 - 4c - 1 = ?$

Options :

1. ✓ 0
2. ✗ -1
3. ✗ 1
4. ✗ 2

Question Number : 70 Question Id : 168000770 Display Question Number : Yes Single Line Question Option : No Option Orientation : Vertical

यदि समीकरण $x^2 + bx + c = 0$ के मूल दो क्रमागत संख्याएं हैं, तो $b^2 - 4c - 1 = ?$

Options :

1. ✓ 0
2. ✗ -1
3. ✗ 1
4. ✗ 2

Question Number : 71 Question Id : 168000771 Display Question Number : Yes Single Line Question Option : No Option Orientation : Vertical

Mr X and Mr Y have incomes in the ratio 5 : 6 and their expenditure are in the ratio 7 : 9. If X saves ₹ 4,000 and Y saves ₹ 3,000, then the incomes of X and Y are:

Options :

1. ✗ ₹ 18,000 and ₹ 21,600
2. ✗ ₹ 20,000 and ₹ 24,000
3. ✗ ₹ 24,000 and ₹ 28,800
4. ✓ ₹ 25,000 and ₹ 30,000

Question Number : 71 Question Id : 168000771 Display Question Number : Yes Single Line Question Option : No Option Orientation : Vertical

मि. X और मि. Y की आय का अनुपात 5 : 6 और उनके व्यय का अनुपात 7 : 9 है। यदि X ₹ 4,000 और Y ₹ 3,000 की बचत करता है, तो X और Y की आय है:

Options :

1. ✗ ₹ 18,000 और ₹ 21,600

2. ✘ ₹ 20,000 और ₹ 24,000
3. ✘ ₹ 24,000 और ₹ 28,800
4. ✔ ₹ 25,000 और ₹ 30,000

Question Number : 72 Question Id : 168000772 Display Question Number : Yes Single Line Question Option : No Option Orientation : Vertical

X and Y run in a marathon at speeds of 6 kmph and 12 kmph. A bike from behind crosses them at 9 and 10 sec respectively. The speed of the bike is:

Options :

1. ✘ 63 kmph
2. ✔ 66 kmph
3. ✘ 64 kmph
4. ✘ 65 kmph

Question Number : 72 Question Id : 168000772 Display Question Number : Yes Single Line Question Option : No Option Orientation : Vertical

X और Y एक मैराथन में 6 किलोमीटर प्रति घंटे और 12 किलोमीटर प्रति घंटे की गति से दौड़ते हैं। पीछे से एक बाइक उन्हें क्रमशः 9 और 10 सेकंड में पार करती है। बाइक की गति है:

Options :

1. ✘ 63 किलोमीटर प्रति घंटा
2. ✔ 66 किलोमीटर प्रति घंटा
3. ✘ 64 किलोमीटर प्रति घंटा
4. ✘ 65 किलोमीटर प्रति घंटा

Question Number : 73 Question Id : 168000773 Display Question Number : Yes Single Line Question Option : No Option Orientation : Vertical

To complete a task, A takes same time as B and C together. A and B together can complete the task in 25 days. C alone can complete the task in 35 days. The number of days taken to complete the task by B alone is:

Options :

1. ✘ 150

2. ✓ 175

3. ✗ 125

4. ✗ 170

Question Number : 73 Question Id : 168000773 Display Question Number : Yes Single Line Question Option : No Option Orientation : Vertical

A किसी कार्य को पूरा करने के लिए B और C दोनों द्वारा मिलकर लिए गये समय के बराबर समय लेता है। A और B एक साथ मिलकर इस कार्य को 25 दिन में पूरा कर सकते हैं। अकेला C इस कार्य को 35 दिन पूरा कर सकता है। अकेले B द्वारा इस कार्य को पूरा करने के लिये गये दिनों की संख्या है:

Options :

1. ✗ 150

2. ✓ 175

3. ✗ 125

4. ✗ 170

Question Number : 74 Question Id : 168000774 Display Question Number : Yes Single Line Question Option : No Option Orientation : Vertical

A container has 90 litres of mixture of spirit and water in which the ratio of spirit and water is 2 : 1. The quantity of water required to be mixed to make the spirit and water in the resulting mixture in the ratio 1 : 2 is:

Options :

1. ✓ 90 litres

2. ✗ 92 litres

3. ✗ 95 litres

4. ✗ 91 litres

Question Number : 74 Question Id : 168000774 Display Question Number : Yes Single Line Question Option : No Option Orientation : Vertical

एक कंटेनर में स्पिरिट और पानी का मिश्रण 90 लीटर है जिसमें स्पिरिट और पानी का अनुपात 2 : 1 है। इस मिश्रण में कितना पानी और मिलाया जाना चाहिए कि स्पिरिट और पानी का परिणामस्वरूप अनुपात 1 : 2 हो जाये?

Options :

1. ✓ 90 लीटर

2. ✗ 92 लीटर

3. ✘ 95 लीटर

4. ✘ 91 लीटर

Question Number : 75 Question Id : 168000775 Display Question Number : Yes Single Line Question Option : No Option Orientation : Vertical

If the cost price and selling price of an article are in the ratio 4 : 5, then what is the profit percentage?

Options :

1. ✘ 20

2. ✘ 24

3. ✔ 25

4. ✘ 22

Question Number : 75 Question Id : 168000775 Display Question Number : Yes Single Line Question Option : No Option Orientation : Vertical

यदि एक वस्तु के क्रय मूल्य और विक्रय मूल्य का अनुपात 4 : 5 है, तो लाभ प्रतिशत क्या है?

Options :

1. ✘ 20

2. ✘ 24

3. ✔ 25

4. ✘ 22

Question Number : 76 Question Id : 168000776 Display Question Number : Yes Single Line Question Option : No Option Orientation : Vertical

A constant force increases the velocity of a 0.5 kg ball from 2 m/s to 6 m/s in 10 s. The magnitude of the force is:

Options :

1. ✘ 0.1 N

2. ✔ 0.2 N

3. ✘ 1.0 N

4. ✘ 2.0 N

Question Number : 76 Question Id : 168000776 Display Question Number : Yes Single Line Question Option : No Option Orientation : Vertical

एक स्थिर बल 0.5 किलोग्राम की एक गेंद का वेग 10 सेकंड में 2 मीटर/सेकंड से 6 मीटर/सेकंड तक बढ़ा देता है। बल की मात्रा कितनी है?

Options :

1. ✘ 0.1 न्यूटन

2. ✔ 0.2 न्यूटन

3. ✘ 1.0 न्यूटन

4. ✘ 2.0 न्यूटन

Question Number : 77 Question Id : 168000777 Display Question Number : Yes Single Line Question Option : No Option Orientation : Vertical

A ball of 2 kg is moving with speed v . It is behind a ball of 28 kg moving with a speed of 0.5 m/s. The balls collide and couple. After the collision, they move with a speed of 1.0 m/s. The value of v is:

Options :

1. ✘ 2.0 m/s

2. ✘ 3.6 m/s

3. ✘ 4.0 m/s

4. ✔ 8.0 m/s

Question Number : 77 Question Id : 168000777 Display Question Number : Yes Single Line Question Option : No Option Orientation : Vertical

2 किलोग्राम की एक गेंद v गति से जा रही है। यह 28 किलोग्राम की गेंद से पीछे है जो 0.5 मीटर/सेकंड की गति से चल रही है। दोनों गेंद भिड़ जाते हैं और आपस में जुड़ जाते हैं। वे 1.0 मीटर/सेकंड की गति से चलते हैं। v का मान कितना है?

Options :

1. ✘ 2.0 मीटर/सेकंड

2. ✘ 3.6 मीटर/सेकंड

3. ✘ 4.0 मीटर/सेकंड

4. ✓ 8.0 मीटर/सेकंड

Question Number : 78 Question Id : 168000778 Display Question Number : Yes Single Line Question Option : No Option Orientation : Vertical

A ball of 0.20 kg hits a wall and bounces back with $\frac{4}{5}$ of its original speed. The kinetic energy lost is n times the original kinetic energy. The value of n is:

Options :

1. ✗ $\frac{3}{25}$

2. ✓ $\frac{9}{25}$

3. ✗ $\frac{1}{5}$

4. ✗ $\frac{3}{5}$

Question Number : 78 Question Id : 168000778 Display Question Number : Yes Single Line Question Option : No Option Orientation : Vertical

0.20 किलोग्राम की एक बॉल दीवार से टकराती है और अपनी मूल गति के $\frac{4}{5}$ गति से वापस आती है। खोई गई गतिज ऊर्जा, मूल गतिज ऊर्जा के n गुणा है। n का मूल्य कितना है?

Options :

1. ✗ $\frac{3}{25}$

2. ✓ $\frac{9}{25}$

3. ✗ $\frac{1}{5}$

4. ✗ $\frac{3}{5}$

Question Number : 79 Question Id : 168000779 Display Question Number : Yes Single Line Question Option : No Option Orientation : Vertical

A motorbike of 180 kg accelerates from zero to 100 km/h in 10 s. The power delivered by the engine is about:

Options :

1. ✘ 2.3 kW
2. ✔ 6.9 kW
3. ✘ 12.4 kW
4. ✘ 25.2 kW

Question Number : 79 Question Id : 168000779 Display Question Number : Yes Single Line Question Option : No Option Orientation : Vertical

180 किलोग्राम की एक मोटरबाइक शून्य से 100 किलोमीटर/घंटा की गति 10 सेकंड में प्राप्त कर लेती है। इंजन द्वारा डिलीवर की गई पावर लगभग कितनी है?

Options :

1. ✘ 2.3 किलोवाट
2. ✔ 6.9 किलोवाट
3. ✘ 12.4 किलोवाट
4. ✘ 25.2 किलोवाट

Question Number : 80 Question Id : 168000780 Display Question Number : Yes Single Line Question Option : No Option Orientation : Vertical

The mass of a planet is $\frac{1}{16}n$ of the mass of the Earth and its radius is $\frac{1}{n}$ that of Earth. If the weight of an object on Earth is four times to that on the planet, then the value of n is:

Options :

1. ✘ 2
2. ✔ 4
3. ✘ 6
4. ✘ 8

Question Number : 80 Question Id : 168000780 Display Question Number : Yes Single Line Question Option : No Option Orientation : Vertical

एक ग्रह का भार धरती के भार का $\frac{1}{16}n$ है और इसका अर्धव्यास धरती के अर्धव्यास का $\frac{1}{n}$ है। यदि किसी वस्तु का धरती पर भार, उस ग्रह पर भार से चार गुणा हो तो n का मूल्य कितना होगा?

Options :

1. ✘ 2

2. ✓ 4

3. ✗ 6

4. ✗ 8

Question Number : 81 Question Id : 168000781 Display Question Number : Yes Single Line Question Option : No Option Orientation : Vertical

The chemical formula of caustic soda is:

Options :

1. ✓ NaOH

2. ✗ Mg(OH)₂

3. ✗ Al(OH)₃

4. ✗ CaCO₃

Question Number : 81 Question Id : 168000781 Display Question Number : Yes Single Line Question Option : No Option Orientation : Vertical

कास्टिक सोडा का रासायनिक सूत्र है:

Options :

1. ✓ NaOH

2. ✗ Mg(OH)₂

3. ✗ Al(OH)₃

4. ✗ CaCO₃

Question Number : 82 Question Id : 168000782 Display Question Number : Yes Single Line Question Option : No Option Orientation : Vertical

Which one of the following salts is an acidic salt?

Options :

1. ✗ Na₂SO₄

2. ✓ NaHSO₄

3. ✗ NaCl

4. ✘ CH_3COONa

Question Number : 82 Question Id : 168000782 Display Question Number : Yes Single Line Question Option : No Option Orientation : Vertical

निम्न में से कौन सा लवण अम्लीय लवण है?

Options :

1. ✘ Na_2SO_4

2. ✔ NaHSO_4

3. ✘ NaCl

4. ✘ CH_3COONa

Question Number : 83 Question Id : 168000783 Display Question Number : Yes Single Line Question Option : No Option Orientation : Vertical

Which one of the following represents the electronic configuration of a divalent metal?

Options :

1. ✘ 2, 8, 1

2. ✔ 2, 8, 2

3. ✘ 2, 8, 3

4. ✘ 2, 8, 4

Question Number : 83 Question Id : 168000783 Display Question Number : Yes Single Line Question Option : No Option Orientation : Vertical

निम्न में से कौन सा विकल्प द्विपदीय धातु के इलेक्ट्रॉनिक विन्यास को प्रदर्शित करता है?

Options :

1. ✘ 2, 8, 1

2. ✔ 2, 8, 2

3. ✘ 2, 8, 3

4. ✘ 2, 8, 4

Question Number : 84 Question Id : 168000784 Display Question Number : Yes Single Line Question Option : No Option Orientation : Vertical

Which one of the following metal oxides is amphoteric in nature?

Options :

1. ✘ CaO
2. ✘ CuO
3. ✘ MgO
4. ✔ Al₂O₃

Question Number : 84 Question Id : 168000784 Display Question Number : Yes Single Line Question Option : No Option Orientation : Vertical

निम्न में से किस धातु ऑक्साइड की प्रकृति उभयधर्मी है?

Options :

1. ✘ CaO
2. ✘ CuO
3. ✘ MgO
4. ✔ Al₂O₃

Question Number : 85 Question Id : 168000785 Display Question Number : Yes Single Line Question Option : No Option Orientation : Vertical

What is the total number of atoms present in 5.6 grams of calcium oxide?

Options :

1. ✔ 12.046×10^{22}
2. ✘ 12.046×10^{23}
3. ✘ 12.046×10^{25}
4. ✘ 12.046×10^{24}

Question Number : 85 Question Id : 168000785 Display Question Number : Yes Single Line Question Option : No Option Orientation : Vertical

5.6 ग्राम कैल्शियम ऑक्साइड में उपस्थित कुल परमाणुओं की संख्या कितनी होगी?

Options :

1. ✓ 12.046×10^{22}
2. ✗ 12.046×10^{23}
3. ✗ 12.046×10^{25}
4. ✗ 12.046×10^{24}

Question Number : 86 Question Id : 168000786 Display Question Number : Yes Single Line Question Option : No Option Orientation : Vertical

Which of the following folk dance is associated with the Lakshadweep islands?

Options :

1. ✗ Giddha
2. ✗ Kaikottikali
3. ✓ Kolkali
4. ✗ Bihu

Question Number : 86 Question Id : 168000786 Display Question Number : Yes Single Line Question Option : No Option Orientation : Vertical

निम्न में से कौन-सा लोक नृत्य लक्षद्वीप से संबंधित है?

Options :

1. ✗ गिद्धा
2. ✗ कैकोटीकली
3. ✓ कोलकली
4. ✗ बिहु

Question Number : 87 Question Id : 168000787 Display Question Number : Yes Single Line Question Option : No Option Orientation : Vertical

The Brahma Samaj was set up in 1828 by _____.

Options :

1. ✗ Ramakrishna Paramahansa

2. ✓ Raja Ram Mohan Roy
3. ✗ Swami Vivekananda
4. ✗ Swami Dayanand Saraswati

Question Number : 87 Question Id : 168000787 Display Question Number : Yes Single Line Question Option : No Option Orientation : Vertical

ब्रह्मो समाज की स्थापना 1828 में _____ द्वारा की गई थी।

Options :

1. ✗ रामकृष्ण परमहंस
2. ✓ राजा राम मोहन रॉय
3. ✗ स्वामी विवेकानंद
4. ✗ स्वामी दयानंद सरस्वती

Question Number : 88 Question Id : 168000788 Display Question Number : Yes Single Line Question Option : No Option Orientation : Vertical

According to the report published by the Department of Agriculture Cooperation and Farmers Welfare titled 'Agricultural Statistics at a Glance 2016', which was the largest GROUNDNUT producing state during 2015-16? (considering Production in absolute terms)

Options :

1. ✗ Tamil Nadu
2. ✗ Rajasthan
3. ✓ Gujarat
4. ✗ Maharashtra

Question Number : 88 Question Id : 168000788 Display Question Number : Yes Single Line Question Option : No Option Orientation : Vertical

कृषि, सहयोग और किसान कल्याण विभाग द्वारा 'कृषि सांख्यिकी एक नज़र में, 2016' शीर्षक से प्रकाशित रिपोर्ट के अनुसार 2015-16 के दौरान मूंगफली का सर्वाधिक उत्पादन करने वाला राज्य कौन-सा था? (उत्पादन को निरपेक्ष पद मानते हुए)

Options :

1. ✘ तमिलनाडु
2. ✘ राजस्थान
3. ✔ गुजरात
4. ✘ महाराष्ट्र

Question Number : 89 Question Id : 168000789 Display Question Number : Yes Single Line Question Option : No Option Orientation : Vertical

Who assumed charge as the twenty-fourth Governor of the Reserve Bank of India effective September 4, 2016?

Options :

1. ✘ Dr. Raghuram G. Rajan
2. ✔ Dr. Urjit R. Patel
3. ✘ Dr. Viral V. Acharya
4. ✘ Dr. Subir Gokarn

Question Number : 89 Question Id : 168000789 Display Question Number : Yes Single Line Question Option : No Option Orientation : Vertical

4 सितंबर 2016 से भारतीय रिज़र्व बैंक के चौबीसवें गवर्नर के रूप में किसने प्रभार संभाला है?

Options :

1. ✘ डॉ. रघुराम जी. राजन
2. ✔ डॉ. उर्जित आर. पटेल
3. ✘ डॉ. विरल वी. आचार्य
4. ✘ डॉ. सुबीर गोकर्ण

Question Number : 90 Question Id : 168000790 Display Question Number : Yes Single Line Question Option : No Option Orientation : Vertical

As prescribed by the Constitution of India, the House of the People shall consist of not more than _____ members to represent the Union Territories, chosen in such manner as Parliament may by law provide.

Options :

1. ✔ Twenty

2. ✘ Twelve
3. ✘ Twenty-four
4. ✘ Five hundred and thirty

Question Number : 90 Question Id : 168000790 Display Question Number : Yes Single Line Question Option : No Option Orientation : Vertical

भारतीय संविधान के अनुसार लोक सभा में संघ शासित प्रदेशों का प्रतिनिधित्व करने वाले सदस्यों की संख्या _____ से अधिक नहीं होनी चाहिए, जिनका चुनाव संसद द्वारा वैधानिक रूप से प्रदान किए गए विधान से होता है।

Options :

1. ✔ बीस
2. ✘ बारह
3. ✘ चौबीस
4. ✘ पांच सौ तीस

Question Number : 91 Question Id : 168000791 Display Question Number : Yes Single Line Question Option : No Option Orientation : Vertical

Which of the following inventors is not associated with blue light emitting diodes?

Options :

1. ✔ Akira Suzuki
2. ✘ Isamu Akasaki
3. ✘ Hiroshi Amano
4. ✘ Shuji Nakamura

Question Number : 91 Question Id : 168000791 Display Question Number : Yes Single Line Question Option : No Option Orientation : Vertical

निम्नलिखित में से कौन-सा अन्वेषक नीले प्रकाश उत्सर्जक डायोड से संबंधित नहीं है?

Options :

1. ✔ अकीरा सुजुकी
2. ✘ इसामू अकासाकी

3. ✘ हिरोशी आमनो

4. ✘ शूजी नाकामुरा

Question Number : 92 Question Id : 168000792 Display Question Number : Yes Single Line Question Option : No Option Orientation : Vertical

Which of the following artists won the Album of the Year award at the 59th annual Grammy Awards 2017?

Options :

1. ✔ Adele

2. ✘ Beyonce

3. ✘ Ed Sheeran

4. ✘ Sam Smith

Question Number : 92 Question Id : 168000792 Display Question Number : Yes Single Line Question Option : No Option Orientation : Vertical

निम्नलिखित में से किस कलाकार ने 'एलबम ऑफ़ दि ईयर' श्रेणी का 59वां वार्षिक ग्रैमी पुरस्कार 2017 जीता था?

Options :

1. ✔ एडेल

2. ✘ बियॉन्से

3. ✘ एड शीरन

4. ✘ सैम स्मिथ

Question Number : 93 Question Id : 168000793 Display Question Number : Yes Single Line Question Option : No Option Orientation : Vertical

Since 1934, the Val Barker Trophy has been awarded to the outstanding _____ at the Olympic Games as chosen by a committee of AIBA officials.

Options :

1. ✔ Boxer

2. ✘ Archer

3. ✘ Tennis player

4. ✘ Golfer

Question Number : 93 Question Id : 168000793 Display Question Number : Yes Single Line Question Option : No Option Orientation : Vertical

1934 से वाल बार्कर ट्रॉफी एआईबीए के अधिकारियों की एक समिति द्वारा चुने गए उस _____ को दी जाती है जिसने ओलंपिक खेलों में शानदार प्रदर्शन किया हो।

Options :

1. ✔ मुक्केबाज़
2. ✘ तीरंदाज
3. ✘ टेनिस खिलाड़ी
4. ✘ गोल्फ़ खिलाड़ी

Question Number : 94 Question Id : 168000794 Display Question Number : Yes Single Line Question Option : No Option Orientation : Vertical

Who is the Chairperson of the Goods and Service Tax Council introduced in 2017?

Options :

1. ✘ Home Minister
2. ✘ Nominated minister from respective state
3. ✔ Union Finance Minister
4. ✘ Minister of State for Finance

Question Number : 94 Question Id : 168000794 Display Question Number : Yes Single Line Question Option : No Option Orientation : Vertical

2017 में आरम्भ की गई वस्तु एवं सेवा कर परिषद का अध्यक्ष कौन है?

Options :

1. ✘ गृह मंत्री
2. ✘ संबंधित राज्य से मनोनीत मंत्री
3. ✔ केंद्रीय वित्त मंत्री
4. ✘ वित्त राज्य मंत्री

Question Number : 95 Question Id : 168000795 Display Question Number : Yes Single Line Question Option : No Option Orientation : Vertical

Which of the following Bharat Ratna awardee in the field of arts has popularised the shehnai?

Options :

1. ✘ Ravi Shankar
2. ✘ Bhimsen Joshi
3. ✘ Ali Ahmed Hussain Khan
4. ✔ Bismillah Khan

Question Number : 95 Question Id : 168000795 Display Question Number : Yes Single Line Question Option : No Option Orientation : Vertical

कला के क्षेत्र में किस भारत रत्न पुरस्कार प्राप्त कलाकार ने शहनाई को लोकप्रिय बनाया था?

Options :

1. ✘ रवि शंकर
2. ✘ भीमसेन जोशी
3. ✘ अली अहमद हुसैन खान
4. ✔ बिस्मिल्लाह खान

Question Number : 96 Question Id : 168000796 Display Question Number : Yes Single Line Question Option : No Option Orientation : Vertical

Select the missing letters in the series.

PQ, QP, PQR, RQP, PQRS, _____

Options :

1. ✔ SRQP
2. ✘ SPRQ
3. ✘ SRPQ
4. ✘ SQRP

Question Number : 96 Question Id : 168000796 Display Question Number : Yes Single Line Question Option : No Option Orientation : Vertical

श्रृंखला में अनुपस्थित अक्षर-समूह का चयन करें।

PQ, QP, PQR, RQP, PQRS, _____

Options :

1. ✓ SRQP
2. ✗ SPRQ
3. ✗ SRPQ
4. ✗ SQRP

Question Number : 97 Question Id : 168000797 Display Question Number : Yes Single Line Question Option : No Option Orientation : Vertical

Complete the analogy.

17 : 289 :: ?

Options :

1. ✗ 2 : 8
2. ✗ 5 : 125
3. ✓ 13 : 169
4. ✗ 14 : 164

Question Number : 97 Question Id : 168000797 Display Question Number : Yes Single Line Question Option : No Option Orientation : Vertical

सादृश्य को पूरा करें।

17 : 289 :: ?

Options :

1. ✗ 2 : 8
2. ✗ 5 : 125
3. ✓ 13 : 169
4. ✗ 14 : 164

Question Number : 98 Question Id : 168000798 Display Question Number : Yes Single Line Question Option : No Option Orientation : Vertical

Insert the word that completes the first word and begins the second.

FI (--) ACT

Options :

1. ✓ RE
2. ✗ KE
3. ✗ ER
4. ✗ AN

Question Number : 98 Question Id : 168000798 Display Question Number : Yes Single Line Question Option : No Option Orientation : Vertical

उस अक्षर-युग्म को जोड़ें जो पहले शब्द को पूरा करता हो और दूसरे शब्द को आरम्भ करता हो।

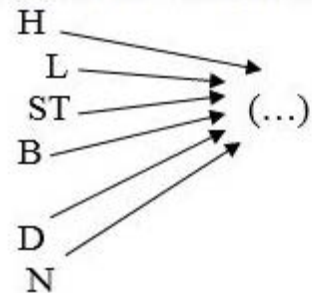
FI (--) ACT

Options :

1. ✓ RE
2. ✗ KE
3. ✗ ER
4. ✗ AN

Question Number : 99 Question Id : 168000799 Display Question Number : Yes Single Line Question Option : No Option Orientation : Vertical

Select the word which can have any of the letters appended to it as a prefix to make an English word.



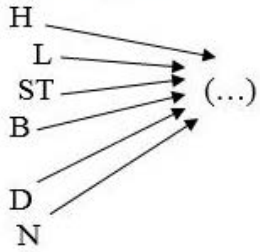
Options :

1. ✗ EAD
2. ✓ ARK
3. ✗ OLD

4. ✘ EAR

Question Number : 99 Question Id : 168000799 Display Question Number : Yes Single Line Question Option : No Option Orientation : Vertical

उस शब्द का चयन करें जिसमें निम्नांकित किसी भी अक्षर/अक्षर-युग्म को उपसर्ग के रूप में जोड़कर एक अंग्रेजी शब्द बनाया जा सके।



Options :

1. ✘ EAD

2. ✔ ARK

3. ✘ OLD

4. ✘ EAR

Question Number : 100 Question Id : 168000800 Display Question Number : Yes Single Line Question Option : No Option Orientation : Vertical

If $7 + 2 = 95$, $5 + 3 = 82$, $9 + 1 = 108$, then $6 + 4 = ?$

Options :

1. ✘ 10

2. ✘ 101

3. ✔ 102

4. ✘ 109

Question Number : 100 Question Id : 168000800 Display Question Number : Yes Single Line Question Option : No Option Orientation : Vertical

यदि $7 + 2 = 95$, $5 + 3 = 82$, $9 + 1 = 108$, तो $6 + 4 = ?$

Options :

1. ✘ 10

2. ✘ 101

3. ✔ 102

