

Haryana Staff Selection Commission

Notations :

- 1.Options shown in green color and with ✓ icon are correct.
- 2.Options shown in red color and with ✗ icon are incorrect.

Subject Name:	CAT 8 Senior Scale Stenographer English Hindi CBT Exam
Total Marks:	200
Display Marks:	Yes
Calculator:	None
Magnifying Glass Required?:	No
Ruler Required?:	No
Eraser Required?:	No
Scratch Pad Required?:	No
Rough Sketch/Notepad Required?:	No
Protractor Required?:	No

CAT 8 Senior Scale Stenographer English Hindi CBT Exam

Group Marks: 200

CAT 8 Senior Scale Stenographer English Hindi CBT Exam

Section Marks:	200
Display Number Panel:	Yes
Group All Questions:	No

Question Number : 1 Question Id : 627289701 Display Question Number : Yes Single Line Question Option : No Option Orientation : Vertical

Who was the founder of the Sanatan Dharma Sabha in Haryana?

Options :

1. ✓ Din Dayal Sharma
2. ✗ Hargolal Sharma
3. ✗ Lala Sohan Lal
4. ✗ Neki Ram Sharma

Question Number : 1 Question Id : 627289701 Display Question Number : Yes Single Line Question Option : No Option Orientation : Vertical

हरियाणा में सनातन धर्म सभा के संस्थापक कौन थे?

Options :

1. ✓ दीन दयाल शर्मा
2. ✘ हरगोलाल शर्मा
3. ✘ लाला सोहन लाल
4. ✘ नेकी राम शर्मा

Question Number : 2 Question Id : 627289702 Display Question Number : Yes Single Line Question Option : No Option Orientation : Vertical

Which of the following pairs (newspaper-place) is not a correct match?

Options :

1. ✘ *Ahir Patrika* – Rewari
2. ✓ *Brahman Samachar* – Kurukshetra
3. ✘ *Jat Gazette* – Rohtak
4. ✘ *Thakur Patrika* – Hissar

Question Number : 2 Question Id : 627289702 Display Question Number : Yes Single Line Question Option : No Option Orientation : Vertical

निम्नलिखित में से किस युग्म (समाचारपत्र-स्थान) का मिलान सही नहीं है?

Options :

1. ✘ अहीर पत्रिका - रेवाड़ी
2. ✓ ब्राह्मण समाचार - कुरुक्षेत्र
3. ✘ जाट गज़ेट - रोहतक
4. ✘ ठाकुर पत्रिका - हिसार

Question Number : 3 Question Id : 627289703 Display Question Number : Yes Single Line Question Option : No Option Orientation : Vertical

Lala Murlidhar and Munshi Jwala Parshad, who represented Haryana in the first session of Indian National Congress, belonged to:

Options :

1. ✓ Ambala
2. ✗ Jhajjar
3. ✗ Mahendragarh
4. ✗ Panipat

Question Number : 3 Question Id : 627289703 Display Question Number : Yes Single Line Question Option : No Option Orientation : Vertical

भारतीय राष्ट्रीय कांग्रेस के पहले सत्र में हरियाणा का प्रतिनिधित्व करने वाले लाला मुरलीधर और मुंशी ज्वाला प्रसाद, इसमें से किस स्थान से सम्बंधित थे?

Options :

1. ✓ अंबाला
2. ✗ झज्जर
3. ✗ महेन्द्रगढ़
4. ✗ पानीपत

Question Number : 4 Question Id : 627289704 Display Question Number : Yes Single Line Question Option : No Option Orientation : Vertical

Which of the following leaders of the Ghadar Party belonged to the Haryana region?

Options :

1. ✗ Lala Hardyal
2. ✓ Kanshi Ram
3. ✗ Kartar Singh Sarabha
4. ✗ Sohan Singh Bhakna

Question Number : 4 Question Id : 627289704 Display Question Number : Yes Single Line Question Option : No Option Orientation : Vertical

निम्नलिखित में से, ग़दर पार्टी का कौन सा नेता हरियाणा क्षेत्र से सम्बन्धित है?

Options :

1. ✗ लाला हरदयाल

2. ✓ कांशी राम
3. ✗ करतार सिंह सराभा
4. ✗ सोहन सिंह भकना

Question Number : 5 Question Id : 627289705 Display Question Number : Yes Single Line Question Option : No Option Orientation : Vertical

The Ministry of Housing and Urban Poverty Alleviation (HUPA) recently approved the construction of _____ houses for the urban poor in Haryana.

Options :

1. ✗ 150
2. ✗ 2000
3. ✗ 40000
4. ✓ 759

Question Number : 5 Question Id : 627289705 Display Question Number : Yes Single Line Question Option : No Option Orientation : Vertical

हाल ही में आवास और शहरी गरीबी उन्मूलन मंत्रालय (एचयूपीए) ने हरियाणा में शहरी गरीबों के लिए _____ घरों के निर्माण की अनुमति दी है।

Options :

1. ✗ 150
2. ✗ 2000
3. ✗ 40000
4. ✓ 759

Question Number : 6 Question Id : 627289706 Display Question Number : Yes Single Line Question Option : No Option Orientation : Vertical

In August 2016, NABARD sanctioned a loan of approximately _____ crore to the Haryana Government under the Rural Infrastructure Development Fund for rural infrastructure in Haryana.

Options :

1. ✗ 1000
2. ✓ 204

3. ✘ 3450

4. ✘ 40

Question Number : 6 Question Id : 627289706 Display Question Number : Yes Single Line Question Option : No Option Orientation : Vertical

अगस्त 2016 में, नाबार्ड ने हरियाणा सरकार को, हरियाणा में ग्रामीण बुनियादी सुविधाओं के लिए ग्रामीण बुनियादी ढांचा विकास कोष के अंतर्गत लगभग _____ करोड़ रुपयों के ऋण की मंजूरी दी थी।

Options :

1. ✘ 1000

2. ✔ 204

3. ✘ 3450

4. ✘ 40

Question Number : 7 Question Id : 627289707 Display Question Number : Yes Single Line Question Option : No Option Orientation : Vertical

As per its recent announcement, the Haryana Government has banned 10-year-old diesel and 15-year-old petrol vehicles in all the following districts EXCEPT:

Options :

1. ✘ Gurugram

2. ✘ Faridabad

3. ✘ Jhajjar

4. ✔ Hisar

Question Number : 7 Question Id : 627289707 Display Question Number : Yes Single Line Question Option : No Option Orientation : Vertical

हाल ही में की गई अपनी घोषणा के अनुसार, हरियाणा सरकार ने निम्नलिखित में से किस ज़िले को छोड़कर सभी जिलों में 10 वर्ष से अधिक पुराने डीज़ल और 15 वर्ष से अधिक पुराने पेट्रोल वाहनों पर प्रतिबंध लगाया है?

Options :

1. ✘ गुरुग्राम

2. ✘ फरीदाबाद

3. ✘ झज्जर

4. ✓ हिसार

Question Number : 8 Question Id : 627289708 Display Question Number : Yes Single Line Question Option : No Option Orientation : Vertical

Sardar Singh, who has been recently awarded the 2017 Rajiv Gandhi Khel Ratna Award, is an international _____ player.

Options :

1. ✗ cricket

2. ✗ badminton

3. ✓ hockey

4. ✗ football

Question Number : 8 Question Id : 627289708 Display Question Number : Yes Single Line Question Option : No Option Orientation : Vertical

सरदार सिंह, जिन्हें हाल ही में 2017 राजीव गांधी खेल रत्न पुरस्कार से सम्मानित किया गया है, एक अंतर्राष्ट्रीय _____ खिलाड़ी हैं।

Options :

1. ✗ क्रिकेट

2. ✗ बैडमिंटन

3. ✓ हॉकी

4. ✗ फुटबॉल

Question Number : 9 Question Id : 627289709 Display Question Number : Yes Single Line Question Option : No Option Orientation : Vertical

'Shikwa-e-Hind ' was written by:

Options :

1. ✗ Sheikh-u-Alishah Kalandar

2. ✗ Sheikh Abdul Qadoos

3. ✗ Sheikh Bahauddin Chishti

4. ✓ Khwaja Altaf Hussain Hali

Question Number : 9 Question Id : 627289709 Display Question Number : Yes Single Line Question Option : No Option Orientation : Vertical

‘शिकवा-ए-हिन्द’ इनके द्वारा लिखी गई थी:

Options :

1. ✘ शेख-उ-अलीशाह कलन्दर
2. ✘ शेख अब्दुल क़दूस
3. ✘ शेख बहाउद्दीन चिश्ती
4. ✔ ख्वाजा अल्ताफ़ हुसैन हाली

Question Number : 10 Question Id : 627289710 Display Question Number : Yes Single Line Question Option : No Option Orientation : Vertical

Who among the following was the first state poet of Haryana?

Options :

1. ✘ Balmukund Gupta
2. ✔ Uday Bhanu Hans
3. ✘ Pandit Neki Ram Sharma
4. ✘ Ayodhya Prasad Goyalaya

Question Number : 10 Question Id : 627289710 Display Question Number : Yes Single Line Question Option : No Option Orientation : Vertical

निम्नलिखित में से कौन हरियाणा का पहला राज्य कवि था?

Options :

1. ✘ बाल मुकुंद गुप्ता
2. ✔ उदय भानु हंस
3. ✘ पं. नेकी राम शर्मा
4. ✘ अयोध्या प्रसाद गोयलिया

Question Number : 11 Question Id : 627289711 Display Question Number : Yes Single Line Question Option : No Option Orientation : Vertical

The poem 'Rana Nimantrana' was written by:

Options :

1. ✘ Bastiram
2. ✘ Rajaram Sangi
3. ✔ Khushiram Sharma
4. ✘ Lakshmi Chand Sangi

Question Number : 11 Question Id : 627289711 Display Question Number : Yes Single Line Question Option : No Option Orientation : Vertical

'रण निमन्त्रण' कविता इनके द्वारा लिखी गई थी:

Options :

1. ✘ बस्ती राम
2. ✘ राजाराम संगी
3. ✔ खुशीराम शर्मा
4. ✘ लक्ष्मी चंद संगी

Question Number : 12 Question Id : 627289712 Display Question Number : Yes Single Line Question Option : No Option Orientation : Vertical

Which of the following is not a Kharif crop of Haryana?

Options :

1. ✘ Jowar
2. ✘ Millet
3. ✔ Mustard
4. ✘ Cotton

Question Number : 12 Question Id : 627289712 Display Question Number : Yes Single Line Question Option : No Option Orientation : Vertical

निम्नलिखित में से कौन सी हरियाणा की खरीफ़ की फ़सल नहीं है?

Options :

1. ✘ ज्वार

2. ✘ बाजरा

3. ✔ सरसों

4. ✘ कपास

Question Number : 13 Question Id : 627289713 Display Question Number : Yes Single Line Question Option : No Option Orientation : Vertical

What is the population density (as per census 2011) of Haryana?

Options :

1. ✘ 353 per sq. kms.

2. ✔ 573 per sq. kms.

3. ✘ 786 per sq. kms.

4. ✘ 923 per sq. kms.

Question Number : 13 Question Id : 627289713 Display Question Number : Yes Single Line Question Option : No Option Orientation : Vertical

हरियाणा का जनसंख्या घनत्व (जनगणना 2011 के अनुसार) कितना है?

Options :

1. ✘ 353 प्रति वर्ग किमी

2. ✔ 573 प्रति वर्ग किमी

3. ✘ 786 प्रति वर्ग किमी

4. ✘ 923 प्रति वर्ग किमी

Question Number : 14 Question Id : 627289714 Display Question Number : Yes Single Line Question Option : No Option Orientation : Vertical

Minerals are not found in which of the following districts?

Options :

1. ✘ Mahendergarh

2. ✘ Rewari

3. ✘ Faridabad

4. ✔ Kurukshetra

Question Number : 14 Question Id : 627289714 Display Question Number : Yes Single Line Question Option : No Option Orientation : Vertical

निम्नलिखित जिलों में से किसमें खनिज नहीं पाये जाते हैं?

Options :

1. ✘ महेंद्रगढ़

2. ✘ रेवाड़ी

3. ✘ फ़रीदाबाद

4. ✔ कुरुक्षेत्र

Question Number : 15 Question Id : 627289715 Display Question Number : Yes Single Line Question Option : No Option Orientation : Vertical

As per the Haryana Municipal (Amendment) Act, 1994, which one of the following is not an obligatory function of the municipal bodies in Haryana?

Options :

1. ✘ Public safety and convenience

2. ✘ Medical relief

3. ✔ Establishment and maintenance of libraries

4. ✘ Public health

Question Number : 15 Question Id : 627289715 Display Question Number : Yes Single Line Question Option : No Option Orientation : Vertical

हरियाणा नगर निगम (संशोधन) अधिनियम 1994 के अनुसार निम्न में से क्या हरियाणा के नगर निगमों के लिए अनिवार्य कार्य नहीं है?

Options :

1. ✘ जन सुरक्षा व सेवा

2. ✘ चिकित्सकीय सहायता

3. ✓ पुस्तकालयों का गठन व देखरेख

4. ✗ जन स्वास्थ्य

Question Number : 16 Question Id : 627289716 Display Question Number : Yes Single Line Question Option : No Option Orientation : Vertical

In the year _____, Zila Parishads were abolished and their powers were vested in the Deputy Commissioner of the district concerned.

Options :

1. ✗ 1970

2. ✓ 1973

3. ✗ 1975

4. ✗ 1978

Question Number : 16 Question Id : 627289716 Display Question Number : Yes Single Line Question Option : No Option Orientation : Vertical

वर्ष _____ में ज़िला परिषदों को भंग करके उनकी शक्तियाँ संबद्ध जिलों के उपायुक्तों को सौंप दी गई थीं।

Options :

1. ✗ 1970

2. ✓ 1973

3. ✗ 1975

4. ✗ 1978

Question Number : 17 Question Id : 627289717 Display Question Number : Yes Single Line Question Option : No Option Orientation : Vertical

Who is the longest serving Chief Minister of Haryana?

Options :

1. ✗ OP Chautala

2. ✗ Bhajanlal

3. ✓ Bansilal

4. ✘ Devilal

Question Number : 17 Question Id : 627289717 Display Question Number : Yes Single Line Question Option : No Option Orientation : Vertical

हरियाणा के सबसे अधिक समय तक सेवारत रहने वाले मुख्यमंत्री कौन हैं?

Options :

1. ✘ ओपी चौटाला

2. ✘ भजनलाल

3. ✔ बंसीलाल

4. ✘ देवीलाल

Question Number : 18 Question Id : 627289718 Display Question Number : Yes Single Line Question Option : No Option Orientation : Vertical

Section 13 of the Haryana Panchayati Raj Act, 1994, enforces an obligatory duty on the Gram Panchayats to meet at least _____ within the Gram Sabha area.

Options :

1. ✘ Once a month

2. ✔ Twice a month

3. ✘ Once in two months

4. ✘ Once in three months

Question Number : 18 Question Id : 627289718 Display Question Number : Yes Single Line Question Option : No Option Orientation : Vertical

हरियाणा पंचायती राज अधिनियम 1994 की धारा 13 के अनुसार ग्राम पंचायतों का अनिवार्य कर्तव्य है कि वे ग्राम सभा क्षेत्र में कम-से-कम _____ मीटिंग करें।

Options :

1. ✘ महीने में एक बार

2. ✔ महीने में दो बार

3. ✘ दो महीनों में एक बार

4. ✘ तीन महीनों में एक बार

Question Number : 19 Question Id : 627289719 Display Question Number : Yes Single Line Question Option : No Option Orientation : Vertical

In which of the following districts does the Damdama lake fall?

Options :

1. ✘ Kurukshetra
2. ✘ Karnal
3. ✘ Faridabad
4. ✔ Gurugram

Question Number : 19 Question Id : 627289719 Display Question Number : Yes Single Line Question Option : No Option Orientation : Vertical

निम्नलिखित में से किस ज़िले में दमदमा झील स्थित है?

Options :

1. ✘ कुरुक्षेत्र
2. ✘ करनाल
3. ✘ फ़रीदाबाद
4. ✔ गुरुग्राम

Question Number : 20 Question Id : 627289720 Display Question Number : Yes Single Line Question Option : No Option Orientation : Vertical

In which district is the Nahar Wildlife Sanctuary situated?

Options :

1. ✘ Sirsa
2. ✘ Kaithal
3. ✔ Rewari
4. ✘ Mahendragarh

Question Number : 20 Question Id : 627289720 Display Question Number : Yes Single Line Question Option : No Option Orientation : Vertical

नाहर वन्यजीव अभयारण्य किस ज़िले में स्थित है?

Options :

1. ✘ सिरसा
2. ✘ कैथल
3. ✔ रेवाड़ी
4. ✘ महेन्द्रगढ़

Question Number : 21 Question Id : 627289721 Display Question Number : Yes Single Line Question Option : No Option Orientation : Vertical

Which is the state bird of Haryana?

Options :

1. ✘ Red jungle fowl
2. ✘ Grey nightjar
3. ✘ Brown crane
4. ✔ Black francolin

Question Number : 21 Question Id : 627289721 Display Question Number : Yes Single Line Question Option : No Option Orientation : Vertical

हरियाणा का राज्य पक्षी क्या है?

Options :

1. ✘ लाल जंगली मुर्गा
2. ✘ धूसर निशाचरी चिड़िया (ग्रे नाइट्ज़र)
3. ✘ भूरा क्रेक (ब्राउन क्रेक)
4. ✔ काला तीतर

Question Number : 22 Question Id : 627289722 Display Question Number : Yes Single Line Question Option : No Option Orientation : Vertical

What is the common belief associated with Kotikuta Tirtha in Kaithal?

Options :

1. ✘ The person who bathes in its waters gets the strength of an elephant

2. ✘ The person who bathes in its waters sees Lord Shiva in dream
3. ✘ The person who bathes in its waters sees Lord Vishnu in dream
4. ✔ The person who bathes in its waters becomes sinless

Question Number : 22 Question Id : 627289722 Display Question Number : Yes Single Line Question Option : No Option Orientation : Vertical

कैथल में कोटिकुट तीर्थ से संबंधित सामान्य धारणा क्या है?

- Options :
1. ✘ जो व्यक्ति इसके जल में स्नान करता है उसे एक हाथी के बराबर शक्ति प्राप्त होती है।
 2. ✘ जो व्यक्ति इसके जल में स्नान करता है वह स्वप्न में भगवान शिव को देखता है।
 3. ✘ जो व्यक्ति इसके जल में स्नान करता है वह स्वप्न में भगवान विष्णु को देखता है।
 4. ✔ जो व्यक्ति इसके जल में स्नान करता है वह निष्पाप हो जाता है।

Question Number : 23 Question Id : 627289723 Display Question Number : Yes Single Line Question Option : No Option Orientation : Vertical

The Red Mosque (Lal Masjid) is near the old courts in Rewari. It was built during the regime of:

- Options :
1. ✔ Akbar
 2. ✘ Babur
 3. ✘ Jahangir
 4. ✘ Humayun

Question Number : 23 Question Id : 627289723 Display Question Number : Yes Single Line Question Option : No Option Orientation : Vertical

रेड माँस्क (लाल मस्जिद) रेवाड़ी में पुराने न्यायालय के पास स्थित है। यह किनके शासनकाल के दौरान बनायी गयी थी?

- Options :
1. ✔ अकबर
 2. ✘ बाबर

3. ✘ जहाँगीर

4. ✘ हुमायूँ

Question Number : 24 Question Id : 627289724 Display Question Number : Yes Single Line Question Option : No Option Orientation : Vertical

Who built Bhuteshvara temple in Jind?

Options :

1. ✔ Raghbir Singh

2. ✘ Akbar

3. ✘ Arjun Singh

4. ✘ Jahangir

Question Number : 24 Question Id : 627289724 Display Question Number : Yes Single Line Question Option : No Option Orientation : Vertical

जींद में भूतेश्वर मंदिर किसने बनवाया था?

Options :

1. ✔ रघबीर सिंह

2. ✘ अकबर

3. ✘ अर्जुन सिंह

4. ✘ जहाँगीर

Question Number : 25 Question Id : 627289725 Display Question Number : Yes Single Line Question Option : No Option Orientation : Vertical

Which of the following beliefs is associated with the Jind district in Haryana?

Options :

1. ✘ Lord Ram built a temple here to honour Jainti Devi.

2. ✘ Lord Krishna died here.

3. ✔ The Pandavas built a temple here to honour Jainti Devi.

4. ✘ Lord Hanuman met Sri Ram for the first time here.

Question Number : 25 Question Id : 627289725 Display Question Number : Yes Single Line Question Option : No Option Orientation : Vertical

निम्नलिखित में से कौन सी मान्यता हरियाणा के जींद जिले से सम्बंधित है?





Options :

1. ✘ भगवान राम ने जयंती देवी के सम्मान में यहाँ एक मंदिर का निर्माण किया था।
2. ✘ यहाँ भगवान कृष्ण का निधन हुआ था।
3. ✔ पांडवों ने जयंती देवी के सम्मान में यहाँ एक मंदिर का निर्माण किया था।
4. ✘ भगवान हनुमान ने यहाँ पहली बार श्री राम से भेंट की थी।

Question Number : 26 Question Id : 627289726 Display Question Number : Yes Single Line Question Option : No Option Orientation : Vertical

Select the word 'Liquids' from the given options.

Options :


1. ✘ 
2. ✘ 
3. ✘ 
4. ✔ 


Question Number : 26 Question Id : 627289726 Display Question Number : Yes Single Line Question Option : No Option Orientation : Vertical


Select the word 'Liquids' from the given options.

Options :

1. ✘ 

2. ✘ 

3. ✘ 

4. ✔ 

Question Number : 27 Question Id : 627289727 Display Question Number : Yes Single Line Question Option : No Option Orientation : Vertical

How many short lines underneath an outline indicate an initial capital?

Options :

1. ✘ One

2. ✔ Two

3. ✘ Three

4. ✘ Four

Question Number : 27 Question Id : 627289727 Display Question Number : Yes Single Line Question Option : No Option Orientation : Vertical

How many short lines underneath an outline indicate an initial capital?

Options :

1. ✘ One

2. ✔ Two

3. ✘ Three

4. ✘ Four

Question Number : 28 Question Id : 627289728 Display Question Number : Yes Single Line Question Option : No Option Orientation : Vertical

A small final hook struck by the right motion adds _____ to straight strokes.

Options :

1. ✘ f

2. ✘ v

3. ✓ n

4. ✗ shun

Question Number : 28 Question Id : 627289728 Display Question Number : Yes Single Line Question Option : No Option Orientation : Vertical

A small final hook struck by the right motion adds _____ to straight strokes.

Options :

1. ✗ f

2. ✗ v

3. ✓ n

4. ✗ shun

Question Number : 29 Question Id : 627289729 Display Question Number : Yes Single Line Question Option : No Option Orientation : Vertical

A semicircle is employed medially as an alternative to the stroke _____.

Options :

1. ✗ H

2. ✗ F

3. ✗ V

4. ✓ W

Question Number : 29 Question Id : 627289729 Display Question Number : Yes Single Line Question Option : No Option Orientation : Vertical

A semicircle is employed medially as an alternative to the stroke _____.

Options :

1. ✗ H

2. ✗ F

3. ✗ V

4. ✓ W

Question Number : 30 Question Id : 627289730 Display Question Number : Yes Single Line Question Option : No Option Orientation : Vertical

The initial hooks to 'l' are always read _____.

Options :

1. ✘ second
2. ✘ third
3. ✔ first
4. ✘ fourth

Question Number : 30 Question Id : 627289730 Display Question Number : Yes Single Line Question Option : No Option Orientation : Vertical

The initial hooks to 'l' are always read _____.





Options :

1. ✘ second
2. ✘ third
3. ✔ first
4. ✘ fourth

Question Number : 31 Question Id : 627289731 Display Question Number : Yes Single Line Question Option : No Option Orientation : Vertical

The thick 'h' is written initially to _____.





Options :

1. ✘ 
2. ✘ 
3. ✘ 
4. ✔ 

Question Number : 31 Question Id : 627289731 Display Question Number : Yes Single Line Question Option : No Option Orientation : Vertical

The thick 'h' is written initially to _____.

Options :

1. ✘ 
2. ✘ 
3. ✘ 
4. ✔ 

Question Number : 32 Question Id : 627289732 Display Question Number : Yes Single Line Question Option : No Option Orientation : Vertical

The consonants t, d and j without initial attachment for shun hook are written on the _____ side.

Options :

1. ✘ left
2. ✔ right
3. ✘ upward
4. ✘ downward

Question Number : 32 Question Id : 627289732 Display Question Number : Yes Single Line Question Option : No Option Orientation : Vertical

The consonants t, d and j without initial attachment for shun hook are written on the _____ side.

Options :

1. ✘ left
2. ✔ right
3. ✘ upward
4. ✘ downward

Question Number : 33 Question Id : 627289733 Display Question Number : Yes Single Line Question Option : No Option Orientation : Vertical

Select the correct outline for the word '**humanity**'.

Options :

1. ✓ 

2. ✗ 

3. ✗ 

4. ✗ 

Question Number : 33 Question Id : 627289733 Display Question Number : Yes Single Line Question Option : No Option Orientation : Vertical

Select the correct outline for the word **'humanity'**.

Options :

1. ✓ 

2. ✗ 

3. ✗ 


4. ✗ 

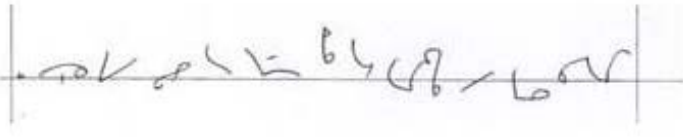
Question Number : 34 Question Id : 627289734 Display Question Number : Yes Single Line Question Option : No Option Orientation : Vertical


Select the option that states, **"The motors which are used for pump sets by the villagers are taxed heavily."**

Options :

1. ✓ 

2. ✗ 

3. ✗ 


4. ✗ 

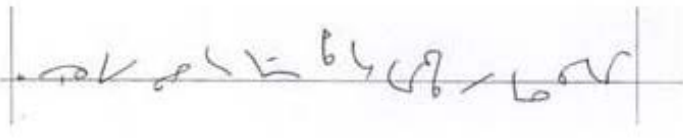
Question Number : 34 Question Id : 627289734 Display Question Number : Yes Single Line Question Option : No Option Orientation : Vertical


Select the option that states, "The motors which are used for pump sets by the villagers are taxed heavily."

Options :

1. ✓ 

2. ✗ 

3. ✗ 

4. ✗ 

Question Number : 35 Question Id : 627289735 Display Question Number : Yes Single Line Question Option : No Option Orientation : Vertical

Select the option that states, "We are not able to produce food grains at a time when nature has failed us."

Options :

1. ✘

2. ✔

3. ✘

4. ✘

Question Number : 35 Question Id : 627289735 Display Question Number : Yes Single Line Question Option : No Option Orientation : Vertical

Select the option that states, "We are not able to produce food grains at a time when nature has failed us."

Options :

1. ✘

2. ✔

3. ✘

4. ✘

Question Number : 36 Question Id : 627289736 Display Question Number : Yes Single Line Question Option : No Option Orientation : Vertical

साधारण वाक्यांश 'यह देखा जाता है' के लिए सही संकेत पहचानें:

A. _____

B. _____

C. _____

D. _____

Options :

1. ✓ A

2. ✗ B

3. ✗ C

4. ✗ D

Question Number : 36 Question Id : 627289736 Display Question Number : Yes Single Line Question Option : No Option Orientation : Vertical

साधारण वाक्यांश 'यह देखा जाता है' के लिए सही संकेत पहचानें:

A. _____

B. _____

C. _____

D. _____

Options :

1. ✓ A

2. ✗ B

3. ✘ C

4. ✘ D

Question Number : 37 Question Id : 627289737 Display Question Number : Yes Single Line Question Option : No Option Orientation : Vertical

वाक्यांश 'समय समय पर' के लिए सही संकेत पहचानें:

A.

B.

C.

D.

Options :

1. ✘ A

2. ✔ B

3. ✘ C

4. ✘ D

Question Number : 37 Question Id : 627289737 Display Question Number : Yes Single Line Question Option : No Option Orientation : Vertical

वाक्यांश 'समय समय पर' के लिए सही संकेत पहचानें:

A.

B.

C.

D.

Options :

1. ✘ A

2. ✓ B

3. ✗ C

4. ✗ D

Question Number : 38 Question Id : 627289738 Display Question Number : Yes Single Line Question Option : No Option Orientation : Vertical

संकेत १० के लिए सही वाक्यांश पहचानें।

Options :

1. ✓ बना देना चाहती है

2. ✗ बनाना चाहती है

3. ✗ बना देना चाहिए

4. ✗ बिना दान चाहिए

Question Number : 38 Question Id : 627289738 Display Question Number : Yes Single Line Question Option : No Option Orientation : Vertical

संकेत १० के लिए सही वाक्यांश पहचानें।

Options :

1. ✓ बना देना चाहती है

2. ✗ बनाना चाहती है

3. ✗ बना देना चाहिए

4. ✗ बिना दान चाहिए

Question Number : 39 Question Id : 627289739 Display Question Number : Yes Single Line Question Option : No Option Orientation : Vertical

पूर्ण नियमानुसार शब्दांश १० को पहचानें।

Options :

1. ✗ जन समस्त

2. ✘ जन समुदाय
3. ✘ सहजन
4. ✔ जन समूह

Question Number : 39 Question Id : 627289739 Display Question Number : Yes Single Line Question Option : No Option Orientation : Vertical

पूर्ण नियमानुसार शब्दांश को पहचानें।

Options :

1. ✘ जन समस्त
2. ✘ जन समुदाय
3. ✘ सहजन
4. ✔ जन समूह

Question Number : 40 Question Id : 627289740 Display Question Number : Yes Single Line Question Option : No Option Orientation : Vertical

पूर्ण नियमानुसार संक्षिप्त संकेत को पहचानें।

Options :

1. ✘ भूषण
2. ✔ आभूषण
3. ✘ भाषण
4. ✘ भीषण

Question Number : 40 Question Id : 627289740 Display Question Number : Yes Single Line Question Option : No Option Orientation : Vertical

पूर्ण नियमानुसार संक्षिप्त संकेत को पहचानें।

Options :

1. ✘ भूषण

2. ✓ आभूषण

3. ✗ भाषण

4. ✗ भीषण

Question Number : 41 Question Id : 627289741 Display Question Number : Yes Single Line Question Option : No Option Orientation : Vertical

पूर्ण नियमानुसार शब्द-चिह्न ॐ को पहचानें।

Options :

1. ✗ भूषण

2. ✗ भीषण

3. ✗ आभूषण

4. ✓ भाषण

Question Number : 41 Question Id : 627289741 Display Question Number : Yes Single Line Question Option : No Option Orientation : Vertical

पूर्ण नियमानुसार शब्द-चिह्न ॐ को पहचानें।

Options :

1. ✗ भूषण

2. ✗ भीषण

3. ✗ आभूषण

4. ✓ भाषण

Question Number : 42 Question Id : 627289742 Display Question Number : Yes Single Line Question Option : No Option Orientation : Vertical

शब्द में साधारण व्यंजन रेखा को दुगुना करने के नियम के अनुसार 'अन्तराल' में किस व्यंजन रेखा को बड़ा किया जाता है?

Options :

1. ✗ त

2. ✓ न

3. ✘ र

4. ✘ ल

Question Number : 42 Question Id : 627289742 Display Question Number : Yes Single Line Question Option : No Option Orientation : Vertical

शब्द में साधारण व्यंजन रेखा को दुगुना करने के नियम के अनुसार 'अन्तराल' में किस व्यंजन रेखा को बड़ा किया जाता है?

Options :

1. ✘ त

2. ✔ न

3. ✘ र

4. ✘ ल

Question Number : 43 Question Id : 627289743 Display Question Number : Yes Single Line Question Option : No Option Orientation : Vertical

पूर्ण नियमानुसार शब्दांश रुत (वादानुवाद) के दूसरे प्रारूप को पहचानें:

A. रुB. रुतC. रुतD. रुत

Options :

1. ✘ A

2. ✘ B

3. ✔ C

4. ✘ D

Question Number : 43 Question Id : 627289743 Display Question Number : Yes Single Line Question Option : No Option Orientation : Vertical

पूर्ण नियमानुसार शब्दांश म (वादानुवाद) के दूसरे प्रारूप को पहचानें:

- A. म
 B. म
 C. म
 D. म

Options :

1. ✘ A
 2. ✘ B
 3. ✔ C
 4. ✘ D

Question Number : 44 Question Id : 627289744 Display Question Number : Yes Single Line Question Option : No Option Orientation : Vertical

शीघ्रलिपि में 'म' व्यंजन को मोटा करने से क्या बनता है?

Options :

1. ✘ म्ब
 2. ✘ म्व
 3. ✘ स्प
 4. ✔ न

Question Number : 44 Question Id : 627289744 Display Question Number : Yes Single Line Question Option : No Option Orientation : Vertical

शीघ्रलिपि में 'म' व्यंजन को मोटा करने से क्या बनता है?

Options :

1. ✘ म्ब
 2. ✘ म्व
 3. ✘ स्प

4. ✓ न

Question Number : 45 Question Id : 627289745 Display Question Number : Yes Single Line Question Option : No Option Orientation : Vertical

पूर्ण नियमानुसार वाक्यांश हो का सही हिन्दी रूपान्तर बताएं।

Options :

1. ✗ होता रहता है
2. ✗ होता रहना है
3. ✓ होता ही रहता है
4. ✗ होता ही होता है

Question Number : 45 Question Id : 627289745 Display Question Number : Yes Single Line Question Option : No Option Orientation : Vertical

पूर्ण नियमानुसार वाक्यांश हो का सही हिन्दी रूपान्तर बताएं।

Options :

1. ✗ होता रहता है
2. ✗ होता रहना है
3. ✓ होता ही रहता है
4. ✗ होता ही होता है

Question Number : 46 Question Id : 627289746 Display Question Number : Yes Single Line Question Option : No Option Orientation : Vertical

In the following sentence, four words or phrases have been underlined. Select the underlined word or phrase that is NOT APPROPRIATE according to standard written UK English.

With change of season, we should extremely cautious about our health.

Options :

1. ✗ With

2. ✘ change of season
3. ✔ should extremely
4. ✘ about our health

Question Number : 46 Question Id : 627289746 Display Question Number : Yes Single Line Question Option : No Option Orientation : Vertical

In the following sentence, four words or phrases have been underlined. Select the underlined word or phrase that is NOT APPROPRIATE according to standard written UK English.

With change of season, we should extremely cautious about our health.

Options :

1. ✘ With
2. ✘ change of season
3. ✔ should extremely
4. ✘ about our health

Question Number : 47 Question Id : 627289747 Display Question Number : Yes Single Line Question Option : No Option Orientation : Vertical

In the following sentence, four words or phrases have been underlined. Select the underlined word or phrase that is NOT APPROPRIATE according to standard written UK English.

By keeping a pen and paper handy, you can keep track of all the ideas that comes to your mind.

Options :

1. ✘ By keeping
2. ✘ you can keep track
3. ✔ that comes
4. ✘ to your mind

Question Number : 47 Question Id : 627289747 Display Question Number : Yes Single Line Question Option : No Option Orientation : Vertical

In the following sentence, four words or phrases have been underlined. Select the underlined word or phrase that is NOT APPROPRIATE according to standard written UK English.

By keeping a pen and paper handy, you can keep track of all the ideas that comes to your mind.

Options :

1. ✘ By keeping
2. ✘ you can keep track
3. ✔ that comes
4. ✘ to your mind

Question Number : 48 Question Id : 627289748 Display Question Number : Yes Single Line Question Option : No Option Orientation : Vertical

In the following sentence, four words or phrases have been underlined. Select the underlined word or phrase that is NOT APPROPRIATE according to standard written UK English.

They had hardly entered the restaurant when they hear a bunch of men quarrelling outside.

Options :

1. ✘ had hardly entered
2. ✔ they hear
3. ✘ a bunch of men
4. ✘ quarrelling outside

Question Number : 48 Question Id : 627289748 Display Question Number : Yes Single Line Question Option : No Option Orientation : Vertical

In the following sentence, four words or phrases have been underlined. Select the underlined word or phrase that is NOT APPROPRIATE according to standard written UK English.

They had hardly entered the restaurant when they hear a bunch of men quarrelling outside.

Options :

1. ✘ had hardly entered
2. ✔ they hear
3. ✘ a bunch of men
4. ✘ quarrelling outside

Question Number : 49 Question Id : 627289749 Display Question Number : Yes Single Line Question Option : No Option Orientation : Vertical

Select the appropriate synonym for the word from the options below.

DEVOUT

Options :

1. ✘ Clever
2. ✔ Intense
3. ✘ Contrary
4. ✘ Tough

Question Number : 49 Question Id : 627289749 Display Question Number : Yes Single Line Question Option : No Option Orientation : Vertical

Select the appropriate synonym for the word from the options below.

DEVOUT

Options :

1. ✘ Clever
2. ✔ Intense
3. ✘ Contrary
4. ✘ Tough

Question Number : 50 Question Id : 627289750 Display Question Number : Yes Single Line Question Option : No Option Orientation : Vertical

Select the appropriate synonym for the word from the options below.

HAUGHTY

Options :

1. ✘ eager
2. ✘ horrible
3. ✔ arrogant
4. ✘ prompt

Question Number : 50 Question Id : 627289750 Display Question Number : Yes Single Line Question Option : No Option Orientation : Vertical

Select the appropriate synonym for the word from the options below.

HAUGHTY

Options :

1. ✘ eager
2. ✘ horrible
3. ✔ arrogant
4. ✘ prompt

Question Number : 51 Question Id : 627289751 Display Question Number : Yes Single Line Question Option : No Option Orientation : Vertical

Select the appropriate synonym for the word from the options below.

ARDUOUS

Options :

1. ✘ pleasant
2. ✘ effortless
3. ✘ condensed
4. ✔ laborious

Question Number : 51 Question Id : 627289751 Display Question Number : Yes Single Line Question Option : No Option Orientation : Vertical

Select the appropriate synonym for the word from the options below.

ARDUOUS

Options :

1. ✘ pleasant
2. ✘ effortless
3. ✘ condensed
4. ✔ laborious

Question Number : 52 Question Id : 627289752 Display Question Number : Yes Single Line Question Option : No Option Orientation : Vertical

Which word takes the suffix -ity to form a noun? (There may be a change in spelling.)

Options :

1. ✓ real
2. ✗ enter
3. ✗ ignore
4. ✗ motor

Question Number : 52 Question Id : 627289752 Display Question Number : Yes Single Line Question Option : No Option Orientation : Vertical

Which word takes the suffix -ity to form a noun? (There may be a change in spelling.)

Options :

1. ✓ real
2. ✗ enter
3. ✗ ignore
4. ✗ motor

Question Number : 53 Question Id : 627289753 Display Question Number : Yes Single Line Question Option : No Option Orientation : Vertical

Which word takes the suffix -al to form a noun? (There may be a change in spelling.)

Options :

1. ✗ refine
2. ✗ agree
3. ✓ arrive
4. ✗ confine

Question Number : 53 Question Id : 627289753 Display Question Number : Yes Single Line Question Option : No Option Orientation : Vertical

Which word takes the suffix -al to form a noun? (There may be a change in spelling.)

Options :

1. ✗ refine
2. ✗ agree

3. ✓ arrive

4. ✗ confine

Question Number : 54 Question Id : 627289754 Display Question Number : Yes Single Line Question Option : No Option Orientation : Vertical

Which word takes the suffix *-ism* to form a noun? (There may be a change in spelling.)

Options :

1. ✓ hero

2. ✗ avert

3. ✗ tense

4. ✗ please

Question Number : 54 Question Id : 627289754 Display Question Number : Yes Single Line Question Option : No Option Orientation : Vertical

Which word takes the suffix *-ism* to form a noun? (There may be a change in spelling.)

Options :

1. ✓ hero

2. ✗ avert

3. ✗ tense

4. ✗ please

Question Number : 55 Question Id : 627289755 Display Question Number : Yes Single Line Question Option : No Option Orientation : Vertical

Select the appropriate option and fill in the blank.

Due to some unforeseen circumstances I had to _____ my departure for a week.

Options :

1. ✗ put up

2. ✓ put off

3. ✗ put on

4. ✘ put up with

Question Number : 55 Question Id : 627289755 Display Question Number : Yes Single Line Question Option : No Option Orientation : Vertical

Select the appropriate option and fill in the blank.

Due to some unforeseen circumstances I had to _____ my departure for a week.

Options :

1. ✘ put up

2. ✔ put off

3. ✘ put on

4. ✘ put up with

Question Number : 56 Question Id : 627289756 Display Question Number : Yes Single Line Question Option : No Option Orientation : Vertical

'अन्वेषण' शब्द निम्नलिखित में से किस से बना है?

Options :

1. ✔ अनु + एषण

2. ✘ अन्व + एषण

3. ✘ अन + वेषण

4. ✘ अन्वे + षण

Question Number : 56 Question Id : 627289756 Display Question Number : Yes Single Line Question Option : No Option Orientation : Vertical

'अन्वेषण' शब्द निम्नलिखित में से किस से बना है?

Options :

1. ✔ अनु + एषण

2. ✘ अन्व + एषण

3. ✘ अन + वेषण

4. ✘ अन्वे + षण

Question Number : 57 Question Id : 627289757 Display Question Number : Yes Single Line Question Option : No Option Orientation : Vertical

'यथोचित' शब्द में कौन-सा समास है?

Options :

1. ✘ तत्पुरुष

2. ✔ अव्ययीभाव

3. ✘ बहुव्रीहि

4. ✘ कर्मधारय

Question Number : 57 Question Id : 627289757 Display Question Number : Yes Single Line Question Option : No Option Orientation : Vertical

'यथोचित' शब्द में कौन-सा समास है?

Options :

1. ✘ तत्पुरुष

2. ✔ अव्ययीभाव

3. ✘ बहुव्रीहि

4. ✘ कर्मधारय

Question Number : 58 Question Id : 627289758 Display Question Number : Yes Single Line Question Option : No Option Orientation : Vertical

'जो कुछ न जानता हो' वाक्यांश के लिए एक शब्द होगा:

Options :

1. ✘ मंदमति

2. ✔ अज्ञ

3. ✘ अल्पज्ञ

4. ✘ मूर्ख

Question Number : 58 Question Id : 627289758 Display Question Number : Yes Single Line Question Option : No Option Orientation : Vertical

‘जो कुछ न जानता हो’ वाक्यांश के लिए एक शब्द होगा:

Options :

1. ✘ मंदमति
2. ✔ अज्ञ
3. ✘ अल्पज्ञ
4. ✘ मूर्ख

Question Number : 59 Question Id : 627289759 Display Question Number : Yes Single Line Question Option : No Option Orientation : Vertical

‘पृथ्वी’ शब्द का पर्यायवाची नहीं है:

Options :

1. ✘ वसुधा
2. ✔ कानन
3. ✘ अवनि
4. ✘ भूमि

Question Number : 59 Question Id : 627289759 Display Question Number : Yes Single Line Question Option : No Option Orientation : Vertical

‘पृथ्वी’ शब्द का पर्यायवाची नहीं है:

Options :

1. ✘ वसुधा
2. ✔ कानन
3. ✘ अवनि
4. ✘ भूमि

Question Number : 60 Question Id : 627289760 Display Question Number : Yes Single Line Question Option : No Option Orientation : Vertical

निम्नलिखित में से कौन-से शब्द की वर्तनी अशुद्ध है?

Options :

1. ✓ सहस्त्र
2. ✗ उर्वर
3. ✗ स्तुति
4. ✗ स्तोत्र

Question Number : 60 Question Id : 627289760 Display Question Number : Yes Single Line Question Option : No Option Orientation : Vertical

निम्नलिखित में से कौन-से शब्द की वर्तनी अशुद्ध है?

Options :

1. ✓ सहस्त्र
2. ✗ उर्वर
3. ✗ स्तुति
4. ✗ स्तोत्र

Question Number : 61 Question Id : 627289761 Display Question Number : Yes Single Line Question Option : No Option Orientation : Vertical

'पंडित' शब्द का विलोम होता है:

Options :

1. ✗ विद्वान
2. ✓ मूर्ख
3. ✗ जानवान
4. ✗ शिक्षित

Question Number : 61 Question Id : 627289761 Display Question Number : Yes Single Line Question Option : No Option Orientation : Vertical

'पंडित' शब्द का विलोम होता है:

Options :

1. ✘ विद्वान
2. ✔ मूर्ख
3. ✘ ज्ञानवान
4. ✘ शिक्षित

Question Number : 62 Question Id : 627289762 Display Question Number : Yes Single Line Question Option : No Option Orientation : Vertical

निम्नलिखित में से कौन-सा शब्द तत्सम नहीं है?

Options :

1. ✘ विवाह
2. ✘ श्वास
3. ✘ तुरंग
4. ✔ बाप

Question Number : 62 Question Id : 627289762 Display Question Number : Yes Single Line Question Option : No Option Orientation : Vertical

निम्नलिखित में से कौन-सा शब्द तत्सम नहीं है?

Options :

1. ✘ विवाह
2. ✘ श्वास
3. ✘ तुरंग
4. ✔ बाप

Question Number : 63 Question Id : 627289763 Display Question Number : Yes Single Line Question Option : No Option Orientation : Vertical

'हमेशा एक-सा ही रहना' अर्थ के लिए मुहावरा होगा:

Options :

1. ✘ साँच को आँच नहीं

2. ✓ सावन हरे न भादों सूखे

3. ✗ जैसे को तैसा

4. ✗ नौ दो ग्यारह होना

Question Number : 63 Question Id : 627289763 Display Question Number : Yes Single Line Question Option : No Option Orientation : Vertical

'हमेशा एक-सा ही रहना' अर्थ के लिए मुहावरा होगा:

Options :

1. ✗ साँच को आँच नहीं

2. ✓ सावन हरे न भादों सूखे

3. ✗ जैसे को तैसा

4. ✗ नौ दो ग्यारह होना

Question Number : 64 Question Id : 627289764 Display Question Number : Yes Single Line Question Option : No Option Orientation : Vertical

कौन-सा शब्द तद्भव है?

Options :

1. ✗ संदेह

2. ✗ श्राप

3. ✓ चून

4. ✗ नासिका

Question Number : 64 Question Id : 627289764 Display Question Number : Yes Single Line Question Option : No Option Orientation : Vertical

कौन-सा शब्द तद्भव है?

Options :

1. ✗ संदेह

2. ✗ श्राप

3. ✓ चून

4. ✗ नासिका

Question Number : 65 Question Id : 627289765 Display Question Number : Yes Single Line Question Option : No Option Orientation : Vertical

'कनक' शब्द का अर्थ नहीं है:

Options :

1. ✗ सोना

2. ✗ धतूरा

3. ✗ गेहूँ

4. ✓ काँसा

Question Number : 65 Question Id : 627289765 Display Question Number : Yes Single Line Question Option : No Option Orientation : Vertical

'कनक' शब्द का अर्थ नहीं है:

Options :

1. ✗ सोना

2. ✗ धतूरा

3. ✗ गेहूँ

4. ✓ काँसा

Question Number : 66 Question Id : 627289766 Display Question Number : Yes Single Line Question Option : No Option Orientation : Vertical

The sum of the first 10 terms on the sequence series 1, 2, 4, 8, is:

Options :

1. ✗ 1,055

2. ✗ 1,025

3. ✓ 1,023

4. ✗ 1,022

Question Number : 66 Question Id : 627289766 Display Question Number : Yes Single Line Question Option : No Option Orientation : Vertical

अनुक्रम श्रेणी 1, 2, 4, 8, में पहले 10 पदों का योग है:

Options :

1. ✗ 1,055

2. ✗ 1,025

3. ✓ 1,023

4. ✗ 1,022

Question Number : 67 Question Id : 627289767 Display Question Number : Yes Single Line Question Option : No Option Orientation : Vertical

x number of goods of type X are available at price 'A', y number of goods of type Y are available at price 'B' and z number of goods of type Z are available at price C. Then the average price of all goods is:

Options :

1. ✓ $\frac{xA + yB + zC}{x + y + z}$

2. ✗ $\frac{XA + YB + ZC}{x + y + z}$

3. ✗ $\frac{xA + yB + zC}{X + Y + Z}$

4. ✗ $\frac{XA + YB + ZC}{X + Y + Z}$

Question Number : 67 Question Id : 627289767 Display Question Number : Yes Single Line Question Option : No Option Orientation : Vertical

X प्रकार की x वस्तुओं का मूल्य 'A' है, Y प्रकार की y वस्तुओं का मूल्य 'B' है और Z प्रकार की z वस्तुओं का मूल्य 'C' है। सभी वस्तुओं का औसत मूल्य है:

Options :

1. ✓ $\frac{xA + yB + zC}{x + y + z}$

2. ✗ $\frac{XA + YB + ZC}{x + y + z}$

3. ✗ $\frac{xA + yB + zC}{X + Y + Z}$

4. ✗ $\frac{XA + YB + ZC}{X + Y + Z}$

Question Number : 68 Question Id : 627289768 Display Question Number : Yes Single Line Question Option : No Option Orientation : Vertical

A bank offers their customers 10% compound interest per annum in 1st year and 12% compound interest per annum in 2nd year on their deposits as a marketing strategy. If X deposits ₹ 77,500, then the compound interest after 2 years is:

Options :

1. ✗ ₹ 17,970

2. ✗ ₹ 17,960

3. ✓ ₹ 17,980

4. ✗ ₹ 17,950

Question Number : 68 Question Id : 627289768 Display Question Number : Yes Single Line Question Option : No Option Orientation : Vertical

एक बैंक एक विपणन रणनीति के तहत अपने ग्राहकों को उनकी जमा राशि पर पहले वर्ष में 10% वार्षिक चक्रवृद्धि ब्याज और दूसरे वर्ष में 12% वार्षिक चक्रवृद्धि ब्याज देता है। यदि X, ₹ 77,500 जमा करता है तो 2 वर्षों के बाद उसका चक्रवृद्धि ब्याज है:

Options :

1. ✗ ₹ 17,970

2. ✗ ₹ 17,960

3. ✓ ₹ 17,980

4. ✗ ₹ 17,950

Question Number : 69 Question Id : 627289769 Display Question Number : Yes Single Line Question Option : No Option Orientation : Vertical

Petrol price increased by 10% due to world market and then decreased by 10% due to reduction in GST. The net change in the petrol price is:

Options :

1. ✘ 0.5%
2. ✔ 1%
3. ✘ 2%
4. ✘ 0.75%

Question Number : 69 Question Id : 627289769 Display Question Number : Yes Single Line Question Option : No Option Orientation : Vertical

वैश्विक बाज़ार के कारण पेट्रोल के मूल्य में 10% की वृद्धि हो जाती है और फिर जीएसटी के कारण 10% की कमी हो जाती है। पेट्रोल के मूल्य में शुद्ध परिवर्तन है:

Options :

1. ✘ 0.5%
2. ✔ 1%
3. ✘ 2%
4. ✘ 0.75%

Question Number : 70 Question Id : 627289770 Display Question Number : Yes Single Line Question Option : No Option Orientation : Vertical

ABCD is a rectangle in which side AB is 5 cm more than side BC. If the area is 50 cm^2 , then the length of side AB is:

Options :

1. ✘ 15 cm
2. ✔ 10 cm
3. ✘ 11 cm
4. ✘ 12 cm

Question Number : 70 Question Id : 627289770 Display Question Number : Yes Single Line Question Option : No Option Orientation : Vertical

ABCD एक चतुर्भुज है जिसमें भुजा AB भुजा BC से 5 सेमी अधिक है। यदि क्षेत्रफल 50 सेमी² है, तो भुजा AB की लंबाई है:

Options :

1. ✘ 15 सेमी
2. ✔ 10 सेमी
3. ✘ 11 सेमी
4. ✘ 12 सेमी

Question Number : 71 Question Id : 627289771 Display Question Number : Yes Single Line Question Option : No Option Orientation : Vertical

X, Y, Z are three types of articles whose prices are ₹ 300, ₹ 180 and ₹ 120 respectively. Ram purchased each type of articles in the ratio 3 : 2 : 3 for ₹ 6,480. The number of articles of type Y purchased is:

Options :

1. ✘ 5
2. ✘ 6
3. ✘ 7
4. ✔ 8

Question Number : 71 Question Id : 627289771 Display Question Number : Yes Single Line Question Option : No Option Orientation : Vertical

X, Y, Z वस्तुओं के तीन प्रकार हैं जिनका मूल्य क्रमशः ₹ 300, ₹ 180 और ₹ 120 है। राम इन तीनों प्रकार की वस्तुओं को 3 : 2 : 3 अनुपात में ₹ 6,480 में खरीदता है। उसके द्वारा खरीदी गई Y प्रकार की वस्तुओं की संख्या है:

Options :

1. ✘ 5
2. ✘ 6
3. ✘ 7
4. ✔ 8

Question Number : 72 Question Id : 627289772 Display Question Number : Yes Single Line Question Option : No Option Orientation : Vertical

Mr X walks from A to B and Mr Y walks for B to A. They pass each other and then finish their journeys in 441 hours and 529 hours respectively. The ratio of X's speed to Y's speed is:

Options :

1. ✘ 63 : 37
2. ✔ 23 : 21
3. ✘ 21 : 23
4. ✘ 37 : 63

Question Number : 72 Question Id : 627289772 Display Question Number : Yes Single Line Question Option : No Option Orientation : Vertical

श्री. X, A से B की ओर तथा श्री. Y, B से A की ओर चलते हैं। वे एक दूसरे को पार करते हैं और क्रमशः 441 घंटे और 529 घंटे में अपनी यात्रा समाप्त करते हैं। X की चाल का Y की चाल से अनुपात है:

Options :

1. ✘ 63 : 37
2. ✔ 23 : 21
3. ✘ 21 : 23
4. ✘ 37 : 63

Question Number : 73 Question Id : 627289773 Display Question Number : Yes Single Line Question Option : No Option Orientation : Vertical

Working 10 hours a day, 20 identical fields can be ploughed by 10 tractors in 3 days. The number of days required for 30 tractors working for 8 hours a day to plough 32 identical fields is:

Options :

1. ✘ 3
2. ✔ 2
3. ✘ 1.5
4. ✘ 2.5

Question Number : 73 Question Id : 627289773 Display Question Number : Yes Single Line Question Option : No Option Orientation : Vertical

10 घंटे प्रतिदिन काम करके 10 ट्रैक्टर एक जैसे 20 खेतों को 3 दिनों में जोत सकते हैं। 30 ट्रैक्टरों द्वारा 8 घंटे प्रतिदिन काम करके वैसे ही 32 खेतों को जोतने के लिए आवश्यक दिन होंगे:

Options :

1. ✘ 3
2. ✔ 2
3. ✘ 1.5
4. ✘ 2.5

Question Number : 74 Question Id : 627289774 Display Question Number : Yes Single Line Question Option : No Option Orientation : Vertical

How many kg of tea worth ₹ 360 per kg must be mixed with 8 kg of tea worth ₹ 420 per kg, so that by selling the mixture at ₹ 440 per kg, there is a gain of 10%?

Options :

1. ✘ 2
2. ✔ 4
3. ✘ 6
4. ✘ 8

Question Number : 74 Question Id : 627289774 Display Question Number : Yes Single Line Question Option : No Option Orientation : Vertical

₹ 420 प्रति किलो मूल्य वाली 8 किलो चाय में ₹ 360 प्रति किलो मूल्य वाली कितने किलो चाय मिलायी जाए कि मिश्रण को ₹ 440 प्रति किलो के मूल्य पर बेचकर 10% लाभ अर्जित हो सके?

Options :

1. ✘ 2
2. ✔ 4
3. ✘ 6
4. ✘ 8

Question Number : 75 Question Id : 627289775 Display Question Number : Yes Single Line Question Option : No Option Orientation : Vertical

Mr X sold an antique for 25% higher than the original price and made a profit of ₹ 2,025. He had purchased this antique from other dealer at 20% discount on the original price. The original price of the antique is:

Options :

1. ✓ ₹ 4,500
2. ✗ ₹ 4,600
3. ✗ ₹ 4,550
4. ✗ ₹ 4,555

Question Number : 75 Question Id : 627289775 Display Question Number : Yes Single Line Question Option : No Option Orientation : Vertical

श्री. X एक वस्तु को उसके वास्तविक मूल्य से 25% अधिक पर बेचते हैं और ₹ 2,025 का लाभ अर्जित करते हैं। यदि उन्होंने इस वस्तु को एक अन्य डीलर से वास्तविक मूल्य पर 20% छूट के बाद खरीदा था, तो वस्तु का वास्तविक मूल्य है:

Options :

1. ✓ ₹ 4,500
2. ✗ ₹ 4,600
3. ✗ ₹ 4,550
4. ✗ ₹ 4,555

Question Number : 76 Question Id : 627289776 Display Question Number : Yes Single Line Question Option : No Option Orientation : Vertical

A block of wood of density $0.6 \times 10^3 \text{ kg/m}^3$ floats in water. The percentage of its volume inside the water is:

Options :

1. ✗ 15
2. ✗ 30
3. ✗ 45
4. ✓ 60

Question Number : 76 Question Id : 627289776 Display Question Number : Yes Single Line Question Option : No Option
Orientation : Vertical

0.6×10^3 किग्रा/मी³ घनत्व का एक लकड़ी का कुंदा पानी में तैरता है। पानी के अंदर इसके आयतन का प्रतिशत होगा:

Options :

1. ✘ 15
2. ✘ 30
3. ✘ 45
4. ✔ 60

Question Number : 77 Question Id : 627289777 Display Question Number : Yes Single Line Question Option : No Option
Orientation : Vertical

An object is thrown vertically downward with a velocity of 2.0 m/s. The distance travelled by it in 4 seconds is (take $g = 10 \text{ m/s}^2$):

Options :

1. ✘ 25 m
2. ✘ 44 m
3. ✘ 72 m
4. ✔ 88 m

Question Number : 77 Question Id : 627289777 Display Question Number : Yes Single Line Question Option : No Option
Orientation : Vertical

एक वस्तु 2.0 मी/से के वेग से उर्ध्वाधर रूप से नीचे की ओर फेंकी जाती है। 4 सेकंड में इसके द्वारा तय की गई दूरी होगी (माना कि $g = 10 \text{ मी/से}^2$):

Options :

1. ✘ 25 मी
2. ✘ 44 मी
3. ✘ 72 मी
4. ✔ 88 मी

Question Number : 78 Question Id : 627289778 Display Question Number : Yes Single Line Question Option : No Option
Orientation : Vertical

An object is placed in front of a concave mirror of focal length 10 cm at a distance of 25 m. The image will form by the mirror at _____

Options :

1. ✘ the focus
2. ✔ a point between the focus and the centre of curvature
3. ✘ the centre of curvature
4. ✘ a point beyond the centre of curvature

Question Number : 78 Question Id : 627289778 Display Question Number : Yes Single Line Question Option : No Option Orientation : Vertical

एक वस्तु 10 सेमी की फोकल लंबाई वाले अवतल दर्पण के सामने 25 मीटर की दूरी पर रखी हुई है। दर्पण द्वारा बनाया गया प्रतिबिंब होगा:

Options :

1. ✘ फोकस पर
2. ✔ फोकस और वक्रता केंद्र के मध्य किसी बिंदु पर
3. ✘ वक्रता केंद्र पर
4. ✘ वक्रता केंद्र से बाहर किसी बिंदु पर

Question Number : 79 Question Id : 627289779 Display Question Number : Yes Single Line Question Option : No Option Orientation : Vertical

A ray of light of wavelength 650 nm (in air) passes from air into a liquid where the velocity of light is 2.4×10^8 m/s. The wavelength of the ray in the liquid is:

Options :

1. ✘ 490 nm
2. ✔ 520 nm
3. ✘ 560 nm
4. ✘ 812.5 nm

Question Number : 79 Question Id : 627289779 Display Question Number : Yes Single Line Question Option : No Option Orientation : Vertical

650 नैनोमीटर (हवा में) तरंग दैर्घ्य वाली प्रकाश की एक किरण हवा में से द्रव में जाती है जहां प्रकाश का वेग 2.4×10^8 मी/से है। द्रव में किरण की तरंग दैर्घ्य होगी:

Options :

1. ✘ 490 नैनोमीटर
2. ✔ 520 नैनोमीटर
3. ✘ 560 नैनोमीटर
4. ✘ 812.5 नैनोमीटर

Question Number : 80 Question Id : 627289780 Display Question Number : Yes Single Line Question Option : No Option Orientation : Vertical

An object is placed 16 cm in front of a concave mirror. The image is formed at a distance of 8 cm. If the object is moved to a distance of 12 cm, the image is formed at a distance of:

Options :

1. ✘ 4.0 cm
2. ✘ 6.2 cm
3. ✔ 9.6 cm
4. ✘ 10.8 cm

Question Number : 80 Question Id : 627289780 Display Question Number : Yes Single Line Question Option : No Option Orientation : Vertical

एक वस्तु अवतल दर्पण के सामने 16 सेमी की दूरी पर रखी हुई है। प्रतिबिंब 8 सेमी की दूरी पर बनता है। यदि वस्तु 12 सेमी दूर कर दी जाए तो प्रतिबिंब इतनी दूरी पर बनेगा:

Options :

1. ✘ 4.0 सेमी
2. ✘ 6.2 सेमी
3. ✔ 9.6 सेमी
4. ✘ 10.8 सेमी

Question Number : 81 Question Id : 627289781 Display Question Number : Yes Single Line Question Option : No Option Orientation : Vertical

Which one of the following oxides gives salt on treatment with NaOH?

Options :

1. ✘ MgO
2. ✔ SO₃
3. ✘ Na₂O
4. ✘ CaO

Question Number : 81 Question Id : 627289781 Display Question Number : Yes Single Line Question Option : No Option Orientation : Vertical

निम्न में से कौन सा ऑक्साइड NaOH से अभिक्रिया करने पर लवण प्रदान करता है?

Options :

1. ✘ MgO
2. ✔ SO₃
3. ✘ Na₂O
4. ✘ CaO

Question Number : 82 Question Id : 627289782 Display Question Number : Yes Single Line Question Option : No Option Orientation : Vertical

What is total number of structural isomers shown by Butane?

Options :

1. ✔ 2
2. ✘ 3
3. ✘ Zero
4. ✘ 5

Question Number : 82 Question Id : 627289782 Display Question Number : Yes Single Line Question Option : No Option Orientation : Vertical

ब्यूटेन द्वारा दर्शाए गए संरचनात्मक समावयवों की कुल संख्या कितनी होती है?

Options :

1. ✔ 2

2. ✘ 3

3. ✘ शून्य

4. ✘ 5

Question Number : 83 Question Id : 627289783 Display Question Number : Yes Single Line Question Option : No Option Orientation : Vertical

Which one of the following represents the mass of half mole of Magnesium atoms?

Options :

1. ✘ 1.2 grams

2. ✔ 12 grams

3. ✘ 24 grams

4. ✘ 2.4 grams

Question Number : 83 Question Id : 627289783 Display Question Number : Yes Single Line Question Option : No Option Orientation : Vertical

निम्न में से कौन सा विकल्प मैग्नीशियम परमाणु के आधे मोल का द्रव्यमान दर्शाता है?

Options :

1. ✘ 1.2 ग्राम

2. ✔ 12 ग्राम

3. ✘ 24 ग्राम

4. ✘ 2.4 ग्राम

Question Number : 84 Question Id : 627289784 Display Question Number : Yes Single Line Question Option : No Option Orientation : Vertical

The formula – CONH_2 represents which one of the following functional groups?

Options :

1. ✘ Amine

2. ✔ Amide

3. ✘ Isocyanide

4. ✘ Ester

Question Number : 84 Question Id : 627289784 Display Question Number : Yes Single Line Question Option : No Option Orientation : Vertical

सूत्र $-CONH_2$ निम्नलिखित में से किस क्रियात्मक समूह को दर्शाता है?

Options :

1. ✘ एमीन

2. ✔ एमाइड

3. ✘ आइसोसाइनाइड

4. ✘ एस्टर

Question Number : 85 Question Id : 627289785 Display Question Number : Yes Single Line Question Option : No Option Orientation : Vertical

Which gas is released when ethanol is treated with sodium metal?

Options :

1. ✘ Propane

2. ✘ Methane

3. ✔ Hydrogen

4. ✘ Ethane

Question Number : 85 Question Id : 627289785 Display Question Number : Yes Single Line Question Option : No Option Orientation : Vertical

जब सोडियम धातु के साथ इथेनॉल की अभिक्रिया कराते हैं तो कौन सी गैस निकलती है?

Options :

1. ✘ प्रोपेन

2. ✘ मीथेन

3. ✔ हाइड्रोजन

4. ✘ ईथेन

Question Number : 86 Question Id : 627289786 Display Question Number : Yes Single Line Question Option : No Option Orientation : Vertical

Which of the following Indian musicians has been awarded both Padma Bhushan and Padma Vibhushan awards?

Options :

1. ✘ Zakir Hussain
2. ✘ Jayashri Ramnath
3. ✔ Hariprasad Chaurasia
4. ✘ Annapurna Ravi Shankar

Question Number : 86 Question Id : 627289786 Display Question Number : Yes Single Line Question Option : No Option Orientation : Vertical

निम्नलिखित में से किस भारतीय संगीतकार को पद्म भूषण और पद्म विभूषण दोनों पुरस्कारों से सम्मानित किया गया है?

Options :

1. ✘ ज़ाकिर हुसैन
2. ✘ जयश्री रामनाथ
3. ✔ हरिप्रसाद चौरसिया
4. ✘ अन्नपूर्णा रवि शंकर

Question Number : 87 Question Id : 627289787 Display Question Number : Yes Single Line Question Option : No Option Orientation : Vertical

During the Indian freedom struggle, who had first raised the slogan, "Freedom is my birthright and I shall have it!" to urge people to fight for Swaraj?

Options :

1. ✘ Subhas Chandra Bose
2. ✔ Bal Gangadhar Tilak
3. ✘ Gopal Krishna Gokhale
4. ✘ Bhagat Singh

Question Number : 87 Question Id : 627289787 Display Question Number : Yes Single Line Question Option : No Option Orientation : Vertical

भारतीय स्वतंत्रता संग्राम के दौरान, लोगों को स्वराज के लिए संघर्ष करने हेतु प्रेरित करते हुए सर्वप्रथम किसने यह नारा दिया था, "स्वराज मेरा जन्मसिद्ध अधिकार है और मैं इसे लेकर रहूंगा"?

Options :

1. ✘ सुभाष चंद्र बोस
2. ✔ बाल गंगाधर तिलक
3. ✘ गोपाल कृष्ण गोखले
4. ✘ भगत सिंह

Question Number : 88 Question Id : 627289788 Display Question Number : Yes Single Line Question Option : No Option Orientation : Vertical

Through which of the following states does river Narmada **NOT** flow?

Options :

1. ✘ Madhya Pradesh
2. ✘ Maharashtra
3. ✘ Gujarat
4. ✔ West Bengal

Question Number : 88 Question Id : 627289788 Display Question Number : Yes Single Line Question Option : No Option Orientation : Vertical

निम्नलिखित में से किस राज्य से होकर नर्मदा नदी नहीं बहती है?

Options :

1. ✘ मध्य प्रदेश
2. ✘ महाराष्ट्र
3. ✘ गुजरात
4. ✔ पश्चिम बंगाल

Question Number : 89 Question Id : 627289789 Display Question Number : Yes Single Line Question Option : No Option Orientation : Vertical

Which of the following has been set up to attract Corporate Social Responsibility (CSR) funds from Corporate Sector and contributions from individuals and philanthropists in response to the call given by Prime Minister on 15th August, 2014, to achieve the objective of Clean India (Swachh Bharat) by the year 2019?

Options :

1. ✘ Swachh Bharat Samajik Sansthan
2. ✔ Swachh Bharat Kosh
3. ✘ Swachh Bharat Corporate Bank
4. ✘ Swachh Bharat Parishad

Question Number : 89 Question Id : 627289789 Display Question Number : Yes Single Line Question Option : No Option Orientation : Vertical

वर्ष 2019 तक स्वच्छ भारत के उद्देश्य को प्राप्त करने हेतु प्रधानमंत्री द्वारा 15 अगस्त 2014 को किए गए आह्वान के बाद, कॉर्पोरेट क्षेत्र से कॉर्पोरेट सामाजिक उत्तरदायित्व (सीएसआर) फंड्स और व्यक्तियों व समाजसेवियों से योगदान प्राप्त करने हेतु निम्न में से किसकी स्थापना की गई है?

Options :

1. ✘ स्वच्छ भारत सामाजिक संस्थान
2. ✔ स्वच्छ भारत कोष
3. ✘ स्वच्छ भारत कॉर्पोरेट बैंक
4. ✘ स्वच्छ भारत परिषद्

Question Number : 90 Question Id : 627289790 Display Question Number : Yes Single Line Question Option : No Option Orientation : Vertical

As prescribed by the Constitution of India and the Supreme Court (Number of Judges) Amendment Act, 2008 (11 of 2009), there shall be a Supreme Court of India consisting of a Chief Justice of India and, until Parliament by law prescribes a larger number, of not more than _____ other judges.

Options :

1. ✘ Twenty
2. ✘ Seven
3. ✘ Twenty-Five

4. ✓ Thirty

Question Number : 90 Question Id : 627289790 Display Question Number : Yes Single Line Question Option : No Option Orientation : Vertical

भारत के संविधान और उच्चतम न्यायालय (न्यायाधीशों की संख्या) संशोधन अधिनियम 2008 (2009 के 11) के अनुसार भारत के उच्चतम न्यायालय में एक मुख्य न्यायाधीश और संसद द्वारा कानूनी तौर पर इससे बड़ी संख्या निर्धारित करने तक अधिकतम _____ अन्य न्यायाधीश होंगे।

Options :

1. ✗ बीस
2. ✗ सात
3. ✗ पच्चीस
4. ✓ तीस

Question Number : 91 Question Id : 627289791 Display Question Number : Yes Single Line Question Option : No Option Orientation : Vertical

Which of the following physicist is well known for his work on cathode rays?

Options :

1. ✓ Philipp Lenard
2. ✗ Brian P. Schmidt
3. ✗ James Franck
4. ✗ C. V. Raman

Question Number : 91 Question Id : 627289791 Display Question Number : Yes Single Line Question Option : No Option Orientation : Vertical

निम्नलिखित में से किस भौतिक वैज्ञानिक को कैथोड किरणों पर उनके काम के लिए जाना जाता है?

Options :

1. ✓ फिलिप लेनार्ड
2. ✗ ब्रायन पी. शिम्ट
3. ✗ जेम्स फ्रैंक

4. ✘ सी. वी. रमन

Question Number : 92 Question Id : 627289792 Display Question Number : Yes Single Line Question Option : No Option Orientation : Vertical

From which of the following countries is the Foreign Language Film category winner of the 89th Oscars 2017?

Options :

1. ✔ Iran

2. ✘ Germany

3. ✘ Australia

4. ✘ India

Question Number : 92 Question Id : 627289792 Display Question Number : Yes Single Line Question Option : No Option Orientation : Vertical

निम्नलिखित में से किस देश की फ़िल्म 2017 के 89वें ऑस्कर पुरस्कारों में 'विदेशी भाषा की फ़िल्म' की श्रेणी की विजेता है?

Options :

1. ✔ ईरान

2. ✘ जर्मनी

3. ✘ ऑस्ट्रेलिया

4. ✘ भारत

Question Number : 93 Question Id : 627289793 Display Question Number : Yes Single Line Question Option : No Option Orientation : Vertical

Ramesh Krishnan is a former professional _____ player from India.

Options :

1. ✘ Kabaddi

2. ✔ Lawn Tennis

3. ✘ Football

4. ✘ Hockey

Question Number : 93 Question Id : 627289793 Display Question Number : Yes Single Line Question Option : No Option Orientation : Vertical

रमेश कृष्णन भारत के पूर्व पेशेवर _____ खिलाड़ी हैं।

Options :

1. ✘ कबड्डी
2. ✔ लॉन टेनिस
3. ✘ फुटबॉल
4. ✘ हॉकी

Question Number : 94 Question Id : 627289794 Display Question Number : Yes Single Line Question Option : No Option Orientation : Vertical

In 2017, which of the following disease outbreaks was reported in India by WHO?

Options :

1. ✘ Yellow fever
2. ✘ Small pox
3. ✔ Zika virus infection
4. ✘ Lassa fever

Question Number : 94 Question Id : 627289794 Display Question Number : Yes Single Line Question Option : No Option Orientation : Vertical

2017 में, विश्व स्वास्थ्य संगठन ने भारत में निम्नलिखित में से किस बीमारी के प्रकोप की रिपोर्ट दी थी?

Options :

1. ✘ पीत ज्वर (येलो फीवर)
2. ✘ चेचक (स्माल पॉक्स)
3. ✔ ज़िका वायरस संक्रमण
4. ✘ लासा बुखार

Question Number : 95 Question Id : 627289795 Display Question Number : Yes Single Line Question Option : No Option Orientation : Vertical

Which Indian state is associated with the origin of the classical dance form of Sattriya?

Options :

1. ✘ Uttar Pradesh
2. ✘ West Bengal
3. ✘ Andhra Pradesh
4. ✔ Assam

Question Number : 95 Question Id : 627289795 Display Question Number : Yes Single Line Question Option : No Option Orientation : Vertical

कौन सा भारतीय राज्य शास्त्रीय नृत्य सत्रिया की उत्पत्ति से सम्बन्धित है?

Options :

1. ✘ उत्तर प्रदेश
2. ✘ पश्चिम बंगाल
3. ✘ आंध्र प्रदेश
4. ✔ असम

Question Number : 96 Question Id : 627289796 Display Question Number : Yes Single Line Question Option : No Option Orientation : Vertical

If POINT is coded as 75362 and ACCEPT is coded as 899172, then how would you encode CONCEPT?

Options :

1. ✘ 9561972
2. ✔ 9569172
3. ✘ 9659172
4. ✘ 9652972

Question Number : 96 Question Id : 627289796 Display Question Number : Yes Single Line Question Option : No Option Orientation : Vertical

यदि POINT को 75362 और ACCEPT को 899172 के रूप में कोड किया जाता है तो आप CONCEPT को कैसे कोड करेंगे?

Options :

1. ✘ 9561972
2. ✔ 9569172
3. ✘ 9659172
4. ✘ 9652972

Question Number : 97 Question Id : 627289797 Display Question Number : Yes Single Line Question Option : No Option Orientation : Vertical

Complete the analogy.

CD : ___ :: AB : 12

Options :

1. ✘ 13
2. ✘ 31
3. ✔ 34
4. ✘ 43

Question Number : 97 Question Id : 627289797 Display Question Number : Yes Single Line Question Option : No Option Orientation : Vertical

सादृश्य को पूरा करें।

CD : _____ :: AB : 12

Options :

1. ✘ 13
2. ✘ 31
3. ✔ 34
4. ✘ 43

Question Number : 98 Question Id : 627289798 Display Question Number : Yes Single Line Question Option : No Option Orientation : Vertical

Select from the options the word that has a similar meaning as that of the words on the right and left side of the brackets.

CHALICE () BEAKER

Options :

1. ✓ CUP
2. ✗ JUG
3. ✗ MUG
4. ✗ PIPE

Question Number : 98 Question Id : 627289798 Display Question Number : Yes Single Line Question Option : No Option Orientation : Vertical

विकल्पों में से उस शब्द का चयन करें जिसका अर्थ कोष्ठक के दाहिने और बाएँ शब्दों के अर्थ के समान हो।

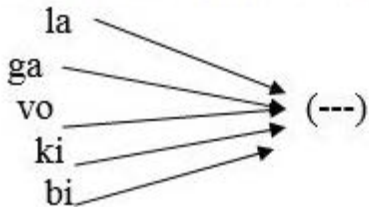
CHALICE () BEAKER

Options :

1. ✓ CUP
2. ✗ JUG
3. ✗ MUG
4. ✗ PIPE

Question Number : 99 Question Id : 627289799 Display Question Number : Yes Single Line Question Option : No Option Orientation : Vertical

Select the word which can have any of the letters appended to it as a prefix to make an English word.



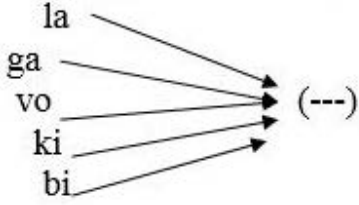
Options :

1. ✗ CE
2. ✗ KE
3. ✗ ID

4. ✓ TE

Question Number : 99 Question Id : 627289799 Display Question Number : Yes Single Line Question Option : No Option Orientation : Vertical

उस शब्द का चयन करें जिसमें उपसर्ग के रूप में संलग्न करने पर नीचे दिया गया प्रत्येक अक्षर-युग्म एक अंग्रेज़ी शब्द बनाए।



Options :

1. ✗ CE

2. ✗ KE

3. ✗ ID

4. ✓ TE

Question Number : 100 Question Id : 627289800 Display Question Number : Yes Single Line Question Option : No Option Orientation : Vertical

Select the missing number in the series.

68, 67, 64, 59, 52, 43, _____

Options :

1. ✓ 32

2. ✗ 34

3. ✗ 39

4. ✗ 42

Question Number : 100 Question Id : 627289800 Display Question Number : Yes Single Line Question Option : No Option Orientation : Vertical

श्रृंखला में अनुपस्थित संख्या का चयन करें।

68, 67, 64, 59, 52, 43, _____

Options :

1. ✓ 32

2. ✖ 34

3. ✖ 39

4. ✖ 42