



## Haryana Staff Selection Commission

**Notations :**

1. Options shown in **green** color and with  icon are correct.
2. Options shown in **red** color and with  icon are incorrect.

<b>Subject Name:</b>	CAT 5 Junior Scale Stenographer Hindi CBT Exam
<b>Total Marks:</b>	200
<b>Display Marks:</b>	Yes
<b>Calculator:</b>	None
<b>Magnifying Glass Required?:</b>	No
<b>Ruler Required?:</b>	No
<b>Eraser Required?:</b>	No
<b>Scratch Pad Required?:</b>	No
<b>Rough Sketch/Notepad Required?:</b>	No
<b>Protractor Required?:</b>	No

CAT 5 Junior Scale Stenographer Hindi CBT Exam

**Group Marks:** 200





CAT 5 Junior Scale Stenographer Hindi CBT Exam

<b>Section Marks:</b>	200
<b>Display Number Panel:</b>	Yes
<b>Group All Questions:</b>	No

**Question Number : 1 Question Id : 168000401 Display Question Number : Yes Single Line Question Option : No Option Orientation : Vertical**

Which of the following sites has yielded the evidence of overlap between the Late-Harappans and the Painted Grey Ware Culture in Haryana?

**Options :**

1.  Bhagwanpura
2.  Daulatpur
3.  Panipat
4.  Pehowa

Question Number : 1 Question Id : 168000401 Display Question Number : Yes Single Line Question Option : No Option Orientation : Vertical

हरियाणा में निम्नलिखित में से किस स्थान पर उत्तरार्ध हड़प्पा युग और चित्रित धूसर मृदभांड संस्कृति के बीच परस्पर सम्बन्ध होने का प्रमाण मिला है?

Options :

1. ✓ भगवानपुरा
2. ✗ दौलतपुर
3. ✗ पानीपत
4. ✗ पेहोवा

Question Number : 2 Question Id : 168000402 Display Question Number : Yes Single Line Question Option : No Option Orientation : Vertical

Divodasa was the chieftain of:

Options :

1. ✓ Bharatas
2. ✗ Purus
3. ✗ Turvasus
4. ✗ Yadus

Question Number : 2 Question Id : 168000402 Display Question Number : Yes Single Line Question Option : No Option Orientation : Vertical

दिवोदास किसका मुखिया था?

Options :

1. ✓ भरत वर्ग
2. ✗ पुरु वर्ग
3. ✗ तुर्वास वर्ग
4. ✗ यदु वर्ग

Question Number : 3 Question Id : 168000403 Display Question Number : Yes Single Line Question Option : No Option Orientation : Vertical

The *Kurus* were an amalgamation of:

Options :

1. ✓ Bharatas and Purus
2. ✗ Bharatas and Yadus
3. ✗ Purus and Paravatas
4. ✗ Purus and Panis

Question Number : 3 Question Id : 168000403 Display Question Number : Yes Single Line Question Option : No Option Orientation : Vertical

कुरु वर्ग किनका समामेलन था?

Options :

1. ✓ भरतों और पुरुओं का
2. ✗ भरतों और यदुओं का
3. ✗ पुरुओं और परवतों का
4. ✗ पुरुओं और पणिओं का

Question Number : 4 Question Id : 168000404 Display Question Number : Yes Single Line Question Option : No Option Orientation : Vertical

The battle between Sudasa and a confederacy of ten kings took place on the bank of which of the following river?

Options :

1. ✗ Asikini
2. ✓ Parushni
3. ✗ Vitasta
4. ✗ Sutudri

Question Number : 4 Question Id : 168000404 Display Question Number : Yes Single Line Question Option : No Option Orientation : Vertical

सुदास और दस राजाओं के संघ के बीच युद्ध निम्नलिखित में से किस नदी के तट पर हुआ था?

Options :

1. ✘ असिकिनी
2. ✔ पारूशनी
3. ✘ वितस्ता
4. ✘ सुतुद्री

Question Number : 5 Question Id : 168000405 Display Question Number : Yes Single Line Question Option : No Option Orientation : Vertical

The Haryana Government has signed a memorandum of understanding (MoU) with the \_\_\_\_\_ Government to prepare a citizen database.

Options :

1. ✘ Jammu and Kashmir
2. ✔ Andhra Pradesh
3. ✘ Uttar Pradesh
4. ✘ Telangana

Question Number : 5 Question Id : 168000405 Display Question Number : Yes Single Line Question Option : No Option Orientation : Vertical

हरियाणा सरकार ने एक नागरिक आंकड़ा कोष (डेटाबेस) तैयार करने के लिए \_\_\_\_\_ सरकार के साथ एक समझौता ज्ञापन (एमओयू) पर हस्ताक्षर किए हैं।

Options :

1. ✘ जम्मू और कश्मीर
2. ✔ आंध्र प्रदेश
3. ✘ उत्तर प्रदेश
4. ✘ तेलंगाना

Question Number : 6 Question Id : 168000406 Display Question Number : Yes Single Line Question Option : No Option Orientation : Vertical

Haryana's effort to curb gender inequality is reflected by the slogan \_\_\_\_\_.

Options :

1. ✘ Ek Haryana, Shresth Haryana
2. ✘ Haryana Ek, Haryanvi Ek
3. ✔ Beti Bachao, Beti Padhao
4. ✘ Acche Din Aane wale hain

Question Number : 6 Question Id : 168000406 Display Question Number : Yes Single Line Question Option : No Option Orientation : Vertical

हरियाणा में लैंगिक असमानता को रोकने का प्रयास किस नारे के द्वारा परिलक्षित किया गया है?

Options :

1. ✘ एक हरियाणा, श्रेष्ठ हरियाणा
2. ✘ हरियाणा एक, हरियाणवी एक
3. ✔ बेटी बचाओ, बेटी पढ़ाओ
4. ✘ अच्छे दिन आने वाले हैं

Question Number : 7 Question Id : 168000407 Display Question Number : Yes Single Line Question Option : No Option Orientation : Vertical

The e-kharid portal for procurement of paddy was launched in the \_\_\_\_\_ district of Haryana.

Options :

1. ✔ Karnal
2. ✘ Sonipat
3. ✘ Kurukshetra
4. ✘ Faridabad

Question Number : 7 Question Id : 168000407 Display Question Number : Yes Single Line Question Option : No Option Orientation : Vertical

हरियाणा के \_\_\_\_\_ ज़िले में धान की खरीद के लिए ई-खरीद पोर्टल शुरू किया गया था।

Options :

1. ✔ करनाल

2. ✘ सोनीपत

3. ✘ कुरुक्षेत्र

4. ✘ फ़रीदाबाद

Question Number : 8 Question Id : 168000408 Display Question Number : Yes Single Line Question Option : No Option Orientation : Vertical

Who among the following is the current Finance Minister of Haryana (as of September 2017)?

Options :

1. ✘ Ram Bilas Sharma

2. ✔ Captain Abhimanyu

3. ✘ Anil Vij

4. ✘ Om Prakash Dhankar

Question Number : 8 Question Id : 168000408 Display Question Number : Yes Single Line Question Option : No Option Orientation : Vertical

निम्नलिखित में से कौन हरियाणा के वर्तमान (सितम्बर 2017 तक) वित्त मंत्री है?

Options :

1. ✘ राम बिलास शर्मा

2. ✔ कैप्टन अभिमन्यु

3. ✘ अनिल विज

4. ✘ ओम प्रकाश धनकर

Question Number : 9 Question Id : 168000409 Display Question Number : Yes Single Line Question Option : No Option Orientation : Vertical

As per legend, the Hindu epic Mahabharata was narrated by Ved Vyasa and written by:

Options :

1. ✘ Narada

2. ✔ Lord Ganesha

3. ✘ Sanjay

4. ✘ Bhrigu

Question Number : 9 Question Id : 168000409 Display Question Number : Yes Single Line Question Option : No Option Orientation : Vertical

पौराणिक कथा के अनुसार, हिंदू महाकाव्य महाभारत वेद व्यास द्वारा सुनाया गया था और उसे इन्होंने लिखा था:

Options :

1. ✘ नारद

2. ✔ भगवान गणेश

3. ✘ संजय

4. ✘ भृगु

Question Number : 10 Question Id : 168000410 Display Question Number : Yes Single Line Question Option : No Option Orientation : Vertical

Which one of the following novels has **NOT** been written by Kashmiri Lal Zakir?

Options :

1. ✘ Ab Mujhe Sone Do

2. ✘ Agni Pariksha

3. ✔ Jhadufiri

4. ✘ Samundar Ab Khamosh Hai

Question Number : 10 Question Id : 168000410 Display Question Number : Yes Single Line Question Option : No Option Orientation : Vertical

निम्नलिखित में से कौन सा उपन्यास कश्मीरी लाल ज़ाकिर ने नहीं लिखा है?

Options :

1. ✘ अब मुझे सोने दो

2. ✘ अग्नि परीक्षा

3. ✔ झाड़ूफिरी

4. ✘ समुंदर अब खामोश है

Question Number : 11 Question Id : 168000411 Display Question Number : Yes Single Line Question Option : No Option Orientation : Vertical

Name the freedom fighter who started weekly newspaper 'Sandesh' from Bhiwani during India's freedom movement?

Options :

1. ✔ Pt. Neki Ram Sharma
2. ✘ Mehar Singh
3. ✘ Khushi Ram Sharma
4. ✘ Pt. Mange Ram

Question Number : 11 Question Id : 168000411 Display Question Number : Yes Single Line Question Option : No Option Orientation : Vertical

भारतीय स्वतंत्रता आंदोलन के दौरान भिवानी से साप्ताहिक समाचार पत्र 'संदेश' शुरू करने वाले स्वतंत्रता सेनानी का नाम बताइए?

Options :

1. ✔ पं. नेकी राम शर्मा
2. ✘ मेहर सिंह
3. ✘ खुशी राम शर्मा
4. ✘ पं. मांगे राम

Question Number : 12 Question Id : 168000412 Display Question Number : Yes Single Line Question Option : No Option Orientation : Vertical

What is the main breed of buffalo found in Haryana?

Options :

1. ✘ Sahiwal
2. ✘ Mehsana
3. ✔ Murrah
4. ✘ Bhadawari



Question Number : 12 Question Id : 168000412 Display Question Number : Yes Single Line Question Option : No Option Orientation : Vertical

हरियाणा में पाई जाने वाली भैंस की मुख्य प्रजाति कौन सी है?

Options :

1. ✘ साहीवाल
2. ✘ मेहसाणा
3. ✔ मुरी
4. ✘ भदावरी

Question Number : 13 Question Id : 168000413 Display Question Number : Yes Single Line Question Option : No Option Orientation : Vertical

Almost \_\_\_\_\_ of the total area of Haryana falls in the National Capital Region.

Options :

1. ✔ 1/3
2. ✘ 1/4
3. ✘ 1/5
4. ✘ 1/6

Question Number : 13 Question Id : 168000413 Display Question Number : Yes Single Line Question Option : No Option Orientation : Vertical

हरियाणा के कुल क्षेत्रफल का लगभग \_\_\_\_\_ राष्ट्रीय राजधानी क्षेत्र में आता है।

Options :

1. ✔ 1/3
2. ✘ 1/4
3. ✘ 1/5
4. ✘ 1/6

Question Number : 14 Question Id : 168000414 Display Question Number : Yes Single Line Question Option : No Option Orientation : Vertical

According to the 2011 census, the literacy rate of Haryana is:

Options :

1. ✘ 72.4%

2. ✔ 76.6%

3. ✘ 78.5%

4. ✘ 79.2%

Question Number : 14 Question Id : 168000414 Display Question Number : Yes Single Line Question Option : No Option Orientation : Vertical

2011 की जनगणना के अनुसार, हरियाणा का साक्षरता दर है:

Options :

1. ✘ 72.4%

2. ✔ 76.6%

3. ✘ 78.5%

4. ✘ 79.2%

Question Number : 15 Question Id : 168000415 Display Question Number : Yes Single Line Question Option : No Option Orientation : Vertical

When did the British merge Haryana with Punjab?

Options :

1. ✘ 1854

2. ✔ 1858

3. ✘ 1862

4. ✘ 1865

Question Number : 15 Question Id : 168000415 Display Question Number : Yes Single Line Question Option : No Option Orientation : Vertical

अंग्रेजों ने हरियाणा को पंजाब में कब मिलाया था?

Options :

1. ✘ 1854

2. ✔ 1858

3. ✘ 1862

4. ✘ 1865

Question Number : 16 Question Id : 168000416 Display Question Number : Yes Single Line Question Option : No Option Orientation : Vertical

When was the President's rule first imposed in Haryana?

Options :

1. ✘ 1962

2. ✘ 1964

3. ✔ 1967

4. ✘ 1969

Question Number : 16 Question Id : 168000416 Display Question Number : Yes Single Line Question Option : No Option Orientation : Vertical

हरियाणा में पहली बार राष्ट्रपति शासन कब लगाया गया था?

Options :

1. ✘ 1962

2. ✘ 1964

3. ✔ 1967

4. ✘ 1969

Question Number : 17 Question Id : 168000417 Display Question Number : Yes Single Line Question Option : No Option Orientation : Vertical

Which of the following two cities are included under the Smart City Project?

Options :

1. ✘ Ambala and Faridabad

2. ✔ Karnal and Faridabad

3. ✘ Karnal and Gurugram

4. ✘ Kurukshetra and Faridabad

Question Number : 17 Question Id : 168000417 Display Question Number : Yes Single Line Question Option : No Option Orientation : Vertical

निम्नलिखित में से कौन से दो शहरों को स्मार्ट सिटी परियोजना के अंतर्गत शामिल किया गया है?

Options :

1. ✘ अंबाला और फ़रीदाबाद
2. ✔ करनाल और फ़रीदाबाद
3. ✘ करनाल और गुरुग्राम
4. ✘ कुरुक्षेत्र और फ़रीदाबाद

Question Number : 18 Question Id : 168000418 Display Question Number : Yes Single Line Question Option : No Option Orientation : Vertical

Which one of the following sectors is **NOT** covered under the Rashtriya Krishi Vikas Yojana?

Options :

1. ✔ Wild life sanctuaries
2. ✘ Animal husbandry, dairy development, and fisheries
3. ✘ Crop husbandry (including horticulture)
4. ✘ Agricultural marketing

Question Number : 18 Question Id : 168000418 Display Question Number : Yes Single Line Question Option : No Option Orientation : Vertical

निम्नलिखित में से कौन सा क्षेत्र राष्ट्रीय कृषि विकास योजना के अंतर्गत शामिल नहीं किया गया है?

Options :

1. ✔ वन्य जीव अभयारण्य
2. ✘ पशुपालन, डेयरी विकास और मत्स्य पालन
3. ✘ फसल कृषि-व्यवस्था (बागवानी सहित)
4. ✘ कृषि विपणन

Question Number : 19 Question Id : 168000419 Display Question Number : Yes Single Line Question Option : No Option Orientation : Vertical

According to IMD's Rainfall Statistics of India-2015 report, the annual observed rainfall received in Haryana was \_\_\_\_\_.

Options :

1. ✓ 426.8 mm
2. ✗ 512.6 mm
3. ✗ 596.7 mm
4. ✗ 817.1 mm

Question Number : 19 Question Id : 168000419 Display Question Number : Yes Single Line Question Option : No Option Orientation : Vertical

भारत में आईएमडी के वर्षा सम्बन्धी आंकड़ों की वर्ष 2015 की रिपोर्ट के अनुसार, हरियाणा में वर्ष भर में \_\_\_\_\_ बारिश हुई थी।

Options :

1. ✓ 426.8 मिमी
2. ✗ 512.6 मिमी
3. ✗ 596.7 मिमी
4. ✗ 817.1 मिमी

Question Number : 20 Question Id : 168000420 Display Question Number : Yes Single Line Question Option : No Option Orientation : Vertical

As per census 2011, the least populous district among the following in Haryana is \_\_\_\_\_.

Options :

1. ✓ Panchkula
2. ✗ Rewari
3. ✗ Mahendragarh
4. ✗ Fatehabad

Question Number : 20 Question Id : 168000420 Display Question Number : Yes Single Line Question Option : No Option Orientation : Vertical

2011 की जनगणना के अनुसार, हरियाणा में निम्नतम आबादी वाला ज़िला \_\_\_\_\_ है।

Options :

1. ✓ पंचकुला
2. ✘ रेवाड़ी
3. ✘ महेंद्रगढ़
4. ✘ फतेहाबाद

Question Number : 21 Question Id : 168000421 Display Question Number : Yes Single Line Question Option : No Option Orientation : Vertical

The Herbal Nature Park situated in Chuaharpur Reserved Forest is dedicated to the popular political leader \_\_\_\_\_.

Options :

1. ✓ Devi Lal
2. ✘ Om Prakash Chautala
3. ✘ Bansi Lal
4. ✘ Bhagwat Dayal Sharma

Question Number : 21 Question Id : 168000421 Display Question Number : Yes Single Line Question Option : No Option Orientation : Vertical

चुहारपुर आरक्षित वन में स्थित हर्बल प्राकृतिक पार्क लोकप्रिय राजनीतिक नेता \_\_\_\_\_ को समर्पित है।

Options :

1. ✓ देवी लाल
2. ✘ ओम प्रकाश चौटाला
3. ✘ बंसी लाल
4. ✘ भगवत दयाल शर्मा

Question Number : 22 Question Id : 168000422 Display Question Number : Yes Single Line Question Option : No Option Orientation : Vertical

Which of the following places has been described as Dharamkshetra i.e 'Region of righteousness' in the very first verse of Bhagwad-Gita?

Options :

1. ✘ Yamunanagar

2. ✘ Panipat
3. ✘ Panchkula
4. ✔ Kurukshetra

Question Number : 22 Question Id : 168000422 Display Question Number : Yes Single Line Question Option : No Option Orientation : Vertical

भगवद्गीता के पहले श्लोक में निम्नलिखित में से किस स्थान को धर्मक्षेत्र यानी 'नीतिपरायणता का क्षेत्र' के रूप में वर्णित किया गया है?

Options :

1. ✘ यमुना नगर
2. ✘ पानीपत
3. ✘ पंचकुला
4. ✔ कुरुक्षेत्र

Question Number : 23 Question Id : 168000423 Display Question Number : Yes Single Line Question Option : No Option Orientation : Vertical

The ISKCON Lord Jagannath Yatra in Kurukshetra was started by ISKCON in the year:

Options :

1. ✔ 1993
2. ✘ 2004
3. ✘ 2000
4. ✘ 1997

Question Number : 23 Question Id : 168000423 Display Question Number : Yes Single Line Question Option : No Option Orientation : Vertical

कुरुक्षेत्र में इस्कॉन द्वारा इस्कॉन भगवान जगन्नाथ यात्रा किस वर्ष में शुरू की गयी थी?

Options :

1. ✔ 1993
2. ✘ 2004

3. ✘ 2000

4. ✘ 1997

Question Number : 24 Question Id : 168000424 Display Question Number : Yes Single Line Question Option : No Option Orientation : Vertical

According to legend, the battle of Mahabharata was fought at which place of Haryana?

Options :

1. ✘ Panipat

2. ✘ Panchkula

3. ✔ Kurukshetra

4. ✘ Kaithal

Question Number : 24 Question Id : 168000424 Display Question Number : Yes Single Line Question Option : No Option Orientation : Vertical

पौराणिक कथा के अनुसार, महाभारत का युद्ध हरियाणा में किस स्थान पर लड़ा गया था?

Options :

1. ✘ पानीपत

2. ✘ पंचकुला

3. ✔ कुरुक्षेत्र

4. ✘ कैथल

Question Number : 25 Question Id : 168000425 Display Question Number : Yes Single Line Question Option : No Option Orientation : Vertical

It is believed that Sage Manu wrote the Manusmriti in:

Options :

1. ✔ Kurukshetra

2. ✘ Gurugram

3. ✘ Sonipat

4. ✘ Panchkula



Question Number : 25 Question Id : 168000425 Display Question Number : Yes Single Line Question Option : No Option Orientation : Vertical

मान्यताओं के अनुसार ऋषि मनु ने मनुस्मृति किस स्थान पर लिखी थी?

Options :

1. ✓ कुरुक्षेत्र
2. ✗ गुरुग्राम
3. ✗ सोनीपत
4. ✗ पंचकुला

Question Number : 26 Question Id : 168000426 Display Question Number : Yes Single Line Question Option : No Option Orientation : Vertical

'एक कोने से दूसरे कोने तक' का सही संक्षिप्त संकेत लिपि, पूर्ण नियमानुसार बताएँ:

A.

B.

C.

D.

Options :

1. ✓ A
2. ✗ B
3. ✗ C
4. ✗ D

Question Number : 26 Question Id : 168000426 Display Question Number : Yes Single Line Question Option : No Option Orientation : Vertical

'एक कोने से दूसरे कोने तक' का सही संक्षिप्त संकेत लिपि, पूर्ण नियमानुसार बताएँ:

A.

B.

C.

D.

Options :

1. ✓ A
2. ✗ B
3. ✗ C
4. ✗ D

Question Number : 27 Question Id : 168000427 Display Question Number : Yes Single Line Question Option : No Option Orientation : Vertical

इस संकेत लिपि का सही वाक्यांश बताएँ:

Options :

1. ✗ हमें चाहिए कि
2. ✗ हमको चाहिए कि
3. ✗ हमलोग चाहते हैं कि
4. ✓ हम लोगों को चाहिए कि

Question Number : 27 Question Id : 168000427 Display Question Number : Yes Single Line Question Option : No Option Orientation : Vertical

इस संकेत लिपि का सही वाक्यांश बताएँ:

Options :

1. ✘ हमें चाहिए कि
2. ✘ हमको चाहिए कि
3. ✘ हमलोग चाहते हैं कि
4. ✔ हम लोगों को चाहिए कि

Question Number : 28 Question Id : 168000428 Display Question Number : Yes Single Line Question Option : No Option Orientation : Vertical

य, र, ल, व, स, म, न को मोटा करके आधा करने पर कौन-सा व्यंजन बनता है?

Options :

1. ✘ क
2. ✘ ख
3. ✘ प
4. ✔ द

Question Number : 28 Question Id : 168000428 Display Question Number : Yes Single Line Question Option : No Option Orientation : Vertical

य, र, ल, व, स, म, न को मोटा करके आधा करने पर कौन-सा व्यंजन बनता है?


Options :


1. ✘ क
2. ✘ ख
3. ✘ प
4. ✔ द

Question Number : 29 Question Id : 168000429 Display Question Number : Yes Single Line Question Option : No Option Orientation : Vertical

‘एक गांव से दूसरे गांव तक’ का सही संकेत लिपि, पूर्ण नियमानुसार बताएँ:

A. 

B. 

C. 

D. 

Options :

1. ✓ A

2. ✗ B

3. ✗ C


4. ✗ D

Question Number : 29 Question Id : 168000429 Display Question Number : Yes Single Line Question Option : No Option Orientation : Vertical

‘एक गांव से दूसरे गांव तक’ का सही संकेत लिपि, पूर्ण नियमानुसार बताएँ:

A. 

B. 

C. 

D. 

Options :

1. ✓ A

2. ✘ B

3. ✘ C

4. ✘ D

Question Number : 30 Question Id : 168000430 Display Question Number : Yes Single Line Question Option : No Option Orientation : Vertical

व्यंजन की लम्बाई रेखा साधारण लम्बाई रेखा से आधा करने पर कौन-सा व्यंजन आता है?

Options :

1. ✔ ट, त या क

2. ✘ प, च या द

3. ✘ ह, स या ल

4. ✘ म, न या य

Question Number : 30 Question Id : 168000430 Display Question Number : Yes Single Line Question Option : No Option Orientation : Vertical

व्यंजन की लम्बाई रेखा साधारण लम्बाई रेखा से आधा करने पर कौन-सा व्यंजन आता है?

Options :

1. ✔ ट, त या क

2. ✘ प, च या द

3. ✘ ह, स या ल

4. ✘ म, न या य

Question Number : 31 Question Id : 168000431 Display Question Number : Yes Single Line Question Option : No Option Orientation : Vertical

किसी भी व्यंजन के आरम्भ में बाईं तरफ, बाएँ से दाहिने को घुमाव देकर जो आँकड़ा लगाया जाता है उससे क्या बनता है?

Options :

1. ✔ र

2. ✘ ल

3. ✘ व

4. ✘ य

Question Number : 31 Question Id : 168000431 Display Question Number : Yes Single Line Question Option : No Option  
Orientation : Vertical

किसी भी व्यंजन के आरम्भ में बाईं तरफ, बाएँ से दाहिने को घुमाव देकर जो आँकड़ा लगाया जाता है उससे क्या बनता है?

Options :

1. ✔ र

2. ✘ ल

3. ✘ व

4. ✘ य

Question Number : 32 Question Id : 168000432 Display Question Number : Yes Single Line Question Option : No Option  
Orientation : Vertical

किसी भी व्यंजन के अन्त में दाहिने से बाईं तरफ घुमावदार छोटा-सा आँकड़ा लगाने से क्या बनता है?

Options :

1. ✘ त

2. ✘ व

3. ✘ फ

4. ✔ न

Question Number : 32 Question Id : 168000432 Display Question Number : Yes Single Line Question Option : No Option  
Orientation : Vertical

किसी भी व्यंजन के अन्त में दाहिने से बाईं तरफ घुमावदार छोटा-सा आँकड़ा लगाने से क्या बनता है?

Options :

1. ✘ त


2. ✘ व

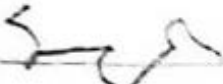
3. ✘ फ


4. ✔ न

Question Number : 33 Question Id : 168000433 Display Question Number : Yes Single Line Question Option : No Option  
Orientation : Vertical

व्यंजन को दुगुना करने के नियम के अनुसार 'अधिकार तौर पर' बने हुए शब्द-चिह्न को पहचानें:

A. 

B. 

C. 

D. 

Options :

1. ✓ A


2. ✗ B

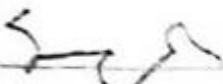
3. ✗ C


4. ✗ D

Question Number : 33 Question Id : 168000433 Display Question Number : Yes Single Line Question Option : No Option Orientation : Vertical

व्यंजन को दुगुना करने के नियम के अनुसार 'अधिकार तौर पर' बने हुए शब्द-चिह्न को पहचानें:

A. 

B. 

C. 

D. 

Options :

1. ✓ A

2. ✘ B

3. ✘ C

4. ✘ D

Question Number : 34 Question Id : 168000434 Display Question Number : Yes Single Line Question Option : No Option Orientation : Vertical

‘भरण पोषण’ का सही संक्षिप्त संकेत लिपि बताएँ:

A. 

B. 

C. 

D. 

Options :

1. ✘ A

2. ✔ B

3. ✘ C

4. ✘ D

Question Number : 34 Question Id : 168000434 Display Question Number : Yes Single Line Question Option : No Option Orientation : Vertical



‘भरण पोषण’ का सही संक्षिप्त संकेत लिपि बताएँ:

- A.
- B.
- C.
- D.

Options :

1. ✘ A
2. ✔ B
3. ✘ C
4. ✘ D

Question Number : 35 Question Id : 168000435 Display Question Number : Yes Single Line Question Option : No Option Orientation : Vertical

‘खुबसूरत’ का सही शब्द-चिह्न बताएँ:

- A.
- B.
- C.
- D.

Options :

1. ✘ A


2. ✘ B


3. ✔ C

4. ✘ D

Question Number : 35 Question Id : 168000435 Display Question Number : Yes Single Line Question Option : No Option Orientation : Vertical

‘खुबसूरत’ का सही शब्द-चिह्न बताएँ:

A. 

B. 

C. 

D. 

Options :

1. ✘ A

2. ✘ B

3. ✔ C

4. ✘ D

Question Number : 36 Question Id : 168000436 Display Question Number : Yes Single Line Question Option : No Option Orientation : Vertical

'जितने समय के लिए' का पूर्ण नियमानुसार सही संकेत लिपि पहचानें:

A.

B.

C.

D.

Options :

1. ✘ A


2. ✔ B

3. ✘ C

4. ✘ D

Question Number : 36 Question Id : 168000436 Display Question Number : Yes Single Line Question Option : No Option Orientation : Vertical

‘जितने समय के लिए’ का पूर्ण नियमानुसार सही संकेत लिपि पहचानें:



Options :

1. ✘ A


2. ✔ B

3. ✘ C

4. ✘ D

Question Number : 37 Question Id : 168000437 Display Question Number : Yes Single Line Question Option : No Option Orientation : Vertical

‘किये जाने योग्य सुधार’ का पूर्ण नियमानुसार सही संकेत लिपि पहचानें:



Options :

1. ✔ A

2. ✘ B

3. ✘ C

4. ✘ D

Question Number : 37 Question Id : 168000437 Display Question Number : Yes Single Line Question Option : No Option Orientation : Vertical

‘किये जाने योग्य सुधार’ का पूर्ण नियमानुसार सही संकेत लिपि पहचानें:

A.

B.

C.

D.

Options :

1. ✔ A

2. ✘ B

3. ✘ C

4. ✘ D

Question Number : 38 Question Id : 168000438 Display Question Number : Yes Single Line Question Option : No Option Orientation : Vertical

'उसीने' का सही सर्वनाम बताएँ:

A.

B.

C.

D.

Options :

1. ✓ A

2. ✗ B

3. ✗ C

4. ✗ D

Question Number : 38 Question Id : 168000438 Display Question Number : Yes Single Line Question Option : No Option Orientation : Vertical

'उसीने' का सही सर्वनाम बताएँ:

A.

B.

C.

D.

Options :

1. ✓ A

2. ✗ B

3. ✗ C

4. ✘ D

Question Number : 39 Question Id : 168000439 Display Question Number : Yes Single Line Question Option : No Option Orientation : Vertical

किसी व्यंजन के आरम्भ में बड़ा वृत्त लगाने से क्या बनता है?

Options :

1. ✘ क्व
2. ✔ स्व
3. ✘ त्व
4. ✘ फ्व

Question Number : 39 Question Id : 168000439 Display Question Number : Yes Single Line Question Option : No Option Orientation : Vertical

किसी व्यंजन के आरम्भ में बड़ा वृत्त लगाने से क्या बनता है?

Options :

1. ✘ क्व
2. ✔ स्व
3. ✘ त्व
4. ✘ फ्व

Question Number : 40 Question Id : 168000440 Display Question Number : Yes Single Line Question Option : No Option Orientation : Vertical

किसी वक्र व्यंजन के आरम्भ या अंत में एक छोटा-सा चाप (ARC) लगाए जाने पर क्या बनेगा?

Options :

1. ✔ स्त, स्थ या ष्ट
2. ✘ स्प, स्फ या ष्व
3. ✘ पव, नव या रव
4. ✘ अब, जब या कब

Question Number : 40 Question Id : 168000440 Display Question Number : Yes Single Line Question Option : No Option Orientation : Vertical


किसी वक्र व्यंजन के आरम्भ या अंत में एक छोटा-सा चाप (ARC) लगाए जाने पर क्या बनेगा?

Options :


1. ✓ स्त, स्थ या ष्ट
2. ✗ स्प, स्फ या ष्व
3. ✗ पव, नव या रव
4. ✗ अब, जब या कब


Question Number : 41 Question Id : 168000441 Display Question Number : Yes Single Line Question Option : No Option Orientation : Vertical

'प्रतिस्पर्धा' को हिन्दी संकेत लिपि के पूर्ण नियमानुसार पहचानें:

A. 

B. 

C. 

D. 

Options :

1. ✗ A
2. ✗ B
3. ✓ C
4. ✗ D


Question Number : 41 Question Id : 168000441 Display Question Number : Yes Single Line Question Option : No Option Orientation : Vertical

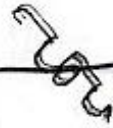


'प्रतिस्पर्धा' को हिन्दी संकेत लिपि के पूर्ण नियमानुसार पहचानें:

A. 

B. 

C. 

D. 

Options :

1. ✘ A


2. ✘ B

3. ✔ C


4. ✘ D


Question Number : 42 Question Id : 168000442 Display Question Number : Yes Single Line Question Option : No Option Orientation : Vertical

पूर्ण नियमानुसार 'स्पष्टीकरण' को नीचे के संकेत लिपि के अनुसार सही पहचानें:

A. 

B. 

C. 

D. 

Options :

1. ✘ A

2. ✔ B

3. ✘ C

4. ✘ D

Question Number : 42 Question Id : 168000442 Display Question Number : Yes Single Line Question Option : No Option Orientation : Vertical

पूर्ण नियमानुसार 'स्पष्टीकरण' को नीचे के संकेत लिपि के अनुसार सही पहचानें:

A.

B.

C.

D.

Options :

1. ✘ A

2. ✔ B

3. ✘ C

4. ✘ D

Question Number : 43 Question Id : 168000443 Display Question Number : Yes Single Line Question Option : No Option Orientation : Vertical

इस साधारण संक्षिप्त संकेत को पहचानें:

Options :

1. ✘ जजन्तु

2. ✘ जन्तु

3. ✘ जनता

4. ✔ जीव-जन्तु

Question Number : 43 Question Id : 168000443 Display Question Number : Yes Single Line Question Option : No Option Orientation : Vertical

इस साधारण संक्षिप्त संकेत को पहचानें:

Options :

1. ✘ जजन्तु
2. ✘ जन्तु
3. ✘ जनता
4. ✔ जीव-जन्तु

Question Number : 44 Question Id : 168000444 Display Question Number : Yes Single Line Question Option : No Option Orientation : Vertical

स्वास्थ्य विभाग से संबंधित इस वाक्यांश को पहचानें:

Options :

1. ✔ इंस्पेक्टर जनरल ऑफ़ सिविल हास्पिटलस
2. ✘ इंस्पेक्टर जनरल ऑफ़ सिविल सर्विस
3. ✘ इंस्पेक्टर जनरल ऑफ़ सिविल समिति
4. ✘ इंस्पेक्टर जनरल ऑफ़ सिविल सेल्स

Question Number : 44 Question Id : 168000444 Display Question Number : Yes Single Line Question Option : No Option Orientation : Vertical

स्वास्थ्य विभाग से संबंधित इस वाक्यांश को पहचानें:


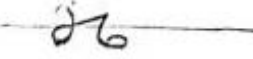
Options :

1. ✔ इंस्पेक्टर जनरल ऑफ़ सिविल हास्पिटलस
2. ✘ इंस्पेक्टर जनरल ऑफ़ सिविल सर्विस
3. ✘ इंस्पेक्टर जनरल ऑफ़ सिविल समिति

## 4. ✘ इन्स्पेक्टर जनरल ऑफ़ सिविल सेल्स

Question Number : 45 Question Id : 168000445 Display Question Number : Yes Single Line Question Option : No Option Orientation : Vertical

पूर्ण नियमानुसार 'इश्तेहार आदि' को एक साथ लिखा हुआ पहचानें:

A. B. C. D. 

Options :

1. ✔ A


2. ✘ B

3. ✘ C

4. ✘ D

Question Number : 45 Question Id : 168000445 Display Question Number : Yes Single Line Question Option : No Option Orientation : Vertical

पूर्ण नियमानुसार 'इश्तेहार आदि' को एक साथ लिखा हुआ पहचानें:

A. B. C. D. 

Options :

1. ✔ A

2. ✘ B

3. ✘ C

4. ✘ D

Question Number : 46 Question Id : 168000446 Display Question Number : Yes Single Line Question Option : No Option Orientation : Vertical

Fill in the blanks in the sentence below with suitable articles. Select your answer from the options given.

Scientists are warning that \_\_\_ rapid spread of "super malaria" in Southeast Asia is \_\_\_ alarming global threat.

Options :

1. ✔ the, an

2. ✘ a, a

3. ✘ the, a

4. ✘ a, the

Question Number : 46 Question Id : 168000446 Display Question Number : Yes Single Line Question Option : No Option Orientation : Vertical

Fill in the blanks in the sentence below with suitable articles. Select your answer from the options given.

Scientists are warning that \_\_\_ rapid spread of "super malaria" in Southeast Asia is \_\_\_ alarming global threat.

Options :

1. ✔ the, an

2. ✘ a, a

3. ✘ the, a

4. ✘ a, the

Question Number : 47 Question Id : 168000447 Display Question Number : Yes Single Line Question Option : No Option Orientation : Vertical

Fill in the blanks in the sentence below with suitable articles. Select your answer from the options given:

Indian cricketer Kuldeep Yadav is \_\_\_ third Indian to take \_\_\_ hat trick in one-day international history.

Options :

1. ✘ a, the
2. ✘ the, the
3. ✔ the, a
4. ✘ a, a

Question Number : 47 Question Id : 168000447 Display Question Number : Yes Single Line Question Option : No Option Orientation : Vertical

*Fill in the blanks in the sentence below with suitable articles. Select your answer from the options given:*

Indian cricketer Kuldeep Yadav is \_\_\_ third Indian to take \_\_\_ hat trick in one-day international history.

Options :

1. ✘ a, the
2. ✘ the, the
3. ✔ the, a
4. ✘ a, a

Question Number : 48 Question Id : 168000448 Display Question Number : Yes Single Line Question Option : No Option Orientation : Vertical

*Fill in the blank in the sentence below with a suitable modal verb. Select your answer from the options given:*

The money raised will go towards making schools safe for children, to prevent school dropouts and provide an education to girls so that they \_\_\_ look forward to a positive future.

Options :

1. ✘ should
2. ✘ may
3. ✔ can
4. ✘ will

Question Number : 48 Question Id : 168000448 Display Question Number : Yes Single Line Question Option : No Option Orientation : Vertical

*Fill in the blank in the sentence below with a suitable modal verb. Select your answer from the options given:*

The money raised will go towards making schools safe for children, to prevent school dropouts and provide an education to girls so that they \_\_\_ look forward to a positive future.

Options :

1. ✘ should
2. ✘ may
3. ✔ can
4. ✘ will

Question Number : 49 Question Id : 168000449 Display Question Number : Yes Single Line Question Option : No Option Orientation : Vertical

*Read the sentence given below and fill in the blank with a collective noun. Select your answer from the options given below.*

A \_\_\_\_\_ of hyenas can devour an entire zebra, leaving no leftovers-not even the bones-in under half an hour.

Options :

1. ✘ flock
2. ✘ sloth
3. ✘ herd
4. ✔ clan

Question Number : 49 Question Id : 168000449 Display Question Number : Yes Single Line Question Option : No Option Orientation : Vertical

*Read the sentence given below and fill in the blank with a collective noun. Select your answer from the options given below.*

A \_\_\_\_\_ of hyenas can devour an entire zebra, leaving no leftovers-not even the bones-in under half an hour.

Options :

1. ✘ flock
2. ✘ sloth
3. ✘ herd
4. ✔ clan

Question Number : 50 Question Id : 168000450 Display Question Number : Yes Single Line Question Option : No Option Orientation : Vertical

*The sentence below has been given in four parts as options. One of the parts contains an error. Select the option that has the error.*

Options :

1. ✘ in an interview with the BBC in 2013,
2. ✔ Petrov told how he had receives computer readouts
3. ✘ in the early hours of the morning of 26 September 1983
4. ✘ suggesting several US missiles had been launched.

Question Number : 50 Question Id : 168000450 Display Question Number : Yes Single Line Question Option : No Option Orientation : Vertical

*The sentence below has been given in four parts as options. One of the parts contains an error. Select the option that has the error.*

Options :

1. ✘ in an interview with the BBC in 2013,
2. ✔ Petrov told how he had receives computer readouts
3. ✘ in the early hours of the morning of 26 September 1983
4. ✘ suggesting several US missiles had been launched.

Question Number : 51 Question Id : 168000451 Display Question Number : Yes Single Line Question Option : No Option Orientation : Vertical

*From the options given below select the one that has the correct spelling of the highlighted word.*

Options :

1. ✘ **Randezvous** is to meet up at an agreed time at an agreed place.
2. ✘ **Rendazvous** is to meet up at an agreed time at an agreed place.
3. ✔ **Rendezvous** is to meet up at an agreed time at an agreed place.
4. ✘ **Rendizvous** is to meet up at an agreed time at an agreed place.

Question Number : 51 Question Id : 168000451 Display Question Number : Yes Single Line Question Option : No Option Orientation : Vertical

*From the options given below select the one that has the correct spelling of the highlighted word.*

Options :

1. ✘ **Randezvous** is to meet up at an agreed time at an agreed place.



2. ✘ **Rendazvous** is to meet up at an agreed time at an agreed place.
3. ✔ **Rendezvous** is to meet up at an agreed time at an agreed place.
4. ✘ **Rendizvous** is to meet up at an agreed time at an agreed place.

Question Number : 52 Question Id : 168000452 Display Question Number : Yes Single Line Question Option : No Option Orientation : Vertical

Select the option that offers the correct synonym of the highlighted word in the sentence given below. Pay attention to the meaning of the highlighted word in the context of the sentence.

An eye infection caused by a **parasitic** worm, increasingly common in mainland Europe, could spread to the UK; pet owners are being warned.

Options :

1. ✔ bloodsucking
2. ✘ crawling
3. ✘ bootlicking
4. ✘ wriggling

Question Number : 52 Question Id : 168000452 Display Question Number : Yes Single Line Question Option : No Option Orientation : Vertical

Select the option that offers the correct synonym of the highlighted word in the sentence given below. Pay attention to the meaning of the highlighted word in the context of the sentence.

An eye infection caused by a **parasitic** worm, increasingly common in mainland Europe, could spread to the UK; pet owners are being warned.

Options :

1. ✔ bloodsucking
2. ✘ crawling
3. ✘ bootlicking
4. ✘ wriggling

Question Number : 53 Question Id : 168000453 Display Question Number : Yes Single Line Question Option : No Option Orientation : Vertical

Select the option that offers the correct antonym of the highlighted word in the sentence given below. Pay attention to the meaning of the highlighted word in the context of the sentence.

Researchers have found there are seven types of the most common **malignant** child brain cancer - paving the way for more precise, "kinder" treatments.

Options :

1. ✓ benign
2. ✗ healthful
3. ✗ pestilential
4. ✗ fatal

Question Number : 53 Question Id : 168000453 Display Question Number : Yes Single Line Question Option : No Option Orientation : Vertical

Select the option that offers the correct antonym of the highlighted word in the sentence given below. Pay attention to the meaning of the highlighted word in the context of the sentence.

Researchers have found there are seven types of the most common **malignant** child brain cancer - paving the way for more precise, "kinder" treatments.

Options :

1. ✓ benign
2. ✗ healthful
3. ✗ pestilential
4. ✗ fatal

Question Number : 54 Question Id : 168000454 Display Question Number : Yes Single Line Question Option : No Option Orientation : Vertical

Select from the options given below, the one that employs an appropriate tag question:

Let's go for a movie \_\_\_\_\_

Options :

1. ✓ shall we?
2. ✗ should we?
3. ✗ may we?
4. ✗ shouldn't we?

Question Number : 54 Question Id : 168000454 Display Question Number : Yes Single Line Question Option : No Option Orientation : Vertical

Select from the options given below, the one that employs an appropriate tag question:

Let's go for a movie \_\_\_\_\_

Options :

1. ✓ shall we?
2. ✗ should we?
3. ✗ may we?
4. ✗ shouldn't we?

Question Number : 55 Question Id : 168000455 Display Question Number : Yes Single Line Question Option : No Option Orientation : Vertical

From the options given below, choose the one that has the prepositions placed correctly to form a proper sentence:

Options :

1. ✗  
Police were called in Stratford Centre, opposite Westfield, just before 20:00 BST, following an "altercation" among two groups of males where a noxious substance was thrown.
2. ✗  
Police were called on Stratford Centre, opposite Westfield, just before 20:00 BST, following an "altercation" between two groups of males where a noxious substance was thrown.
3. ✗  
Police were called to Stratford Centre, opposite Westfield, just before 20:00 BST, following an "altercation" among two groups of males where a noxious substance was thrown.
4. ✓  
Police were called to Stratford Centre, opposite Westfield, just before 20:00 BST, following an "altercation" between two groups of males where a noxious substance was thrown.

Question Number : 55 Question Id : 168000455 Display Question Number : Yes Single Line Question Option : No Option Orientation : Vertical

From the options given below, choose the one that has the prepositions placed correctly to form a proper sentence:

Options :

1. ✗  
Police were called in Stratford Centre, opposite Westfield, just before 20:00 BST, following an "altercation" among two groups of males where a noxious substance was thrown.
2. ✗  
Police were called on Stratford Centre, opposite Westfield, just before 20:00 BST, following an "altercation" between two groups of males where a noxious substance was thrown.

3. ✘

Police were called to Stratford Centre, opposite Westfield, just before 20:00 BST, following an "altercation" among two groups of males where a noxious substance was thrown.

4. ✔

Police were called to Stratford Centre, opposite Westfield, just before 20:00 BST, following an "altercation" between two groups of males where a noxious substance was thrown.

Question Number : 56 Question Id : 168000456 Display Question Number : Yes Single Line Question Option : No Option Orientation : Vertical

निबन्ध का पुनरावलोकन किया तो उसमें बहुत गलतियां थी। अशुद्ध अंश को पहचानिए-

Options :

1. ✘ निबन्ध

2. ✘ पुनरावलोकन किया

3. ✘ तो उसमें

4. ✔ बहुत-सी गलतियां थी

Question Number : 56 Question Id : 168000456 Display Question Number : Yes Single Line Question Option : No Option Orientation : Vertical

निबन्ध का पुनरावलोकन किया तो उसमें बहुत गलतियां थी। अशुद्ध अंश को पहचानिए-

Options :

1. ✘ निबन्ध

2. ✘ पुनरावलोकन किया

3. ✘ तो उसमें

4. ✔ बहुत-सी गलतियां थी

Question Number : 57 Question Id : 168000457 Display Question Number : Yes Single Line Question Option : No Option Orientation : Vertical

"महैश्वर्य" शब्द का संधि विच्छेद होगा-

Options :

1. ✘ महा + ऐश्वर्य
2. ✔ महा + ऐश्वर्य
3. ✘ मह + ऐश्वर्य
4. ✘ महा + एश्वर्य

Question Number : 57 Question Id : 168000457 Display Question Number : Yes Single Line Question Option : No Option Orientation : Vertical

“महैश्वर्य” शब्द का संधि विच्छेद होगा-

Options :

1. ✘ महा + ऐश्वर्य
2. ✔ महा + ऐश्वर्य
3. ✘ मह + ऐश्वर्य
4. ✘ महा + एश्वर्य

Question Number : 58 Question Id : 168000458 Display Question Number : Yes Single Line Question Option : No Option Orientation : Vertical

‘वीर रस’ का स्थायी भाव होगा:

Options :

1. ✔ उत्साह
2. ✘ क्रोध
3. ✘ भय
4. ✘ रति

Question Number : 58 Question Id : 168000458 Display Question Number : Yes Single Line Question Option : No Option Orientation : Vertical

‘वीर रस’ का स्थायी भाव होगा:

Options :

1. ✔ उत्साह

2. ✘ क्रोध

3. ✘ भय

4. ✘ रति

Question Number : 59 Question Id : 168000459 Display Question Number : Yes Single Line Question Option : No Option Orientation : Vertical

सुख-दुख हमारे जीवन के साथी है। रेखांकित शब्द में कौन-सा समास समाहित है?

Options :

1. ✔ द्वंद्व समास

2. ✘ द्विगु समास

3. ✘ अव्ययी भाव समास

4. ✘ कर्मधारय समास

Question Number : 59 Question Id : 168000459 Display Question Number : Yes Single Line Question Option : No Option Orientation : Vertical

सुख-दुख हमारे जीवन के साथी है। रेखांकित शब्द में कौन-सा समास समाहित है?

Options :

1. ✔ द्वंद्व समास

2. ✘ द्विगु समास

3. ✘ अव्ययी भाव समास

4. ✘ कर्मधारय समास

Question Number : 60 Question Id : 168000460 Display Question Number : Yes Single Line Question Option : No Option Orientation : Vertical

जहाँ वर्णों की पुनरावृत्ति होती है वहाँ अलंकार होगा:

Options :

1. ✘ यमक

2. ✓ अवुद्रास

3. ✗ उपमा

4. ✗ अतिशयोक्ति

Question Number : 60 Question Id : 168000460 Display Question Number : Yes Single Line Question Option : No Option Orientation : Vertical

जहाँ वर्णों की पुनरावृत्ति होती है वहाँ अलंकार होगा:

Options :

1. ✗ यमक

2. ✓ अवुद्रास

3. ✗ उपमा

4. ✗ अतिशयोक्ति

Question Number : 61 Question Id : 168000461 Display Question Number : Yes Single Line Question Option : No Option Orientation : Vertical

'पृथ्वी' शब्द का पर्यायवाची न हो ऐसा शब्द बताइए:

Options :

1. ✗ वसुधा

2. ✗ धरती

3. ✓ सरिता

4. ✗ उर्वी

Question Number : 61 Question Id : 168000461 Display Question Number : Yes Single Line Question Option : No Option Orientation : Vertical

'पृथ्वी' शब्द का पर्यायवाची न हो ऐसा शब्द बताइए:

Options :

1. ✗ वसुधा

2. ✗ धरती

3. ✓ सरिता

4. ✗ उर्वी

Question Number : 62 Question Id : 168000462 Display Question Number : Yes Single Line Question Option : No Option Orientation : Vertical

जो सभी को समान भाव से देखे उसे कहते हैं:

Options :

1. ✗ सुख्यात

2. ✓ समदर्शी

3. ✗ सहोदर

4. ✗ यशस्वी

Question Number : 62 Question Id : 168000462 Display Question Number : Yes Single Line Question Option : No Option Orientation : Vertical

जो सभी को समान भाव से देखे उसे कहते हैं:

Options :

1. ✗ सुख्यात

2. ✓ समदर्शी

3. ✗ सहोदर

4. ✗ यशस्वी

Question Number : 63 Question Id : 168000463 Display Question Number : Yes Single Line Question Option : No Option Orientation : Vertical

निम्नलिखित में से तत्सम शब्द को पहचानिए।

Options :

1. ✓ सौभाग्य

2. ✗ पिंडारा

3. ✗ पलंग



4. ✘ सुहाग

Question Number : 63 Question Id : 168000463 Display Question Number : Yes Single Line Question Option : No Option Orientation : Vertical

निम्नलिखित में से तत्सम शब्द को पहचानिए।

Options :

1. ✔ सौभाग्य

2. ✘ पिंडारा

3. ✘ पलंग

4. ✘ सुहाग

Question Number : 64 Question Id : 168000464 Display Question Number : Yes Single Line Question Option : No Option Orientation : Vertical

अगली सड़क पाठशाला जाती है। वाक्य का प्रकार बताइए:

Options :

1. ✔ सरल वाक्य

2. ✘ संयुक्त वाक्य

3. ✘ मिश्र वाक्य

4. ✘ विस्मय वाचक वाक्य

Question Number : 64 Question Id : 168000464 Display Question Number : Yes Single Line Question Option : No Option Orientation : Vertical

अगली सड़क पाठशाला जाती है। वाक्य का प्रकार बताइए:

Options :

1. ✔ सरल वाक्य

2. ✘ संयुक्त वाक्य

3. ✘ मिश्र वाक्य

4. ✘ विस्मय वाचक वाक्य

Question Number : 65 Question Id : 168000465 Display Question Number : Yes Single Line Question Option : No Option Orientation : Vertical

‘पेट में पानी नहीं पचना’ मुहावरे का अर्थ होगा:

Options :

1. ✘ बात को संगी को बताना।
2. ✔ बात छिपाने की ताकत न होना।
3. ✘ रहस्य खोलना।
4. ✘ खूब कोशिश करना।

Question Number : 65 Question Id : 168000465 Display Question Number : Yes Single Line Question Option : No Option Orientation : Vertical

‘पेट में पानी नहीं पचना’ मुहावरे का अर्थ होगा:

Options :

1. ✘ बात को संगी को बताना।
2. ✔ बात छिपाने की ताकत न होना।
3. ✘ रहस्य खोलना।
4. ✘ खूब कोशिश करना।

Question Number : 66 Question Id : 168000466 Display Question Number : Yes Single Line Question Option : No Option Orientation : Vertical

The LCM of two positive integers is 12 times their HCF and the sum of their LCM and HCF is 403. If one of the integers is 93, then the sum of digits of the other integer is:

Options :

1. ✘ 12
2. ✘ 8
3. ✔ 7
4. ✘ 6

Question Number : 66 Question Id : 168000466 Display Question Number : Yes Single Line Question Option : No Option Orientation : Vertical

दो धनात्मक पूर्णांकों का लघुत्तम समापवर्त्य उनके महत्तम समापवर्तक से 12 गुना ज़्यादा है, और उनके लघुत्तम समापवर्त्य तथा महत्तम समापवर्तक का योग 403 है। यदि एक पूर्णांक 93 है, तो दूसरे पूर्णांक के अंकों का योग है:

Options :

1. ✘ 12

2. ✘ 8

3. ✔ 7

4. ✘ 6

Question Number : 67 Question Id : 168000467 Display Question Number : Yes Single Line Question Option : No Option Orientation : Vertical

If the price of sugar falls by  $12\frac{1}{2}\%$ , then Hamida can buy 18 kg more sugar for ₹ 5,040 than before. If the original price of sugar increases by  $12\frac{1}{2}\%$ , then how much sugar can she buy for the same money?

Options :

1. ✘ 72 kg

2. ✘ 108 kg

3. ✔ 112 kg

4. ✘ 116 kg

Question Number : 67 Question Id : 168000467 Display Question Number : Yes Single Line Question Option : No Option Orientation : Vertical

यदि चीनी का भाव  $12\frac{1}{2}\%$  गिर जाता है तो हमीदा ₹ 5,040 में पहले की तुलना में 18 किग्रा अधिक चीनी खरीद सकती है। यदि चीनी का मूल भाव  $12\frac{1}{2}\%$  बढ़ जाता है, तो वह उतनी ही धनराशि से कितनी चीनी खरीद सकती है?

Options :

1. ✘ 72 किग्रा

2. ✘ 108 किग्रा

3. ✔ 112 किग्रा

4. ✘ 116 किग्रा

Question Number : 68 Question Id : 168000468 Display Question Number : Yes Single Line Question Option : No Option Orientation : Vertical

The average of test scores of a class of  $x$  students is 80 and that of  $y$  students of another class is 89. If the scores of both the classes are combined, then their average is 83. The value of  $(20x^2 + 7y^2) : (8y^2 + x^2)$  is:

Options :

1. ✘  $\frac{31}{4}$
2. ✔  $\frac{29}{4}$
3. ✘ 27
4. ✘ 21

Question Number : 68 Question Id : 168000468 Display Question Number : Yes Single Line Question Option : No Option Orientation : Vertical

एक परीक्षा में किसी कक्षा के  $x$  छात्रों के औसत अंक 80 हैं और एक अन्य कक्षा के  $y$  छात्रों के औसत अंक 89 हैं। यदि दोनों कक्षाओं के अंकों को मिला दिया जाए, तो उनका औसत 83 होता है।  $(20x^2 + 7y^2) : (8y^2 + x^2)$  का मान कितना होगा:

Options :

1. ✘  $\frac{31}{4}$
2. ✔  $\frac{29}{4}$
3. ✘ 27
4. ✘ 21

Question Number : 69 Question Id : 168000469 Display Question Number : Yes Single Line Question Option : No Option Orientation : Vertical

The compound interest on a sum of ₹ 88,000 for  $1\frac{1}{4}$  years at 12% per annum, interest compounded five-monthly is:

Options :

1. ✘ ₹ 13,200
2. ✘ ₹ 13,682
3. ✘ ₹ 13,772

4. ✓ ₹ 13,871

Question Number : 69 Question Id : 168000469 Display Question Number : Yes Single Line Question Option : No Option Orientation : Vertical

₹ 88,000 की राशि पर 12% वार्षिक दर से  $1\frac{1}{4}$  वर्ष का चक्रवृद्धि ब्याज कितना होगा, यदि पाँच महीने पर समायोजित होता है?

Options :

1. ✗ ₹ 13,200

2. ✗ ₹ 13,682

3. ✗ ₹ 13,772

4. ✓ ₹ 13,871

Question Number : 70 Question Id : 168000470 Display Question Number : Yes Single Line Question Option : No Option Orientation : Vertical

Silu calculates the percentage of profit on the cost price of an article while Anvi calculates profit on its selling price. When their selling prices are equal, then the difference of their actual profits is ₹ 252 and both of them claim to have made a 20% profit. The selling price of the article is:

Options :

1. ✓ ₹ 7,560

2. ✗ ₹ 5,670

3. ✗ ₹ 3,780

4. ✗ ₹ 2,520

Question Number : 70 Question Id : 168000470 Display Question Number : Yes Single Line Question Option : No Option Orientation : Vertical

सिलू, एक वस्तु के लिए प्रतिशत लाभ की गणना लागत मूल्य पर करती है जबकि अन्वी लाभ की गणना इसके बिक्री मूल्य पर करती है। जब उनके विक्रय मूल्य समान हैं तो उनके वास्तविक लाभों में अंतर ₹ 252 है और दोनों का दावा है कि उन्हें 20% लाभ हुआ है। वस्तु का बिक्री मूल्य है:

Options :

1. ✓ ₹ 7,560

2. ✗ ₹ 5,670

3. ✘ ₹ 3,780

4. ✘ ₹ 2,520

Question Number : 71 Question Id : 168000471 Display Question Number : Yes Single Line Question Option : No Option Orientation : Vertical

A, B and C working together can finish a task in 12 days. A and C together work twice as much as B; A and B together work thrice as much as C. In how many days will A alone finish  $\frac{5}{12}$  part of the same task?

Options :

1. ✘ 15 days

2. ✔ 12 days

3. ✘ 10 days

4. ✘ 9 days

Question Number : 71 Question Id : 168000471 Display Question Number : Yes Single Line Question Option : No Option Orientation : Vertical

A, B और C मिलकर किसी काम को 12 दिनों में पूरा कर सकते हैं। A और C मिलकर B से दोगुना काम करते हैं; A और B मिलकर C से तीन गुना काम करते हैं। अकेला A उसी काम के  $\frac{5}{12}$  भाग को कितने दिनों में पूरा करेगा?

Options :

1. ✘ 15 दिन

2. ✔ 12 दिन

3. ✘ 10 दिन

4. ✘ 9 दिन

Question Number : 72 Question Id : 168000472 Display Question Number : Yes Single Line Question Option : No Option Orientation : Vertical

The monthly incomes of A, B and C taken together is ₹ 3,99,000. A, B and C spend 80%,  $87\frac{1}{2}\%$  and 90% of their incomes respectively. If their monthly savings are in the ratio 16 : 17 : 12, then the income of B exceeds the income of C by:

Options :

1. ✔ ₹ 19,000

2. ✘ ₹ 66,500
3. ✘ ₹ 21,000
4. ✘ ₹ 47,500

Question Number : 72 Question Id : 168000472 Display Question Number : Yes Single Line Question Option : No Option Orientation : Vertical

A, B और C की मासिक आय कुल मिलाकर ₹ 3,99,000 है। A, B और C अपनी आय का क्रमशः 80%,  $87\frac{1}{2}\%$  और 90% व्यय करते हैं। यदि उनकी मासिक बचतों का अनुपात 16 : 17 : 12 हो, तो B की आय C की आय से कितनी अधिक है?

Options :

1. ✔ ₹ 19,000
2. ✘ ₹ 66,500
3. ✘ ₹ 21,000
4. ✘ ₹ 47,500

Question Number : 73 Question Id : 168000473 Display Question Number : Yes Single Line Question Option : No Option Orientation : Vertical

A person takes his boat in a river against the stream from place A to B and returns to A. He takes 20 hours for this journey. The distance between A and B is 42 km. If the time taken by him in going 7 km downstream is equal to the time taken in going 3 km upstream, then the average speed (in km/hour) of the boat is:

Options :

1. ✘ 6 km/hour
2. ✘  $5\frac{1}{2}$  km/hour
3. ✔ 5 km/hour
4. ✘  $4\frac{1}{2}$  km/hour

Question Number : 73 Question Id : 168000473 Display Question Number : Yes Single Line Question Option : No Option Orientation : Vertical

एक व्यक्ति अपनी नाव को नदी की धारा के विपरीत A से B तक ले जाता है और फिर वापस A पर आ जाता है। इस यात्रा में उसे कुल 20 घंटे लगते हैं। A से B के बीच की दूरी 42 किमी है। यदि उसके द्वारा नदी के बहाव के साथ चलते हुए 7 किमी जाने में लगनेवाला समय नदी के बहाव के विपरीत चलते हुए 3 किमी जाने में लगे समय के बराबर हो, तो नाव की औसत गति (किमी/घंटा) होगी:

Options :

1. ✘ 6 किमी/घंटा
2. ✘  $5\frac{1}{2}$  किमी/घंटा
3. ✔ 5 किमी/घंटा
4. ✘  $4\frac{1}{2}$  किमी/घंटा

Question Number : 74 Question Id : 168000474 Display Question Number : Yes Single Line Question Option : No Option Orientation : Vertical

A two litre solution of acid and water contains 12% water. In this solution, 3 litres of another solution of acid and water containing 92% acid is added. After that, one litre water is also mixed in the solution. What is the percentage of water in the final solution?

Options :

1. ✘  $21\frac{1}{3}$  %
2. ✘ 18%
3. ✘ 28%
4. ✔  $24\frac{2}{3}$  %

Question Number : 74 Question Id : 168000474 Display Question Number : Yes Single Line Question Option : No Option Orientation : Vertical

अम्ल और पानी के दो लीटर घोल में 12% पानी है। इस घोल में, अम्ल और पानी के एक अन्य घोल की 3 लीटर मात्रा मिलाई जाती है जिसमें 92% अम्ल है। इसके बाद, इस घोल में एक लीटर पानी और मिलाया जाता है। अंतिम घोल में पानी का प्रतिशत क्या है?

Options :

1. ✘  $21\frac{1}{3}$  %
2. ✘ 18%
3. ✘ 28%
4. ✔  $24\frac{2}{3}$  %

Question Number : 75 Question Id : 168000475 Display Question Number : Yes Single Line Question Option : No Option Orientation : Vertical



If the equation  $x^2 - (2 + k)x + (k^2 - 4k + 4) = 0$  has equal roots, than the sum of all possible values of k is:

Options :

1. ✘  $5\frac{1}{3}$
2. ✘ 6
3. ✔  $6\frac{2}{3}$
4. ✘ 5

Question Number : 75 Question Id : 168000475 Display Question Number : Yes Single Line Question Option : No Option Orientation : Vertical

यदि समीकरण  $x^2 - (2 + k)x + (k^2 - 4k + 4) = 0$  के मूल समान हों, तो k के सभी सम्भावित मूल्यों का योग होगा:

Options :

1. ✘  $5\frac{1}{3}$
2. ✘ 6
3. ✔  $6\frac{2}{3}$
4. ✘ 5

Question Number : 76 Question Id : 168000476 Display Question Number : Yes Single Line Question Option : No Option Orientation : Vertical

An object made of cement is suspended in air by a spring balance. The reading of the balance is 0.60 kg. When the piece is submerged in water, the scale reads 0.40 kg. The density of the brick is:

Options :

1. ✘  $1.0 \times 10^3 \text{ kg m}^{-3}$
2. ✘  $1.6 \times 10^3 \text{ kg m}^{-3}$
3. ✘  $2.4 \times 10^3 \text{ kg m}^{-3}$

4. ✓  $3.0 \times 10^3 \text{ kg m}^{-3}$

Question Number : 76 Question Id : 168000476 Display Question Number : Yes Single Line Question Option : No Option Orientation : Vertical

सीमेंट से बनी एक वस्तु हवा में एक कमानीदार तुला से लटकी हुई है। तुला का पाठ्यांक 0.60 किग्रा है। जब यह वस्तु पानी में डुबाई जाती है तो तुला का पाठ्यांक 0.40 किग्रा होता है। ईंट का घनत्व होगा:

Options :

1. ✗  $1.0 \times 10^3 \text{ किग्रा मी}^{-3}$

2. ✗  $1.6 \times 10^3 \text{ किग्रा मी}^{-3}$

3. ✗  $2.4 \times 10^3 \text{ किग्रा मी}^{-3}$

4. ✓  $3.0 \times 10^3 \text{ किग्रा मी}^{-3}$

Question Number : 77 Question Id : 168000477 Display Question Number : Yes Single Line Question Option : No Option Orientation : Vertical

An object is thrown vertically upwards with a velocity of 50 m/s. The distance travelled by it in the third second is: (take  $g = 10 \text{ m/s}^2$ )

Options :

1. ✗ 15 m

2. ✓ 25 m

3. ✗ 40 m

4. ✗ 50 m

Question Number : 77 Question Id : 168000477 Display Question Number : Yes Single Line Question Option : No Option Orientation : Vertical

एक वस्तु 50 मी/से के वेग से उर्ध्वाधर रूप से ऊपर की ओर फेंकी जाती है। तीसरे सेकंड में इसके द्वारा तय की गई दूरी होगी:

( $g = 10 \text{ मी/सेकंड}^2$ )

Options :

1. ✗ 15 मी

2. ✓ 25 मी

3. ✗ 40 मी

4. ✘ 50 मी

Question Number : 78 Question Id : 168000478 Display Question Number : Yes Single Line Question Option : No Option Orientation : Vertical

An object is placed on the principal axis of a concave mirror. It is observed that the image formed is real and of the same size. The object is located at:

Options :

1. ✘ The focus
2. ✘ A point between focus and the centre of curvature
3. ✔ The centre of curvature
4. ✘ A point beyond the centre of curvature

Question Number : 78 Question Id : 168000478 Display Question Number : Yes Single Line Question Option : No Option Orientation : Vertical

एक वस्तु अवतल दर्पण के मुख्य अक्ष पर रखी गई है। इसके द्वारा बना प्रतिबिंब वास्तविक और समान आकार का दिखाई देता है। वस्तु की स्थिति होगी:

Options :

1. ✘ फोकस पर
2. ✘ फोकस और वक्रता केंद्र के मध्य किसी बिंदु पर
3. ✔ वक्रता केंद्र पर
4. ✘ वक्रता केंद्र से बाहर किसी बिंदु पर

Question Number : 79 Question Id : 168000479 Display Question Number : Yes Single Line Question Option : No Option Orientation : Vertical

A ray of light passes from water to a glass slab of refractive index 1.5. As it passes from water into glass, it bends:

Options :

1. ✘ Away from the normal and travels with a speed of  $2.0 \times 10^8$  m/s
2. ✔ Towards the normal and travels with a speed of  $2.0 \times 10^8$  m/s
3. ✘ Towards the normal and travels without any change in its speed

4. ✘ Away from the normal and travels without any change in its speed

Question Number : 79 Question Id : 168000479 Display Question Number : Yes Single Line Question Option : No Option Orientation : Vertical

प्रकाश की एक किरण पानी से 1.5 अपवर्तनांक वाले कांच के स्लैब में से गुज़रती है। जब यह पानी से कांच में प्रवेश करती है तो यह:

Options :

1. ✘ अभिलम्ब से दूर तथा  $2.0 \times 10^8$  मी/सेकंड की गति से चलती है
2. ✔ अभिलम्ब की ओर तथा  $2.0 \times 10^8$  मी/सेकंड की गति से चलती है
3. ✘ सामान्य (अभिलम्ब) की ओर मुड़ती है तथा गति में बिना किसी परिवर्तन के चलती है।
4. ✘ सामान्य (अभिलम्ब) से दूर मुड़ती है तथा गति में बिना किसी परिवर्तन के चलती है।

Question Number : 80 Question Id : 168000480 Display Question Number : Yes Single Line Question Option : No Option Orientation : Vertical

An object 2.0 cm in size is placed in front of a concave mirror of focal length 15 cm. The size of the image formed is 4.0 cm and it is inverted. The distance of the object from the mirror is:

Options :

1. ✘ 10.5 cm
2. ✘ 15.0 cm
3. ✔ 22.5 cm
4. ✘ 30.0 cm

Question Number : 80 Question Id : 168000480 Display Question Number : Yes Single Line Question Option : No Option Orientation : Vertical

2.0 सेमी आकार की एक वस्तु 15 सेमी फ़ोकल लम्बाई के एक अवतल दर्पण के सामने रखी गयी है। बनने वाले प्रतिबिंब का आकार 4.0 सेमी है और यह उल्टा है। दर्पण से वस्तु की दूरी है:

Options :

1. ✘ 10.5 सेमी
2. ✘ 15.0 सेमी
3. ✔ 22.5 सेमी

4. ✘ 30.0 सेमी

Question Number : 81 Question Id : 168000481 Display Question Number : Yes Single Line Question Option : No Option Orientation : Vertical

Which one of the following is **NOT** an alloy?

Options :

1. ✘ Brass
2. ✔ Borax
3. ✘ Alnico
4. ✘ Nichrome

Question Number : 81 Question Id : 168000481 Display Question Number : Yes Single Line Question Option : No Option Orientation : Vertical

निम्नलिखित में से कौन सी मिश्र धातु नहीं है?

Options :

1. ✘ पीतल
2. ✔ सुहागा (बोरेक्स)
3. ✘ ऐलिनको
4. ✘ नाइक्रोम

Question Number : 82 Question Id : 168000482 Display Question Number : Yes Single Line Question Option : No Option Orientation : Vertical

The molecular formula of Cyclohexane is:

Options :

1. ✘  $C_6H_{10}$
2. ✔  $C_6H_{12}$
3. ✘  $C_6H_{16}$
4. ✘  $C_6H_{14}$

Question Number : 82 Question Id : 168000482 Display Question Number : Yes Single Line Question Option : No Option Orientation : Vertical

साइक्लोहेक्सेन का आणविक सूत्र है:

Options :

1. ✘  $C_6H_{10}$
2. ✔  $C_6H_{12}$
3. ✘  $C_6H_{16}$
4. ✘  $C_6H_{14}$

Question Number : 83 Question Id : 168000483 Display Question Number : Yes Single Line Question Option : No Option Orientation : Vertical

Which one of the following represents the mass of ten moles of Ammonia molecules?

Options :

1. ✘ 100 grams
2. ✘ 160 grams
3. ✔ 170 grams
4. ✘ 120 grams

Question Number : 83 Question Id : 168000483 Display Question Number : Yes Single Line Question Option : No Option Orientation : Vertical

निम्नलिखित में से कौन सा विकल्प अमोनिया अणुओं के दस मोल का द्रव्यमान दर्शाता है?

Options :

1. ✘ 100 ग्राम
2. ✘ 160 ग्राम
3. ✔ 170 ग्राम
4. ✘ 120 ग्राम

Question Number : 84 Question Id : 168000484 Display Question Number : Yes Single Line Question Option : No Option Orientation : Vertical

Which one of the following gases is released when pure Ethanol undergoes combustion?

Options :

1. ✓ Carbon dioxide
2. ✗ Ammonia
3. ✗ Hydrogen
4. ✗ Methane

Question Number : 84 Question Id : 168000484 Display Question Number : Yes Single Line Question Option : No Option Orientation : Vertical

शुद्ध एथेनॉल के दहन में निम्नलिखित में से कौन सी गैस निकलती है?

Options :

1. ✓ कार्बन डाइऑक्साइड
2. ✗ अमोनिया
3. ✗ हाइड्रोजन
4. ✗ मीथेन

Question Number : 85 Question Id : 168000485 Display Question Number : Yes Single Line Question Option : No Option Orientation : Vertical

The functional groups found in organic compound Glucose are:

Options :

1. ✗ -OH and -COOH
2. ✓ -OH and -CHO
3. ✗ -OH and -NH<sub>2</sub>
4. ✗ -OH and -CONH<sub>2</sub>

Question Number : 85 Question Id : 168000485 Display Question Number : Yes Single Line Question Option : No Option Orientation : Vertical

कार्बनिक यौगिक ग्लूकोज़ में पाए जाने वाले क्रियात्मक समूह निम्न में से कौनसे हैं?

Options :

1. ✗ -OH और -COOH

2. ✓ -OH और -CHO

3. ✗ -OH और -NH<sub>2</sub>

4. ✗ -OH और -CONH<sub>2</sub>

Question Number : 86 Question Id : 168000486 Display Question Number : Yes Single Line Question Option : No Option Orientation : Vertical

Which of the following Indian states is associated with Sana Lamok, a regional folk song?

Options :

1. ✗ Assam

2. ✓ Manipur

3. ✗ Meghalaya

4. ✗ Nagaland

Question Number : 86 Question Id : 168000486 Display Question Number : Yes Single Line Question Option : No Option Orientation : Vertical

निम्नलिखित में से कौन-सा भारतीय राज्य साना लामोक नामक क्षेत्रीय लोकगीत से जुड़ा है?

Options :

1. ✗ असम

2. ✓ मणिपुर

3. ✗ मेघालय

4. ✗ नागालैंड

Question Number : 87 Question Id : 168000487 Display Question Number : Yes Single Line Question Option : No Option Orientation : Vertical

Following the death of Pt. Jawaharlal Nehru, who was sworn in as the Prime Minister of India on 27 May 1964?

Options :

1. ✗ Lal Bahadur Shastri



2. ✘ Indira Gandhi
3. ✔ Gulzari Lal Nanda
4. ✘ Morarji Desai

Question Number : 87 Question Id : 168000487 Display Question Number : Yes Single Line Question Option : No Option Orientation : Vertical

पं. जवाहरलाल नेहरू की मृत्यु के बाद 27 मई 1964 को किसे भारत के प्रधानमंत्री के रूप में शपथ दिलाई गई?

Options :

1. ✘ लाल बहादुर शास्त्री
2. ✘ इंदिरा गाँधी
3. ✔ गुलज़ारी लाल नंदा
4. ✘ मोरारजी देसाई

Question Number : 88 Question Id : 168000488 Display Question Number : Yes Single Line Question Option : No Option Orientation : Vertical

According to the report published by the Department of Agriculture Cooperation and Farmers Welfare titled 'Agricultural Statistics at a Glance 2016', which was the largest rice producing state during 2015-16 (considering production in absolute terms)?

Options :

1. ✔ West Bengal
2. ✘ Uttar Pradesh
3. ✘ Punjab
4. ✘ Kerala

Question Number : 88 Question Id : 168000488 Display Question Number : Yes Single Line Question Option : No Option Orientation : Vertical

कृषि, सहयोग और किसान कल्याण विभाग द्वारा 'कृषि सांख्यिकी एक नज़र में, 2016' शीर्षक से प्रकाशित रिपोर्ट के अनुसार 2015-16 के दौरान सबसे बड़ा चावल-उत्पादक राज्य (उत्पादन को समग्र शर्तों के अधीन मानते हुए) कौन-सा था?

Options :

1. ✔ पश्चिम बंगाल

2. ✘ उत्तर प्रदेश

3. ✘ पंजाब

4. ✘ केरल

Question Number : 89 Question Id : 168000489 Display Question Number : Yes Single Line Question Option : No Option Orientation : Vertical

Who has taken charge as the Chairman of Securities and Exchange Board of India (SEBI) since March 2017?

Options :

1. ✘ U. K. Sinha

2. ✘ C. B. Bhawe

3. ✔ Ajay Tyagi

4. ✘ M. Damodaran

Question Number : 89 Question Id : 168000489 Display Question Number : Yes Single Line Question Option : No Option Orientation : Vertical

मार्च 2017 से भारत के प्रतिभूति और विनिमय बोर्ड (सेबी) के अध्यक्ष के रूप में कौन कार्यरत है?

Options :

1. ✘ यू. के. सिन्हा

2. ✘ सी. बी. भावे

3. ✔ अजय त्यागी

4. ✘ एम. दामोदरन

Question Number : 90 Question Id : 168000490 Display Question Number : Yes Single Line Question Option : No Option Orientation : Vertical

Which amendment to Indian Constitution reduced the required age of an Indian citizen from twenty-one years to eighteen years to be entitled for registration as a voter at elections to the House of the People and to the Legislative Assembly of every State?

Options :

1. ✔ Constitution (Sixty-first Amendment) Act, 1988

2. ✘ Constitution (Twenty-first Amendment) Act, 1967

3. ✘ Constitution (Forty-second Amendment) Act, 1976
4. ✘ Constitution (One Hundred and First Amendment) Act, 2016

Question Number : 90 Question Id : 168000490 Display Question Number : Yes Single Line Question Option : No Option Orientation : Vertical

भारतीय संविधान के किस संशोधन द्वारा लोक सभा और प्रत्येक राज्य की विधान सभा के मतदाता के रूप में पंजीकरण हेतु एक भारतीय नागरिक की आवश्यक आयु इक्कीस वर्ष से घटाकर अठारह वर्ष की गई?

Options :

1. ✔ संविधान (61वाँ संशोधन) अधिनियम, 1988
2. ✘ संविधान (21वाँ संशोधन) अधिनियम, 1967
3. ✘ संविधान (42वाँ संशोधन) अधिनियम, 1976
4. ✘ संविधान (101वाँ संशोधन) अधिनियम, 2016

Question Number : 91 Question Id : 168000491 Display Question Number : Yes Single Line Question Option : No Option Orientation : Vertical

Which of the following Chinese Nobel laureates is known for discoveries concerning a novel therapy against malaria?

Options :

1. ✘ Tsung-Dao Lee
2. ✘ Liu Xiaobo
3. ✘ Charles K. Kao
4. ✔ Tu Youyou

Question Number : 91 Question Id : 168000491 Display Question Number : Yes Single Line Question Option : No Option Orientation : Vertical

चीन के निम्नलिखित नोबेल पुरस्कार विजेताओं में से कौन मलेरिया के लिए एक नवीन चिकित्सा से संबंधित खोजों के लिए जाने जाते हैं?

Options :

1. ✘ सुंग-दाओ ली
2. ✘ लिउ जिआओबो

3. ✘ चार्ल्स के. काओ

4. ✔ तू योऊयोऊ

Question Number : 92 Question Id : 168000492 Display Question Number : Yes Single Line Question Option : No Option Orientation : Vertical

Name the film that won in the visual effects category at the 89<sup>th</sup> Oscars (held in 2017).

Options :

1. ✘ Moonlight

2. ✘ Doctor Strange

3. ✘ Deepwater Horizon

4. ✔ The Jungle Book

Question Number : 92 Question Id : 168000492 Display Question Number : Yes Single Line Question Option : No Option Orientation : Vertical

2017 के 89वें ऑस्कर समारोह में दृश्य प्रभाव (विज़ुअल इफ़ेक्ट्स) श्रेणी के विजेता चलचित्र (फिल्म) का नाम बताएँ।

Options :

1. ✘ मूनलाइट

2. ✘ डॉक्टर स्ट्रेंज

3. ✘ डीपवॉटर होराइज़न

4. ✔ द जंगल बुक

Question Number : 93 Question Id : 168000493 Display Question Number : Yes Single Line Question Option : No Option Orientation : Vertical

In which sporting event did Deepika Kumari represent India in the London 2012 Olympic Games?

Options :

1. ✘ Swimming

2. ✘ Tennis

3. ✘ Boxing

## 4. ✓ Archery

Question Number : 93 Question Id : 168000493 Display Question Number : Yes Single Line Question Option : No Option Orientation : Vertical

लंदन 2012 ओलिम्पिक खेलों में दीपिका कुमारी ने किस खेल में भारत का प्रतिनिधित्व किया था?

Options :

1. ✗ तैराकी
2. ✗ टेनिस
3. ✗ मुक्केबाज़ी
4. ✓ तीरंदाज़ी

Question Number : 94 Question Id : 168000494 Display Question Number : Yes Single Line Question Option : No Option Orientation : Vertical

In 2017, in which of the following fields were the maximum number of Padma Vibhushan awarded?

Options :

1. ✗ Science and Engineering
2. ✓ Public Affairs
3. ✗ Art
4. ✗ Social Work

Question Number : 94 Question Id : 168000494 Display Question Number : Yes Single Line Question Option : No Option Orientation : Vertical

2017 में, सर्वाधिक पद्म विभूषण सम्मान निम्नलिखित में से किस क्षेत्र में प्रदान किए गए?

Options :

1. ✗ विज्ञान और अभियांत्रिकी
2. ✓ सार्वजनिक मामले
3. ✗ कला
4. ✗ सामाजिक कार्य

Question Number : 95 Question Id : 168000495 Display Question Number : Yes Single Line Question Option : No Option Orientation : Vertical

From the UNESCO world heritage sites of India, which of the following is **NOT** a natural property?

Options :

1. ✓ Rock Shelters of Bhimbetka
2. ✗ Kaziranga National Park
3. ✗ Manas Wildlife Sanctuary
4. ✗ Sundarbans National Park

Question Number : 95 Question Id : 168000495 Display Question Number : Yes Single Line Question Option : No Option Orientation : Vertical

भारत के यूनेस्को विश्व विरासत स्थलों में से निम्नलिखित में से क्या एक प्राकृतिक स्थल नहीं है?

Options :

1. ✓ भीमबेटका गुफाएँ
2. ✗ काज़ीरंगा राष्ट्रीय उद्यान
3. ✗ मानस वन्यजीव अभयारण्य
4. ✗ सुंदरबन राष्ट्रीय उद्यान

Question Number : 96 Question Id : 168000496 Display Question Number : Yes Single Line Question Option : No Option Orientation : Vertical

Find the odd one out.

Options :

1. ✗ EARTHQUAKE
2. ✗ FLOOD
3. ✓ DAMAGE
4. ✗ CYCLONE

Question Number : 96 Question Id : 168000496 Display Question Number : Yes Single Line Question Option : No Option Orientation : Vertical

असंगत की पहचान करें।

Options :

1. ✘ भूकंप
2. ✘ बाढ़
3. ✔ क्षति
4. ✘ चक्रवात

Question Number : 97 Question Id : 168000497 Display Question Number : Yes Single Line Question Option : No Option Orientation : Vertical

Complete the analogy.

Lawyer : Client :: Doctor : \_\_\_\_\_.

Options :

1. ✘ Nurse
2. ✔ Patient
3. ✘ Pharmacy
4. ✘ Clinic

Question Number : 97 Question Id : 168000497 Display Question Number : Yes Single Line Question Option : No Option Orientation : Vertical

सादृश्य को पूरा करें।

वकील : मुवक्किल :: डॉक्टर : \_\_\_\_\_

Options :

1. ✘ नर्स
2. ✔ मरीज़
3. ✘ फार्मसी
4. ✘ क्लिनिक

Question Number : 98 Question Id : 168000498 Display Question Number : Yes Single Line Question Option : No Option Orientation : Vertical

Select the word that has a similar meaning to the words that appear on either side of brackets:

NEW ( ) TALE

Options :

1. ✓ Novel
2. ✗ Fresh
3. ✗ Fine
4. ✗ Anew

Question Number : 98 Question Id : 168000498 Display Question Number : Yes Single Line Question Option : No Option Orientation : Vertical

उस शब्द का चयन करें जिसका अर्थ कोष्ठक के दोनों तरफ़ आने वाले शब्दों के अर्थ से मिलता-जुलता हो।

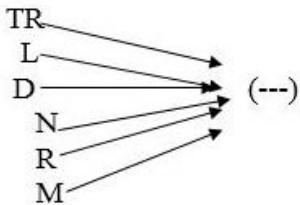
NEW ( ) TALE

Options :

1. ✓ Novel
2. ✗ Fresh
3. ✗ Fine
4. ✗ Anew

Question Number : 99 Question Id : 168000499 Display Question Number : Yes Single Line Question Option : No Option Orientation : Vertical

Select the set of letters that, when added as a suffix to the letter/set of letters in the image, forms a meaningful English word.



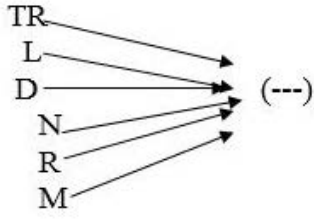
Options :

1. ✗ IEN
2. ✗ EIN
3. ✗ PEL
4. ✓ ICE



Question Number : 99 Question Id : 168000499 Display Question Number : Yes Single Line Question Option : No Option Orientation : Vertical

अक्षरों के उस समूह (समुच्चय) का चयन करें जिसे प्रत्यय के रूप में जोड़े जाने पर चित्र का प्रत्येक अक्षर/अक्षर-युग्म एक अर्थपूर्ण अंग्रेज़ी शब्द बनाए।



Options :

1. ✘ IEN
2. ✘ EIN
3. ✘ PEL
4. ✔ ICE

Question Number : 100 Question Id : 168000500 Display Question Number : Yes Single Line Question Option : No Option Orientation : Vertical

Select the number that would complete the series given below:

10, 11, 15, 24, 40, 65, \_\_\_\_\_.

Options :

1. ✘ 100
2. ✔ 101
3. ✘ 95
4. ✘ 90

Question Number : 100 Question Id : 168000500 Display Question Number : Yes Single Line Question Option : No Option Orientation : Vertical

उस संख्या का चयन करें जो नीचे दी गई श्रृंखला को पूर्ण करे:

10, 11, 15, 24, 40, 65, \_\_\_\_\_

Options :

1. ✘ 100

2. ✓ 101

3. ✗ 95

4. ✗ 90