



Haryana Staff Selection Commission

Notations :

1. Options shown in **green** color and with  icon are correct.
2. Options shown in **red** color and with  icon are incorrect.

Subject Name:	CAT 2 Steno Typist Hindi CBT Exam
Total Marks:	200
Display Marks:	Yes
Calculator:	None
Magnifying Glass Required?:	No
Ruler Required?:	No
Eraser Required?:	No
Scratch Pad Required?:	No
Rough Sketch/Notepad Required?:	No
Protractor Required?:	No

CAT 2 Steno Typist Hindi CBT Exam

Group Marks: 200

CAT 2 Steno Typist Hindi CBT Exam

Section Marks:	200
Display Number Panel:	Yes
Group All Questions:	No

Question Number : 1 Question Id : 627289301 Display Question Number : Yes Single Line Question Option : No Option Orientation : Vertical

Who was the first Chief Minister of Indian state of Punjab after the partition of 1947?

Options :

1.  Bhimsen Sachar
2.  Gopi Chand Bhargava
3.  Pratap Singh Kairon
4.  Ram Kishan

Question Number : 1 Question Id : 627289301 Display Question Number : Yes Single Line Question Option : No Option Orientation : Vertical

सन् 1947 के विभाजन के बाद भारत में पंजाब राज्य के पहले मुख्यमंत्री कौन थे?

Options :

1. ✘ भीमसेन सचचर
2. ✔ गोपी चंद भार्गव
3. ✘ प्रताप सिंह कैरों
4. ✘ राम किशन

Question Number : 2 Question Id : 627289302 Display Question Number : Yes Single Line Question Option : No Option Orientation : Vertical

The States Reorganisation Commission was set up by the Government of India in which of the following years?

Options :

1. ✘ 1950
2. ✔ 1953
3. ✘ 1955
4. ✘ 1957

Question Number : 2 Question Id : 627289302 Display Question Number : Yes Single Line Question Option : No Option Orientation : Vertical

निम्नलिखित में से किस वर्ष में भारत सरकार द्वारा राज्य पुनर्गठन आयोग की स्थापना की गई थी?

Options :

1. ✘ 1950
2. ✔ 1953
3. ✘ 1955
4. ✘ 1957

Question Number : 3 Question Id : 627289303 Display Question Number : Yes Single Line Question Option : No Option Orientation : Vertical

Which of the following place was formerly known as Sarafabad?

Options :

1. ✔ Bahadurgarh

2. ✘ Farrukhanagar

3. ✘ Rohtak

4. ✘ Sonipat

Question Number : 3 Question Id : 627289303 Display Question Number : Yes Single Line Question Option : No Option Orientation : Vertical

निम्नलिखित में से कौन सा स्थान पहले सराफ़ाबाद के नाम से जाना जाता था?

Options :

1. ✔ बहादुरगढ़

2. ✘ फ़ारूखनगर

3. ✘ रोहतक

4. ✘ सोनीपत

Question Number : 4 Question Id : 627289304 Display Question Number : Yes Single Line Question Option : No Option Orientation : Vertical

Government of Punjab gazetted the establishment of the Haryana Vikas Committee in which year?

Options :

1. ✘ 1958

2. ✘ 1959

3. ✘ 1960

4. ✔ 1961

Question Number : 4 Question Id : 627289304 Display Question Number : Yes Single Line Question Option : No Option Orientation : Vertical

पंजाब सरकार ने किस वर्ष में हरियाणा विकास समिति की स्थापना को राजपत्रित किया था?

Options :

1. ✘ 1958

2. ✘ 1959

3. ✘ 1960

4. ✓ 1961

Question Number : 5 Question Id : 627289305 Display Question Number : Yes Single Line Question Option : No Option Orientation : Vertical

In which year was the state of Haryana formed?

Options :

1. ✗ 1964

2. ✗ 1965

3. ✗ 1967

4. ✓ 1966

Question Number : 5 Question Id : 627289305 Display Question Number : Yes Single Line Question Option : No Option Orientation : Vertical

हरियाणा राज्य का गठन किस वर्ष हुआ था?

Options :

1. ✗ 1964

2. ✗ 1965

3. ✗ 1967

4. ✓ 1966

Question Number : 6 Question Id : 627289306 Display Question Number : Yes Single Line Question Option : No Option Orientation : Vertical

Which among the following sectors has been allocated maximum funds in the Haryana's Budget for the financial year 2017-18?

Options :

1. ✗ Agriculture

2. ✓ Education

3. ✗ Power

4. ✗ Health

Question Number : 6 Question Id : 627289306 Display Question Number : Yes Single Line Question Option : No Option Orientation : Vertical

हरियाणा के बजट में वित्तीय वर्ष 2017-18 के लिए निम्नलिखित में से किस क्षेत्र के लिए अधिकतम निधि निर्धारित की गई?

Options :

1. ✘ कृषि
2. ✔ शिक्षा
3. ✘ विद्युत्
4. ✘ स्वास्थ्य

Question Number : 7 Question Id : 627289307 Display Question Number : Yes Single Line Question Option : No Option Orientation : Vertical

The 1st Haryana Sahitya Sangam was held in:

Options :

1. ✘ Karnal
2. ✔ Panchkula
3. ✘ Gurugram
4. ✘ Faridabad

Question Number : 7 Question Id : 627289307 Display Question Number : Yes Single Line Question Option : No Option Orientation : Vertical

पहला हरियाणा साहित्य संगम कहाँ आयोजित किया गया था?

Options :

1. ✘ करनाल
2. ✔ पंचकुला
3. ✘ गुरुग्राम
4. ✘ फ़रीदाबाद

Question Number : 8 Question Id : 627289308 Display Question Number : Yes Single Line Question Option : No Option Orientation : Vertical

As per 2017-18 estimates, the total revenue receipts for Haryana are expected to grow at:

Options :

1. ✘ 7.1%
2. ✘ 1.8%
3. ✔ 14.06%
4. ✘ 25.01%

Question Number : 8 Question Id : 627289308 Display Question Number : Yes Single Line Question Option : No Option Orientation : Vertical

वर्ष 2017-18 में एक अनुमान के अनुसार, हरियाणा की कुल राजस्व प्राप्तियों में कितनी वृद्धि की संभावना है?

Options :

1. ✘ 7.1%
2. ✘ 1.8%
3. ✔ 14.06%
4. ✘ 25.01%

Question Number : 9 Question Id : 627289309 Display Question Number : Yes Single Line Question Option : No Option Orientation : Vertical

Who among the following has written the storybook "Roti Tantra"?

Options :

1. ✘ Madan Lal Sharma
2. ✘ Rajendra Swaroop Vatsa
3. ✘ Vivek Neejhavan
4. ✔ Sushil 'Rajesh'

Question Number : 9 Question Id : 627289309 Display Question Number : Yes Single Line Question Option : No Option Orientation : Vertical

निम्नलिखित में से किसने कथा पुस्तक "रोटी तंत्र" लिखी है?

Options :

1. ✘ मदन लाल शर्मा
2. ✘ राजेंद्र स्वरूप वत्स

3. ✘ विवेक नीझावन

4. ✔ सुशील 'राजेश'

Question Number : 10 Question Id : 627289310 Display Question Number : Yes Single Line Question Option : No Option Orientation : Vertical

The novel "Vaishali Sundari" is written by:-

Options :

1. ✔ Indira Swapn

2. ✘ Subhash Rastogi

3. ✘ Kripal Singh

4. ✘ Ram Kumar Atree

Question Number : 10 Question Id : 627289310 Display Question Number : Yes Single Line Question Option : No Option Orientation : Vertical

"वैशाली सुन्दरी" नामक उपन्यास के लेखक हैं:

Options :

1. ✔ इंदिरा स्वप्न

2. ✘ सुभाष रस्तोगी

3. ✘ कृपाल सिंह

4. ✘ राम कुमार अत्री

Question Number : 11 Question Id : 627289311 Display Question Number : Yes Single Line Question Option : No Option Orientation : Vertical

Who among the following is the author of the book 'Samudra Ka Sansaar'?

Options :

1. ✘ Kamla Chamola

2. ✘ Bharat Bhushan Sanghiwal

3. ✔ Ashok Bhatia

4. ✘ Jai Bhagwan Goyal

Question Number : 11 Question Id : 627289311 Display Question Number : Yes Single Line Question Option : No Option Orientation : Vertical

निम्नलिखित में से कौन 'समुद्र का संसार' नामक पुस्तक के लेखक हैं?

Options :

1. ✘ कमला चमोला
2. ✘ भारत भूषण सांघीवाल
3. ✔ अशोक भाटिया
4. ✘ जय भगवान गोयल

Question Number : 12 Question Id : 627289312 Display Question Number : Yes Single Line Question Option : No Option Orientation : Vertical

A famous International Crafts Mela is held every year at _____ in Haryana.

Options :

1. ✘ Panipat
2. ✘ Sonipat
3. ✔ Surajkund
4. ✘ Kurukshetra

Question Number : 12 Question Id : 627289312 Display Question Number : Yes Single Line Question Option : No Option Orientation : Vertical

हरियाणा के _____ में प्रति वर्ष एक प्रसिद्ध अंतर्राष्ट्रीय शिल्प मेला आयोजित किया जाता है।

Options :

1. ✘ पानीपत
2. ✘ सोनीपत
3. ✔ सूरजकुंड
4. ✘ कुरुक्षेत्र

Question Number : 13 Question Id : 627289313 Display Question Number : Yes Single Line Question Option : No Option Orientation : Vertical

According to the India Meteorological Department, which place in Haryana recorded the highest temperature this year (2017), reaching 44.3 degrees Celsius?

Options :

1. ✘ Rewari
2. ✔ Hisar
3. ✘ Sohna
4. ✘ Ropar

Question Number : 13 Question Id : 627289313 Display Question Number : Yes Single Line Question Option : No Option Orientation : Vertical

भारतीय मौसम विभाग कार्यालय के अनुसार, इस वर्ष (2017) हरियाणा में किस स्थान का तापमान सबसे अधिक दर्ज किया गया, जो 44.3 डिग्री सेल्सियस तक पहुंच गया था?

Options :

1. ✘ रेवाड़ी
2. ✔ हिसार
3. ✘ सोहना
4. ✘ रोपड़

Question Number : 14 Question Id : 627289314 Display Question Number : Yes Single Line Question Option : No Option Orientation : Vertical

Haryana lies between the latitudes:

Options :

1. ✘ 22°19' N to 25°25' N
2. ✘ 23°32' N to 26°52' N
3. ✘ 25°29' N to 28°15' N
4. ✔ 27°39' N to 30°55' N

Question Number : 14 Question Id : 627289314 Display Question Number : Yes Single Line Question Option : No Option Orientation : Vertical

हरियाणा निम्नलिखित में से किन अक्षांशों के बीच स्थित है:

Options :

1. ✘ 22°19' उ से 25°25' उ
2. ✘ 23°32' उ से 26°52' उ
3. ✘ 25°29' उ से 28°15' उ
4. ✔ 27°39' उ से 30°55' उ

Question Number : 15 Question Id : 627289315 Display Question Number : Yes Single Line Question Option : No Option Orientation : Vertical

Which Chief Minister of Haryana has the distinction of becoming the Defence Minister, Transport Minister and Railway Minister of India?

Options :

1. ✘ Bhajanlal
2. ✘ Banarsi Das Gupta
3. ✔ Chaudhary Bansilal
4. ✘ Devilal

Question Number : 15 Question Id : 627289315 Display Question Number : Yes Single Line Question Option : No Option Orientation : Vertical

हरियाणा के किस मुख्यमंत्री को भारत का रक्षा मंत्री, परिवहन मंत्री और रेल मंत्री बनने का गौरव प्राप्त है?

Options :

1. ✘ भजनलाल
2. ✘ बनारसी दास गुप्ता
3. ✔ चौधरी बंसी लाल
4. ✘ देवीलाल

Question Number : 16 Question Id : 627289316 Display Question Number : Yes Single Line Question Option : No Option Orientation : Vertical

How many times has President's rule been imposed in Haryana?

Options :

1. ✘ Two
2. ✔ Three
3. ✘ Four
4. ✘ Five

Question Number : 16 Question Id : 627289316 Display Question Number : Yes Single Line Question Option : No Option Orientation : Vertical

हरियाणा में राष्ट्रपति शासन कितनी बार लगाया गया है?

Options :

1. ✘ दो
2. ✔ तीन
3. ✘ चार
4. ✘ पांच

Question Number : 17 Question Id : 627289317 Display Question Number : Yes Single Line Question Option : No Option Orientation : Vertical

Under the Haryana Panchayati Raj Act, 1994 a Gram Sabha is required to be established in each village having a minimum population of _____.

Options :

1. ✘ 300
2. ✔ 500
3. ✘ 800
4. ✘ 1000

Question Number : 17 Question Id : 627289317 Display Question Number : Yes Single Line Question Option : No Option Orientation : Vertical

हरियाणा पंचायती राज अधिनियम, 1994 के अंतर्गत न्यूनतम _____ की आबादी वाले प्रत्येक गाँव में एक ग्राम पंचायत का होना आवश्यक है।

Options :

1. ✘ 300
2. ✔ 500

3. ✘ 800

4. ✘ 1000

Question Number : 18 Question Id : 627289318 Display Question Number : Yes Single Line Question Option : No Option Orientation : Vertical

The number of members of the Panchayat Samitis has been determined under _____ of the Haryana Panchayati Raj Act, 1994.

Options :

1. ✘ section 50

2. ✘ section 52

3. ✔ section 58

4. ✘ section 62

Question Number : 18 Question Id : 627289318 Display Question Number : Yes Single Line Question Option : No Option Orientation : Vertical

पंचायत समिति के सदस्यों की संख्या हरियाणा पंचायती राज अधिनियम, 1994 की _____ के अंतर्गत निर्धारित की गई है।

Options :

1. ✘ धारा 50

2. ✘ धारा 52

3. ✔ धारा 58

4. ✘ धारा 62

Question Number : 19 Question Id : 627289319 Display Question Number : Yes Single Line Question Option : No Option Orientation : Vertical

Select the incorrect option among the following.

According to National Disaster Management Authority, soil erosion in Haryana occurs due to _____.

Options :

1. ✔ tidal waves dashing against coastal rocks

2. ✘ water falling in the foothills and mountain ranges

3. ✘ wind, mainly in sandy and dry belt areas

4. ✘ alkalinity, salinity and water logging

Question Number : 19 Question Id : 627289319 Display Question Number : Yes Single Line Question Option : No Option Orientation : Vertical

निम्नलिखित में से ग़लत विकल्प का चयन करें।

राष्ट्रीय आपदा प्रबंधन प्राधिकरण के अनुसार, हरियाणा में मिट्टी का क्षरण _____ के कारण होता है।

Options :

1. ✔ तटीय चट्टानों से ज्वार की तेज़ लहर के टकराव

2. ✘ निचली पहाड़ियों और पर्वत श्रृंखलाओं में गिरने वाले पानी

3. ✘ मुख्यतः रेतीले और शुष्क बेल्ट क्षेत्रों में हवा

4. ✘ क्षारीयता, लवणता और जलानुबेधन

Question Number : 20 Question Id : 627289320 Display Question Number : Yes Single Line Question Option : No Option Orientation : Vertical

_____ is located in Hisar.

Options :

1. ✔ National Research Centre on Equines

2. ✘ National Dairy Research Institute

3. ✘ National Institute of Solar Energy

4. ✘ Sugarcane Breeding Institute

Question Number : 20 Question Id : 627289320 Display Question Number : Yes Single Line Question Option : No Option Orientation : Vertical

_____ हिसार में स्थित है।

Options :

1. ✔ राष्ट्रीय अश्व अनुसंधान केन्द्र

2. ✘ राष्ट्रीय डेयरी अनुसंधान संस्थान

3. ✘ राष्ट्रीय सौर ऊर्जा संस्थान

4. ✘ गन्ना प्रजनन संस्थान

Question Number : 21 Question Id : 627289321 Display Question Number : Yes Single Line Question Option : No Option Orientation : Vertical

The total number of districts as on September 2017 in the state of Haryana was _____.

Options :

1. ✔ 22

2. ✘ 21

3. ✘ 20

4. ✘ 23

Question Number : 21 Question Id : 627289321 Display Question Number : Yes Single Line Question Option : No Option Orientation : Vertical

सितंबर 2017 तक हरियाणा राज्य में कुल ज़िलों की संख्या _____ थी।

Options :

1. ✔ 22

2. ✘ 21

3. ✘ 20

4. ✘ 23

Question Number : 22 Question Id : 627289322 Display Question Number : Yes Single Line Question Option : No Option Orientation : Vertical

Chaitra Chaudas Mela is celebrated in Pehowa:

Options :

1. ✔ To perform rituals of offering food and water to the departed souls of ancestors

2. ✘ To show various folk dances and musical instruments

3. ✘ To worship Lord Rama and Goddess Durga

4. ✘ To worship snakes

Question Number : 22 Question Id : 627289322 Display Question Number : Yes Single Line Question Option : No Option Orientation : Vertical

पेहोवा में चैत्र चौदस मेला क्यों मनाया जाता है?

Options :

1. ✔ पूर्वजों की आत्माओं को भोजन और पानी देने की रस्में निभाने के लिए।
2. ✘ विभिन्न लोक नृत्यों और संगीत वाद्ययंत्रों का प्रदर्शन करने के लिए।
3. ✘ भगवान राम और देवी दुर्गा की पूजा करने के लिए।
4. ✘ साँपों की पूजा करने के लिए।

Question Number : 23 Question Id : 627289323 Display Question Number : Yes Single Line Question Option : No Option Orientation : Vertical

Loor dance is generally performed during the festival of:

Options :

1. ✔ Holi
2. ✘ Deepawali
3. ✘ Janmashtami
4. ✘ Dussehra

Question Number : 23 Question Id : 627289323 Display Question Number : Yes Single Line Question Option : No Option Orientation : Vertical

लूर नृत्य आम तौर पर कौन से उत्सव के दौरान किया जाता है?

Options :

1. ✔ होली
2. ✘ दीपावली
3. ✘ जन्माष्टमी
4. ✘ दशहरा

Question Number : 24 Question Id : 627289324 Display Question Number : Yes Single Line Question Option : No Option Orientation : Vertical

The Khoria dance is a variant of:

Options :

1. ✘ the Gugga dance
2. ✔ the Jhumar dance
3. ✘ the Loor dance
4. ✘ the Dhamal dance

Question Number : 24 Question Id : 627289324 Display Question Number : Yes Single Line Question Option : No Option Orientation : Vertical

खोरिया नृत्य इनमें से किस नृत्य का एक प्रकार है?

Options :

1. ✘ गुग्गा नृत्य
2. ✔ झूमर नृत्य
3. ✘ लूर नृत्य
4. ✘ धमाल नृत्य

Question Number : 25 Question Id : 627289325 Display Question Number : Yes Single Line Question Option : No Option Orientation : Vertical

Which among the following dance forms of Haryana is performed only by males?

Options :

1. ✘ Khoria
2. ✔ Gugga
3. ✘ Jhumar
4. ✘ Loor

Question Number : 25 Question Id : 627289325 Display Question Number : Yes Single Line Question Option : No Option Orientation : Vertical





हरियाणा की निम्नलिखित में से किस नृत्य शैली का प्रदर्शन केवल पुरुषों द्वारा क्या किया जाता है?

Options :

1. ✘ खोरिया
2. ✔ गुग्गा
3. ✘ झूमर
4. ✘ लूर

Question Number : 26 Question Id : 627289326 Display Question Number : Yes Single Line Question Option : No Option Orientation : Vertical

‘अदभुत’ के लिए सही शब्द-चिह्न बताएँ:





- A. 
- B. 
- C. 
- D. 

Options :

1. ✘ A
2. ✔ B
3. ✘ C
4. ✘ D

Question Number : 26 Question Id : 627289326 Display Question Number : Yes Single Line Question Option : No Option Orientation : Vertical

'अदभुत' के लिए सही शब्द-चिह्न बताएँ:

- A. 
- B. 
- C. 
- D. 

Options :

1. ✘ A
2. ✔ B
3. ✘ C
4. ✘ D

Question Number : 27 Question Id : 627289327 Display Question Number : Yes Single Line Question Option : No Option Orientation : Vertical

किसी व्यंजन में छोटा वृत्त लगाने से क्या बनता है?

Options :

1. ✘ ग
2. ✘ व
3. ✔ स
4. ✘ ह

Question Number : 27 Question Id : 627289327 Display Question Number : Yes Single Line Question Option : No Option Orientation : Vertical

किसी व्यंजन में छोटा वृत्त लगाने से क्या बनता है?

Options :

1. ✘ ग

2. ✘ व

3. ✔ स

4. ✘ ह

Question Number : 28 Question Id : 627289328 Display Question Number : Yes Single Line Question Option : No Option Orientation : Vertical

इस शब्दांश को पहचानें: स

Options :

1. ✔ सामाचार-पत्र

2. ✘ समस्त

3. ✘ समचार

4. ✘ समशस्त्र

Question Number : 28 Question Id : 627289328 Display Question Number : Yes Single Line Question Option : No Option Orientation : Vertical

इस शब्दांश को पहचानें: स

Options :

1. ✔ सामाचार-पत्र

2. ✘ समस्त

3. ✘ समचार

4. ✘ समशस्त्र

Question Number : 29 Question Id : 627289329 Display Question Number : Yes Single Line Question Option : No Option Orientation : Vertical

शब्द के अंत में दार-घार या त्र पढ़ने के लिए व्यंजन के अंत में 'स्थ' चाप की तरफ क्या लगाना पड़ता है?

Options :

1. ✘ बड़ा चाप

2. ✔ छोटा चाप

3. ✘ ऊपर चाप

4. ✘ नीचे चाप

Question Number : 29 Question Id : 627289329 Display Question Number : Yes Single Line Question Option : No Option Orientation : Vertical

शब्द के अंत में दार-घार या व्र पढ़ने के लिए व्यंजन के अंत में 'स्थ' चाप की तरफ क्या लगाना पड़ता है?

Options :

1. ✘ बड़ा चाप


2. ✔ छोटा चाप


3. ✘ ऊपर चाप


4. ✘ नीचे चाप


Question Number : 30 Question Id : 627289330 Display Question Number : Yes Single Line Question Option : No Option Orientation : Vertical

'आकर्षण' को संक्षिप्त उपसर्ग के अनुसार लिखें:

A. 

B. 

C. 

D. 

Options :

1. ✘ A


2. ✔ B


3. ✘ C

4. ✘ D


Question Number : 30 Question Id : 627289330 Display Question Number : Yes Single Line Question Option : No Option Orientation : Vertical

'आकर्षण' को संक्षिप्त उपसर्ग के अनुसार लिखें:

A.  _____

B.  _____

C.  _____

D.  _____

Options :

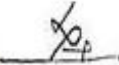
1. ✘ A

2. ✔ B

3. ✘ C

4. ✘ D

Question Number : 31 Question Id : 627289331 Display Question Number : Yes Single Line Question Option : No Option Orientation : Vertical

वाक्यांश-चिह्न  का सही वाक्यांश बताएँ।

Options :

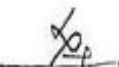
1. ✔ जैसा कि पहले कहा जा चुका है

2. ✘ जैसा ही पहले कहा जा चुका है

3. ✘ जैसा कि पहले जा चुका है

4. ✘ जैसा कि पहले जाता है

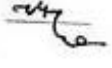
Question Number : 31 Question Id : 627289331 Display Question Number : Yes Single Line Question Option : No Option Orientation : Vertical

वाक्यांश-चिह्न  का सही वाक्यांश बताएँ।

Options :

1. ✓ जैसा कि पहले कहा जा चुका है
2. ✘ जैसा ही पहले कहा जा चुका है
3. ✘ जैसा कि पहले जा चुका है
4. ✘ जैसा कि पहले जाता है

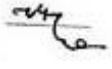
Question Number : 32 Question Id : 627289332 Display Question Number : Yes Single Line Question Option : No Option Orientation : Vertical

वाक्यांश  को पूर्ण नियमानुसार पहचानें।

Options :

1. ✓ कर्तव्य करते रहना होगा
2. ✘ कर्तव्य करते रहा होगा
3. ✘ कर्तव्य कर रहा होगा
4. ✘ कर्तव्य किया होगा


Question Number : 32 Question Id : 627289332 Display Question Number : Yes Single Line Question Option : No Option Orientation : Vertical

वाक्यांश  को पूर्ण नियमानुसार पहचानें।

Options :

1. ✓ कर्तव्य करते रहना होगा
2. ✘ कर्तव्य करते रहा होगा
3. ✘ कर्तव्य कर रहा होगा
4. ✘ कर्तव्य किया होगा


Question Number : 33 Question Id : 627289333 Display Question Number : Yes Single Line Question Option : No Option Orientation : Vertical

संकेत  को पूर्ण नियमानुसार पहचानें।

Options :

1. ✓ हिन्दी प्रचार समिति
2. ✗ हिन्दी चार समिति
3. ✗ हिन्दुस्तान प्रचार समिति
4. ✗ हिन्दी प्रचार सम्पादक

Question Number : 33 Question Id : 627289333 Display Question Number : Yes Single Line Question Option : No Option Orientation : Vertical

संकेत  को पूर्ण नियमानुसार पहचानें।

Options :

1. ✓ हिन्दी प्रचार समिति
2. ✗ हिन्दी चार समिति
3. ✗ हिन्दुस्तान प्रचार समिति
4. ✗ हिन्दी प्रचार सम्पादक


Question Number : 34 Question Id : 627289334 Display Question Number : Yes Single Line Question Option : No Option Orientation : Vertical

‘पहुँचना’ का सही शब्द-चिह्न पहचानें:

A. 

B. 

C. 

D. 

Options :

1. ✘ A

2. ✘ B

3. ✘ C

4. ✔ D


Question Number : 34 Question Id : 627289334 Display Question Number : Yes Single Line Question Option : No Option Orientation : Vertical

‘पहुँचना’ का सही शब्द-चिह्न पहचानें:

A. 

B. 

C. 

D. 

Options :

1. ✘ A

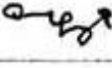
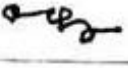

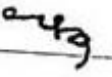
2. ✘ B

3. ✘ C

4. ✔ D

Question Number : 35 Question Id : 627289335 Display Question Number : Yes Single Line Question Option : No Option Orientation : Vertical

'आवश्यकता नहीं मालूम हो तो' के लिए सही वाक्यांश-चिह्न पहचानें:

A. B. C. D. 

Options :

1. ✘ A

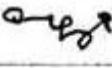
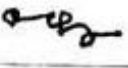

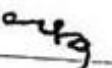
2. ✘ B

3. ✘ C

4. ✔ D

Question Number : 35 Question Id : 627289335 Display Question Number : Yes Single Line Question Option : No Option Orientation : Vertical

'आवश्यकता नहीं मालूम हो तो' के लिए सही वाक्यांश-चिह्न पहचानें:

A. B. C. D. 

Options :

1. ✘ A

2. ✘ B

3. ✘ C

4. ✔ D

Question Number : 36 Question Id : 627289336 Display Question Number : Yes Single Line Question Option : No Option Orientation : Vertical

पूर्ण नियमानुसार संकेत ————— को पढ़ें।

Options :

1. ✔ प्रचार समिति

2. ✘ प्रचार सम्पादक

3. ✘ प्रचार सम्पर्क

4. ✘ प्रचार संबध

Question Number : 36 Question Id : 627289336 Display Question Number : Yes Single Line Question Option : No Option Orientation : Vertical

पूर्ण नियमानुसार संकेत ————— को पढ़ें।

Options :

1. ✔ प्रचार समिति




2. ✘ प्रचार सम्पादक

3. ✘ प्रचार सम्पर्क

4. ✘ प्रचार संबध

Question Number : 37 Question Id : 627289337 Display Question Number : Yes Single Line Question Option : No Option Orientation : Vertical

‘बिजली’ का सही संकेत बताएँ:

- A. 
- B. 
- C. 
- D. 

Options :

1. ✘ A
2. ✔ B
3. ✘ C
4. ✘ D

Question Number : 37 Question Id : 627289337 Display Question Number : Yes Single Line Question Option : No Option Orientation : Vertical

‘बिजली’ का सही संकेत बताएँ:

- A. 
- B. 
- C. 
- D. 

Options :

1. ✘ A
2. ✔ B
3. ✘ C
4. ✘ D

Question Number : 38 Question Id : 627289338 Display Question Number : Yes Single Line Question Option : No Option Orientation : Vertical

'परन्तु' का सही संकेत बताएँ:

A.

B.

C.

D.

Options :

1. ✘ A

2. ✘ B

3. ✘ C

4. ✔ D

Question Number : 38 Question Id : 627289338 Display Question Number : Yes Single Line Question Option : No Option Orientation : Vertical

'परन्तु' का सही संकेत बताएँ:

A.

B.

C.

D.

Options :

1. ✘ A

2. ✘ B

3. ✘ C

4. ✓ D

Question Number : 39 Question Id : 627289339 Display Question Number : Yes Single Line Question Option : No Option Orientation : Vertical

पूर्ण नियमानुसार _____ संकेत का अर्थ बताएँ।

Options :

1. ✓ हिन्दी पत्र संपादक
2. ✗ हिन्दी पत्र समिति
3. ✗ हिन्दुस्तान पत्र संपादक
4. ✗ हिन्दी पत्र संपर्क

Question Number : 39 Question Id : 627289339 Display Question Number : Yes Single Line Question Option : No Option Orientation : Vertical

पूर्ण नियमानुसार _____ संकेत का अर्थ बताएँ।

Options :

1. ✓ हिन्दी पत्र संपादक
2. ✗ हिन्दी पत्र समिति
3. ✗ हिन्दुस्तान पत्र संपादक
4. ✗ हिन्दी पत्र संपर्क

Question Number : 40 Question Id : 627289340 Display Question Number : Yes Single Line Question Option : No Option Orientation : Vertical

_____ के लिए सही वाक्यांश बताएँ।

Options :

1. ✗ इसके बाद
2. ✗ इसके विवाद

3. ✘ इसकी बात

4. ✔ इसी के बाद

Question Number : 40 Question Id : 627289340 Display Question Number : Yes Single Line Question Option : No Option Orientation : Vertical

_____ के लिए सही वाक्यांश बताएँ।

Options :

1. ✘ इसके बाद


2. ✘ इसके विवाद


3. ✘ इसकी बात

4. ✔ इसी के बाद

Question Number : 41 Question Id : 627289341 Display Question Number : Yes Single Line Question Option : No Option Orientation : Vertical

'पछताना' का सही शब्द-चिह्न बताएँ।

A. 

B. 

C. 

D. 

Options :

1. ✔ A





2. ✘ B

3. ✘ C

4. ✘ D

Question Number : 41 Question Id : 627289341 Display Question Number : Yes Single Line Question Option : No Option Orientation : Vertical

‘पछताना’ का सही शब्द-चिह्न बताएँ।





- A. 
- B. 
- C. 
- D. 

Options :

1. ✓ A
2. ✗ B
3. ✗ C
4. ✗ D

Question Number : 42 Question Id : 627289342 Display Question Number : Yes Single Line Question Option : No Option Orientation : Vertical

समनान्तर-शब्द नियम के अनुसार ‘हरियाली ही हरियाली’ का सही संकेत बताएँ:

- A. 
- B. 
- C. 
- D. 

Options :

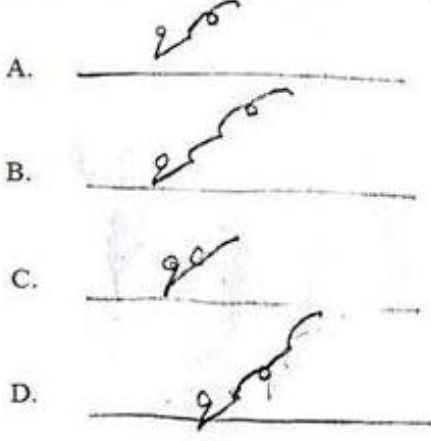
1. ✓ A
2. ✗ B

3. ✘ C

4. ✘ D

Question Number : 42 Question Id : 627289342 Display Question Number : Yes Single Line Question Option : No Option Orientation : Vertical

समनान्तर-शब्द नियम के अनुसार 'हरियाली ही हरियाली' का सही संकेत बताएँ:



Options :

1. ✔ A

2. ✘ B

3. ✘ C

4. ✘ D

Question Number : 43 Question Id : 627289343 Display Question Number : Yes Single Line Question Option : No Option Orientation : Vertical

संकेत लिपि सीखने के उपरान्त व्यक्ति नौकरी में किस पद पर नियुक्त होता है?

Options :

1. ✘ पेशकार (क्लर्क)

2. ✔ आशुलिपिक (स्टेनोग्राफर)

3. ✘ रवजांची (कैशियर)

4. ✘ लेखाकार (एकाउन्टेंट)

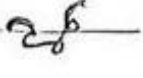
Question Number : 43 Question Id : 627289343 Display Question Number : Yes Single Line Question Option : No Option Orientation : Vertical

संकेत लिपि सीखने के उपरान्त व्यक्ति नौकरी में किस पद पर नियुक्त होता है?

Options :

1. ✘ पेशकार (क्लर्क)
2. ✔ आशुलिपिक (स्टेनोग्राफर)
3. ✘ रवजांची (कैशियर)
4. ✘ लेखाकार (एकाउन्टेंट)

Question Number : 44 Question Id : 627289344 Display Question Number : Yes Single Line Question Option : No Option Orientation : Vertical

स्वास्थ्य विभाग से संबंधित वाक्यांश  को पहचानें।

Options :

1. ✔ मेडिकल ऑफिसर ऑफ हेल्थ
2. ✘ मेडिकल ऑफिसर ऑफ हास्पिटल
3. ✘ मेडिकल ऑफिसर ऑफ विभाग
4. ✘ मेडिकल ऑफिसर ऑफ सिविल समिति

Question Number : 44 Question Id : 627289344 Display Question Number : Yes Single Line Question Option : No Option Orientation : Vertical





स्वास्थ्य विभाग से संबंधित वाक्यांश  को पहचानें।

Options :

1. ✔ मेडिकल ऑफिसर ऑफ हेल्थ
2. ✘ मेडिकल ऑफिसर ऑफ हास्पिटल
3. ✘ मेडिकल ऑफिसर ऑफ विभाग
4. ✘ मेडिकल ऑफिसर ऑफ सिविल समिति

Question Number : 45 Question Id : 627289345 Display Question Number : Yes Single Line Question Option : No Option Orientation : Vertical

'इस्तेमाल होना चाहिए' वाक्यांश के लिए चिह्न को पहचानें।





- A. 
- B. 
- C. 
- D. 

Options :

1. ✘ A
2. ✔ B
3. ✘ C
4. ✘ D

Question Number : 45 Question Id : 627289345 Display Question Number : Yes Single Line Question Option : No Option Orientation : Vertical

'इस्तेमाल होना चाहिए' वाक्यांश के लिए चिह्न को पहचानें।

- A. 
- B. 
- C. 
- D. 

Options :

1. ✘ A
2. ✔ B
3. ✘ C

4. ✘ D

Question Number : 46 Question Id : 627289346 Display Question Number : Yes Single Line Question Option : No Option Orientation : Vertical

Fill in the blanks in the sentence below with suitable articles. Choose your answer from the options given:

___ Governor of Puerto Rico, ___ US territory, has told ___ island's 3.5 million people to seek shelter.

Options :

1. ✘ A, a, the
2. ✘ The, the, the
3. ✔ The, a, the
4. ✘ A, an, the

Question Number : 46 Question Id : 627289346 Display Question Number : Yes Single Line Question Option : No Option Orientation : Vertical

Fill in the blanks in the sentence below with suitable articles. Choose your answer from the options given:

___ Governor of Puerto Rico, ___ US territory, has told ___ island's 3.5 million people to seek shelter.

Options :

1. ✘ A, a, the
2. ✘ The, the, the
3. ✔ The, a, the
4. ✘ A, an, the

Question Number : 47 Question Id : 627289347 Display Question Number : Yes Single Line Question Option : No Option Orientation : Vertical

Fill in the blanks in the sentence below with suitable articles. Choose your answer from the options given:

From his desk at ___ European Space Operations Centre in Darmstadt, Germany, space debris analyst Tim Flohrer keeps track of ___ 23,000 or so catalogued objects currently orbiting ___ Earth.

Options :

1. ✔ the, the, the

2. ✘ an, the, the

3. ✘ a, the, an

4. ✘ the, the, an

Question Number : 47 Question Id : 627289347 Display Question Number : Yes Single Line Question Option : No Option Orientation : Vertical

Fill in the blanks in the sentence below with suitable articles. Choose your answer from the options given:

From his desk at ___ European Space Operations Centre in Darmstadt, Germany, space debris analyst Tim Flohrer keeps track of ___ 23,000 or so catalogued objects currently orbiting ___ Earth.

Options :

1. ✔ the, the, the

2. ✘ an, the, the

3. ✘ a, the, an

4. ✘ the, the, an

Question Number : 48 Question Id : 627289348 Display Question Number : Yes Single Line Question Option : No Option Orientation : Vertical

From the options given, choose the one that has the correct prepositions:

Options :

1. ✘

The 34-year-old, at Perthshire, arrived in Paris one day ahead of schedule having cycled the 18,000-mile route in 79 days.

2. ✘

The 34-year-old, from Perthshire, arrived on Paris one day ahead of schedule having cycled the 18,000-mile route in 79 days.

3. ✘

The 34-year-old, from Perthshire, arrived in Paris one day ahead of schedule having cycled the 18,000-mile route since 79 days.

4. ✔

The 34-year-old, from Perthshire, arrived in Paris one day ahead of schedule having cycled the 18,000-mile route in 79 days.

Question Number : 48 Question Id : 627289348 Display Question Number : Yes Single Line Question Option : No Option Orientation : Vertical

From the options given, choose the one that has the correct prepositions:

Options :

1. ✘

The 34-year-old, at Perthshire, arrived in Paris one day ahead of schedule having cycled the 18,000-mile route in 79 days.

2. ✘

The 34-year-old, from Perthshire, arrived on Paris one day ahead of schedule having cycled the 18,000-mile route in 79 days.

3. ✘

The 34-year-old, from Perthshire, arrived in Paris one day ahead of schedule having cycled the 18,000-mile route since 79 days.

4. ✔

The 34-year-old, from Perthshire, arrived in Paris one day ahead of schedule having cycled the 18,000-mile route in 79 days.

Question Number : 49 Question Id : 627289349 Display Question Number : Yes Single Line Question Option : No Option Orientation : Vertical

Fill in the blank in the sentence below with a suitable modal verb. Choose your answer from the options given:

Rather than obsessing about something that might not even exist, experts like Dr Bhagat wish the media and others ____ focus more on real mental health issues in young people.

Options :

1. ✘ can

2. ✘ could

3. ✔ would

4. ✘ must

Question Number : 49 Question Id : 627289349 Display Question Number : Yes Single Line Question Option : No Option Orientation : Vertical

Fill in the blank in the sentence below with a suitable modal verb. Choose your answer from the options given:

Rather than obsessing about something that might not even exist, experts like Dr Bhagat wish the media and others ____ focus more on real mental health issues in young people.

Options :

1. ✘ can

2. ✘ could

3. ✔ would

4. ✘ must

Question Number : 50 Question Id : 627289350 Display Question Number : Yes Single Line Question Option : No Option Orientation : Vertical

A sentence is given in four parts as options. One of the parts contains an error. Choose the option that has the error:

Options :

1. ✘ Inspired by Jules Verne's classic
2. ✘ adventure novel Around The World In Eighty Days,
3. ✘ Mark Beaumont began his journey from Paris on 2 July and cycled
4. ✔ thorough Europe, Russia, Mongolia and China.

Question Number : 50 Question Id : 627289350 Display Question Number : Yes Single Line Question Option : No Option Orientation : Vertical

A sentence is given in four parts as options. One of the parts contains an error. Choose the option that has the error:

Options :

1. ✘ Inspired by Jules Verne's classic
2. ✘ adventure novel Around The World In Eighty Days,
3. ✘ Mark Beaumont began his journey from Paris on 2 July and cycled
4. ✔ thorough Europe, Russia, Mongolia and China.

Question Number : 51 Question Id : 627289351 Display Question Number : Yes Single Line Question Option : No Option Orientation : Vertical

Choose the option that offers the correct **synonym** of the highlighted word in the sentence given below. Pay attention to the meaning of the highlighted word in context of the sentence:

"The experience has been **incredible**, and I'm excited to share this journey for years to come."

Options :

1. ✘ absurd
2. ✘ credible
3. ✔ unbelievable
4. ✘ preposterous

Question Number : 51 Question Id : 627289351 Display Question Number : Yes Single Line Question Option : No Option Orientation : Vertical

Choose the option that offers the correct **synonym** of the highlighted word in the sentence given below. Pay attention to the meaning of the highlighted word in context of the sentence:

"The experience has been **incredible**, and I'm excited to share this journey for years to come."

Options :

1. ✘ absurd
2. ✘ credible
3. ✔ unbelievable
4. ✘ preposterous

Question Number : 52 Question Id : 627289352 Display Question Number : Yes Single Line Question Option : No Option Orientation : Vertical

Choose the option that offers the correct **antonym** of the highlighted word in the sentence given below. Pay attention to the meaning of the highlighted word in context of the sentence:

During the trip, the cyclist was **exposed** to sub-zero temperatures in the southern hemisphere and smog from forest fires in North America.

Options :

1. ✘ clothed
2. ✘ blocked
3. ✔ sheltered
4. ✘ withheld

Question Number : 52 Question Id : 627289352 Display Question Number : Yes Single Line Question Option : No Option Orientation : Vertical

Choose the option that offers the correct **antonym** of the highlighted word in the sentence given below. Pay attention to the meaning of the highlighted word in context of the sentence:

During the trip, the cyclist was **exposed** to sub-zero temperatures in the southern hemisphere and smog from forest fires in North America.

Options :

1. ✘ clothed
2. ✘ blocked
3. ✔ sheltered
4. ✘ withheld

Question Number : 53 Question Id : 627289353 Display Question Number : Yes Single Line Question Option : No Option Orientation : Vertical

Complete the following sentence using the appropriate collective noun from the options given below.

When you visit Shanghai, don't forget to buy a ___ of pearls for yourself.

Options :

1. ✓ string
2. ✗ pack
3. ✗ mob
4. ✗ oyster

Question Number : 53 Question Id : 627289353 Display Question Number : Yes Single Line Question Option : No Option Orientation : Vertical

Complete the following sentence using the appropriate collective noun from the options given below.

When you visit Shanghai, don't forget to buy a ___ of pearls for yourself.

Options :

1. ✓ string
2. ✗ pack
3. ✗ mob
4. ✗ oyster

Question Number : 54 Question Id : 627289354 Display Question Number : Yes Single Line Question Option : No Option Orientation : Vertical

From the options given below, choose such an option that could substitute the highlighted words in the below sentence:

Many young authors of today **write under a different name**.

Options :

1. ✗ Zealot
2. ✓ Pseudonym
3. ✗ Anonymous
4. ✗ Illegible

Question Number : 54 Question Id : 627289354 Display Question Number : Yes Single Line Question Option : No Option Orientation : Vertical

From the options given below, choose such an option that could substitute the highlighted words in the below sentence:

Many young authors of today write under a different name.

Options :

1. ✘ Zealot
2. ✔ Pseudonym
3. ✘ Anonymous
4. ✘ Illegible

Question Number : 55 Question Id : 627289355 Display Question Number : Yes Single Line Question Option : No Option Orientation : Vertical

From the options given below, choose the one that has the **highlighted** word spelt correctly:

Options :

1. ✘ Preparing this **questionnaire** was a daunting task.
2. ✘ Preparing this **questionniare** was a daunting task.
3. ✔ Preparing this **questionnaire** was a daunting task.
4. ✘ Preparing this **questionnaier** was a daunting task.

Question Number : 55 Question Id : 627289355 Display Question Number : Yes Single Line Question Option : No Option Orientation : Vertical

From the options given below, choose the one that has the **highlighted** word spelt correctly:

Options :

1. ✘ Preparing this **questionnaire** was a daunting task.
2. ✘ Preparing this **questionniare** was a daunting task.
3. ✔ Preparing this **questionnaire** was a daunting task.
4. ✘ Preparing this **questionnaier** was a daunting task.

Question Number : 56 Question Id : 627289356 Display Question Number : Yes Single Line Question Option : No Option Orientation : Vertical

'वागीश' शब्द बना है:

Options :

1. ✘ वाग + ईश से
2. ✔ वाक् + ईश से
3. ✘ वा + गीश से
4. ✘ वागी + श से

Question Number : 56 Question Id : 627289356 Display Question Number : Yes Single Line Question Option : No Option Orientation : Vertical

'वागीश' शब्द बना है:

Options :

1. ✘ वाग + ईश से
2. ✔ वाक् + ईश से
3. ✘ वा + गीश से
4. ✘ वागी + श से

Question Number : 57 Question Id : 627289357 Display Question Number : Yes Single Line Question Option : No Option Orientation : Vertical

'विद्यालय' शब्द में कौन-सा समास है?

Options :

1. ✔ तत्पुरुष
2. ✘ द्वंद्व
3. ✘ अव्ययीभाव
4. ✘ द्विगु

Question Number : 57 Question Id : 627289357 Display Question Number : Yes Single Line Question Option : No Option Orientation : Vertical

'विद्यालय' शब्द में कौन-सा समास है?

Options :

1. ✓ तत्पुरुष
2. ✗ द्वंद्व
3. ✗ अव्ययीभाव
4. ✗ द्विगु

Question Number : 58 Question Id : 627289358 Display Question Number : Yes Single Line Question Option : No Option Orientation : Vertical

'जिसका जन्म न हो' वाक्यांश के लिए एक शब्द होगा:

Options :

1. ✗ अजन्म
2. ✗ जन्महीन
3. ✓ अजन्मा
4. ✗ जन्मना

Question Number : 58 Question Id : 627289358 Display Question Number : Yes Single Line Question Option : No Option Orientation : Vertical

'जिसका जन्म न हो' वाक्यांश के लिए एक शब्द होगा:

Options :

1. ✗ अजन्म
2. ✗ जन्महीन
3. ✓ अजन्मा
4. ✗ जन्मना

Question Number : 59 Question Id : 627289359 Display Question Number : Yes Single Line Question Option : No Option Orientation : Vertical

'घोड़ा' शब्द का पर्याय नहीं है:

Options :

1. ✘ अश्व
2. ✘ घोटक
3. ✘ तुरंग
4. ✔ कुरंग

Question Number : 59 Question Id : 627289359 Display Question Number : Yes Single Line Question Option : No Option Orientation : Vertical

‘घोड़ा’ शब्द का पर्याय नहीं है:

Options :

1. ✘ अश्व
2. ✘ घोटक
3. ✘ तुरंग
4. ✔ कुरंग

Question Number : 60 Question Id : 627289360 Display Question Number : Yes Single Line Question Option : No Option Orientation : Vertical

कौन-से शब्द की वर्तनी अशुद्ध है?

Options :

1. ✘ आँख
2. ✔ पाएँ
3. ✘ चंद्रमा
4. ✘ ऐश्वर्य

Question Number : 60 Question Id : 627289360 Display Question Number : Yes Single Line Question Option : No Option Orientation : Vertical

कौन-से शब्द की वर्तनी अशुद्ध है?

Options :

1. ✘ आँख
2. ✔ पाएँ
3. ✘ चंद्रमा
4. ✘ ऐश्वर्य

Question Number : 61 Question Id : 627289361 Display Question Number : Yes Single Line Question Option : No Option Orientation : Vertical

'निर्मल' शब्द का विलोम है:

Options :

1. ✘ उज्ज्वल
2. ✘ अमल
3. ✔ मलिन
4. ✘ स्वच्छ

Question Number : 61 Question Id : 627289361 Display Question Number : Yes Single Line Question Option : No Option Orientation : Vertical

'निर्मल' शब्द का विलोम है:

Options :

1. ✘ उज्ज्वल
2. ✘ अमल
3. ✔ मलिन
4. ✘ स्वच्छ

Question Number : 62 Question Id : 627289362 Display Question Number : Yes Single Line Question Option : No Option Orientation : Vertical

कौन-सा शब्द तत्सम है?

Options :

1. ✘ नाच
2. ✘ मुड़ी

3. ✓ भिक्षा

4. ✗ डंडा

Question Number : 62 Question Id : 627289362 Display Question Number : Yes Single Line Question Option : No Option Orientation : Vertical

कौन-सा शब्द तत्सम है?

Options :

1. ✗ नाच

2. ✗ मुट्ठी

3. ✓ भिक्षा

4. ✗ डंडा

Question Number : 63 Question Id : 627289363 Display Question Number : Yes Single Line Question Option : No Option Orientation : Vertical

'दोहरे लाभ' के लिए उपयुक्त मुहावरा है:

Options :

1. ✓ आम के आम गुठलियों के दाम

2. ✗ अंत भले का भला

3. ✗ इस हाथ दे उस हाथ ले

4. ✗ अशर्फियाँ लुटें कोयले पर मोहर

Question Number : 63 Question Id : 627289363 Display Question Number : Yes Single Line Question Option : No Option Orientation : Vertical

'दोहरे लाभ' के लिए उपयुक्त मुहावरा है:

Options :

1. ✓ आम के आम गुठलियों के दाम

2. ✗ अंत भले का भला

3. ✘ इस हाथ दे उस हाथ ले

4. ✘ अशर्फियाँ लुटेँ कोयले पर मोहर

Question Number : 64 Question Id : 627289364 Display Question Number : Yes Single Line Question Option : No Option Orientation : Vertical

निम्नलिखित में से कौन-सा शब्द तद्रव है?

Options :

1. ✘ अश्रु

2. ✔ गिनती

3. ✘ अग्नि

4. ✘ कपट

Question Number : 64 Question Id : 627289364 Display Question Number : Yes Single Line Question Option : No Option Orientation : Vertical

निम्नलिखित में से कौन-सा शब्द तद्रव है?

Options :

1. ✘ अश्रु

2. ✔ गिनती

3. ✘ अग्नि

4. ✘ कपट

Question Number : 65 Question Id : 627289365 Display Question Number : Yes Single Line Question Option : No Option Orientation : Vertical

'तीर' के लिए कौन सा शब्द प्रयुक्त नहीं होता?

Options :

1. ✘ बाण

2. ✘ किनारा

3. ✔ तीखा

4. ✘ समीप

Question Number : 65 Question Id : 627289365 Display Question Number : Yes Single Line Question Option : No Option Orientation : Vertical

'तीर' के लिए कौन सा शब्द प्रयुक्त नहीं होता?

Options :

1. ✘ बाण

2. ✘ किनारा

3. ✔ तीखा

4. ✘ समीप

Question Number : 66 Question Id : 627289366 Display Question Number : Yes Single Line Question Option : No Option Orientation : Vertical

Select the correct option.

$$\frac{(0.22)^2 + (0.11)^2 - (0.44)(0.11)}{(0.22 - 0.11)} = ?$$

Options :

1. ✘ -0.11

2. ✘ 0.22

3. ✔ 0.11

4. ✘ -0.22

Question Number : 66 Question Id : 627289366 Display Question Number : Yes Single Line Question Option : No Option Orientation : Vertical

सही विकल्प चुनें।

$$\frac{(0.22)^2 + (0.11)^2 - (0.44)(0.11)}{(0.22 - 0.11)} = ?$$

Options :

1. ✘ -0.11

2. ✘ 0.22

3. ✓ 0.11

4. ✗ -0.22

Question Number : 67 Question Id : 627289367 Display Question Number : Yes Single Line Question Option : No Option Orientation : Vertical

Rajesh makes 103 runs in the 15th innings and thus increases his average by 4. The average after the 15th innings is:

Options :

1. ✓ 47

2. ✗ 48

3. ✗ 46

4. ✗ 45

Question Number : 67 Question Id : 627289367 Display Question Number : Yes Single Line Question Option : No Option Orientation : Vertical

राजेश ने 15वीं पारी में 103 रन बनाए जिससे उसके औसत में 4 की वृद्धि हो गई। 15वीं पारी के बाद उसके रनों की औसत होगी:

Options :

1. ✓ 47

2. ✗ 48

3. ✗ 46

4. ✗ 45

Question Number : 68 Question Id : 627289368 Display Question Number : Yes Single Line Question Option : No Option Orientation : Vertical

How many years will it take for a certain sum to become four times itself at a rate of 15% per annum simple interest?

Options :

1. ✓ 20 years

2. ✗ 21 years

3. ✗ 19 years

4. ✗ 22 years

Question Number : 68 Question Id : 627289368 Display Question Number : Yes Single Line Question Option : No Option Orientation : Vertical

साधारण ब्याज़ की 15% वार्षिक दर पर एक निश्चित धनराशि कितने वर्षों में स्वयं की चार गुनी हो जायेगी?

Options :

1. ✓ 20 वर्ष
2. ✗ 21 वर्ष
3. ✗ 19 वर्ष
4. ✗ 22 वर्ष

Question Number : 69 Question Id : 627289369 Display Question Number : Yes Single Line Question Option : No Option Orientation : Vertical

Forty-five percent of a number is 33 less than three-fourth of that number. The number is:

Options :

1. ✗ 115
2. ✗ 125
3. ✗ 135
4. ✓ 110

Question Number : 69 Question Id : 627289369 Display Question Number : Yes Single Line Question Option : No Option Orientation : Vertical

एक संख्या का 45% उसी संख्या के तीन-चौथाई भाग से 33 कम है। वह संख्या है:

Options :

1. ✗ 115
2. ✗ 125
3. ✗ 135
4. ✓ 110

Question Number : 70 Question Id : 627289370 Display Question Number : Yes Single Line Question Option : No Option Orientation : Vertical

One of the roots of the equation $\frac{1}{x+1} + \frac{2}{x+2} = 1$ is:

Options :

1. ✘ $\sqrt{3}$

2. ✘ 2

3. ✔ $\sqrt{2}$

4. ✘ $\sqrt{2}i$

Question Number : 70 Question Id : 627289370 Display Question Number : Yes Single Line Question Option : No Option Orientation : Vertical

समीकरण $\frac{1}{x+1} + \frac{2}{x+2} = 1$ का एक मूल है:

Options :

1. ✘ $\sqrt{3}$

2. ✘ 2

3. ✔ $\sqrt{2}$

4. ✘ $\sqrt{2}i$

Question Number : 71 Question Id : 627289371 Display Question Number : Yes Single Line Question Option : No Option Orientation : Vertical

A student's score in language is 2 times as that of science. His ratio of score of language to math is 2 : 3. The total marks scored in these 3 subjects put together is 180. His score in science is:

Options :

1. ✘ 40

2. ✔ 30

3. ✘ 28

4. ✘ 32

Question Number : 71 Question Id : 627289371 Display Question Number : Yes Single Line Question Option : No Option Orientation : Vertical

एक विद्यार्थी द्वारा भाषा में प्राप्त किये गये अंक विज्ञान में प्राप्त अंकों से 2 गुना हैं। उसके भाषा और गणित के अंकों का अनुपात 2 : 3 है। इन तीनों विषयों में उसके द्वारा प्राप्त अंकों का योग 180 है। विज्ञान में उसके अंक हैं:

Options :

1. ✘ 40

2. ✓ 30

3. ✗ 28

4. ✗ 32

Question Number : 72 Question Id : 627289372 Display Question Number : Yes Single Line Question Option : No Option Orientation : Vertical

Train A and B travel at speed of 60 km/hr and 40 km/hr respectively. They are of equal length. It takes 50 seconds for the trains to cross each other when they are running in the same direction. If they run in opposite directions, the time taken to cross each other completely is:

Options :

1. ✗ 11 Sec

2. ✗ 9 Sec

3. ✗ 12 Sec

4. ✓ 10 Sec

Question Number : 72 Question Id : 627289372 Display Question Number : Yes Single Line Question Option : No Option Orientation : Vertical

दो रेलगाड़ियाँ A और B क्रमशः 60 किमी/ घंटा और 40 किमी/ घंटा की गति से चल रही हैं। दोनों रेलगाड़ियों की लंबाई बराबर है और वे एक ही दिशा में चलते समय एक दूसरे को पार करने में 50 सेकंड का समय लेती हैं। यदि वे विपरीत दिशाओं में चलें, तो उनके द्वारा एक दूसरे को पूरी तरह पार करने में लिया जाने वाला समय होगा:

Options :

1. ✗ 11 सेकंड

2. ✗ 9 सेकंड

3. ✗ 12 सेकंड

4. ✓ 10 सेकंड

Question Number : 73 Question Id : 627289373 Display Question Number : Yes Single Line Question Option : No Option Orientation : Vertical

10 men can make 5,000 chocolates in 5 days working 12 hours a day. In how many days can 15 men make 6,000 chocolates working 6 hours a day?

Options :

1. ✗ 10 days

2. ✘ 4 days

3. ✔ 8 days

4. ✘ 5 days

Question Number : 73 Question Id : 627289373 Display Question Number : Yes Single Line Question Option : No Option Orientation : Vertical

10 पुरुष प्रतिदिन 12 घंटे कार्य करके 5 दिनों में 5,000 चॉकलेट बना सकते हैं। 15 पुरुष प्रतिदिन 6 घंटे कार्य करके कितने दिनों में 6,000 चॉकलेट बना सकते हैं?

Options :

1. ✘ 10 दिन

2. ✘ 4 दिन

3. ✔ 8 दिन

4. ✘ 5 दिन

Question Number : 74 Question Id : 627289374 Display Question Number : Yes Single Line Question Option : No Option Orientation : Vertical

Rice types A and B, worth ₹ 60 per kg and ₹ 65 per kg respectively, are mixed in a certain ratio, so that the shopkeeper gains 10% by selling the resultant mixture at ₹ 68.2 per kg. The ratio of the mixture is:

Options :

1. ✔ 3 : 2

2. ✘ 1 : 2

3. ✘ 2 : 5

4. ✘ 3 : 5

Question Number : 74 Question Id : 627289374 Display Question Number : Yes Single Line Question Option : No Option Orientation : Vertical

चावल की दो किस्मों A और B का मूल्य क्रमशः ₹ 60 प्रति किग्रा और ₹ 65 प्रति किग्रा है। इन्हें एक निश्चित अनुपात में इस प्रकार मिश्रित किया जाता है कि प्राप्त मिश्रण को दूकानदार ₹ 68.2 प्रति किग्रा की दर से बेचकर 10% लाभ अर्जित कर सके। मिश्रण का अनुपात है:

Options :

1. ✔ 3 : 2

2. ✘ 1 : 2

3. ✘ 2 : 5

4. ✘ 3 : 5

Question Number : 75 Question Id : 627289375 Display Question Number : Yes Single Line Question Option : No Option Orientation : Vertical

A shopkeeper cheats to the extent of 10% while buying and selling fruits by using tampered weights. His total gain in percentage is:

Options :

1. ✘ 22%

2. ✔ 21%

3. ✘ 23%

4. ✘ 20%

Question Number : 75 Question Id : 627289375 Display Question Number : Yes Single Line Question Option : No Option Orientation : Vertical

यदि एक दूकानदार फल खरीदने और बेचने में तौल की गड़बड़ी करके 10% तक धोखा देता है, उसके कुल लाभ का प्रतिशत कितना होगा?

Options :

1. ✘ 22%

2. ✔ 21%

3. ✘ 23%

4. ✘ 20%

Question Number : 76 Question Id : 627289376 Display Question Number : Yes Single Line Question Option : No Option Orientation : Vertical

A block of wood floats in water such that two-fifth of its volume is under water. Let d_b and d_w be the density of the block and water. Then d_b/d_w is:

Options :

1. ✘ 0.2

2. ✓ 0.4

3. ✗ 0.6

4. ✗ 0.8

Question Number : 76 Question Id : 627289376 Display Question Number : Yes Single Line Question Option : No Option Orientation : Vertical

लकड़ी का एक ब्लॉक पानी में इस प्रकार तैरता है कि उसका दो-पांचवां भाग पानी के नीचे रहता है। मान लीजिए d_b और d_w क्रमशः ब्लॉक और पानी का घनत्व है। तो d_b/d_w होगा:

Options :

1. ✗ 0.2

2. ✓ 0.4

3. ✗ 0.6

4. ✗ 0.8

Question Number : 77 Question Id : 627289377 Display Question Number : Yes Single Line Question Option : No Option Orientation : Vertical

An object is thrown vertically upwards and rises to a height of 313.6 m. The speed with which it was thrown is:

Options :

1. ✗ 19.6 m/s

2. ✗ 29.4 m/s

3. ✗ 39.2 m/s

4. ✓ 78.4 m/s.

Question Number : 77 Question Id : 627289377 Display Question Number : Yes Single Line Question Option : No Option Orientation : Vertical

किसी वस्तु को उर्ध्वाधर दिशा में ऊपर की ओर फेंका जाता है और वह 313.6 मीटर की ऊंचाई तक जाती है। इसे फेंके जाने की गति है:

Options :

1. ✗ 19.6 मीटर/सेकंड

2. ✗ 29.4 मीटर/सेकंड

3. ✘ 39.2 मीटर/सेकंड

4. ✔ 78.4 मीटर/सेकंड

Question Number : 78 Question Id : 627289378 Display Question Number : Yes Single Line Question Option : No Option Orientation : Vertical

An object is placed on the principal axis of a concave mirror at a point between focus and centre of curvature. The image formed is:

Options :

1. ✔ Real and enlarged

2. ✘ Real and of the same size

3. ✘ Real and diminished

4. ✘ Virtual and enlarged

Question Number : 78 Question Id : 627289378 Display Question Number : Yes Single Line Question Option : No Option Orientation : Vertical

एक वस्तु को अवतल दर्पण के मुख्य अक्ष रेखा पर इसके फोकस और गोलाई के केंद्र के बीच रखा जाता है। लेंस द्वारा बनी छवि है:

Options :

1. ✔ वास्तविक और आकार में बड़ी

2. ✘ वास्तविक और समान आकार की

3. ✘ वास्तविक और संकुचित

4. ✘ आभासी और आकार में बड़ी

Question Number : 79 Question Id : 627289379 Display Question Number : Yes Single Line Question Option : No Option Orientation : Vertical

A ray of light passes from air to a medium 1 (refractive index 1.5) and then into medium 2 (refractive index 1.8). As the ray travels, it bends _____

Options :

1. ✘ away from the normal in both the media

2. ✔ towards the normal in both the media

3. ✘ away from the normal in medium 1 and towards the normal in medium 2
4. ✘ towards the normal in medium 1 and away from the normal in medium 2

Question Number : 79 Question Id : 627289379 Display Question Number : Yes Single Line Question Option : No Option Orientation : Vertical

प्रकाश की एक किरण हवा से होती हुए माध्यम 1 (अपवर्तक सूचकांक 1.5) से और फिर माध्यम 2 (अपवर्तक सूचकांक 1.8) से गुजरती है। किरण आगे बढ़ते हुए, _____ मुड़ जाती है।

Options :

1. ✘ दोनों माध्यमों में अभिलम्ब से दूर
2. ✔ दोनों माध्यमों में अभिलम्ब की तरफ
3. ✘ माध्यम 1 में अभिलम्ब से दूर और माध्यम 2 में अभिलम्ब की तरफ
4. ✘ माध्यम 1 में अभिलम्ब की तरफ और माध्यम 2 में अभिलम्ब से दूर

Question Number : 80 Question Id : 627289380 Display Question Number : Yes Single Line Question Option : No Option Orientation : Vertical

An object, 1.5 cm in size is placed 15 cm in front of a convex lens of focal length 10 cm. The size and the nature of image formed are respectively:

Options :

1. ✘ 3 cm, erect
2. ✔ 3 cm, inverted
3. ✘ 6 cm, erect
4. ✘ 6 cm, inverted

Question Number : 80 Question Id : 627289380 Display Question Number : Yes Single Line Question Option : No Option Orientation : Vertical

1.5 सेंटीमीटर आकार वाली एक वस्तु को 10 सेंटीमीटर फोकस दूरी वाले उत्तल लेंस के सामने 15 सेंटीमीटर की दूरी पर रखा जाता है। बनने वाली छवि का आकार और प्रकृति क्रमशः होगी:

Options :

1. ✘ 3.0 सेंटीमीटर, लम्बवत्
2. ✔ 3.0 सेंटीमीटर, उल्टी

3. ✘ 6.0 सेंटीमीटर, लम्बवत्

4. ✘ 6.0 सेंटीमीटर, उल्टी

Question Number : 81 Question Id : 627289381 Display Question Number : Yes Single Line Question Option : No Option Orientation : Vertical

Which one of the following compounds has a higher solubility in water?

Options :

1. ✘ CH₄

2. ✔ NaCl

3. ✘ C₂H₆

4. ✘ C₆H₆

Question Number : 81 Question Id : 627289381 Display Question Number : Yes Single Line Question Option : No Option Orientation : Vertical

जल में निम्नलिखित में से किस यौगिक की विलेयता उच्चतर होती है?

Options :

1. ✘ CH₄

2. ✔ NaCl

3. ✘ C₂H₆

4. ✘ C₆H₆

Question Number : 82 Question Id : 627289382 Display Question Number : Yes Single Line Question Option : No Option Orientation : Vertical

Which compound among the following has carbon-carbon double bond?

Options :

1. ✘ CH₄

2. ✘ C₄H₁₀

3. ✘ C₂H₆

4. ✓ C₂H₄

Question Number : 82 Question Id : 627289382 Display Question Number : Yes Single Line Question Option : No Option Orientation : Vertical

निम्नलिखित में से किस यौगिक में कार्बन-कार्बन द्विवन्ध होता है?

Options :

1. ✗ CH₄

2. ✗ C₄H₁₀

3. ✗ C₂H₆

4. ✓ C₂H₄

Question Number : 83 Question Id : 627289383 Display Question Number : Yes Single Line Question Option : No Option Orientation : Vertical

Which one of the following represents the mass of one mole of aluminum atoms?

Options :

1. ✗ 2.7 gram

2. ✓ 27 gram

3. ✗ 54 gram

4. ✗ 5.4 gram

Question Number : 83 Question Id : 627289383 Display Question Number : Yes Single Line Question Option : No Option Orientation : Vertical

निम्न में से कौन सा विकल्प एल्यूमीनियम परमाणुओं के एक मोल का द्रव्यमान दर्शाता है?

Options :

1. ✗ 2.7 ग्राम

2. ✓ 27 ग्राम

3. ✗ 54 ग्राम

4. ✗ 5.4 ग्राम

Question Number : 84 Question Id : 627289384 Display Question Number : Yes Single Line Question Option : No Option Orientation : Vertical

The functional group amine is represented by which of the following formula?

Options :

1. ✓ -NH₂
2. ✗ -CHO
3. ✗ -OH
4. ✗ -CN

Question Number : 84 Question Id : 627289384 Display Question Number : Yes Single Line Question Option : No Option Orientation : Vertical

क्रियात्मक समूह अमाइन को निम्नलिखित में से किस सूत्र द्वारा दर्शाया जाता है?

Options :

1. ✓ -NH₂
2. ✗ -CHO
3. ✗ -OH
4. ✗ -CN

Question Number : 85 Question Id : 627289385 Display Question Number : Yes Single Line Question Option : No Option Orientation : Vertical

Each member of a homologous series differs from its succeeding or preceding member by:

Options :

1. ✓ -CH₂
2. ✗ -CH₃
3. ✗ -CH₄
4. ✗ -CH

Question Number : 85 Question Id : 627289385 Display Question Number : Yes Single Line Question Option : No Option Orientation : Vertical

सजातीय श्रेणी का प्रत्येक सदस्य उसके उत्तरवर्ती अथवा पूर्ववर्ती सदस्य से _____ से अलग होता है।

Options :

1. ✓ -CH₂
2. ✗ -CH₃
3. ✗ -CH₄
4. ✗ -CH

Question Number : 86 Question Id : 627289386 Display Question Number : Yes Single Line Question Option : No Option Orientation : Vertical

Which form of classical Indian painting has its origins and is popular in South India?

Options :

1. ✓ Tanjore Paintings
2. ✗ Warli Paintings
3. ✗ Mithila Paintings
4. ✗ Santhal Paintings

Question Number : 86 Question Id : 627289386 Display Question Number : Yes Single Line Question Option : No Option Orientation : Vertical

निम्नलिखित में से किस शास्त्रीय भारतीय चित्रकला के स्वरूप की उत्पत्ति दक्षिण भारत में हुई और वो वहां लोकप्रिय है?

Options :

1. ✓ तंजौर चित्रकला
2. ✗ वारली चित्रकला
3. ✗ मिथिला चित्रकला
4. ✗ संथाल चित्रकला

Question Number : 87 Question Id : 627289387 Display Question Number : Yes Single Line Question Option : No Option Orientation : Vertical

In which year did the Congress Party win the first general elections under the leadership of Jawaharlal Nehru?

Options :

1. ✘ 1960
2. ✔ 1951
3. ✘ 1949
4. ✘ 1948

Question Number : 87 Question Id : 627289387 Display Question Number : Yes Single Line Question Option : No Option Orientation : Vertical

जवाहरलाल नेहरू के नेतृत्व में कांग्रेस पार्टी ने पहला आम चुनाव किस वर्ष में जीता था?

Options :

1. ✘ 1960
2. ✔ 1951
3. ✘ 1949
4. ✘ 1948

Question Number : 88 Question Id : 627289388 Display Question Number : Yes Single Line Question Option : No Option Orientation : Vertical

Which state in India has the largest forest cover?

Options :

1. ✘ West Bengal
2. ✘ Assam
3. ✔ Madhya Pradesh
4. ✘ Kerala

Question Number : 88 Question Id : 627289388 Display Question Number : Yes Single Line Question Option : No Option Orientation : Vertical

भारत के किस राज्य में सबसे बड़ा वनीय क्षेत्र है?

Options :

1. ✘ पश्चिम बंगाल
2. ✘ असम

3. ✓ मध्य प्रदेश

4. ✗ केरल

Question Number : 89 Question Id : 627289389 Display Question Number : Yes Single Line Question Option : No Option Orientation : Vertical

When does deflation occur?

Options :

1. ✗ When there is a higher production due to increase in the prices of goods
2. ✗ When there is a surplus official money overseas
3. ✗ When there is an increase in the price of goods & services
4. ✓ When inflation rate falls below 0%

Question Number : 89 Question Id : 627289389 Display Question Number : Yes Single Line Question Option : No Option Orientation : Vertical

अपस्फीति की स्थिति कब होती है?

Options :

1. ✗ जब माल की कीमतों में वृद्धि के कारण उत्पादन अधिक होता है।
2. ✗ जब विदेश में अतिरिक्त आधिकारिक धन होता है।
3. ✗ जब माल और सेवाओं की कीमत में वृद्धि होती है।
4. ✓ जब मुद्रास्फीति की दर 0% से नीचे गिर जाती है।

Question Number : 90 Question Id : 627289390 Display Question Number : Yes Single Line Question Option : No Option Orientation : Vertical

Which of the following is NOT a fundamental right as per the Constitution of India?

Options :

1. ✓ Right to Work
2. ✗ Right of Equality
3. ✗ Right of Freedom

4. ✘ Right to Religion

Question Number : 90 Question Id : 627289390 Display Question Number : Yes Single Line Question Option : No Option Orientation : Vertical

निम्नलिखित में से क्या भारत के संविधान के अंतर्गत एक मौलिक अधिकार नहीं है?

Options :

1. ✔ रोज़गार का अधिकार
2. ✘ समानता का अधिकार
3. ✘ स्वतंत्रता का अधिकार
4. ✘ धार्मिक (स्वतंत्रता का) अधिकार

Question Number : 91 Question Id : 627289391 Display Question Number : Yes Single Line Question Option : No Option Orientation : Vertical

A team of Indian astronomers has recently discovered an extremely big super cluster of galaxies. What is it being referred to as?

Options :

1. ✘ Agni
2. ✔ Saraswati
3. ✘ Ravi
4. ✘ Devi

Question Number : 91 Question Id : 627289391 Display Question Number : Yes Single Line Question Option : No Option Orientation : Vertical

भारतीय खगोलविदों के एक दल ने हाल ही में आकाशगंगाओं के एक अति विशाल समूह (सुपर क्लस्टर) की खोज की है। इसे क्या कहा जा रहा है?

Options :

1. ✘ अग्नि
2. ✔ सरस्वती
3. ✘ रवि
4. ✘ देवी

Question Number : 92 Question Id : 627289392 Display Question Number : Yes Single Line Question Option : No Option Orientation : Vertical

Where will the 2018 Table Tennis Team World Cup be held?

Options :

1. ✘ Kuala lumpur
2. ✔ London
3. ✘ Beijing
4. ✘ Sydney

Question Number : 92 Question Id : 627289392 Display Question Number : Yes Single Line Question Option : No Option Orientation : Vertical

वर्ष 2018 में टेबल टेनिस दल विश्व कप कहाँ आयोजित किया जाएगा?

Options :

1. ✘ कुआला लम्पुर
2. ✔ लन्दन
3. ✘ बीजिंग
4. ✘ सिडनी

Question Number : 93 Question Id : 627289393 Display Question Number : Yes Single Line Question Option : No Option Orientation : Vertical

Who became the world's youngest International Master in chess in 2016?

Options :

1. ✔ Praggnanandhaa R
2. ✘ Parimarjan Negi
3. ✘ Abhimanyu Puranik
4. ✘ Vishnu Prasanna V

Question Number : 93 Question Id : 627289393 Display Question Number : Yes Single Line Question Option : No Option Orientation : Vertical

वर्ष 2016 में शतरंज में विश्व का सबसे युवा अंतर्राष्ट्रीय मास्टर कौन बना था?

Options :

1. ✓ प्रज्ञानन्दा आर
2. ✘ परिमार्जन नेगी
3. ✘ अभिमन्यु पुराणिक
4. ✘ विष्णु प्रसन्ना वी

Question Number : 94 Question Id : 627289394 Display Question Number : Yes Single Line Question Option : No Option Orientation : Vertical

Which state government recently signed a MOU for the hyperloop between Vijayawada and Amaravati?

Options :

1. ✓ Andhra Pradesh
2. ✘ Telengana
3. ✘ Kerala
4. ✘ Tamil Nadu

Question Number : 94 Question Id : 627289394 Display Question Number : Yes Single Line Question Option : No Option Orientation : Vertical

किस राज्य सरकार ने हाल ही में विजयवाड़ा और अमरावती के बीच हाइपरलूप के लिए समझौता ज्ञापन पर हस्ताक्षर किये हैं?

Options :

1. ✓ आंध्र प्रदेश
2. ✘ तेलंगाना
3. ✘ केरल
4. ✘ तमिल नाडु

Question Number : 95 Question Id : 627289395 Display Question Number : Yes Single Line Question Option : No Option Orientation : Vertical

Who invented the telescope?

Options :

1. ✓ Lippershey

2. ✗ Edison

3. ✗ Copernicus

4. ✗ Newton

Question Number : 95 Question Id : 627289395 Display Question Number : Yes Single Line Question Option : No Option Orientation : Vertical

दूरबीन का आविष्कार किसने किया था?

Options :

1. ✓ लिपशे

2. ✗ एडीसन

3. ✗ कोपरनिकस

4. ✗ न्यूटन

Question Number : 96 Question Id : 627289396 Display Question Number : Yes Single Line Question Option : No Option Orientation : Vertical

Which one of the following is the odd one out?

Options :

1. ✗ Distinct

2. ✗ Different

3. ✓ Similar

4. ✗ Separable

Question Number : 96 Question Id : 627289396 Display Question Number : Yes Single Line Question Option : No Option Orientation : Vertical

निम्नलिखित में से कौन-सा विषम है?

Options :

1. ✗ Distinct

2. ✘ Different

3. ✔ Similar

4. ✘ Separable

Question Number : 97 Question Id : 627289397 Display Question Number : Yes Single Line Question Option : No Option Orientation : Vertical

Complete the analogy.

Bba : aBB :: Mmn : _____

Options :

1. ✔ nMM

2. ✘ nmM

3. ✘ MMn

4. ✘ Mnm

Question Number : 97 Question Id : 627289397 Display Question Number : Yes Single Line Question Option : No Option Orientation : Vertical

सादृश्य को पूरा करें।

Bba : aBB :: Mmn : _____

Options :

1. ✔ nMM

2. ✘ nmM

3. ✘ MMn

4. ✘ Mnm

Question Number : 98 Question Id : 627289398 Display Question Number : Yes Single Line Question Option : No Option Orientation : Vertical

Select a set of letters which forms a word having similar meaning as that of the words on the right and left side of the brackets.

SHOOT (_____) FLAME

Options :

1. ✘ LAMP

2. ✘ CANDLE

3. ✔ FIRE

4. ✘ STICK

Question Number : 98 Question Id : 627289398 Display Question Number : Yes Single Line Question Option : No Option Orientation : Vertical

वह शब्द चुनें जिसका अर्थ कोष्ठक की दाईं तरफ़ और बाईं तरफ़ दिए गए शब्दों के अर्थ के समान हो।
SHOOT (____) FLAME

Options :

1. ✘ LAMP

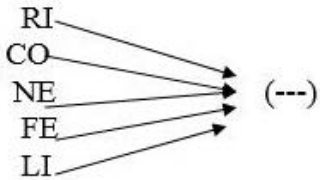
2. ✘ CANDLE

3. ✔ FIRE

4. ✘ STICK

Question Number : 99 Question Id : 627289399 Display Question Number : Yes Single Line Question Option : No Option Orientation : Vertical

Which of the following options, when joined by each set of letters in the image as a prefix, forms a meaningful word?



Options :

1. ✘ IED

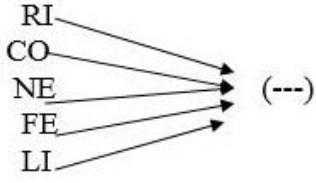
2. ✔ VER

3. ✘ WED

4. ✘ CES

Question Number : 99 Question Id : 627289399 Display Question Number : Yes Single Line Question Option : No Option Orientation : Vertical

निम्न में से कौन-सा ऐसा विकल्प है जिसमें एक उपसर्ग के रूप में जोड़े जाने पर चित्र में दिखाया गया प्रत्येक अक्षर-युग्म एक सार्थक अंग्रेज़ी शब्द बनाता है?



Options :

1. ✘ IED
2. ✔ VER
3. ✘ WED
4. ✘ CES

Question Number : 100 Question Id : 627289400 Display Question Number : Yes Single Line Question Option : No Option Orientation : Vertical

If α means +, β means -, γ means x and θ means \div then the value of the expression $8 \alpha 6 \beta 6 \theta 6 \gamma 2$ is:

Options :

1. ✘ 1
2. ✘ 0
3. ✘ 10
4. ✔ 12

Question Number : 100 Question Id : 627289400 Display Question Number : Yes Single Line Question Option : No Option Orientation : Vertical

यदि α का अर्थ +, β का अर्थ -, γ का अर्थ x और θ का अर्थ \div हो, तो समीकरण $8 \alpha 6 \beta 6 \theta 6 \gamma 2$ का मूल्य होगा:

Options :

1. ✘ 1
2. ✘ 0
3. ✘ 10
4. ✔ 12