

## Haryana Staff Selection Commission

**Notations :**

1. Options shown in green color and with ✓ icon are correct.
2. Options shown in red color and with ✗ icon are incorrect.

<b>Subject Name:</b>	CAT 2 Steno Typist Hindi CBT Exam
<b>Total Marks:</b>	200
<b>Display Marks:</b>	Yes
<b>Calculator:</b>	None
<b>Magnifying Glass Required?:</b>	No
<b>Ruler Required?:</b>	No
<b>Eraser Required?:</b>	No
<b>Scratch Pad Required?:</b>	No
<b>Rough Sketch/Notepad Required?:</b>	No
<b>Protractor Required?:</b>	No

CAT 2 Steno Typist Hindi CBT Exam

**Group Marks:** 200

CAT 2 Steno Typist Hindi CBT Exam

<b>Section Marks:</b>	200
<b>Display Number Panel:</b>	Yes
<b>Group All Questions:</b>	No

**Question Number : 1 Question Id : 168000301 Display Question Number : Yes Single Line Question Option : No Option Orientation : Vertical**

The Bohar inscription, which refers to *Hariyanak*, pertains to the period of:

**Options :**

1. ✗ Iltutmish
2. ✓ Balban
3. ✗ Razia
4. ✗ Alauddin

**Question Number : 1 Question Id : 168000301 Display Question Number : Yes Single Line Question Option : No Option Orientation : Vertical**

बोहर शिलालेख, जो हरियनक को संदर्भित करता है, किसके काल से संबंधित है?

Options :

1. ✘ इल्तुतमिश
2. ✔ बलबन
3. ✘ रज़िया
4. ✘ अलाउद्दीन

Question Number : 2 Question Id : 168000302 Display Question Number : Yes Single Line Question Option : No Option Orientation : Vertical

Which of the following sources traces the origin of the word Haryana from Hari, the name of the God?

Options :

1. ✘ Skanda Purana
2. ✘ Harivamśa Purana
3. ✔ Palam Baoli inscription
4. ✘ Shridhar's Pasanaha Chariu

Question Number : 2 Question Id : 168000302 Display Question Number : Yes Single Line Question Option : No Option Orientation : Vertical

निम्नलिखित में से किस स्रोत से ज्ञात होता है कि, भगवान के नाम हरि से, हरियाणा शब्द की उत्पत्ति हुई है?

Options :

1. ✘ स्कन्द पुराण
2. ✘ हरिवंश पुराण
3. ✔ पालम बाओली शिलालेख
4. ✘ श्रीधर का पासानहा चारियु

Question Number : 3 Question Id : 168000303 Display Question Number : Yes Single Line Question Option : No Option Orientation : Vertical

The first battle of Battles of Taraori took place in the year:

Options :

1. ✘ 1190

2. ✔ 1191

3. ✘ 1192

4. ✘ 1193

Question Number : 3 Question Id : 168000303 Display Question Number : Yes Single Line Question Option : No Option Orientation : Vertical

तराओरी के युद्ध का पहला युद्ध किस वर्ष में लड़ा गया था?

Options :

1. ✘ 1190

2. ✔ 1191

3. ✘ 1192

4. ✘ 1193

Question Number : 4 Question Id : 168000304 Display Question Number : Yes Single Line Question Option : No Option Orientation : Vertical

Who among the following persons invited George Thomas to raise a battalion of 1,000 regular army?

Options :

1. ✔ Apa Khande Rao

2. ✘ Gajpat Singh

3. ✘ Mahadji

4. ✘ Sahib Kaur

Question Number : 4 Question Id : 168000304 Display Question Number : Yes Single Line Question Option : No Option Orientation : Vertical

निम्नलिखित में से किस व्यक्ति ने जॉर्ज थॉमस को 1,000 सैनिकों की एक नियमित बटालियन तैयार करने के लिए आमंत्रित किया था?

Options :

1. ✔ अपा खांडे राव

2. ✘ गजपत सिंह

3. ✘ महादजी

4. ✘ साहिब कौर

Question Number : 5 Question Id : 168000305 Display Question Number : Yes Single Line Question Option : No Option Orientation : Vertical

What was estimated to be the fiscal deficit of Haryana for FY 2016-17 as per the 2017 state budget?

Options :

1. ✔ 2.49%

2. ✘ 3.5%

3. ✘ 1.9%

4. ✘ 2.83%

Question Number : 5 Question Id : 168000305 Display Question Number : Yes Single Line Question Option : No Option Orientation : Vertical

वर्ष 2017 के राज्य बजट के अनुसार वित्तीय वर्ष 2016-17 में हरियाणा के राजकोषीय घाटे का कितना अनुमान लगाया गया था?

Options :

1. ✔ 2.49%

2. ✘ 3.5%

3. ✘ 1.9%

4. ✘ 2.83%

Question Number : 6 Question Id : 168000306 Display Question Number : Yes Single Line Question Option : No Option Orientation : Vertical

Which among the following was NOT one of the prizes given to craftpersons at the 31<sup>st</sup> Surajkund Mela?

Options :

1. ✘ Kala Nidhi

2. ✔ Kala Shiromani

3. ✘ Kala Mani

4. ✘ Kala Shri

Question Number : 6 Question Id : 168000306 Display Question Number : Yes Single Line Question Option : No Option  
Orientation : Vertical

31वें सूरजकुंड मेले में शिल्पकारों को दिए गए पुरस्कारों में निम्नलिखित में से कौन-सा एक पुरस्कार नहीं था?

Options :

1. ✘ कला निधि
2. ✔ कला शिरोमणि
3. ✘ कला मणि
4. ✘ कला श्री

Question Number : 7 Question Id : 168000307 Display Question Number : Yes Single Line Question Option : No Option  
Orientation : Vertical

The country's first digital investigation centre has been established in the \_\_\_\_\_ district of Haryana.

Options :

1. ✘ Karnal
2. ✘ Sonipat
3. ✘ Mahendragarh
4. ✔ Gurugram

Question Number : 7 Question Id : 168000307 Display Question Number : Yes Single Line Question Option : No Option  
Orientation : Vertical

देश का पहला डिजिटल जाँच केंद्र हरियाणा के \_\_\_\_\_ ज़िले में स्थापित किया गया है।

Options :

1. ✘ करनाल
2. ✘ सोनीपत
3. ✘ महेंद्रगढ़
4. ✔ गुरुग्राम

Question Number : 8 Question Id : 168000308 Display Question Number : Yes Single Line Question Option : No Option  
Orientation : Vertical

What is the name of the online portal launched by the Haryana Government for the procurement of paddy?

Options :

1. ✘ e-sewa
2. ✘ e-bazaar
3. ✔ e-kharid
4. ✘ e-sandesh

Question Number : 8 Question Id : 168000308 Display Question Number : Yes Single Line Question Option : No Option Orientation : Vertical

धान की खरीद के लिए हरियाणा सरकार द्वारा शुरू किये गये ऑनलाइन पोर्टल का नाम क्या है?

Options :

1. ✘ ई-सेवा
2. ✘ ई-बाज़ार
3. ✔ ई-खरीद
4. ✘ ई-सन्देश

Question Number : 9 Question Id : 168000309 Display Question Number : Yes Single Line Question Option : No Option Orientation : Vertical

Which of the following poems was written by Subhash Rastogi?

Options :

1. ✔ Bayaan Mausam Ka
2. ✘ Tumhare Pahnaye Pankh
3. ✘ Hashiye Par Lage Nishaan
4. ✘ Aandhiyo Ke Daur Mein

Question Number : 9 Question Id : 168000309 Display Question Number : Yes Single Line Question Option : No Option Orientation : Vertical

निम्नलिखित में से कौन-सी कविता सुभाष रस्तोगी द्वारा लिखी गई है?

Options :

1. ✔ बयान मौसम का

2. ✘ तुम्हारे पहनाए पंख
3. ✘ हाशिए पर लगे निशान
4. ✘ आंघियों के दौर में

Question Number : 10 Question Id : 168000310 Display Question Number : Yes Single Line Question Option : No Option Orientation : Vertical

The story "Muskan Ka Dard" was written by:

Options :

1. ✘ Chandrakanta
2. ✘ Rana Pratap Singh
3. ✔ Madan Sharma Rakesh
4. ✘ Urmi Krishna

Question Number : 10 Question Id : 168000310 Display Question Number : Yes Single Line Question Option : No Option Orientation : Vertical

कहानी "मुस्कान का दर्द" के रचयिता हैं:

Options :

1. ✘ चंद्रकांता
2. ✘ राणा प्रताप सिंह
3. ✔ मदन शर्मा राकेश
4. ✘ उर्मि कृष्णा

Question Number : 11 Question Id : 168000311 Display Question Number : Yes Single Line Question Option : No Option Orientation : Vertical

The novel "Dr. Damroo Gopal" was written by:

Options :

1. ✘ Sansaar Chandra
2. ✔ Harish Chandra Verma

3. ✘ Raghuveer Singh

4. ✘ Madhav Kaushik

Question Number : 11 Question Id : 168000311 Display Question Number : Yes Single Line Question Option : No Option Orientation : Vertical

“डॉ. डमरू गोपाल” नामक उपन्यास के लेखक हैं:

Options :

1. ✘ संसार चंद्र

2. ✔ हरीश चंद्र वर्मा

3. ✘ रघुवीर सिंह

4. ✘ माधव कौशिक

Question Number : 12 Question Id : 168000312 Display Question Number : Yes Single Line Question Option : No Option Orientation : Vertical

Which is the 22<sup>nd</sup> (newly-created) district of Haryana?

Options :

1. ✘ Jhajjar

2. ✔ Charkhi Dadri

3. ✘ Sirsa

4. ✘ Nuh

Question Number : 12 Question Id : 168000312 Display Question Number : Yes Single Line Question Option : No Option Orientation : Vertical

हरियाणा का 22 वां (नव निर्मित) ज़िला कौन-सा है?

Options :

1. ✘ झज्जर

2. ✔ चरखी दादरी

3. ✘ सिरसा



4. ✘ नुह

Question Number : 13 Question Id : 168000313 Display Question Number : Yes Single Line Question Option : No Option Orientation : Vertical

In most areas of Haryana there are \_\_\_\_\_ conditions.

Options :

1. ✔ Dry and semi-arid
2. ✘ Tropical evergreen
3. ✘ Tropical moist deciduous
4. ✘ Tropical dry evergreen

Question Number : 13 Question Id : 168000313 Display Question Number : Yes Single Line Question Option : No Option Orientation : Vertical

हरियाणा के अधिकाँश क्षेत्रों की स्थितियाँ \_\_\_\_\_ हैं।

Options :

1. ✔ शुष्क और अर्ध-शुष्क
2. ✘ उष्णकटिबंधीय सदाबहार
3. ✘ उष्णकटिबंधीय आर्द्र पर्णपाती
4. ✘ उष्णकटिबंधीय शुष्क सदाबहार

Question Number : 14 Question Id : 168000314 Display Question Number : Yes Single Line Question Option : No Option Orientation : Vertical

Which one of the following animal is **NOT** found in Haryana?

Options :

1. ✘ Jackal
2. ✘ Fox
3. ✔ Wolf
4. ✘ Wild Boar

Question Number : 14 Question Id : 168000314 Display Question Number : Yes Single Line Question Option : No Option Orientation : Vertical

हरियाणा में निम्नलिखित में से कौन-सा जानवर नहीं पाया जाता है?

Options :

1. ✘ सियार
2. ✘ लोमड़ी
3. ✔ भेड़िया
4. ✘ जंगली शूकर

Question Number : 15 Question Id : 168000315 Display Question Number : Yes Single Line Question Option : No Option Orientation : Vertical

What was the total budget size (approximately) of Haryana in the Budget presented for the financial year 2016-2017?

Options :

1. ✘ ₹ 80,563 crore
2. ✘ ₹ 85,645 crore
3. ✔ ₹ 88,781 crore
4. ✘ ₹ 90,486 crore

Question Number : 15 Question Id : 168000315 Display Question Number : Yes Single Line Question Option : No Option Orientation : Vertical

वित्तीय वर्ष 2016-2017 के लिए प्रस्तुत किये गए बजट में हरियाणा का कुल बजट (लगभग) कितना था?

Options :

1. ✘ ₹ 80,563 करोड़
2. ✘ ₹ 85,645 करोड़
3. ✔ ₹ 88,781 करोड़
4. ✘ ₹ 90,486 करोड़

Question Number : 16 Question Id : 168000316 Display Question Number : Yes Single Line Question Option : No Option Orientation : Vertical

Who was the second Governor of Haryana?

Options :

1. ✘ R. S. Narula
2. ✘ Jai Sukhlal
3. ✘ Dharamvir
4. ✔ B. N. Chakraborty

Question Number : 16 Question Id : 168000316 Display Question Number : Yes Single Line Question Option : No Option Orientation : Vertical

हरियाणा के दूसरे गवर्नर कौन थे?

Options :

1. ✘ आर. एस. नरुला
2. ✘ जय सुखलाल
3. ✘ धरमवीर
4. ✔ बी. एन. चक्रवर्ती

Question Number : 17 Question Id : 168000317 Display Question Number : Yes Single Line Question Option : No Option Orientation : Vertical

The Haryana Government will set up 1 lakh solar lighting systems under the:

Options :

1. ✔ Manohar Jyoti scheme
2. ✘ Atal Jyoti Yojana
3. ✘ Pradhan Mantri Jyoti Yojana
4. ✘ Mangal Nagar Vikas Yojana

Question Number : 17 Question Id : 168000317 Display Question Number : Yes Single Line Question Option : No Option Orientation : Vertical

हरियाणा सरकार किस योजना के अंतर्गत 1 लाख सौर प्रकाश प्रणालियाँ लगायेगी?

Options :

1. ✔ मनोहर ज्योति योजना

2. ✘ अटल ज्योति योजना
3. ✘ प्रधान मंत्री ज्योति योजना
4. ✘ मंगल नगर विकास योजना

Question Number : 18 Question Id : 168000318 Display Question Number : Yes Single Line Question Option : No Option Orientation : Vertical

The Bharatiya Janata Party (BJP) had an alliance with the \_\_\_\_\_ in the 2014 assembly elections in Haryana.

Options :

1. ✘ Samajwadi Party
2. ✔ Shiromani Akali Dal
3. ✘ Bahujan Samaj Party
4. ✘ Indian National Lok Dal

Question Number : 18 Question Id : 168000318 Display Question Number : Yes Single Line Question Option : No Option Orientation : Vertical

हरियाणा में वर्ष 2014 के विधानसभा चुनावों में भारतीय जनता पार्टी (बीजेपी) ने \_\_\_\_\_ के साथ गठबंधन किया था।

Options :

1. ✘ समाजवादी पार्टी
2. ✔ शिरोमणि अकाली दल
3. ✘ बहुजन समाज पार्टी
4. ✘ भारतीय राष्ट्रीय लोक दल

Question Number : 19 Question Id : 168000319 Display Question Number : Yes Single Line Question Option : No Option Orientation : Vertical

HSPCB stands for:

Haryana State \_\_\_\_\_ Control Board

Options :

1. ✔ Pollution

2. ✘ Population

3. ✘ Project

4. ✘ Poverty

Question Number : 19 Question Id : 168000319 Display Question Number : Yes Single Line Question Option : No Option Orientation : Vertical

एचएसपीसीबी का अर्थ है:

हरियाणा स्टेट \_\_\_\_\_ कंट्रोल बोर्ड।

Options :

1. ✔ पॉल्यूशन

2. ✘ पॉपुलेशन

3. ✘ प्रोजेक्ट

4. ✘ पॉवर्टी

Question Number : 20 Question Id : 168000320 Display Question Number : Yes Single Line Question Option : No Option Orientation : Vertical

Haryana forms the \_\_\_\_\_ borders of Delhi.

Options :

1. ✔ northern, western and southern

2. ✘ western, eastern and northern

3. ✘ northern and western

4. ✘ western and eastern

Question Number : 20 Question Id : 168000320 Display Question Number : Yes Single Line Question Option : No Option Orientation : Vertical

हरियाणा दिल्ली की \_\_\_\_\_ सीमाएं बनाता है।

Options :

1. ✔ उत्तरी, पश्चिमी और दक्षिणी

2. ✘ पश्चिमी, पूर्वी और उत्तरी

3. ✘ उत्तरी और पश्चिमी

4. ✘ पश्चिमी और पूर्वी

Question Number : 21 Question Id : 168000321 Display Question Number : Yes Single Line Question Option : No Option Orientation : Vertical

Haryana is located between (i) \_\_\_\_ N latitude and between (ii) \_\_\_\_ E longitude.

Options :

1. ✔ (i)  $27^{\circ}37'$  and  $30^{\circ}35'$ , (ii)  $74^{\circ}28'$  and  $77^{\circ}36'$

2. ✘ (i)  $12^{\circ}41'$  and  $22^{\circ}$ , (ii)  $77^{\circ}$  and  $84^{\circ}40'$

3. ✘ (i)  $17^{\circ}46'$  and  $24^{\circ} 05'$ , (ii)  $80^{\circ}15'$  and  $84^{\circ}20'$

4. ✘ (i)  $20^{\circ}10'$  and  $24^{\circ} 70'$ , (ii)  $68^{\circ}40'$  and  $70^{\circ}40'$

Question Number : 21 Question Id : 168000321 Display Question Number : Yes Single Line Question Option : No Option Orientation : Vertical

हरियाणा (i) \_\_\_\_ N अक्षांश तथा (ii) \_\_\_\_ E देशांतर के बीच स्थित है।

Options :

1. ✔ (i)  $27^{\circ}37'$  और  $30^{\circ}35'$ , (ii)  $74^{\circ}28'$  और  $77^{\circ}36'$

2. ✘ (i)  $12^{\circ}41'$  और  $22^{\circ}$ , (ii)  $77^{\circ}$  और  $84^{\circ}40'$

3. ✘ (i)  $17^{\circ}46'$  और  $24^{\circ} 05'$ , (ii)  $80^{\circ}15'$  और  $84^{\circ}20'$

4. ✘ (i)  $20^{\circ}10'$  और  $24^{\circ} 70'$ , (ii)  $68^{\circ}40'$  और  $70^{\circ}40'$

Question Number : 22 Question Id : 168000322 Display Question Number : Yes Single Line Question Option : No Option Orientation : Vertical

The Kartik Cultural festival is celebrated at which among the following places of Gurugram?

Options :

1. ✘ Zafar Mahal

2. ✘ Jahaz Mahal

3. ✓ Nahar Singh Mahal

4. ✗ Moti Mahal

Question Number : 22 Question Id : 168000322 Display Question Number : Yes Single Line Question Option : No Option Orientation : Vertical

गुरुग्राम के निम्नलिखित में से किस स्थान पर कार्तिक सांस्कृतिक महोत्सव मनाया जाता है?

Options :

1. ✗ ज़फ़र महल

2. ✗ जहाज़ महल

3. ✓ नाहर सिंह महल

4. ✗ मोती महल

Question Number : 23 Question Id : 168000323 Display Question Number : Yes Single Line Question Option : No Option Orientation : Vertical

The Mango Mela is celebrated at Yadavindra Gardens in:

Options :

1. ✓ Pinjore

2. ✗ Gondar

3. ✗ Bilaspur

4. ✗ Badhara

Question Number : 23 Question Id : 168000323 Display Question Number : Yes Single Line Question Option : No Option Orientation : Vertical

आम मेला किस स्थान के यादविंद्र उद्यानों में मनाया जाता है?

Options :

1. ✓ पिंजौर

2. ✗ गोंडार

3. ✗ बिलासपुर

4. ✘ बधारा

Question Number : 24 Question Id : 168000324 Display Question Number : Yes Single Line Question Option : No Option Orientation : Vertical

The Geeta Jayanti Festival is celebrated in Kurukshetra during the month of:

Options :

1. ✘ May/June

2. ✘ February/March

3. ✔ November/December

4. ✘ July/August

Question Number : 24 Question Id : 168000324 Display Question Number : Yes Single Line Question Option : No Option Orientation : Vertical

गीता जयंती महोत्सव कुरुक्षेत्र में किस माह में मनाया जाता है?

Options :

1. ✘ मई/जून

2. ✘ फरवरी/मार्च

3. ✔ नवम्बर/दिसम्बर

4. ✘ जुलाई/अगस्त

Question Number : 25 Question Id : 168000325 Display Question Number : Yes Single Line Question Option : No Option Orientation : Vertical

Which state was the Theme State for the 31<sup>st</sup> Surajkund International Crafts Mela 2017?

Options :

1. ✘ Rajasthan

2. ✔ Jharkhand

3. ✘ Uttar Pradesh

4. ✘ Himachal Pradesh



Question Number : 25 Question Id : 168000325 Display Question Number : Yes Single Line Question Option : No Option Orientation : Vertical

31वें सूरजकुंड अंतर्राष्ट्रीय शिल्प मेले 2017 के लिए कौन-सा राज्य, विषय राज्य था?

Options :

1. ✘ राजस्थान
2. ✔ झारखण्ड
3. ✘ उत्तर प्रदेश
4. ✘ हिमाचल प्रदेश

Question Number : 26 Question Id : 168000326 Display Question Number : Yes Single Line Question Option : No Option Orientation : Vertical

'न' आकड़े की तरफ शब्दों के अंत में एक बड़ा आंकड़ा लगाने से क्या पढ़ा जाएगा?

Options :

1. ✘ तन-मन
2. ✘ पन-रन
3. ✔ सन-क्षण
4. ✘ जन-गण

Question Number : 26 Question Id : 168000326 Display Question Number : Yes Single Line Question Option : No Option Orientation : Vertical


'न' आकड़े की तरफ शब्दों के अंत में एक बड़ा आंकड़ा लगाने से क्या पढ़ा जाएगा?

Options :

1. ✘ तन-मन
2. ✘ पन-रन
3. ✔ सन-क्षण
4. ✘ जन-गण

Question Number : 27 Question Id : 168000327 Display Question Number : Yes Single Line Question Option : No Option Orientation : Vertical

‘प्रतिकूल’ का सही संकेत लिपि-चिह्न बताएँ:

A. 

B. 

C. 

D. 

Options :

1. ✘ A


2. ✘ B

3. ✔ C

4. ✘ D

Question Number : 27 Question Id : 168000327 Display Question Number : Yes Single Line Question Option : No Option Orientation : Vertical

‘प्रतिकूल’ का सही संकेत लिपि-चिह्न बताएँ:

A. 

B. 

C. 

D. 

Options :

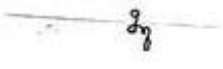
1. ✘ A

2. ✘ B

3. ✔ C

4. ✘ D

Question Number : 28 Question Id : 168000328 Display Question Number : Yes Single Line Question Option : No Option Orientation : Vertical

पूर्ण नियमानुसार इस संकेत का अर्थ बताएँ: 

Options :

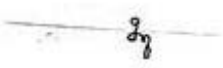
1. ✘ समाचार-पत्र

2. ✘ हिन्दी समाचार पत्रांक

3. ✔ हिन्दी समाचार पत्र

4. ✘ हिन्दुस्तान समाचार पत्र

Question Number : 28 Question Id : 168000328 Display Question Number : Yes Single Line Question Option : No Option Orientation : Vertical

पूर्ण नियमानुसार इस संकेत का अर्थ बताएँ: 

Options :

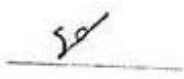
1. ✘ समाचार-पत्र

2. ✘ हिन्दी समाचार पत्रांक

3. ✔ हिन्दी समाचार पत्र

4. ✘ हिन्दुस्तान समाचार पत्र

Question Number : 29 Question Id : 168000329 Display Question Number : Yes Single Line Question Option : No Option Orientation : Vertical

पूर्ण नियमानुसार इस वाक्यांश-चिह्न को पहचानें: 

Options :

1. ✘ धीरे-धीरे

2. ✘ धीरे ही धीरे
3. ✔ अंधेरा ही अंधेरा
4. ✘ अंधेरे से अंधेरा

Question Number : 29 Question Id : 168000329 Display Question Number : Yes Single Line Question Option : No Option Orientation : Vertical

पूर्ण नियमानुसार इस वाक्यांश-चिह्न को पहचानें: से

Options :

1. ✘ धीरे-धीरे
2. ✘ धीरे ही धीरे
3. ✔ अंधेरा ही अंधेरा
4. ✘ अंधेरे से अंधेरा

Question Number : 30 Question Id : 168000330 Display Question Number : Yes Single Line Question Option : No Option Orientation : Vertical

पूर्ण नियमानुसार संकेत  को क्या पढ़ा जाएगा?

Options :

1. ✔ केंद्रित करते रहते हैं
2. ✘ केन्द्र करता रहता है
3. ✘ केंद्रित करते रहे हैं
4. ✘ केंद्रित करता ही रहता है

Question Number : 30 Question Id : 168000330 Display Question Number : Yes Single Line Question Option : No Option Orientation : Vertical





पूर्ण नियमानुसार संकेत  को क्या पढ़ा जाएगा?

Options :

1. ✓ केंद्रित करते रहते हैं
2. ✘ केन्द्र करता रहता है
3. ✘ केंद्रित करते रहे हैं
4. ✘ केंद्रित करता ही रहता है

Question Number : 31 Question Id : 168000331 Display Question Number : Yes Single Line Question Option : No Option Orientation : Vertical

‘किनारे’ का सही संकेत पहचानें:


- A. 
- B. 
- C. 
- D. 

Options :

1. ✘ A
2. ✓ B
3. ✘ C
4. ✘ D

Question Number : 31 Question Id : 168000331 Display Question Number : Yes Single Line Question Option : No Option Orientation : Vertical

‘किनारे’ का सही संकेत पहचानें:

A. 

B. 

C. 

D. 

Options :

1. ✘ A

2. ✔ B

3. ✘ C

4. ✘ D

Question Number : 32 Question Id : 168000332 Display Question Number : Yes Single Line Question Option : No Option Orientation : Vertical

संक्षिप्त शब्द-चिह्न के अनुसार ‘बेहतर’ के लिए प्रयुक्त शब्द-चिह्न को पहचानें:

A. 

B. 

C. 

D. 

Options :

1. ✘ A

2. ✔ B

3. ✘ C


4. ✘ D

Question Number : 32 Question Id : 168000332 Display Question Number : Yes Single Line Question Option : No Option Orientation : Vertical

संक्षिप्त शब्द-चिह्न के अनुसार 'बेहतर' के लिए प्रयुक्त शब्द-चिह्न को पहचानें:

A. 

B. 

C. 

D. 

Options :

1. ✘ A

2. ✔ B


3. ✘ C

4. ✘ D


Question Number : 33 Question Id : 168000333 Display Question Number : Yes Single Line Question Option : No Option Orientation : Vertical

विपरीत शब्दों के नियमानुसार 'जय-पराजय' के लिए सही संकेत पहचानें:

A. 

B. 

C. 

D. 

Options :

1. ✘ A

2. ✘ B


3. ✔ C

4. ✘ D


Question Number : 33 Question Id : 168000333 Display Question Number : Yes Single Line Question Option : No Option Orientation : Vertical

विपरीत शब्दों के नियमानुसार 'जय-पराजय' के लिए सही संकेत पहचानें:

A. 

B. 

C. 

D. 

Options :

1. ✘ A



2. ✘ B


3. ✔ C

4. ✘ D

Question Number : 34 Question Id : 168000334 Display Question Number : Yes Single Line Question Option : No Option Orientation : Vertical

वाक्यांश के अनुसार 'बतौर-नमूना' के लिए सही चिह्न पहचानें:

A. 

B. 

C. 

D. 

Options :

1. ✔ A





2. ✘ B

3. ✘ C

4. ✘ D

Question Number : 34 Question Id : 168000334 Display Question Number : Yes Single Line Question Option : No Option Orientation : Vertical


वाक्यांश के अनुसार 'बतौर-नमूना' के लिए सही चिह्न पहचानें:

- A. 
- B. 
- C. 
- D. 

Options :

1. ✓ A
2. ✗ B
3. ✗ C
4. ✗ D


Question Number : 35 Question Id : 168000335 Display Question Number : Yes Single Line Question Option : No Option Orientation : Vertical

वाक्यांश-संकेत  का सही वाक्यांश बताएँ।

Options :

1. ✗ ये जानते रहना चाहिए कि
2. ✓ यह जान लेना चाहिए कि
3. ✗ यह जानना चाहिए
4. ✗ यह जान लेना चाहता है

Question Number : 35 Question Id : 168000335 Display Question Number : Yes Single Line Question Option : No Option Orientation : Vertical





वाक्यांश-संकेत  का सही वाक्यांश बताएँ।

Options :

1. ✘ ये जानते रहना चाहिए कि
2. ✔ यह जान लेना चाहिए कि
3. ✘ यह जानना चाहिए
4. ✘ यह जान लेना चाहता है

Question Number : 36 Question Id : 168000336 Display Question Number : Yes Single Line Question Option : No Option Orientation : Vertical

'जहाँ तक कांग्रेस का संबंध है' के लिए पूर्ण नियमानुसार सही संकेत बताएँ:

- A. 
- B. 
- C. 
- D. 

Options :

1. ✘ A
2. ✔ B
3. ✘ C
4. ✘ D

Question Number : 36 Question Id : 168000336 Display Question Number : Yes Single Line Question Option : No Option Orientation : Vertical

‘जहाँ तक कांग्रेस का संबंध है’ के लिए पूर्ण नियमानुसार सही संकेत बताएँ:

A.

B.

C.

D.

Options :

1. ✘ A

2. ✔ B

3. ✘ C

4. ✘ D

Question Number : 37 Question Id : 168000337 Display Question Number : Yes Single Line Question Option : No Option Orientation : Vertical

‘मतसंग्रह’ को संक्षिप्त उत्सर्ग के अनुसार लिखे।

A.

B.

C.

D.

Options :

1. ✔ A


2. ✘ B

3. ✘ C


4. ✘ D


Question Number : 37 Question Id : 168000337 Display Question Number : Yes Single Line Question Option : No Option Orientation : Vertical

‘मतसंग्रह’ को संक्षिप्त उत्सर्ग के अनुसार लिखे।

A. 

B. 

C. 

D. 

Options :

1. ✔ A

2. ✘ B


3. ✘ C


4. ✘ D

Question Number : 38 Question Id : 168000338 Display Question Number : Yes Single Line Question Option : No Option Orientation : Vertical

पूर्ण नियमानुसार 'विचाराधीन' का सही संकेत पहचानें:

A. 

B. 

C. 

D. 

Options :

1. ✘ A

2. ✘ B


3. ✘ C

4. ✔ D

Question Number : 38 Question Id : 168000338 Display Question Number : Yes Single Line Question Option : No Option Orientation : Vertical

पूर्ण नियमानुसार 'विचाराधीन' का सही संकेत पहचानें:

A. 

B. 

C. 

D. 

Options :

1. ✘ A

2. ✘ B


3. ✘ C

4. ✔ D

Question Number : 39 Question Id : 168000339 Display Question Number : Yes Single Line Question Option : No Option Orientation : Vertical

पूर्ण नियमानुसार 'संतोषजनक होता ही रहता होगा' वाक्यांश के चिह्न को पहचानें:

A. 

B. 

C. 

D. 

Options :

1. ✘ A

2. ✔ B


3. ✘ C

4. ✘ D

Question Number : 39 Question Id : 168000339 Display Question Number : Yes Single Line Question Option : No Option Orientation : Vertical

पूर्ण नियमानुसार 'संतोषजनक होता ही रहता होगा' वाक्यांश के चिह्न को पहचानें:

A. 

B. 

C. 

D. 

Options :

1. ✘ A


2. ✔ B


3. ✘ C

4. ✘ D


Question Number : 40 Question Id : 168000340 Display Question Number : Yes Single Line Question Option : No Option Orientation : Vertical

'एक्सप्रेस ट्रेन' को एक साथ किस प्रकार लिखा जाएगा?

A. 

B. 

C. 

D. 

Options :



1. ✓ A

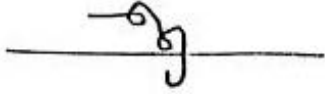
2. ✗ B


3. ✗ C

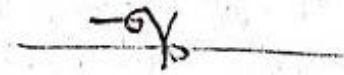
4. ✗ D


Question Number : 40 Question Id : 168000340 Display Question Number : Yes Single Line Question Option : No Option Orientation : Vertical

'एक्सप्रेस ट्रेन' को एक साथ किस प्रकार लिखा जाएगा?

A. 

B. 

C. 

D. 

Options :

1. ✓ A

2. ✗ B


3. ✗ C

4. ✗ D


Question Number : 41 Question Id : 168000341 Display Question Number : Yes Single Line Question Option : No Option Orientation : Vertical

‘स्वतंत्र’ का शब्द-चिह्न पहचानें:

A. 

B. 

C. 

D. 

Options :

1. ✘ A

2. ✘ B

3. ✔ C


4. ✘ D


Question Number : 41 Question Id : 168000341 Display Question Number : Yes Single Line Question Option : No Option Orientation : Vertical

‘स्वतंत्र’ का शब्द-चिह्न पहचानें:

A. 

B. 

C. 

D. 

Options :

1. ✘ A

2. ✘ B

3. ✔ C

4. ✘ D

Question Number : 42 Question Id : 168000342 Display Question Number : Yes Single Line Question Option : No Option Orientation : Vertical

पूर्ण नियमानुसार \_\_\_\_\_ को पहचानें।

Options :

1. ✘ हो सकता ही हैं

2. ✔ हो ही कैसे सकता है

3. ✘ यही हो सकता है

4. ✘ यही होता है

Question Number : 42 Question Id : 168000342 Display Question Number : Yes Single Line Question Option : No Option Orientation : Vertical

पूर्ण नियमानुसार \_\_\_\_\_ को पहचानें।

Options :

1. ✘ हो सकता ही हैं

2. ✔ हो ही कैसे सकता है

3. ✘ यही हो सकता है

4. ✘ यही होता है

Question Number : 43 Question Id : 168000343 Display Question Number : Yes Single Line Question Option : No Option Orientation : Vertical

यदि संकेत लिपि में 'ग' को उसकी साधारण लम्बाई से दुगना किया जाये तो नियमानुसार उसे क्या पढ़ा जाएगा?

Options :

1. ✔ टर, तर, दर

2. ✘ हर, पर, चर
3. ✘ खर, भर, मर
4. ✘ नर, गर, घर

Question Number : 43 Question Id : 168000343 Display Question Number : Yes Single Line Question Option : No Option Orientation : Vertical

यदि संकेत लिपि में 'ग' को उसकी साधारण लम्बाई से दुगना किया जाये तो नियमानुसार उसे क्या पढ़ा जाएगा?

Options :

1. ✔ टर, तर, दर
2. ✘ हर, पर, चर
3. ✘ खर, भर, मर
4. ✘ नर, गर, घर

Question Number : 44 Question Id : 168000344 Display Question Number : Yes Single Line Question Option : No Option Orientation : Vertical

'संकेत लिपि' लिखने हेतु किस लेखनी का प्रयोग करते हैं?

Options :

1. ✘ इंक पेन
2. ✔ पेन्सिल
3. ✘ डाँटपेन
4. ✘ बॉल पेन

Question Number : 44 Question Id : 168000344 Display Question Number : Yes Single Line Question Option : No Option Orientation : Vertical

'संकेत लिपि' लिखने हेतु किस लेखनी का प्रयोग करते हैं?


Options :

1. ✘ इंक पेन
2. ✔ पेन्सिल

3. ✘ डाँटपेन

4. ✘ बॉल पेन

Question Number : 45 Question Id : 168000345 Display Question Number : Yes Single Line Question Option : No Option Orientation : Vertical

पूर्ण नियमानुसार संकेत  का अर्थ बताएँ।

Options :

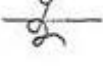
1. ✔ हिन्दी साहित्य सम्मेलन

2. ✘ हिन्दुस्तान साहित्य सम्मेलन

3. ✘ हिन्दी साहित्य से संबंध

4. ✘ हिन्दी साहित्य से संपर्क

Question Number : 45 Question Id : 168000345 Display Question Number : Yes Single Line Question Option : No Option Orientation : Vertical

पूर्ण नियमानुसार संकेत  का अर्थ बताएँ।

Options :

1. ✔ हिन्दी साहित्य सम्मेलन

2. ✘ हिन्दुस्तान साहित्य सम्मेलन

3. ✘ हिन्दी साहित्य से संबंध

4. ✘ हिन्दी साहित्य से संपर्क

Question Number : 46 Question Id : 168000346 Display Question Number : Yes Single Line Question Option : No Option Orientation : Vertical

Fill in the blanks in the sentence below with suitable articles. Choose your answer from the options given:

Deepa tasted \_\_\_\_\_ birthday cake her mother had made and said that it was \_\_\_\_\_ bit too sweet.

Options :

1. ✘ a, the

2. ✘ a, a

3. ✔ the, a

4. ✘ an, the

Question Number : 46 Question Id : 168000346 Display Question Number : Yes Single Line Question Option : No Option Orientation : Vertical

Fill in the blanks in the sentence below with suitable articles. Choose your answer from the options given:

Deepa tasted \_\_\_\_\_ birthday cake her mother had made and said that it was \_\_\_\_\_ bit too sweet.

Options :

1. ✘ a, the

2. ✘ a, a

3. ✔ the, a

4. ✘ an, the

Question Number : 47 Question Id : 168000347 Display Question Number : Yes Single Line Question Option : No Option Orientation : Vertical

Fill in the blanks in the sentence below with suitable articles. Choose your answer from the options given:

Mexico is prone to earthquakes and earlier this month \_\_\_\_\_ 8.1 magnitude tremor in \_\_\_\_\_ south left at least 90 dead.

Options :

1. ✔ an, the

2. ✘ a, the

3. ✘ an, a

4. ✘ the, the

Question Number : 47 Question Id : 168000347 Display Question Number : Yes Single Line Question Option : No Option Orientation : Vertical

Fill in the blanks in the sentence below with suitable articles. Choose your answer from the options given:

Mexico is prone to earthquakes and earlier this month \_\_\_\_\_ 8.1 magnitude tremor in \_\_\_\_\_ south left at least 90 dead.

Options :

1. ✓ an, the
2. ✗ a, the
3. ✗ an, a
4. ✗ the, the

Question Number : 48 Question Id : 168000348 Display Question Number : Yes Single Line Question Option : No Option Orientation : Vertical

Fill in the blank in the sentence below with a suitable modal verb. Choose your answer from the options given:

If you wish to be contacted by a BBC journalist, please leave a telephone number that we \_\_\_\_\_ contact you on.

Options :

1. ✗ should
2. ✗ may
3. ✓ can
4. ✗ will

Question Number : 48 Question Id : 168000348 Display Question Number : Yes Single Line Question Option : No Option Orientation : Vertical

Fill in the blank in the sentence below with a suitable modal verb. Choose your answer from the options given:

If you wish to be contacted by a BBC journalist, please leave a telephone number that we \_\_\_\_\_ contact you on.

Options :

1. ✗ should
2. ✗ may
3. ✓ can
4. ✗ will

Question Number : 49 Question Id : 168000349 Display Question Number : Yes Single Line Question Option : No Option Orientation : Vertical

Read the sentence given below. The nouns in the sentence are highlighted. From the options given, choose the type of noun each highlighted word is:

Harish was the smallest of the soldiers, but he had a look of **determination** and **grit** that warned his enemies to not take him lightly.

Options :

1. ✘ collective noun, abstract noun
2. ✘ common noun, collective noun
3. ✘ proper noun, common noun
4. ✔ abstract noun, abstract noun

Question Number : 49 Question Id : 168000349 Display Question Number : Yes Single Line Question Option : No Option Orientation : Vertical

Read the sentence given below. The nouns in the sentence are highlighted. From the options given, choose the type of noun each highlighted word is:

Harish was the smallest of the soldiers, but he had a look of **determination** and **grit** that warned his enemies to not take him lightly.

Options :

1. ✘ collective noun, abstract noun
2. ✘ common noun, collective noun
3. ✘ proper noun, common noun
4. ✔ abstract noun, abstract noun

Question Number : 50 Question Id : 168000350 Display Question Number : Yes Single Line Question Option : No Option Orientation : Vertical

The passage below has been given in four parts as options. One of the parts contains an error. Choose the option that has the error:

Options :

1. ✘  
A Russian army helicopter has accidentally fired a rocket at bystanders, according to Russian regional news website 66.RU.
2. ✘ It says the incident occurred during a military drill in western Russia on Sunday or Monday.
3. ✘  
The Russian army acknowledged that the footage was genuine and that a missile had been accidentally fired.
4. ✔  
But it denied that an incident occurred during the ongoing security exercises, and said no-one had been hurt.

Question Number : 50 Question Id : 168000350 Display Question Number : Yes Single Line Question Option : No Option Orientation : Vertical

The passage below has been given in four parts as options. One of the parts contains an error. Choose the option that has the error:



Options :

1. ✘

A Russian army helicopter has accidentally fired a rocket at bystanders, according to Russian regional news website 66.RU.

2. ✘

It says the incident occurred during a military drill in western Russia on Sunday or Monday.

3. ✘

The Russian army acknowledged that the footage was genuine and that a missile had been accidentally fired.

4. ✔

But it denied that an incident occurred during the ongoing security exercises, and said no-one had been hurt.

Question Number : 51 Question Id : 168000351 Display Question Number : Yes Single Line Question Option : No Option Orientation : Vertical

*From the options given below, choose the one that replaces the sentence below correctly:*

You didn't tell me we had run out of oil, so I didn't buy any.

Options :

1. ✘ If you had tell me we had run out of oil, I'd have bought some.

2. ✘ If you had told me we had ran out of oil, I'd have bought some.

3. ✘ If you had told me we had run out of oil, I'd have brought some.

4. ✔ If you had told me we had run out of oil, I'd have bought some.

Question Number : 51 Question Id : 168000351 Display Question Number : Yes Single Line Question Option : No Option Orientation : Vertical

*From the options given below, choose the one that replaces the sentence below correctly:*

You didn't tell me we had run out of oil, so I didn't buy any.

Options :

1. ✘ If you had tell me we had run out of oil, I'd have bought some.

2. ✘ If you had told me we had ran out of oil, I'd have bought some.

3. ✘ If you had told me we had run out of oil, I'd have brought some.

4. ✔ If you had told me we had run out of oil, I'd have bought some.

Question Number : 52 Question Id : 168000352 Display Question Number : Yes Single Line Question Option : No Option Orientation : Vertical

Choose the option that offers the correct **synonym** of the highlighted word in the sentence given below. Pay attention to the meaning of the highlighted word in context of the sentence:

Those who emerged from their homes in San Juan after the storm's passing found streets strewn with debris, fallen power lines and **shredded** trees.

Options :

1. ✘ frazzled
2. ✔ torn apart
3. ✘ sew
4. ✘ ragged

Question Number : 52 Question Id : 168000352 Display Question Number : Yes Single Line Question Option : No Option Orientation : Vertical

Choose the option that offers the correct **synonym** of the highlighted word in the sentence given below. Pay attention to the meaning of the highlighted word in context of the sentence:

Those who emerged from their homes in San Juan after the storm's passing found streets strewn with debris, fallen power lines and **shredded** trees.

Options :

1. ✘ frazzled
2. ✔ torn apart
3. ✘ sew
4. ✘ ragged

Question Number : 53 Question Id : 168000353 Display Question Number : Yes Single Line Question Option : No Option Orientation : Vertical

From the options given below, fill in the blank with the correct option that has all the adjectives in proper sequence:

As soon as I stepped out of my home, it started to rain, so I opened \_\_\_\_\_ umbrella.

Options :

1. ✔ an enormous red and yellow
2. ✘ a red enormous and yellow
3. ✘ a red and yellow enormous
4. ✘ a yellow enormous and red

Question Number : 53 Question Id : 168000353 Display Question Number : Yes Single Line Question Option : No Option Orientation : Vertical

*From the options given below, fill in the blank with the correct option that has all the adjectives in proper sequence:*

As soon as I stepped out of my home, it started to rain, so I opened \_\_\_\_\_ umbrella.

Options :

1. ✓ an enormous red and yellow
2. ✗ a red enormous and yellow
3. ✗ a red and yellow enormous
4. ✗ a yellow enormous and red

Question Number : 54 Question Id : 168000354 Display Question Number : Yes Single Line Question Option : No Option Orientation : Vertical

*Choose from the options given below the one that employs an appropriate tag question:*

All of us should obey the rules, \_\_\_\_\_

Options :

1. ✓ shouldn't we?
2. ✗ should we?
3. ✗ shouldn't us?
4. ✗ should us?

Question Number : 54 Question Id : 168000354 Display Question Number : Yes Single Line Question Option : No Option Orientation : Vertical

*Choose from the options given below the one that employs an appropriate tag question:*

All of us should obey the rules, \_\_\_\_\_

Options :

1. ✓ shouldn't we?
2. ✗ should we?
3. ✗ shouldn't us?
4. ✗ should us?

Question Number : 55 Question Id : 168000355 Display Question Number : Yes Single Line Question Option : No Option Orientation : Vertical

From the options given below, choose the one that has the prepositions placed correctly to form a proper sentence:

Options :

1. ✘ Rescuers are searching with survivors and there are reports of children trapped in a partly-collapsed school.
2. ✘ Rescuers are searching for survivors and there are reports of children trapped along a partly-collapsed school.
3. ✔ Rescuers are searching for survivors and there are reports of children trapped in a partly-collapsed school.
4. ✘ Rescuers are searching for survivors and there are reports of children trapped on a partly-collapsed school.

Question Number : 55 Question Id : 168000355 Display Question Number : Yes Single Line Question Option : No Option Orientation : Vertical

From the options given below, choose the one that has the prepositions placed correctly to form a proper sentence:

Options :

1. ✘ Rescuers are searching with survivors and there are reports of children trapped in a partly-collapsed school.
2. ✘ Rescuers are searching for survivors and there are reports of children trapped along a partly-collapsed school.
3. ✔ Rescuers are searching for survivors and there are reports of children trapped in a partly-collapsed school.
4. ✘ Rescuers are searching for survivors and there are reports of children trapped on a partly-collapsed school.

Question Number : 56 Question Id : 168000356 Display Question Number : Yes Single Line Question Option : No Option Orientation : Vertical

यद्यपि शब्द किस से बना है?

Options :

1. ✘ यद्य + पि
2. ✔ यदि + अपि
3. ✘ यद्या + पि

4. ✘ यदि + आपि

Question Number : 56 Question Id : 168000356 Display Question Number : Yes Single Line Question Option : No Option Orientation : Vertical

यद्यपि शब्द किस से बना है?

Options :

1. ✘ यद्य + पि

2. ✔ यदि + अपि

3. ✘ यद्या + पि

4. ✘ यदि + आपि

Question Number : 57 Question Id : 168000357 Display Question Number : Yes Single Line Question Option : No Option Orientation : Vertical

'आजीवन' शब्द में समास है:

Options :

1. ✔ अव्ययीभाव

2. ✘ तत्पुरुष

3. ✘ कर्मधारय

4. ✘ द्वंद्व

Question Number : 57 Question Id : 168000357 Display Question Number : Yes Single Line Question Option : No Option Orientation : Vertical

'आजीवन' शब्द में समास है:

Options :

1. ✔ अव्ययीभाव

2. ✘ तत्पुरुष

3. ✘ कर्मधारय

4. ✘ द्वंद्व

Question Number : 58 Question Id : 168000358 Display Question Number : Yes Single Line Question Option : No Option Orientation : Vertical

‘जिसमें संदेह न हो’ इस वाक्यांश के लिए एक शब्द होगा:

Options :

1. ✘ संदिग्ध
2. ✔ निस्संदेह
3. ✘ संदेहास्पद
4. ✘ असंदेह

Question Number : 58 Question Id : 168000358 Display Question Number : Yes Single Line Question Option : No Option Orientation : Vertical

‘जिसमें संदेह न हो’ इस वाक्यांश के लिए एक शब्द होगा:

Options :

1. ✘ संदिग्ध
2. ✔ निस्संदेह
3. ✘ संदेहास्पद
4. ✘ असंदेह

Question Number : 59 Question Id : 168000359 Display Question Number : Yes Single Line Question Option : No Option Orientation : Vertical

‘पवन’ शब्द का पर्यायवाची नहीं है:

Options :

1. ✘ वायु
2. ✘ समीर
3. ✔ अनल
4. ✘ हवा

Question Number : 59 Question Id : 168000359 Display Question Number : Yes Single Line Question Option : No Option Orientation : Vertical

'पवन' शब्द का पर्यायवाची नहीं है:

Options :

1. ✘ वायु
2. ✘ समीर
3. ✔ अनल
4. ✘ हवा

Question Number : 60 Question Id : 168000360 Display Question Number : Yes Single Line Question Option : No Option Orientation : Vertical

कौन-से शब्द की वर्तनी अशुद्ध है?

Options :

1. ✘ परीक्षा
2. ✘ वर्णित
3. ✘ मधुपर्क
4. ✔ ग्रहणी

Question Number : 60 Question Id : 168000360 Display Question Number : Yes Single Line Question Option : No Option Orientation : Vertical

कौन-से शब्द की वर्तनी अशुद्ध है?

Options :

1. ✘ परीक्षा
2. ✘ वर्णित
3. ✘ मधुपर्क
4. ✔ ग्रहणी

Question Number : 61 Question Id : 168000361 Display Question Number : Yes Single Line Question Option : No Option Orientation : Vertical

'निकट' शब्द का विलोम होता है:

Options :

1. ✘ समीप
2. ✘ पास
3. ✔ दूर
4. ✘ पार्श्व

Question Number : 61 Question Id : 168000361 Display Question Number : Yes Single Line Question Option : No Option Orientation : Vertical

‘निकट’ शब्द का विलोम होता है:

Options :

1. ✘ समीप
2. ✘ पास
3. ✔ दूर
4. ✘ पार्श्व

Question Number : 62 Question Id : 168000362 Display Question Number : Yes Single Line Question Option : No Option Orientation : Vertical

निम्नलिखित में से कौन-सा शब्द तत्सम है?

Options :

1. ✘ सुहाग
2. ✘ खेल
3. ✔ धैर्य
4. ✘ हँसी

Question Number : 62 Question Id : 168000362 Display Question Number : Yes Single Line Question Option : No Option Orientation : Vertical

निम्नलिखित में से कौन-सा शब्द तत्सम है?

Options :

1. ✘ सुहाग



2. ✘ खेल

3. ✔ धैर्य

4. ✘ हँसी

Question Number : 63 Question Id : 168000363 Display Question Number : Yes Single Line Question Option : No Option Orientation : Vertical

'दोनों ओर संकट' होने पर कहा जाता है:

Options :

1. ✔ इधर कुंआ उधर खाई।

2. ✘ खरी मजूरी चोखा काम।

3. ✘ चलती का नाम गाडी।

4. ✘ एक करेला दूजा नीम चढा।

Question Number : 63 Question Id : 168000363 Display Question Number : Yes Single Line Question Option : No Option Orientation : Vertical

'दोनों ओर संकट' होने पर कहा जाता है:

Options :

1. ✔ इधर कुंआ उधर खाई।

2. ✘ खरी मजूरी चोखा काम।

3. ✘ चलती का नाम गाडी।

4. ✘ एक करेला दूजा नीम चढा।

Question Number : 64 Question Id : 168000364 Display Question Number : Yes Single Line Question Option : No Option Orientation : Vertical

निम्नलिखित में कौन-सा शब्द तद्भव है?

Options :

1. ✘ दधि

2. ✘ पृष्ठ
3. ✘ अमर
4. ✔ पत्ता

Question Number : 64 Question Id : 168000364 Display Question Number : Yes Single Line Question Option : No Option Orientation : Vertical

निम्नलिखित में कौन-सा शब्द तद्रव है?

Options :

1. ✘ दधि
2. ✘ पृष्ठ
3. ✘ अमर
4. ✔ पत्ता

Question Number : 65 Question Id : 168000365 Display Question Number : Yes Single Line Question Option : No Option Orientation : Vertical

'घन' शब्द का अर्थ नहीं है:

Options :

1. ✘ बादल
2. ✘ घना
3. ✘ हथौडा
4. ✔ धन

Question Number : 65 Question Id : 168000365 Display Question Number : Yes Single Line Question Option : No Option Orientation : Vertical

'घन' शब्द का अर्थ नहीं है:

Options :

1. ✘ बादल
2. ✘ घना
3. ✘ हथौडा

4. ✓ धन

Question Number : 66 Question Id : 168000366 Display Question Number : Yes Single Line Question Option : No Option Orientation : Vertical

If  $n$  is odd, then  $(a^n + b^n)$  is divisible by:

Options :

1. ✗  $a - b$

2. ✓  $a + b$

3. ✗  $a \times b$

4. ✗  $a \div b$

Question Number : 66 Question Id : 168000366 Display Question Number : Yes Single Line Question Option : No Option Orientation : Vertical

यदि  $n$  एक विषम संख्या है, तो  $(a^n + b^n)$  किसके द्वारा विभाजित है?

Options :

1. ✗  $a - b$

2. ✓  $a + b$

3. ✗  $a \times b$

4. ✗  $a \div b$

Question Number : 67 Question Id : 168000367 Display Question Number : Yes Single Line Question Option : No Option Orientation : Vertical

The average of 12 numbers is 10.8. If the average of the first six numbers is 10 and that of the last seven numbers is 11, then the 6<sup>th</sup> number is:

Options :

1. ✓ 7.2

2. ✗ 7.4

3. ✗ 7.0

4. ✗ 6.8

Question Number : 67 Question Id : 168000367 Display Question Number : Yes Single Line Question Option : No Option Orientation : Vertical

12 संख्याओं का औसत 10.8 है। यदि पहली 6 संख्याओं का औसत 10 और अंतिम 7 संख्याओं का औसत 11 है, तो छठी संख्या है:

Options :

1. ✓ 7.2
2. ✗ 7.4
3. ✗ 7.0
4. ✗ 6.8

Question Number : 68 Question Id : 168000368 Display Question Number : Yes Single Line Question Option : No Option Orientation : Vertical

An amount of ₹ 1,000 is invested in two types of shares. 1<sup>st</sup> yields an interest of 9% per annum and 2<sup>nd</sup> yields an interest of 11% per annum. If the total interest at the end of one year is 9.75%, then the amount invested in each share is:

Options :

1. ✗ ₹ 615 and ₹ 385
2. ✗ ₹ 620 and ₹ 380
3. ✗ ₹ 630 and ₹ 370
4. ✓ ₹ 625 and ₹ 375

Question Number : 68 Question Id : 168000368 Display Question Number : Yes Single Line Question Option : No Option Orientation : Vertical

₹ 1,000 की एक धनराशि को दो प्रकार के शेयरों में विभाजित किया जाता है। पहले शेयर पर 9% की वार्षिक दर से और दूसरे शेयर पर 11% प्रतिशत वार्षिक दर से ब्याज प्राप्त होता है। यदि वर्ष के अंत में कुल 9.75% का ब्याज प्राप्त होता है, तो प्रत्येक शेयर में निवेश की गयी राशि है:

Options :

1. ✗ ₹ 615 और ₹ 385
2. ✗ ₹ 620 और ₹ 380
3. ✗ ₹ 630 और ₹ 370
4. ✓ ₹ 625 और ₹ 375

Question Number : 69 Question Id : 168000369 Display Question Number : Yes Single Line Question Option : No Option Orientation : Vertical

If Mr. X's salary was reduced by 25% and subsequently increased by 25%, then X's percentage loss or gain is:

Options :

1. ✓ 6.25% loss
2. ✗ 7.25% gain
3. ✗ 6.25% gain
4. ✗ 7.25% loss

Question Number : 69 Question Id : 168000369 Display Question Number : Yes Single Line Question Option : No Option Orientation : Vertical

यदि श्री X का वेतन 25% कम कर दिया जाता है और उसके बाद 25% बढ़ा दिया जाता है, तो X को हुई हानि या लाभ का प्रतिशत है:

Options :

1. ✓ 6.25% हानि
2. ✗ 7.25% लाभ
3. ✗ 6.25% लाभ
4. ✗ 7.25% हानि

Question Number : 70 Question Id : 168000370 Display Question Number : Yes Single Line Question Option : No Option Orientation : Vertical

Given the equations  $x^2 - x - 42 = 0$  and  $y^2 - 17y + 72 = 0$ ,  $x$  and  $y$  satisfy which of the following relations?

Options :

1. ✗  $x > y$
2. ✗  $x \geq y$
3. ✓  $x < y$
4. ✗  $x \leq y$

Question Number : 70 Question Id : 168000370 Display Question Number : Yes Single Line Question Option : No Option Orientation : Vertical

दी गयी समीकरणों  $x^2 - x - 42 = 0$  और  $y^2 - 17y + 72 = 0$  में,  $x$  और  $y$  निम्नलिखित में से किस संबंध को दर्शाते हैं?

Options :

1. ✘  $x > y$

2. ✘  $x \geq y$

3. ✔  $x < y$

4. ✘  $x \leq y$

Question Number : 71 Question Id : 168000371 Display Question Number : Yes Single Line Question Option : No Option Orientation : Vertical

$x$  varies inversely as a cube of  $y$ , given  $x = 10$  and  $y = 1$ . The value of  $x$  when  $y = 0.1$  is:

Options :

1. ✘ 100000

2. ✘ 1000

3. ✘ 100

4. ✔ 10000

Question Number : 71 Question Id : 168000371 Display Question Number : Yes Single Line Question Option : No Option Orientation : Vertical

$x = 10$  और  $y = 1$  दिये जाने पर  $x$ ,  $y$  के एक घन के व्युत्पन्न स्वरूप में भिन्न होता है। यदि  $y = 0.1$  हो, तब  $x$  का मान होगा:

Options :

1. ✘ 100000

2. ✘ 1000

3. ✘ 100

4. ✔ 10000

Question Number : 72 Question Id : 168000372 Display Question Number : Yes Single Line Question Option : No Option Orientation : Vertical

The distance between two places A and B is 30 km. A car starts from A and moves towards B with the speed of 60 kmph along a straight road. At the same time, another car starts from B with the speed of 45 kmph in the same direction. After how many hours will the car that started from point A overtake the car that started from point B?

Options :

1. ✘ 1

2. ✘ 1.5

3. ✔ 2

4. ✘ 3

Question Number : 72 Question Id : 168000372 Display Question Number : Yes Single Line Question Option : No Option Orientation : Vertical

दो स्थानों A और B के बीच की दूरी 30 किमी है। एक कार 60 किमी/घंटा की चाल से एक सीधी सड़क पर A से B की ओर चलना शुरू करती है। उसी समय, एक अन्य कार B से उसी दिशा में 45 किमी/घंटा की चाल से चलना शुरू करती है। बिंदु A से चलने वाली कार कितने घंटे बाद बिंदु B से चलने वाली कार को पार कर लेगी?

Options :

1. ✘ 1

2. ✘ 1.5

3. ✔ 2

4. ✘ 3

Question Number : 73 Question Id : 168000373 Display Question Number : Yes Single Line Question Option : No Option Orientation : Vertical

Vishal and Arun together can build a 6 metre wall in 8 days. If Vishal alone can build the same wall in 16 days, in how many days can Arun alone build the same wall?

Options :

1. ✘ 17

2. ✘ 16.5

3. ✘ 15

4. ✔ 16

Question Number : 73 Question Id : 168000373 Display Question Number : Yes Single Line Question Option : No Option Orientation : Vertical

विशाल और अरुण एक साथ मिलकर एक 6 मीटर दीवार का निर्माण 8 दिन में कर सकते हैं। यदि विशाल इसी दीवार को अकेले 16 दिनों में बना सकता है, तो अरुण अकेले इस दीवार को कितने दिनों में बना सकता है?

Options :

1. ✘ 17

2. ✘ 16.5

3. ✘ 15

4. ✔ 16

Question Number : 74 Question Id : 168000374 Display Question Number : Yes Single Line Question Option : No Option Orientation : Vertical

Three pots having same capacities are full of solutions of acid and water. The ratios of acid and water in these pots are 3 : 2, 7 : 3 and  $x : y$ . The contents of these pots are emptied into another pot. If the ratio of acid and water in it is 47 : 43, then what is  $x : y$ ?

Options :

1. ✔ 4 : 11

2. ✘ 4 : 9

3. ✘ 3 : 11

4. ✘ 3 : 8

Question Number : 74 Question Id : 168000374 Display Question Number : Yes Single Line Question Option : No Option Orientation : Vertical

समान आयतनों वाले तीन बर्तन अम्ल और पानी के विलयनों से पूर्णतः भरे हैं। इन बर्तनों में अम्ल और पानी का अनुपात क्रमशः 3 : 2, 7 : 3 और  $x : y$  है। इन बर्तनों की सारी सामग्री को एक अन्य खाली बर्तन में डाला जाता है। यदि इस बर्तन में अम्ल और पानी का अनुपात 47 : 43 है, तो  $x : y$  का अनुपात क्या है:

Options :

1. ✔ 4 : 11

2. ✘ 4 : 9

3. ✘ 3 : 11

4. ✘ 3 : 8

Question Number : 75 Question Id : 168000375 Display Question Number : Yes Single Line Question Option : No Option Orientation : Vertical

Giri sold an article at a loss of  $2\frac{1}{2}\%$ . Had he sold it for ₹ 112 more, he would have gained  $7\frac{1}{2}\%$ . For what price should he sell it in order to gain 12.5%?

Options :

1. ✘ ₹ 1,200

2. ✔ ₹ 1,260



3. ✘ ₹ 1,280

4. ✘ ₹ 1,290

Question Number : 75 Question Id : 168000375 Display Question Number : Yes Single Line Question Option : No Option Orientation : Vertical

गिरी ने एक वस्तु को  $2\frac{1}{2}\%$  की हानि पर बेचा। यदि उसने इसे ₹ 112 अधिक में बेचा होता, तो उसे  $7\frac{1}{2}\%$  लाभ होता। 12.5% का लाभ अर्जित करने के लिए उसे वस्तु को किस मूल्य पर बेचना चाहिए?

Options :

1. ✘ ₹ 1,200

2. ✔ ₹ 1,260

3. ✘ ₹ 1,280

4. ✘ ₹ 1,290

Question Number : 76 Question Id : 168000376 Display Question Number : Yes Single Line Question Option : No Option Orientation : Vertical

A ball of 250 g is moving with a constant velocity in a straight line. A force of 2.0 N is applied for 10 s in the direction of motion of the ball. The change in the momentum of the ball is:

Options :

1. ✘  $5.0 \text{ kg m s}^{-1}$

2. ✘  $10 \text{ kg m s}^{-1}$

3. ✘  $15 \text{ kg m s}^{-1}$

4. ✔  $20 \text{ kg m s}^{-1}$

Question Number : 76 Question Id : 168000376 Display Question Number : Yes Single Line Question Option : No Option Orientation : Vertical

250 ग्राम की एक गेंद एक सीधी रेखा में नियत वेग से चल रही है। गेंद पर 2.0 न्यूटन का एक बल 10 सेकंड तक उसके चलने की ही दिशा में लगाया जाता है। गेंद के संवेग में परिवर्तन होगा:

Options :

1. ✘ 5.0 किग्रा मी सेकंड<sup>-1</sup>

2. ✘ 10 किग्रा मी सेकंड<sup>-1</sup>
3. ✘ 15 किग्रा मी सेकंड<sup>-1</sup>
4. ✔ 20 किग्रा मी सेकंड<sup>-1</sup>

Question Number : 77 Question Id : 168000377 Display Question Number : Yes Single Line Question Option : No Option Orientation : Vertical

A bullet of 0.02 kg is fired horizontally with a velocity of 72 m/s from a pistol of 2.4 kg. The velocity of the pistol after firing the bullet is:

Options :

1. ✔ -0.6 m/s
2. ✘ 0.6 m/s
3. ✘ -12 m/s
4. ✘ 12 m/s

Question Number : 77 Question Id : 168000377 Display Question Number : Yes Single Line Question Option : No Option Orientation : Vertical

2.4 किग्रा की पिस्तौल से एक 0.02 किग्रा की गोली क्षैतिज दिशा में 72 मी/सेकंड के वेग से चलाई जाती है। गोली चलाने के बाद पिस्तौल का वेग होगा:

Options :

1. ✔ -0.6 मी/सेकंड
2. ✘ 0.6 मी/सेकंड
3. ✘ -12 मी/सेकंड
4. ✘ 12 मी/सेकंड

Question Number : 78 Question Id : 168000378 Display Question Number : Yes Single Line Question Option : No Option Orientation : Vertical

A boy raises an object of 5 kg through a height of 2 m. The work done by him is:

Options :

1. ✘ 49 J
2. ✘ -49J

3. ✓ 98 J

4. ✗ -98 J

Question Number : 78 Question Id : 168000378 Display Question Number : Yes Single Line Question Option : No Option Orientation : Vertical

एक लड़का 5 किग्रा की एक वस्तु को 2 मी की ऊंचाई तक उठाता है। उसके द्वारा किया गया कार्य है:

Options :

1. ✗ 49 जूल

2. ✗ -49 जूल

3. ✓ 98 जूल

4. ✗ -98 जूल

Question Number : 79 Question Id : 168000379 Display Question Number : Yes Single Line Question Option : No Option Orientation : Vertical

Harvinder, whose mass is 40 kg, runs up a flight of stairs having a rise of 4 m in a time of 4.9 s. The rate of work done by him is:

Options :

1. ✗ 160 W

2. ✗ 240 W

3. ✓ 320 W

4. ✗ 640 W

Question Number : 79 Question Id : 168000379 Display Question Number : Yes Single Line Question Option : No Option Orientation : Vertical

हरविंदर, जिसका द्रव्यमान 40 किग्रा है, 4 मी. ऊंची सीढ़ियां 4.9 सेकंड में चढ़ता है। उसके द्वारा किए गए कार्य का दर है:

Options :

1. ✗ 160 वाट

2. ✗ 240 वाट

3. ✓ 320 वाट

4. ✘ 640 वाट

Question Number : 80 Question Id : 168000380 Display Question Number : Yes Single Line Question Option : No Option Orientation : Vertical

The mass of a planet is  $\frac{1}{12}$  the mass of the Earth and its radius is half the radius of the Earth. If a person weighs 300 N on Earth, his weight on the planet would be:

Options :

1. ✔ 100 N

2. ✘ 160 N

3. ✘ 300 N

4. ✘ 340 N

Question Number : 80 Question Id : 168000380 Display Question Number : Yes Single Line Question Option : No Option Orientation : Vertical

एक ग्रह का द्रव्यमान पृथ्वी के द्रव्यमान का  $\frac{1}{12}$  और इसकी त्रिज्या पृथ्वी की त्रिज्या की आधी है। यदि किसी व्यक्ति का वजन पृथ्वी पर 300 न्यूटन है तो ग्रह पर उसका भार होगा:

Options :

1. ✔ 100 न्यूटन

2. ✘ 160 न्यूटन

3. ✘ 300 न्यूटन

4. ✘ 340 न्यूटन

Question Number : 81 Question Id : 168000381 Display Question Number : Yes Single Line Question Option : No Option Orientation : Vertical

Which one of the following can be used as a natural acid-base indicator?

Options :

1. ✔ Turmeric

2. ✘ Table salt

3. ✘ Acetone

4. ✘ Wheat flour

Question Number : 81 Question Id : 168000381 Display Question Number : Yes Single Line Question Option : No Option Orientation : Vertical

प्राकृतिक अम्ल-क्षार सूचक के रूप में निम्नलिखित में से किस का प्रयोग किया जा सकता है?

Options :

1. ✓ हल्दी
2. ✗ सादा नमक
3. ✗ एसीटोन
4. ✗ गेहूं का आटा

Question Number : 82 Question Id : 168000382 Display Question Number : Yes Single Line Question Option : No Option Orientation : Vertical

What is the pH value of the aqueous solution containing sodium acetate ( $\text{CH}_3\text{COONa}$ ) salt?

Options :

1. ✗ 0
2. ✓ >7
3. ✗ <7
4. ✗ =7

Question Number : 82 Question Id : 168000382 Display Question Number : Yes Single Line Question Option : No Option Orientation : Vertical

सोडियम एसीटेट ( $\text{CH}_3\text{COONa}$ ) लवण युक्त जलीय विलयन का पीएच (pH) मूल्य क्या होगा?

Options :

1. ✗ 0
2. ✓ >7
3. ✗ <7
4. ✗ =7

Question Number : 83 Question Id : 168000383 Display Question Number : Yes Single Line Question Option : No Option Orientation : Vertical

Which one of the following is **NOT** the characteristic feature of metals?

Options :

1. ✓ Electronegativity
2. ✗ Formation of basic oxides
3. ✗ Ability to conduct electricity
4. ✗ Ability to form cations

Question Number : 83 Question Id : 168000383 Display Question Number : Yes Single Line Question Option : No Option Orientation : Vertical

निम्नलिखित में से कौन-सा धातुओं का प्रमुख गुण नहीं है?

Options :

1. ✓ विद्युत ऋणात्मकता
2. ✗ क्षारीय ऑक्साइड्स का निर्माण
3. ✗ विद्युत संचालन की क्षमता
4. ✗ धनायन बनाने की क्षमता

Question Number : 84 Question Id : 168000384 Display Question Number : Yes Single Line Question Option : No Option Orientation : Vertical

Which one of the following metals can displace magnesium from its salts?

(The descending position of metals in the reactivity series is: calcium, magnesium, zinc, iron and lead.)

Options :

1. ✗ Lead
2. ✗ Iron
3. ✗ Zinc
4. ✓ Calcium

Question Number : 84 Question Id : 168000384 Display Question Number : Yes Single Line Question Option : No Option Orientation : Vertical

निम्नलिखित में से कौन-सी धातु अपने लवणों में से मैग्नीशियम विस्थापित कर सकती है?

(अभिक्रिया श्रृंखला में धातुओं का अवरोही क्रम इस प्रकार है: कैल्शियम, मैग्नीशियम, जिंक, लोहा और सीसा)

Options :

1. ✘ सीसा
2. ✘ लोहा
3. ✘ जिंक
4. ✔ कैल्शियम

Question Number : 85 Question Id : 168000385 Display Question Number : Yes Single Line Question Option : No Option Orientation : Vertical

What is total number of molecules present in the 2.8 gram of nitrogen gas (N<sub>2</sub>)?

Options :

1. ✘  $6.023 \times 10^{23}$
2. ✘  $2 \times 6.023 \times 10^{23}$
3. ✔  $6.023 \times 10^{22}$
4. ✘  $6.023 \times 10^{21}$

Question Number : 85 Question Id : 168000385 Display Question Number : Yes Single Line Question Option : No Option Orientation : Vertical

2.8 ग्राम नाइट्रोजन गैस (N<sub>2</sub>) में उपस्थित कुल अणुओं की संख्या कितनी होगी?

Options :

1. ✘  $6.023 \times 10^{23}$
2. ✘  $2 \times 6.023 \times 10^{23}$
3. ✔  $6.023 \times 10^{22}$
4. ✘  $6.023 \times 10^{21}$

Question Number : 86 Question Id : 168000386 Display Question Number : Yes Single Line Question Option : No Option Orientation : Vertical

What is the smallest gradation of pitch representing the quality of frequency (timbre) in Indian classical music?

Options :

1. ✘ Swara
2. ✔ Sruti
3. ✘ Melakarta
4. ✘ Raga

Question Number : 86 Question Id : 168000386 Display Question Number : Yes Single Line Question Option : No Option Orientation : Vertical

भारतीय शास्त्रीय संगीत में आवृत्ति (लय) की गुणवत्ता को दर्शाने वाली पिच का सबसे छोटा पदक्रम क्या है?

Options :

1. ✘ स्वर
2. ✔ श्रुति
3. ✘ मेलकर्ता
4. ✘ राग

Question Number : 87 Question Id : 168000387 Display Question Number : Yes Single Line Question Option : No Option Orientation : Vertical

Which was the greatest achievement of the Indus Valley Civilisation?

Options :

1. ✔ Sophisticated plumbing and sewage system
2. ✘ Graphic script
3. ✘ Advanced machinery
4. ✘ Number system

Question Number : 87 Question Id : 168000387 Display Question Number : Yes Single Line Question Option : No Option Orientation : Vertical

सिंधु घाटी सभ्यता की सबसे बड़ी उपलब्धि क्या थी?

Options :

1. ✔ परिष्कृत पाइपलाइन और सीवेज (दूषित जल निकासी) प्रणाली



2. ✘ ग्राफिक स्क्रिप्ट (रेखाचित्र लिपि)

3. ✘ उन्नत मशीनें

4. ✘ अंक प्रणाली

Question Number : 88 Question Id : 168000388 Display Question Number : Yes Single Line Question Option : No Option Orientation : Vertical

Which Indian state is known as the state of five rivers?

Options :

1. ✘ Jharkhand

2. ✘ Kerala

3. ✔ Punjab

4. ✘ Himachal Pradesh

Question Number : 88 Question Id : 168000388 Display Question Number : Yes Single Line Question Option : No Option Orientation : Vertical

किस भारतीय राज्य को पांच नदियों वाले राज्य के रूप में जाना जाता है?

Options :

1. ✘ झारखण्ड

2. ✘ केरल

3. ✔ पंजाब

4. ✘ हिमाचल प्रदेश

Question Number : 89 Question Id : 168000389 Display Question Number : Yes Single Line Question Option : No Option Orientation : Vertical

The central banking functions in India are performed by which of the following?

a. Central Bank of India

b. Reserve Bank of India

c. State Bank of India

d. The Indian Bank

Options :

1. ✘ a

2. ✘ c

3. ✘ d

4. ✔ b

Question Number : 89 Question Id : 168000389 Display Question Number : Yes Single Line Question Option : No Option Orientation : Vertical

भारत में केन्द्रीय बैंकिंग कार्य निम्नलिखित में से किस के द्वारा किया जाता है?

- a. सेंट्रल बैंक ऑफ़ इंडिया
- b. भारतीय रिज़र्व बैंक
- c. भारतीय स्टेट बैंक
- d. द इंडियन बैंक

Options :

1. ✘ a

2. ✘ c

3. ✘ d

4. ✔ b

Question Number : 90 Question Id : 168000390 Display Question Number : Yes Single Line Question Option : No Option Orientation : Vertical

Which one among the following is **NOT** included as part of the fundamental rights within the Constitution of India?

Options :

1. ✔ Right to Information

2. ✘ Right against Exploitation

3. ✘ Right to Freedom

4. ✘ Right to Equality

Question Number : 90 Question Id : 168000390 Display Question Number : Yes Single Line Question Option : No Option Orientation : Vertical

भारत के संविधान में मौलिक अधिकारों के भाग के रूप में निम्नलिखित में से क्या सम्मिलित नहीं है?

Options :

1. ✓ सूचना का अधिकार
2. ✘ शोषण के विरुद्ध अधिकार
3. ✘ स्वतंत्रता का अधिकार
4. ✘ समानता का अधिकार

Question Number : 91 Question Id : 168000391 Display Question Number : Yes Single Line Question Option : No Option Orientation : Vertical

What the chemical compounds with the same composition (molecular formula) but different shapes (structure) referred to as?

Options :

1. ✘ Polymer
2. ✓ Isomer
3. ✘ Ionic
4. ✘ Diatomic

Question Number : 91 Question Id : 168000391 Display Question Number : Yes Single Line Question Option : No Option Orientation : Vertical

वे कौन से रासायनिक यौगिक हैं जिनका संयोजन (आणविक सूत्र) समान होता है लेकिन आकार (संरचना) भिन्न होते हैं?

Options :

1. ✘ पॉलीमर
2. ✓ आइसोमर
3. ✘ आयनिक
4. ✘ डाइटॉमिक

Question Number : 92 Question Id : 168000392 Display Question Number : Yes Single Line Question Option : No Option Orientation : Vertical

Which country is currently (as of September 2017) producing the world's most expensive coffee?

Options :

1. ✘ Cambodia

2. ✘ China
3. ✘ Mexico
4. ✔ India

Question Number : 92 Question Id : 168000392 Display Question Number : Yes Single Line Question Option : No Option Orientation : Vertical

वर्तमान में कौन-सा देश (सितंबर 2017 तक) विश्व की सबसे महंगी कॉफी का उत्पादन कर रहा है?

Options :

1. ✘ कंबोडिया
2. ✘ चीन
3. ✘ मेक्सिको
4. ✔ भारत

Question Number : 93 Question Id : 168000393 Display Question Number : Yes Single Line Question Option : No Option Orientation : Vertical

What is the name of the sport in which a ring of iron, rope or rubber is thrown to encircle or land as near as possible to an upright peg?

Options :

1. ✔ Quoits
2. ✘ Quidditch
3. ✘ Quianring
4. ✘ Quadring

Question Number : 93 Question Id : 168000393 Display Question Number : Yes Single Line Question Option : No Option Orientation : Vertical

उस खेल का क्या नाम है, जिसमें एक लोहे, रस्सी या रबड़ के छल्ले को एक घेरे में या भूमि पर सीधी गड़ी खूंटी के जितना संभव हो सके उतना पास फेंका जाता है?

Options :

1. ✔ क्वॉइट
2. ✘ क्विडडिच

3. ✘ क्विअनरिंग

4. ✘ क्वाड्रिंग

Question Number : 94 Question Id : 168000394 Display Question Number : Yes Single Line Question Option : No Option Orientation : Vertical

Prakash Padukone is an Indian sportsperson of repute associated with which sport?

Options :

1. ✘ Cricket

2. ✘ Hockey

3. ✘ Tennis

4. ✔ Badminton

Question Number : 94 Question Id : 168000394 Display Question Number : Yes Single Line Question Option : No Option Orientation : Vertical

प्रकाश पादुकोण, जो एक प्रसिद्ध भारतीय खिलाड़ी हैं, किस खेल से जुड़े हैं?

Options :

1. ✘ क्रिकेट

2. ✘ हॉकी

3. ✘ टेनिस

4. ✔ बैडमिंटन

Question Number : 95 Question Id : 168000395 Display Question Number : Yes Single Line Question Option : No Option Orientation : Vertical

What are the dots over the letters i and j called?

Options :

1. ✘ Tau

2. ✘ Tilde

3. ✔ Tittle

4. ✘ Theta

Question Number : 95 Question Id : 168000395 Display Question Number : Yes Single Line Question Option : No Option Orientation : Vertical

अक्षर i और j के ऊपर लगाने वाले बिन्दुओं को क्या कहते हैं?

Options :

1. ✘ ताउ
2. ✘ टिल्ड
3. ✔ टाइटल
4. ✘ थीटा

Question Number : 96 Question Id : 168000396 Display Question Number : Yes Single Line Question Option : No Option Orientation : Vertical

If SPIFA stands for BLADE, then BALE will be coded as \_\_\_\_\_.

Options :

1. ✔ SIPA
2. ✘ PIFA
3. ✘ SIAP
4. ✘ ELAB

Question Number : 96 Question Id : 168000396 Display Question Number : Yes Single Line Question Option : No Option Orientation : Vertical

यदि SPIFA का कोड BLADE है तो BALE को \_\_\_\_\_ के रूप में कोड किया जाएगा।

Options :

1. ✔ SIPA
2. ✘ PIFA
3. ✘ SIAP
4. ✘ ELAB

Question Number : 97 Question Id : 168000397 Display Question Number : Yes Single Line Question Option : No Option Orientation : Vertical

Complete the analogy.

TREE : ROOT :: HOUSE : \_\_\_\_\_

Options :

1. ✘ SAND
2. ✘ BRICK
3. ✘ WALL
4. ✔ FOUNDATION

Question Number : 97 Question Id : 168000397 Display Question Number : Yes Single Line Question Option : No Option Orientation : Vertical

सादृश्य को पूरा करें।

पेड़ : जड़ :: घर : \_\_\_\_\_

Options :

1. ✘ रेत
2. ✘ ईंट
3. ✘ दीवार
4. ✔ नींव

Question Number : 98 Question Id : 168000398 Display Question Number : Yes Single Line Question Option : No Option Orientation : Vertical

'Sugarcane' is related to 'Field' in the same way as 'Steel' is related to \_\_\_\_\_.

Options :

1. ✘ mine
2. ✘ iron
3. ✔ factory
4. ✘ wagon

Question Number : 98 Question Id : 168000398 Display Question Number : Yes Single Line Question Option : No Option Orientation : Vertical

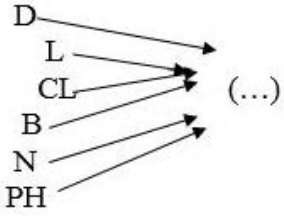
जिस प्रकार 'गन्ना' 'खेत' से संबंधित है, उसी प्रकार 'स्टील' \_\_\_\_\_ से संबंधित है।

Options :

1. ✘ खदान
2. ✘ लौह
3. ✔ कारखाना
4. ✘ वाहन

Question Number : 99 Question Id : 168000399 Display Question Number : Yes Single Line Question Option : No Option Orientation : Vertical

Select the set of letters that, when added as suffix to the letter/set of letters from the image, forms a meaningful English word.

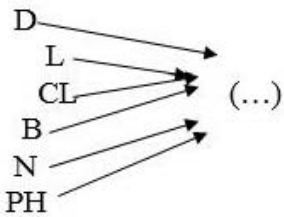


Options :

1. ✘ INR
2. ✔ ONE
3. ✘ IND
4. ✘ IRT

Question Number : 99 Question Id : 168000399 Display Question Number : Yes Single Line Question Option : No Option Orientation : Vertical

अक्षरों के उस समूह (समुच्चय) का चयन करें जिसे जब चित्र के अक्षर/अक्षर-समूह के प्रत्यय के रूप में जोड़ा जाए तो कोई अर्थपूर्ण अंग्रेज़ी शब्द बने।



Options :

1. ✘ INR



2. ✓ ONE

3. ✗ IND

4. ✗ IRT

Question Number : 100 Question Id : 168000400 Display Question Number : Yes Single Line Question Option : No Option Orientation : Vertical

Select the number that would complete the below number series:

13, 35, 57, 79, 911, 1113, \_\_\_\_\_.

Options :

1. ✗ 1311

2. ✗ 1131

3. ✓ 1315

4. ✗ 1351

Question Number : 100 Question Id : 168000400 Display Question Number : Yes Single Line Question Option : No Option Orientation : Vertical

उस संख्या का चयन करें जो नीचे दी गई संख्या श्रृंखला को पूर्ण करेगा:

13, 35, 57, 79, 911, 1113, \_\_\_\_\_

Options :

1. ✗ 1311

2. ✗ 1131

3. ✓ 1315

4. ✗ 1351