



Haryana Staff Selection Commission

Notations :

- 1.Options shown in **green** color and with  icon are correct.
- 2.Options shown in **red** color and with  icon are incorrect.

Subject Name:	CAT 7 Senior Scale Stenographer English CBT Exam
Total Marks:	200
Display Marks:	Yes
Calculator:	None
Magnifying Glass Required?:	No
Ruler Required?:	No
Eraser Required?:	No
Scratch Pad Required?:	No
Rough Sketch/Notepad Required?:	No
Protractor Required?:	No

CAT 7 Senior Scale Stenographer English CBT Exam

Group Marks: 200





CAT 7 Senior Scale Stenographer English CBT Exam

Section Marks:	200
Display Number Panel:	Yes
Group All Questions:	No

Question Number : 1 Question Id : 168000201 Display Question Number : Yes Single Line Question Option : No Option Orientation : Vertical

Ambala-Kalka rail link was opened in:

Options :

1.  1861
2.  1871
3.  1881
4.  1891

Question Number : 1 Question Id : 168000201 Display Question Number : Yes Single Line Question Option : No Option Orientation : Vertical

अंबाला-कालका रेल लिंक किस वर्ष में खोला गया था?

Options :

1. ✘ 1861
2. ✘ 1871
3. ✘ 1881
4. ✔ 1891

Question Number : 2 Question Id : 168000202 Display Question Number : Yes Single Line Question Option : No Option Orientation : Vertical

Arya Samaj was founded in:

Options :

1. ✘ 1870
2. ✔ 1875
3. ✘ 1880
4. ✘ 1885

Question Number : 2 Question Id : 168000202 Display Question Number : Yes Single Line Question Option : No Option Orientation : Vertical

आर्य समाज किस वर्ष में स्थापित किया गया था?

Options :

1. ✘ 1870
2. ✔ 1875
3. ✘ 1880
4. ✘ 1885

Question Number : 3 Question Id : 168000203 Display Question Number : Yes Single Line Question Option : No Option Orientation : Vertical

Lala Lajpat Rai started his career as a lawyer from:

Options :

1. ✘ Amritsar

2. ✓ Hisar
3. ✗ Lahore
4. ✗ Rohtak

Question Number : 3 Question Id : 168000203 Display Question Number : Yes Single Line Question Option : No Option Orientation : Vertical

लाला लाजपत राय ने एक वकील के रूप में अपना करियर कहां से शुरू किया था?

Options :

1. ✗ अमृतसर
2. ✓ हिसार
3. ✗ लाहौर
4. ✗ रोहतक

Question Number : 4 Question Id : 168000204 Display Question Number : Yes Single Line Question Option : No Option Orientation : Vertical

Who was the founder of the Gurukul Kangri?

Options :

1. ✗ Lala Lajpat Rai
2. ✗ Lala Munshi Ram
3. ✗ Swami Dayanand Saraswati
4. ✓ Swami Shradhanandaji

Question Number : 4 Question Id : 168000204 Display Question Number : Yes Single Line Question Option : No Option Orientation : Vertical

गुरुकुल कांगड़ी के संस्थापक कौन थे?

Options :

1. ✗ लाला लाजपत राय
2. ✗ लाला मुंशी राम

3. ✘ स्वामी दयानंद सरस्वती

4. ✔ स्वामी श्रद्धानंदजी

Question Number : 5 Question Id : 168000205 Display Question Number : Yes Single Line Question Option : No Option Orientation : Vertical

Who is the current Governor of Haryana?

Options :

1. ✔ Kaptan Singh Solanki

2. ✘ Banwari Lal Purohit

3. ✘ Mridula Sinha

4. ✘ Om Prakash Kohli

Question Number : 5 Question Id : 168000205 Display Question Number : Yes Single Line Question Option : No Option Orientation : Vertical

हरियाणा के वर्तमान गवर्नर कौन हैं?

Options :

1. ✔ कप्तान सिंह सोलंकी

2. ✘ बनवारी लाल पुरोहित

3. ✘ मृदुला सिन्हा

4. ✘ ओम प्रकाश कोहली

Question Number : 6 Question Id : 168000206 Display Question Number : Yes Single Line Question Option : No Option Orientation : Vertical

In the Financial year 2016-17, the Gross State Domestic Product (GSDP) for Haryana was growing at _____.

Options :

1. ✘ 1.1%

2. ✔ 8.7%

3. ✘ 11.3%

4. ✘ 3.8%

Question Number : 6 Question Id : 168000206 Display Question Number : Yes Single Line Question Option : No Option Orientation : Vertical

वित्तीय वर्ष 2016-17 में, हरियाणा के सकल राज्य घरेलू उत्पाद (जीएसडीपी) में कितनी वृद्धि हुई थी?

Options :

1. ✘ 1.1%
2. ✔ 8.7%
3. ✘ 11.3%
4. ✘ 3.8%

Question Number : 7 Question Id : 168000207 Display Question Number : Yes Single Line Question Option : No Option Orientation : Vertical

The Focus Nation for the 31st Surajkund International Crafts Mela was:

Options :

1. ✘ Japan
2. ✘ Singapore
3. ✘ Bangladesh
4. ✔ Egypt

Question Number : 7 Question Id : 168000207 Display Question Number : Yes Single Line Question Option : No Option Orientation : Vertical

31 वीं सूरजकुंड अंतर्राष्ट्रीय शिल्प मेले के लिए केंद्र-बिंदु राष्ट्र था:

Options :

1. ✘ जापान
2. ✘ सिंगापुर
3. ✘ बांग्लादेश
4. ✔ मिस्र

Question Number : 8 Question Id : 168000208 Display Question Number : Yes Single Line Question Option : No Option Orientation : Vertical

The Haryana Government recently started the campaign _____ for women's safety.

Options :

1. ✘ Operation Lakshmi
2. ✔ Operation Durga
3. ✘ Operation Shakti
4. ✘ Operation Kali

Question Number : 8 Question Id : 168000208 Display Question Number : Yes Single Line Question Option : No Option Orientation : Vertical

हाल ही में हरियाणा सरकार ने महिलाओं की सुरक्षा के लिए _____ अभियान शुरू किया है।

Options :

1. ✘ ऑपरेशन लक्ष्मी
2. ✔ ऑपरेशन दुर्गा
3. ✘ ऑपरेशन शक्ति
4. ✘ ऑपरेशन काली

Question Number : 9 Question Id : 168000209 Display Question Number : Yes Single Line Question Option : No Option Orientation : Vertical

Who among the following is the author of the book 'Mausom'?

Options :

1. ✘ Gopal Dass Ambalvi
2. ✘ Amar Nath Wadhera
3. ✔ Ayab Khan
4. ✘ Himmat Singh

Question Number : 9 Question Id : 168000209 Display Question Number : Yes Single Line Question Option : No Option Orientation : Vertical

निम्नलिखित में से 'मौसम' नामक पुस्तक के लेखक कौन हैं?

Options :

1. ✘ गोपाल दास अंबालवी

2. ✘ अमर नाथ वढेरा
3. ✔ अयब खान
4. ✘ हिम्मत सिंह

Question Number : 10 Question Id : 168000210 Display Question Number : Yes Single Line Question Option : No Option Orientation : Vertical

Who among the following is the author of 'Shikargah'?

Options :

1. ✘ Liladhar Dukhi
2. ✔ Kamala Chamola
3. ✘ Ramakant Dikshit
4. ✘ Jaynath Nalin

Question Number : 10 Question Id : 168000210 Display Question Number : Yes Single Line Question Option : No Option Orientation : Vertical

निम्नलिखित में से 'शिकारगाह' के लेखक कौन हैं?

Options :

1. ✘ लीलाधर दुखी
2. ✔ कमला चमोला
3. ✘ रमाकांत दीक्षित
4. ✘ जयनाथ नलिन

Question Number : 11 Question Id : 168000211 Display Question Number : Yes Single Line Question Option : No Option Orientation : Vertical

Who among the following is the author of 'Vishgatha'?

Options :

1. ✔ Amrit Lal Madan
2. ✘ K. P. Singh
3. ✘ Sumer Chand

4. ✘ Anita

Question Number : 11 Question Id : 168000211 Display Question Number : Yes Single Line Question Option : No Option Orientation : Vertical

निम्नलिखित में से 'विषगाथा' के लेखक कौन हैं?

Options :

1. ✔ अमृत लाल मदान

2. ✘ के. पी. सिंह

3. ✘ सुमेर चंद

4. ✘ अनीता

Question Number : 12 Question Id : 168000212 Display Question Number : Yes Single Line Question Option : No Option Orientation : Vertical

Haryana is divided into how many divisions?

Options :

1. ✘ Four

2. ✔ Six

3. ✘ Seven

4. ✘ Eight

Question Number : 12 Question Id : 168000212 Display Question Number : Yes Single Line Question Option : No Option Orientation : Vertical

हरियाणा को कितने भागों में विभाजित किया गया है?

Options :

1. ✘ चार

2. ✔ छह

3. ✘ सात

4. ✘ आठ

Question Number : 13 Question Id : 168000213 Display Question Number : Yes Single Line Question Option : No Option Orientation : Vertical

Which of the following national parks is situated in Haryana?

Options :

1. ✘ Manas National Park
2. ✔ Kalesar National Park
3. ✘ Ranthambore National Park
4. ✘ Madhav National Park

Question Number : 13 Question Id : 168000213 Display Question Number : Yes Single Line Question Option : No Option Orientation : Vertical

निम्नलिखित राष्ट्रीय उद्यानों में से कौन सा हरियाणा में स्थित है?

Options :

1. ✘ मानस राष्ट्रीय उद्यान
2. ✔ कलेसर राष्ट्रीय उद्यान
3. ✘ रणथंभौर राष्ट्रीय उद्यान
4. ✘ माधव राष्ट्रीय उद्यान

Question Number : 14 Question Id : 168000214 Display Question Number : Yes Single Line Question Option : No Option Orientation : Vertical

Which river of Haryana disappears after entering Rajasthan?

Options :

1. ✘ Saraswati River
2. ✘ Yamuna River
3. ✔ Ghaggar River
4. ✘ Markanda River

Question Number : 14 Question Id : 168000214 Display Question Number : Yes Single Line Question Option : No Option Orientation : Vertical

हरियाणा की कौन सी नदी राजस्थान में प्रवेश करने के बाद गायब हो जाती है?

Options :

1. ✘ सरस्वती नदी
2. ✘ यमुना नदी
3. ✔ घग्गर नदी
4. ✘ मार्कंडा नदी

Question Number : 15 Question Id : 168000215 Display Question Number : Yes Single Line Question Option : No Option Orientation : Vertical

For how many Rajya Sabha seats were the recent elections held in Haryana in the year 2016?

Options :

1. ✘ One
2. ✔ Two
3. ✘ Three
4. ✘ Four

Question Number : 15 Question Id : 168000215 Display Question Number : Yes Single Line Question Option : No Option Orientation : Vertical

हरियाणा में वर्ष 2016 में राज्यसभा की कितनी सीटों के लिए चुनाव हुए थे?

Options :

1. ✘ एक
2. ✔ दो
3. ✘ तीन
4. ✘ चार

Question Number : 16 Question Id : 168000216 Display Question Number : Yes Single Line Question Option : No Option Orientation : Vertical

The Haryana Government provides free education to women up to:

Options :

1. ✘ Post-graduation level
2. ✔ Graduation level

3. ✘ Intermediate level

4. ✘ Matriculation level

Question Number : 16 Question Id : 168000216 Display Question Number : Yes Single Line Question Option : No Option Orientation : Vertical

हरियाणा सरकार महिलाओं को किस स्तर तक मुफ्त शिक्षा प्रदान करती है?

Options :

1. ✘ स्नातकोत्तर स्तर

2. ✔ स्नातक स्तर

3. ✘ माध्यमिक स्तर

4. ✘ मैट्रिक स्तर

Question Number : 17 Question Id : 168000217 Display Question Number : Yes Single Line Question Option : No Option Orientation : Vertical

Who is the Finance Minister of Haryana?

Options :

1. ✘ Krishan Lal Panwar

2. ✘ Narbir Singh

3. ✔ Captain Abhimanyu

4. ✘ Anil Vij

Question Number : 17 Question Id : 168000217 Display Question Number : Yes Single Line Question Option : No Option Orientation : Vertical

हरियाणा के वित्त मंत्री कौन हैं?

Options :

1. ✘ कृष्णलाल पंवार

2. ✘ नरबीर सिंह

3. ✔ कैप्टन अभिमन्यु

4. ✘ अनिल विज

Question Number : 18 Question Id : 168000218 Display Question Number : Yes Single Line Question Option : No Option Orientation : Vertical

Under the Haryana Panchayati Raj Act, a three-tier system of Panchayati Raj has been established, with a Panchayat Samiti at the _____ level.

Options :

1. ✘ village
2. ✔ block
3. ✘ sub-division
4. ✘ district

Question Number : 18 Question Id : 168000218 Display Question Number : Yes Single Line Question Option : No Option Orientation : Vertical

हरियाणा पंचायती राज अधिनियम के अंतर्गत, पंचायती राज की एक तीन स्तरीय प्रणाली स्थापित की गई है, जिसमें _____ स्तर पर एक पंचायत समिति है।

Options :

1. ✘ ग्राम
2. ✔ ब्लॉक
3. ✘ उपखंड
4. ✘ जिला

Question Number : 19 Question Id : 168000219 Display Question Number : Yes Single Line Question Option : No Option Orientation : Vertical

The river Yamuna is on the _____ border of the State of Haryana.

Options :

1. ✔ eastern
2. ✘ northern
3. ✘ southern
4. ✘ western

Question Number : 19 Question Id : 168000219 Display Question Number : Yes Single Line Question Option : No Option Orientation : Vertical

यमुना नदी हरियाणा की _____ सीमा पर है।

Options :

1. ✓ पूर्वी
2. ✗ उत्तरी
3. ✗ दक्षिणी
4. ✗ पश्चिमी

Question Number : 20 Question Id : 168000220 Display Question Number : Yes Single Line Question Option : No Option Orientation : Vertical

Match the following days and the associated programme:

Day	Programme
L - 22 April	P - International Ozone Day
M - 5 June	Q - Earth Day
N - 16 September	R - National Pollution Control Day
O - 2 December	S - World Environment Day

Options :

1. ✓ N-P, M-S, L-Q, O-R
2. ✗ M-P, L-S, O-Q, N-R
3. ✗ M-Q, L-P, N-R, O-S
4. ✗ O-P, M-S, L-R, N-Q

Question Number : 20 Question Id : 168000220 Display Question Number : Yes Single Line Question Option : No Option Orientation : Vertical

निम्नलिखित दिन और उससे संबंधित प्रोग्राम का मिलान करें:

दिन	प्रोग्राम
L - 22 अप्रैल	P - अंतर्राष्ट्रीय ओजोन दिवस
M - 5 जून	Q - पृथ्वी दिवस
N - 16 सितंबर	R - राष्ट्रीय प्रदूषण नियंत्रण दिवस
O - 2 दिसंबर	S - विश्व पर्यावरण दिवस

Options :

1. ✓ N-P, M-S, L-Q, O-R
2. ✗ M-P, L-S, O-Q, N-R
3. ✗ M-Q, L-P, N-R, O-S
4. ✗ O-P, M-S, L-R, N-Q

Question Number : 21 Question Id : 168000221 Display Question Number : Yes Single Line Question Option : No Option Orientation : Vertical

In the first week of September 2017, _____ launched a solid waste management programme, 'Alag Karo, Har Din Teen Bin', in Gurugram to promote segregation of waste at source and develop capacities for effective trash collection and recycling.

Options :

1. ✓ Sourav Ganguly
2. ✗ Amitabh Bachchan
3. ✗ Virender Sehwag
4. ✗ Vipul Goel

Question Number : 21 Question Id : 168000221 Display Question Number : Yes Single Line Question Option : No Option Orientation : Vertical

सितंबर 2017 के पहले सप्ताह में, _____ ने गुरुग्राम में स्रोत पर कचरे के पृथक्करण को बढ़ावा देने और प्रभावी कचरा संग्रह तथा पुनर्चक्रण (रीसाइक्लिंग) की क्षमताएं विकसित करने के लिए एक ठोस अपशिष्ट प्रबंधन कार्यक्रम, 'अलग करो, हर दिन तीन बिन' का शुभारंभ किया।

Options :

1. ✓ सौरभ गांगुली

2. ✘ अमिताभ बच्चन

3. ✘ वीरेंद्र सहवाग

4. ✘ विपुल गोयल

Question Number : 22 Question Id : 168000222 Display Question Number : Yes Single Line Question Option : No Option Orientation : Vertical

The largest community group in Haryana is the:

Options :

1. ✔ Jats

2. ✘ Ahirs

3. ✘ Meos

4. ✘ Gujjars

Question Number : 22 Question Id : 168000222 Display Question Number : Yes Single Line Question Option : No Option Orientation : Vertical

हरियाणा में सबसे बड़ा सामुदायिक समूह कौन सा है?

Options :

1. ✔ जाट

2. ✘ अहीर

3. ✘ मेव

4. ✘ गुज्जर

Question Number : 23 Question Id : 168000223 Display Question Number : Yes Single Line Question Option : No Option Orientation : Vertical

The Ras Leela is a dance form dedicated to:

Options :

1. ✔ Lord Krishna

2. ✘ Goddess Durga

3. ✘ Goddess Saraswati

4. ✘ Lord Shiva

Question Number : 23 Question Id : 168000223 Display Question Number : Yes Single Line Question Option : No Option Orientation : Vertical

नृत्यशैली रास लीला, किसको समर्पित है?

Options :

1. ✔ भगवान कृष्ण
2. ✘ देवी दुर्गा
3. ✘ देवी सरस्वती
4. ✘ भगवान शिव

Question Number : 24 Question Id : 168000224 Display Question Number : Yes Single Line Question Option : No Option Orientation : Vertical

In Haryana, the Saang dance form was started in its present form by:

Options :

1. ✔ Kishan Lal Bhatt
2. ✘ Baje Bhagat
3. ✘ Gajendra Verma
4. ✘ Jagat Jakhar

Question Number : 24 Question Id : 168000224 Display Question Number : Yes Single Line Question Option : No Option Orientation : Vertical

हरियाणा में, सांग नृत्य शैली इसके वर्तमान स्वरूप में _____ के द्वारा शुरू की गई थी।

Options :

1. ✔ किशनलाल भट्ट
2. ✘ बाजे भगत
3. ✘ गर्जेद्र वर्मा
4. ✘ जगत जाखड़

Question Number : 25 Question Id : 168000225 Display Question Number : Yes Single Line Question Option : No Option Orientation : Vertical

In Haryana, the Chhati dance form is performed by the women on:

Options :

1. ✓ the sixth day of a child's birth
2. ✗ the second day of a child's birth
3. ✗ the first day of a child's birth
4. ✗ the seventh day of a child's birth

Question Number : 25 Question Id : 168000225 Display Question Number : Yes Single Line Question Option : No Option Orientation : Vertical

हरियाणा में, छठी नृत्य महिलाओं द्वारा कब किया जाता है?

Options :

1. ✓ एक बच्चे के जन्म के छठे दिन
2. ✗ एक बच्चे के जन्म के दूसरे दिन
3. ✗ एक बच्चे के जन्म के पहले दिन
4. ✗ एक बच्चे के जन्म के सातवें दिन

Question Number : 26 Question Id : 168000226 Display Question Number : Yes Single Line Question Option : No Option Orientation : Vertical

The stroke _____ is written in words where a triphone immediately follows 's'.

Options :

1. ✗ Sh
2. ✗ R
3. ✗ W
4. ✓ S

Question Number : 26 Question Id : 168000226 Display Question Number : Yes Single Line Question Option : No Option Orientation : Vertical

The stroke _____ is written in words where a triphone immediately follows 's'.

Options :

1. ✘ Sh
2. ✘ R
3. ✘ W
4. ✔ S

Question Number : 27 Question Id : 168000227 Display Question Number : Yes Single Line Question Option : No Option Orientation : Vertical

A straight stroke is doubled for 'tr', 'dr' or 'thr' when it has a finally joined _____.

Options :

1. ✘ Vowel
2. ✘ Diphone
3. ✘ Triphone
4. ✔ Diphthong

Question Number : 27 Question Id : 168000227 Display Question Number : Yes Single Line Question Option : No Option Orientation : Vertical

A straight stroke is doubled for 'tr', 'dr' or 'thr' when it has a finally joined _____.

Options :

1. ✘ Vowel
2. ✘ Diphone
3. ✘ Triphone
4. ✔ Diphthong

Question Number : 28 Question Id : 168000228 Display Question Number : Yes Single Line Question Option : No Option Orientation : Vertical

Any vowel, other than short _____ between the two s's, is indicated by writing the vowel sign _____ the circle.

Options :

1. ✔ e / inside

2. ✘ i / outside

3. ✘ u / outside

4. ✘ oo / inside

Question Number : 28 Question Id : 168000228 Display Question Number : Yes Single Line Question Option : No Option Orientation : Vertical

Any vowel, other than short _____ between the two s's, is indicated by writing the vowel sign _____ the circle.

Options :

1. ✔ e / inside

2. ✘ i / outside

3. ✘ u / outside

4. ✘ oo / inside

Question Number : 29 Question Id : 168000229 Display Question Number : Yes Single Line Question Option : No Option Orientation : Vertical

The diphthong _____ is written in the 3rd vowel place.

Options :

1. ✘ I

2. ✘ U

3. ✘ Oi

4. ✔ Ow

Question Number : 29 Question Id : 168000229 Display Question Number : Yes Single Line Question Option : No Option Orientation : Vertical

The diphthong _____ is written in the 3rd vowel place.

Options :

1. ✘ I

2. ✘ U

3. ✘ Oi

4. ✔ Ow

Question Number : 30 Question Id : 168000230 Display Question Number : Yes Single Line Question Option : No Option Orientation : Vertical

To add n, a small _____ hook written on the inside of curves.

Options :

1. ✘ Beginning
2. ✘ Middle
3. ✘ End
4. ✔ Final

Question Number : 30 Question Id : 168000230 Display Question Number : Yes Single Line Question Option : No Option Orientation : Vertical

To add n, a small _____ hook written on the inside of curves.

Options :

1. ✘ Beginning
2. ✘ Middle
3. ✘ End
4. ✔ Final

Question Number : 31 Question Id : 168000231 Display Question Number : Yes Single Line Question Option : No Option Orientation : Vertical

In a phrase, the words _____ and _____ are represented by f and v hook.

Options :

1. ✘ 'been' ; 'than'
2. ✘ 'not' ; 'on'
3. ✘ 'in' ; 'on'
4. ✔ 'of' ; 'have'

Question Number : 31 Question Id : 168000231 Display Question Number : Yes Single Line Question Option : No Option Orientation : Vertical

In a phrase, the words _____ and _____ are represented by f and v hook.

Options :

1. ✘ 'been' ; 'than'
2. ✘ 'not' ; 'on'
3. ✘ 'in' ; 'on'
4. ✔ 'of' ; 'have'

Question Number : 32 Question Id : 168000232 Display Question Number : Yes Single Line Question Option : No Option Orientation : Vertical

Curved down strokes are _____.

Options :

1. ✔ F, V series
2. ✘ P, B series
3. ✘ K, G series
4. ✘ R series

Question Number : 32 Question Id : 168000232 Display Question Number : Yes Single Line Question Option : No Option Orientation : Vertical

Curved down strokes are _____.

Options :

1. ✔ F, V series
2. ✘ P, B series
3. ✘ K, G series
4. ✘ R series

Question Number : 33 Question Id : 168000233 Display Question Number : Yes Single Line Question Option : No Option Orientation : Vertical

The diphthong "oi" is written in the _____ vowel place.

Options :

1. ✔ Second
2. ✘ First

3. ✘ Third

4. ✘ Fourth

Question Number : 33 Question Id : 168000233 Display Question Number : Yes Single Line Question Option : No Option Orientation : Vertical

The diphthong "oi" is written in the _____ vowel place.

Options :

1. ✔ Second

2. ✘ First

3. ✘ Third

4. ✘ Fourth

Question Number : 34 Question Id : 168000234 Display Question Number : Yes Single Line Question Option : No Option Orientation : Vertical

The diphthong _____ is written in the first place.

Options :

1. ✘ Ow

2. ✘ U

3. ✔ I

4. ✘ Oi

Question Number : 34 Question Id : 168000234 Display Question Number : Yes Single Line Question Option : No Option Orientation : Vertical

The diphthong _____ is written in the first place.

Options :

1. ✘ Ow

2. ✘ U

3. ✔ I

4. ✘ Oi

Question Number : 35 Question Id : 168000235 Display Question Number : Yes Single Line Question Option : No Option Orientation : Vertical

The short form 'd' written through the line represents _____.

Options :

1. ✘ Do
2. ✔ Difference
3. ✘ Had
4. ✘ Dollar

Question Number : 35 Question Id : 168000235 Display Question Number : Yes Single Line Question Option : No Option Orientation : Vertical

The short form 'd' written through the line represents _____.

Options :

1. ✘ Do
2. ✔ Difference
3. ✘ Had
4. ✘ Dollar

Question Number : 36 Question Id : 168000236 Display Question Number : Yes Single Line Question Option : No Option Orientation : Vertical

Stroke "ch" is an intersection for _____.

Options :

1. ✘ change
2. ✘ cheque
3. ✘ check
4. ✔ charge

Question Number : 36 Question Id : 168000236 Display Question Number : Yes Single Line Question Option : No Option Orientation : Vertical

Stroke "ch" is an intersection for _____.

Options :

1. ✘ change

2. ✘ cheque

3. ✘ check

4. ✔ charge

Question Number : 37 Question Id : 168000237 Display Question Number : Yes Single Line Question Option : No Option Orientation : Vertical

'Ler' is used only where the downward _____ is used.

Options :

1. ✔ L

2. ✘ R

3. ✘ H

4. ✘ F

Question Number : 37 Question Id : 168000237 Display Question Number : Yes Single Line Question Option : No Option Orientation : Vertical

'Ler' is used only where the downward _____ is used.

Options :

1. ✔ L

2. ✘ R

3. ✘ H

4. ✘ F

Question Number : 38 Question Id : 168000238 Display Question Number : Yes Single Line Question Option : No Option Orientation : Vertical

'ly' is represented by the stroke _____.

Options :

1. ✘ pl

2. ✘ chl

3. ✔ l

4. ✘ bl

Question Number : 38 Question Id : 168000238 Display Question Number : Yes Single Line Question Option : No Option Orientation : Vertical

'ly' is represented by the stroke _____.

Options :

1. ✘ pl
2. ✘ chl
3. ✔ l
4. ✘ bl

Question Number : 39 Question Id : 168000239 Display Question Number : Yes Single Line Question Option : No Option Orientation : Vertical

'ings' is represented by a light _____.

Options :

1. ✘ dot
2. ✔ dash
3. ✘ diphthong
4. ✘ triphone

Question Number : 39 Question Id : 168000239 Display Question Number : Yes Single Line Question Option : No Option Orientation : Vertical

'ings' is represented by a light _____.

Options :

1. ✘ dot
2. ✔ dash
3. ✘ diphthong
4. ✘ triphone

Question Number : 40 Question Id : 168000240 Display Question Number : Yes Single Line Question Option : No Option Orientation : Vertical

'Vr' above the line represents the short form _____.

Options :

1. ✘ ever

2. ✔ over

3. ✘ every

4. ✘ very

Question Number : 40 Question Id : 168000240 Display Question Number : Yes Single Line Question Option : No Option Orientation : Vertical

'Vr' above the line represents the short form _____.

Options :

1. ✘ ever


2. ✔ over

3. ✘ every

4. ✘ very

Question Number : 41 Question Id : 168000241 Display Question Number : Yes Single Line Question Option : No Option Orientation : Vertical

Select the right word from the options given below to fill in the blank.



A 

B 

C 

D 

Options :

1. ✘ A

2. ✘ B

3. ✓ C

4. ✗ D

Question Number : 41 Question Id : 168000241 Display Question Number : Yes Single Line Question Option : No Option Orientation : Vertical

Select the right word from the options given below to fill in the blank.

A

B

C

D

Options :

1. ✗ A


2. ✗ B





3. ✓ C

4. ✗ D

Question Number : 42 Question Id : 168000242 Display Question Number : Yes Single Line Question Option : No Option Orientation : Vertical

Select the right word from the options given below to fill in the blank.




- A 
- B 
- C 
- D 





Options :

- 1. ✘ A
- 2. ✘ B
- 3. ✔ C
- 4. ✘ D

Question Number : 42 Question Id : 168000242 Display Question Number : Yes Single Line Question Option : No Option Orientation : Vertical

Select the right word from the options given below to fill in the blank.



- A 
- B 
- C 
- D 

Options :

1. ✘ A

2. ✘ B

3. ✔ C

4. ✘ D

Question Number : 43 Question Id : 168000243 Display Question Number : Yes Single Line Question Option : No Option Orientation : Vertical

Select the right word from the options given below to fill in the blank.

A 

B 

C 

D 

Options :

1. ✘ A


2. ✔ B





3. ✘ C

4. ✘ D

Question Number : 43 Question Id : 168000243 Display Question Number : Yes Single Line Question Option : No Option Orientation : Vertical

Select the right word from the options given below to fill in the blank.



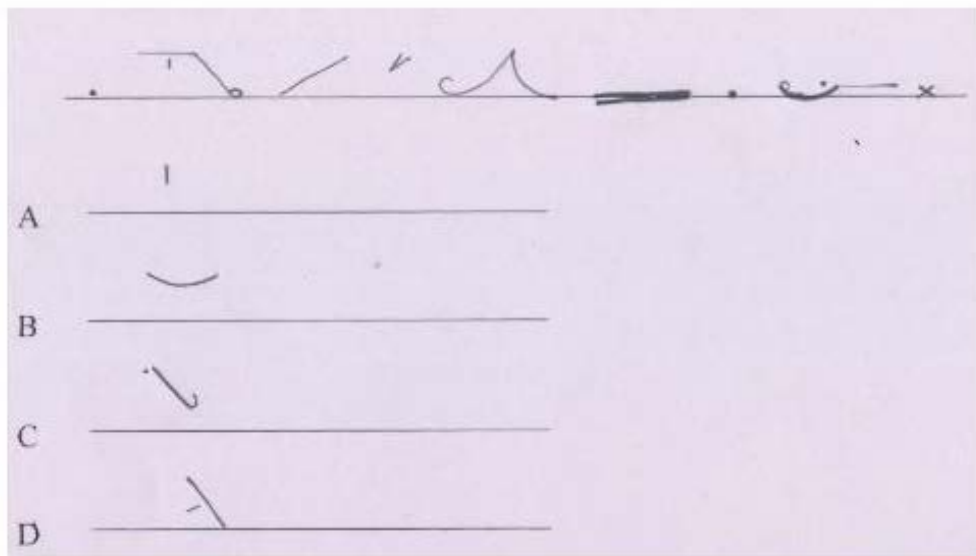
- A 
- B 
- C 
- D 





Options :

- 1. ✘ A
- 2. ✔ B
- 3. ✘ C
- 4. ✘ D

Question Number : 44 Question Id : 168000244 Display Question Number : Yes Single Line Question Option : No Option Orientation : Vertical

Select the right word from the options given below to fill in the blank.



- A 
- B 
- C 
- D 

Options :

- 1. ✘ A

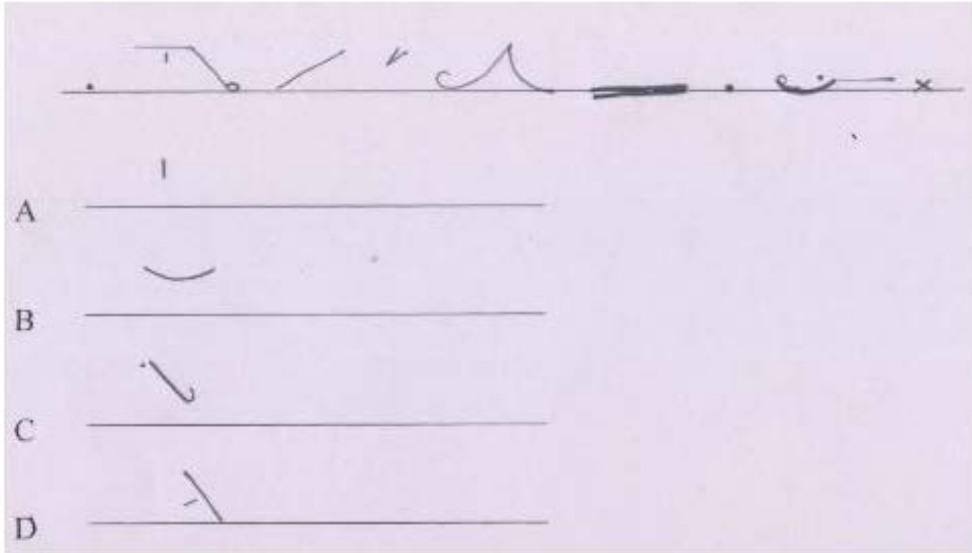
2. ✘ B

3. ✔ C

4. ✘ D

Question Number : 44 Question Id : 168000244 Display Question Number : Yes Single Line Question Option : No Option Orientation : Vertical

Select the right word from the options given below to fill in the blank.



Options :

1. ✘ A

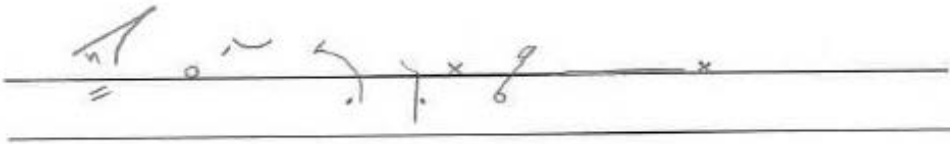
2. ✘ B

3. ✔ C

4. ✘ D

Question Number : 45 Question Id : 168000245 Display Question Number : Yes Single Line Question Option : No Option Orientation : Vertical

Select the right word from the options given below to fill in the blank.



A 

B 

C 

D 

Options :

1. ✘ A

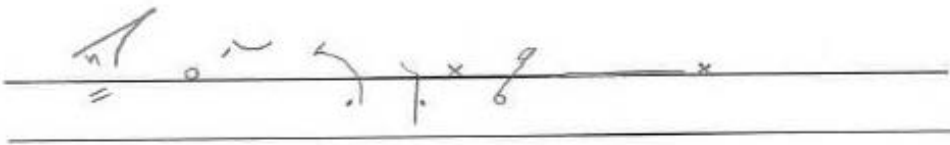
2. ✔ B

3. ✘ C

4. ✘ D

Question Number : 45 Question Id : 168000245 Display Question Number : Yes Single Line Question Option : No Option Orientation : Vertical

Select the right word from the options given below to fill in the blank.



A 

B 

C 

D 

Options :

1. ✘ A

2. ✔ B

3. ✘ C

4. ✘ D

Question Number : 46 Question Id : 168000246 Display Question Number : Yes Single Line Question Option : No Option Orientation : Vertical

Find the most appropriate one word substitute for the following.

A person who undergoes training in any trade or occupation.

Options :

1. ✘ a candidate

2. ✘ a fellow

3. ✔ an apprentice

4. ✘ an examinee

Question Number : 46 Question Id : 168000246 Display Question Number : Yes Single Line Question Option : No Option Orientation : Vertical

Find the most appropriate one word substitute for the following.

A person who undergoes training in any trade or occupation.

Options :

1. ✘ a candidate

2. ✘ a fellow

3. ✔ an apprentice

4. ✘ an examinee

Question Number : 47 Question Id : 168000247 Display Question Number : Yes Single Line Question Option : No Option Orientation : Vertical

Find the most appropriate one word substitute for the following.

A study of the body structure of humans, animals and other living organisms.

Options :

1. ✘ physiology
2. ✔ anatomy
3. ✘ biology
4. ✘ cardiology

Question Number : 47 Question Id : 168000247 Display Question Number : Yes Single Line Question Option : No Option Orientation : Vertical

Find the most appropriate one word substitute for the following.

A study of the body structure of humans, animals and other living organisms.

Options :

1. ✘ physiology
2. ✔ anatomy
3. ✘ biology
4. ✘ cardiology

Question Number : 48 Question Id : 168000248 Display Question Number : Yes Single Line Question Option : No Option Orientation : Vertical

Find the most appropriate one word substitute for the following.

The power of reading the thoughts of others.

Options :

1. ✘ psychopathy
2. ✘ apathy
3. ✘ empathy
4. ✔ telepathy

Question Number : 48 Question Id : 168000248 Display Question Number : Yes Single Line Question Option : No Option Orientation : Vertical

Find the most appropriate one word substitute for the following.

The power of reading the thoughts of others.

Options :

1. ✘ psychopathy
2. ✘ apathy
3. ✘ empathy
4. ✔ telepathy

Question Number : 49 Question Id : 168000249 Display Question Number : Yes Single Line Question Option : No Option Orientation : Vertical

Choose the option corresponding to the underlined words that can be used to fill in the blank in the given sentence.

These are their books. They are _____.

Options :

1. ✘ their
2. ✘ of them
3. ✘ of theirs
4. ✔ theirs

Question Number : 49 Question Id : 168000249 Display Question Number : Yes Single Line Question Option : No Option Orientation : Vertical

Choose the option corresponding to the underlined words that can be used to fill in the blank in the given sentence.

These are their books. They are _____.

Options :

1. ✘ their
2. ✘ of them
3. ✘ of theirs
4. ✔ theirs

Question Number : 50 Question Id : 168000250 Display Question Number : Yes Single Line Question Option : No Option Orientation : Vertical

Choose the option corresponding to the underlined words that can be used to fill in the blank in the given sentence.

He told Sameer and me that he was leaving for Paris. He told _____ he was leaving for Paris.

Options :

1. ✘ them
2. ✘ they
3. ✔ us
4. ✘ we

Question Number : 50 Question Id : 168000250 Display Question Number : Yes Single Line Question Option : No Option Orientation : Vertical

Choose the option corresponding to the underlined words that can be used to fill in the blank in the given sentence.

He told Sameer and me that he was leaving for Paris. He told _____ he was leaving for Paris.

Options :

1. ✘ them
2. ✘ they
3. ✔ us
4. ✘ we

Question Number : 51 Question Id : 168000251 Display Question Number : Yes Single Line Question Option : No Option Orientation : Vertical

Choose the option that can be used in place of the underlined words in the given sentence.

Let us take one of the new methods and consider the method's effect on rural life.

Options :

1. ✔ its
2. ✘ one's
3. ✘ his
4. ✘ it's

Question Number : 51 Question Id : 168000251 Display Question Number : Yes Single Line Question Option : No Option Orientation : Vertical

Choose the option that can be used in place of the underlined words in the given sentence.

Let us take one of the new methods and consider the method's effect on rural life.

Options :

1. its
2. one's
3. his
4. it's

Question Number : 52 Question Id : 168000252 Display Question Number : Yes Single Line Question Option : No Option Orientation : Vertical

Find the most appropriate option to fill in the blank.

Kavya is _____ officer in this batch.

Options :

1. younger
2. youngest
3. the young
4. the youngest

Question Number : 52 Question Id : 168000252 Display Question Number : Yes Single Line Question Option : No Option Orientation : Vertical

Find the most appropriate option to fill in the blank.

Kavya is _____ officer in this batch.

Options :

1. younger
2. youngest
3. the young
4. the youngest

Question Number : 53 Question Id : 168000253 Display Question Number : Yes Single Line Question Option : No Option Orientation : Vertical

Find the most appropriate option to fill in the blank.

He is one of _____ doctors in this town.

Options :

1. ✘ the two ranked popular top
2. ✘ the popular two top-ranking
3. ✔ the two popular top-ranking
4. ✘ the popular top-ranking two

Question Number : 53 Question Id : 168000253 Display Question Number : Yes Single Line Question Option : No Option Orientation : Vertical

Find the most appropriate option to fill in the blank.

He is one of _____ doctors in this town.

Options :

1. ✘ the two ranked popular top
2. ✘ the popular two top-ranking
3. ✔ the two popular top-ranking
4. ✘ the popular top-ranking two

Question Number : 54 Question Id : 168000254 Display Question Number : Yes Single Line Question Option : No Option Orientation : Vertical

Find the most appropriate option to fill in the blank.

Don't worry. I will take the _____ bus and reach on time for the lecture.

Options :

1. ✘ early morning first
2. ✔ first early morning
3. ✘ first morning early

4. ✘ early first morning

Question Number : 54 Question Id : 168000254 Display Question Number : Yes Single Line Question Option : No Option Orientation : Vertical

Find the most appropriate option to fill in the blank.

Don't worry. I will take the _____ bus and reach on time for the lecture.

Options :

1. ✘ early morning first

2. ✔ first early morning

3. ✘ first morning early

4. ✘ early first morning

Question Number : 55 Question Id : 168000255 Display Question Number : Yes Single Line Question Option : No Option Orientation : Vertical

Choose the option that best expresses the meaning of the underlined idiom in the given sentence.

We talked over the matter for an hour but without any results.

Options :

1. ✘ Surveyed

2. ✘ Assessed

3. ✘ fought about

4. ✔ Discussed

Question Number : 55 Question Id : 168000255 Display Question Number : Yes Single Line Question Option : No Option Orientation : Vertical

Choose the option that best expresses the meaning of the underlined idiom in the given sentence.

We talked over the matter for an hour but without any results.

Options :

1. ✘ Surveyed

2. ✘ Assessed

3. ✘ fought about

4. ✔ Discussed

Question Number : 56 Question Id : 168000256 Display Question Number : Yes Single Line Question Option : No Option Orientation : Vertical

निम्नलिखित शब्दों में से कौन-सा शब्द तत्सम है?

Options :

1. ✘ नारियल

2. ✔ मिष्ठान्न

3. ✘ कपड़ा

4. ✘ पोता

Question Number : 56 Question Id : 168000256 Display Question Number : Yes Single Line Question Option : No Option Orientation : Vertical

निम्नलिखित शब्दों में से कौन-सा शब्द तत्सम है?

Options :

1. ✘ नारियल

2. ✔ मिष्ठान्न

3. ✘ कपड़ा

4. ✘ पोता

Question Number : 57 Question Id : 168000257 Display Question Number : Yes Single Line Question Option : No Option Orientation : Vertical

निम्नलिखित शब्दों में से तद्भव शब्द को पहचानिए।

Options :

1. ✘ राक्षस

2. ✔ माथा

3. ✘ नासिका

4. ✘ आश्चर्य

Question Number : 57 Question Id : 168000257 Display Question Number : Yes Single Line Question Option : No Option Orientation : Vertical

निम्नलिखित शब्दों में से तद्रव शब्द को पहचानिए।

Options :

1. ✘ राक्षस

2. ✔ माथा

3. ✘ नासिका

4. ✘ आश्चर्य

Question Number : 58 Question Id : 168000258 Display Question Number : Yes Single Line Question Option : No Option Orientation : Vertical

'जो सब में व्याप्त हैं' के लिए एक शब्द होगा:

Options :

1. ✔ सर्वव्यापी

2. ✘ आपसी

3. ✘ प्रपंचित

4. ✘ प्रवाहित

Question Number : 58 Question Id : 168000258 Display Question Number : Yes Single Line Question Option : No Option Orientation : Vertical

'जो सब में व्याप्त हैं' के लिए एक शब्द होगा:

Options :

1. ✔ सर्वव्यापी

2. ✘ आपसी

3. ✘ प्रपंचित

4. ✘ प्रवाहित

Question Number : 59 Question Id : 168000259 Display Question Number : Yes Single Line Question Option : No Option Orientation : Vertical

मां सरस्वती विद्या की देवी हैं। रेखांकित शब्द का पर्यायवाची होगा:

Options :

1. ✔ वीणापाणि

2. ✘ दुहिता

3. ✘ तरंगिणी

4. ✘ धरती

Question Number : 59 Question Id : 168000259 Display Question Number : Yes Single Line Question Option : No Option Orientation : Vertical

मां सरस्वती विद्या की देवी हैं। रेखांकित शब्द का पर्यायवाची होगा:

Options :

1. ✔ वीणापाणि

2. ✘ दुहिता

3. ✘ तरंगिणी

4. ✘ धरती

Question Number : 60 Question Id : 168000260 Display Question Number : Yes Single Line Question Option : No Option Orientation : Vertical

आप को सपरिवार मेरे घर आने का आमंत्रण देता हूँ।

रेखांकित शब्द में कौन-सा समास समाहित है?

Options :

1. ✔ बहुब्रीहि समास

2. ✘ द्विगु समास

3. ✘ अव्ययी भाव समास

4. ✘ तत्पुरुष समास

Question Number : 60 Question Id : 168000260 Display Question Number : Yes Single Line Question Option : No Option Orientation : Vertical

आप को सपरिवार मेरे घर आने का आमंत्रण देता हूँ।

रेखांकित शब्द में कौन-सा समास समाहित है?

Options :

1. ✔ बहुब्रीहि समास

2. ✘ द्विगु समास

3. ✘ अव्ययी भाव समास

4. ✘ तत्पुरुष समास

Question Number : 61 Question Id : 168000261 Display Question Number : Yes Single Line Question Option : No Option Orientation : Vertical

जहाँ शब्द का एक से अधिक बार प्रयोग हुआ हो और उसके अर्थ अलग-अलग हो वहाँ अलंकार होगा:

Options :

1. ✘ अनुप्रास

2. ✔ यमक

3. ✘ श्लेष

4. ✘ उपमा

Question Number : 61 Question Id : 168000261 Display Question Number : Yes Single Line Question Option : No Option Orientation : Vertical

जहाँ शब्द का एक से अधिक बार प्रयोग हुआ हो और उसके अर्थ अलग-अलग हो वहाँ अलंकार होगा:

Options :

1. ✘ अनुप्रास

2. ✔ यमक

3. ✘ श्लेष

4. ✘ उपमा

Question Number : 62 Question Id : 168000262 Display Question Number : Yes Single Line Question Option : No Option Orientation : Vertical

करुण रस का स्थायी भाव होगा:

Options :

1. ✔ शोक

2. ✘ भय

3. ✘ रति

4. ✘ क्रोध

Question Number : 62 Question Id : 168000262 Display Question Number : Yes Single Line Question Option : No Option Orientation : Vertical

करुण रस का स्थायी भाव होगा:

Options :

1. ✔ शोक

2. ✘ भय

3. ✘ रति

4. ✘ क्रोध

Question Number : 63 Question Id : 168000263 Display Question Number : Yes Single Line Question Option : No Option Orientation : Vertical

'परमौषधि' शब्द का संधि विच्छेद होगा:

Options :

1. ✘ परमो + ओषधि

2. ✘ परम् + औषधि

3. ✔ परम + औषधि

4. ✘ परमो + औषधि

Question Number : 63 Question Id : 168000263 Display Question Number : Yes Single Line Question Option : No Option Orientation : Vertical

‘परमौषधि’ शब्द का संधि विच्छेद होगा:

Options :

1. ✘ परमो + ओषधि

2. ✘ परम् + औषधि

3. ✔ परम + औषधि

4. ✘ परमो + औषधि

Question Number : 64 Question Id : 168000264 Display Question Number : Yes Single Line Question Option : No Option Orientation : Vertical

जिस वाक्य में विशेषण का प्रयोग हुआ है उस वाक्य को स्पष्ट कीजिए: (रेखांकित शब्दों को देखिए)

Options :

1. ✘ मैंने खाना खाया।

2. ✔ मुझे आसमानी रंग अच्छा लगता है।

3. ✘ शाबाश! तुमने अच्छाई से कार्य पूर्ण किया।

4. ✘ हमें मानवंता रखनी चाहिए।

Question Number : 64 Question Id : 168000264 Display Question Number : Yes Single Line Question Option : No Option Orientation : Vertical

जिस वाक्य में विशेषण का प्रयोग हुआ है उस वाक्य को स्पष्ट कीजिए: (रेखांकित शब्दों को देखिए)

Options :

1. ✘ मैंने खाना खाया।

2. ✔ मुझे आसमानी रंग अच्छा लगता है।

3. ✘ शाबाश! तुमने अच्छाई से कार्य पूर्ण किया।

4. ✘ हमें मानवंता रखनी चाहिए।

Question Number : 65 Question Id : 168000265 Display Question Number : Yes Single Line Question Option : No Option Orientation : Vertical

‘हार मान लेना’ का सही मुहावरा होगा:

Options :

1. ✘ दो टूक कहना।
2. ✔ हथियार डाल देना।
3. ✘ घात लगाना।
4. ✘ लोहे के चना चबाना।

Question Number : 65 Question Id : 168000265 Display Question Number : Yes Single Line Question Option : No Option Orientation : Vertical

‘हार मान लेना’ का सही मुहावरा होगा:

Options :

1. ✘ दो टूक कहना।
2. ✔ हथियार डाल देना।
3. ✘ घात लगाना।
4. ✘ लोहे के चना चबाना।

Question Number : 66 Question Id : 168000266 Display Question Number : Yes Single Line Question Option : No Option Orientation : Vertical

Two different numbers, when divided by a positive integer x , leave remainders 247 and 439 respectively. When the sum of the numbers is divided by x , the remainder is 207. The value of x is:

Options :

1. ✘ 463
2. ✔ 479
3. ✘ 483

4. ✘ 497

Question Number : 66 Question Id : 168000266 Display Question Number : Yes Single Line Question Option : No Option Orientation : Vertical

दो अलग-अलग संख्याएं जब किसी धनात्मक पूर्णांक x से विभाजित होती हैं तो शेषफल क्रमशः 247 और 439 प्राप्त होता है। जब संख्याओं के योग को x से विभाजित करते हैं तो शेषफल 207 होता है। x का मान है:

Options :

1. ✘ 463

2. ✔ 479

3. ✘ 483

4. ✘ 497

Question Number : 67 Question Id : 168000267 Display Question Number : Yes Single Line Question Option : No Option Orientation : Vertical

Surbhi's income is 60% of Rekha's income and Surbhi's expenditure is 70% of Rekha's expenditure. If Surbhi's income is 75% of Rekha's expenditure, then what percentage of Rekha's savings is Surbhi's saving?

Options :

1. ✘ 15%

2. ✔ 20%

3. ✘ 25%

4. ✘ 40%

Question Number : 67 Question Id : 168000267 Display Question Number : Yes Single Line Question Option : No Option Orientation : Vertical

सुरभि की आय रेखा की आय का 60% है, और सुरभि का व्यय रेखा के व्यय का 70% है। यदि सुरभि की आय रेखा के व्यय का 75% हो, तो सुरभि की बचत रेखा की बचत का कितना प्रतिशत है?

Options :

1. ✘ 15%

2. ✔ 20%

3. ✘ 25%

4. ✘ 40%

Question Number : 68 Question Id : 168000268 Display Question Number : Yes Single Line Question Option : No Option Orientation : Vertical

The average score of girls in a mathematics test is 74 and that of the boys is 70. If the average score of both boys and girls in the class is 72.5, then the percentage of girls in the class is:

Options :

1. ✘ 50%
2. ✘ 58.5%
3. ✔ 62.5%
4. ✘ 70%

Question Number : 68 Question Id : 168000268 Display Question Number : Yes Single Line Question Option : No Option Orientation : Vertical

गणित के परीक्षा में लड़कियों का औसत प्राप्तांक 74 तथा लड़कों का औसत प्राप्तांक 70 है। यदि कक्षा में लड़कों तथा लड़कियों दोनों का औसत प्राप्तांक 72.5 हो तो कक्षा में लड़कियों का प्रतिशत है:

Options :

1. ✘ 50%
2. ✘ 58.5%
3. ✔ 62.5%
4. ✘ 70%

Question Number : 69 Question Id : 168000269 Display Question Number : Yes Single Line Question Option : No Option Orientation : Vertical

A certain sum is borrowed for 4 years at a compound interest of 5% per annum. If the interest for the third year exceeds the interest for the second year by ₹ 252, the sum borrowed is:

Options :

1. ✘ ₹ 80,000
2. ✘ ₹ 88,000
3. ✘ ₹ 90,000
4. ✔ ₹ 96,000

Question Number : 69 Question Id : 168000269 Display Question Number : Yes Single Line Question Option : No Option Orientation : Vertical

एक निश्चित रकम 5% प्रति वर्ष के चक्रवृद्धि ब्याज पर 4 वर्ष के लिए उधार ली जाती है। यदि तीसरे वर्ष का ब्याज दूसरे वर्ष के ब्याज से ₹ 252 अधिक हो, तो उधार ली गई रकम है:

Options :

1. ✘ ₹ 80,000
2. ✘ ₹ 88,000
3. ✘ ₹ 90,000
4. ✔ ₹ 96,000

Question Number : 70 Question Id : 168000270 Display Question Number : Yes Single Line Question Option : No Option Orientation : Vertical

A dealer allows 12% discount on the marked price of an article and gains 10% of the cost price. If the cost price is increased by 10%, how much percentage discount should he allow on the same marked price to earn the same percentage of profit?

Options :

1. ✘ 2
2. ✘ 2.8
3. ✘ 3
4. ✔ 3.2

Question Number : 70 Question Id : 168000270 Display Question Number : Yes Single Line Question Option : No Option Orientation : Vertical

एक डीलर किसी वस्तु के अंकित मूल्य पर 12% की छूट देता है और लागत मूल्य का 10% लाभ प्राप्त करता है। यदि लागत मूल्य 10% बढ़ जाए तो वही लाभ प्रतिशत पाने के लिए उसी अंकित मूल्य पर उसे कितने प्रतिशत की छूट देनी चाहिए?

Options :

1. ✘ 2
2. ✘ 2.8
3. ✘ 3
4. ✔ 3.2

Question Number : 71 Question Id : 168000271 Display Question Number : Yes Single Line Question Option : No Option Orientation : Vertical

A works twice as fast as B, whereas A and B together can work three times as fast as C. If they all work together on a job and get a sum of ₹ 12,240 for the completion of the job, what is the share of A?

Options :

1. ✓ ₹ 6,120
2. ✗ ₹ 6,010
3. ✗ ₹ 4,080
4. ✗ ₹ 3,060

Question Number : 71 Question Id : 168000271 Display Question Number : Yes Single Line Question Option : No Option Orientation : Vertical

A, B से दुगुनी गति से काम करता है, वहीं A और B दोनों मिलकर C से तिगुनी गति पर काम कर सकते हैं। यदि वे तीनों मिलकर एक काम करते हैं और काम पूरा होने पर ₹ 12,240 प्राप्त करते हैं, तो A का हिस्सा कितना होगा?

Options :

1. ✓ ₹ 6,120
2. ✗ ₹ 6,010
3. ✗ ₹ 4,080
4. ✗ ₹ 3,060

Question Number : 72 Question Id : 168000272 Display Question Number : Yes Single Line Question Option : No Option Orientation : Vertical

A sum of ₹ 38,750 is divided among A, B, C and D such that the ratio of the sum of shares of A and D to the sum of shares of B and C is 101 : 54. The ratio of shares of B and C is 5 : 4. If A receives ₹ 11,250, then what is the ratio of shares of C and D?

Options :

1. ✗ 1 : 3
2. ✓ 3 : 7
3. ✗ 4 : 5
4. ✗ 2 : 3

Question Number : 72 Question Id : 168000272 Display Question Number : Yes Single Line Question Option : No Option Orientation : Vertical

₹ 38,750 की राशि A, B, C और D में इस तरह बांटी जाती है कि A और D के हिस्सों के योग तथा B और C के हिस्सों के योग का अनुपात 101 : 54 होता है। B और C के हिस्सों का अनुपात 5 : 4 है। यदि A को ₹ 11,250 प्राप्त होते हैं, तो C और D के हिस्सों का अनुपात क्या होगा?

Options :

1. ✘ 1 : 3
2. ✔ 3 : 7
3. ✘ 4 : 5
4. ✘ 2 : 3

Question Number : 73 Question Id : 168000273 Display Question Number : Yes Single Line Question Option : No Option Orientation : Vertical

The distance between two places P and Q is 60 km. Two persons, Mr. R and Mr. S, start from P towards Q at the same time. The speed of Mr. R is 4 km/hour less than that of Mr. S.

Mr. S reaches Q, returns at once and meets Mr. R at a distance of 12 km from Q. The speed of Mr. R is:

Options :

1. ✘ 4 km/hour
2. ✘ 6 km/hour
3. ✔ 8 km/hour
4. ✘ 12 km/hour

Question Number : 73 Question Id : 168000273 Display Question Number : Yes Single Line Question Option : No Option Orientation : Vertical

दो स्थानों P और Q के बीच की दूरी 60 किमी है। दो व्यक्ति, श्री. R और श्री. S, एक ही समय पर P से Q की ओर चलना शुरू करते हैं। श्री. R की गति श्री. S की गति से 4 किमी/घंटा कम है।

श्री. S, Q पर पहुंच कर तुरंत लौट पड़ते हैं और Q से 12 किमी की दूरी पर श्री. R से मिलते हैं। श्री. R की गति है:

Options :

1. ✘ 4 किमी/घंटा
2. ✘ 6 किमी/घंटा
3. ✔ 8 किमी/घंटा
4. ✘ 12 किमी/घंटा

Question Number : 74 Question Id : 168000274 Display Question Number : Yes Single Line Question Option : No Option Orientation : Vertical

When one litre water is added to a solution of acid and water, the new solution has 20% acid. If one litre acid is added to this new solution, the resulting solution has $33\frac{1}{3}\%$ acid. The percentage of acid in the original solution is:

Options :

1. ✘ 20%
2. ✔ 25%
3. ✘ 30%
4. ✘ 40%

Question Number : 74 Question Id : 168000274 Display Question Number : Yes Single Line Question Option : No Option Orientation : Vertical

जब एक लीटर पानी को एसिड और पानी के विलयन में मिलाया जाता है तो नए विलयन में एसिड की मात्रा 20% होती है। यदि इस नए विलयन में एक लीटर एसिड मिला दिया जाता है तो प्राप्त नए विलयन में $33\frac{1}{3}\%$ एसिड होता है। मूल विलयन में एसिड की मात्रा है:

Options :

1. ✘ 20%
2. ✔ 25%
3. ✘ 30%
4. ✘ 40%

Question Number : 75 Question Id : 168000275 Display Question Number : Yes Single Line Question Option : No Option Orientation : Vertical

If the equation $(m + 1)(x^2 - bx) = (m - 1)(ax - c)$ have roots equal in magnitude but opposite in sign, then $m = ?$

Options :

1. ✘ $\frac{a + b}{a - b}$
2. ✘ $\frac{b}{a}$
3. ✔ $\frac{a - b}{a + b}$

4. ✘ $\frac{a}{b}$

Question Number : 75 Question Id : 168000275 Display Question Number : Yes Single Line Question Option : No Option Orientation : Vertical

समीकरण $(m + 1)(x^2 - bx) = (m - 1)(ax - c)$ के मूल यदि परिमाण में बराबर लेकिन चिह्न विपरीत हों तो $m = ?$

Options :

1. ✘ $\frac{a + b}{a - b}$

2. ✘ $\frac{b}{a}$

3. ✔ $\frac{a - b}{a + b}$

4. ✘ $\frac{a}{b}$

Question Number : 76 Question Id : 168000276 Display Question Number : Yes Single Line Question Option : No Option Orientation : Vertical

A block of wood floats in water such that $1/n$ of its volume is under water. The density of the block is 0.8 times the density of water. The value of n is:

Options :

1. ✘ $3/4$

2. ✔ $5/4$

3. ✘ $4/5$

4. ✘ $6/5$

Question Number : 76 Question Id : 168000276 Display Question Number : Yes Single Line Question Option : No Option Orientation : Vertical

लकड़ी का एक ब्लॉक पानी में इस प्रकार तैरता है कि इसका $1/n$ भाग पानी के नीचे है। ब्लॉक का घनत्व पानी के घनत्व का 0.8 गुणा है। n का मान है:

Options :

1. ✘ $3/4$

2. ✓ 5/4

3. ✗ 4/5

4. ✗ 6/5

Question Number : 77 Question Id : 168000277 Display Question Number : Yes Single Line Question Option : No Option Orientation : Vertical

An object is dropped from a height of 78.4 m. The speed with which it touches the ground is:

Options :

1. ✗ 9.8 m/sec

2. ✗ 19.6 m/sec

3. ✓ 39.2 m/sec

4. ✗ 59.0 m/sec

Question Number : 77 Question Id : 168000277 Display Question Number : Yes Single Line Question Option : No Option Orientation : Vertical

एक वस्तु को 78.4 मीटर की ऊंचाई से गिराया जाता है। इसके जमीन को छूने की गति है:

Options :

1. ✗ 9.8 मीटर/सेकंड

2. ✗ 19.6 मीटर/सेकंड

3. ✓ 39.2 मीटर/सेकंड

4. ✗ 59.0 मीटर/सेकंड

Question Number : 78 Question Id : 168000278 Display Question Number : Yes Single Line Question Option : No Option Orientation : Vertical

An object is placed on the principal axis of a convex lens at its focus. The image formed by the lens is:

Options :

1. ✗ Real and diminished

2. ✓ Real and highly enlarged

3. ✗ Virtual and diminished

4. ✘ Virtual and highly enlarged

Question Number : 78 Question Id : 168000278 Display Question Number : Yes Single Line Question Option : No Option Orientation : Vertical

एक वस्तु को उत्तल लेंस के मुख्य अक्ष रेखा पर इसके फोकस पर रखा जाता है। लेंस द्वारा बनी छवि है:

Options :

1. ✘ वास्तविक और संकुचित
2. ✔ वास्तविक और अधिक बड़ी
3. ✘ आभासी और संकुचित
4. ✘ आभासी और अधिक बड़ी

Question Number : 79 Question Id : 168000279 Display Question Number : Yes Single Line Question Option : No Option Orientation : Vertical

When a ray of light passes from air into a medium of refractive index 2.0, it bends _____.

Options :

1. ✔ towards the normal and travels with a speed of 1.5×10^8 m/s
2. ✘ away from the normal and travels with a speed of 1.5×10^8 m/s
3. ✘ towards the normal and travels without any change in its speed
4. ✘ away from the normal and travels without any change in its speed

Question Number : 79 Question Id : 168000279 Display Question Number : Yes Single Line Question Option : No Option Orientation : Vertical

जब प्रकाश की किरण हवा से होती हुई अपवर्तक सूचकांक 2.0 वाले माध्यम से गुजरती है, तो यह _____।

Options :

1. ✔ सामान्य की तरफ मुड़ जाती है और 1.5×10^8 मीटर/सेकंड की गति से आगे बढ़ती है
2. ✘ सामान्य से दूर मुड़ जाती है और 1.5×10^8 मीटर/सेकंड की गति से आगे बढ़ती है
3. ✘ सामान्य की तरफ मुड़ जाती है और गति में किसी बदलाव के बिना आगे बढ़ती है

4. ✘ सामान्य से दूर मुड़ जाती है और गति में किसी बदलाव के बिना आगे बढ़ती है

Question Number : 80 Question Id : 168000280 Display Question Number : Yes Single Line Question Option : No Option Orientation : Vertical

An object, 2.0 cm in size is placed 25 cm in front of a concave mirror of focal length 15 cm. The size and the nature of image formed are respectively:

Options :

1. ✘ 3.0 cm, erect
2. ✔ 3.0 cm, inverted
3. ✘ 6.0 cm, erect
4. ✘ 6.0 cm, inverted

Question Number : 80 Question Id : 168000280 Display Question Number : Yes Single Line Question Option : No Option Orientation : Vertical

2.0 सेंटीमीटर आकार वाली एक वस्तु को 15 सेंटीमीटर फोकस दूरी वाले अवतल दर्पण के सामने 25 सेंटीमीटर की दूरी पर रखा जाता है। बनी छवि का आकार और प्रकृति क्रमशः हैं:

Options :

1. ✘ 3.0 सेंटीमीटर, लम्बवत्त
2. ✔ 3.0 सेंटीमीटर, उलटी
3. ✘ 6.0 सेंटीमीटर, लम्बवत्त
4. ✘ 6.0 सेंटीमीटर, उलटी

Question Number : 81 Question Id : 168000281 Display Question Number : Yes Single Line Question Option : No Option Orientation : Vertical

Which one of the following is **NOT** an ionic compound?

Options :

1. ✘ LiCl
2. ✘ NaCl
3. ✘ CaO
4. ✔ C₆H₆

Question Number : 81 Question Id : 168000281 Display Question Number : Yes Single Line Question Option : No Option Orientation : Vertical

निम्नलिखित में से कौन सा एक आयनिक यौगिक नहीं है?

Options :

1. ✘ LiCl
2. ✘ NaCl
3. ✘ CaO
4. ✔ C₆H₆

Question Number : 82 Question Id : 168000282 Display Question Number : Yes Single Line Question Option : No Option Orientation : Vertical

Which one of the following represents the formula of an alkyne?

Options :

1. ✔ C_nH_{2n-2}
2. ✘ C_nH_{2n}
3. ✘ C_nH_{2n+2}
4. ✘ C_nH_{2n+4}

Question Number : 82 Question Id : 168000282 Display Question Number : Yes Single Line Question Option : No Option Orientation : Vertical

निम्नलिखित में से कौन सा विकल्प एल्काइन का सूत्र दर्शाता है?

Options :

1. ✔ C_nH_{2n-2}
2. ✘ C_nH_{2n}
3. ✘ C_nH_{2n+2}
4. ✘ C_nH_{2n+4}

Question Number : 83 Question Id : 168000283 Display Question Number : Yes Single Line Question Option : No Option Orientation : Vertical

Which one of the following represents the mass of one mole of carbon monoxide molecules?

Options :

1. ✘ 4.4 grams
2. ✘ 44 grams
3. ✔ 28 grams
4. ✘ 2.8 grams

Question Number : 83 Question Id : 168000283 Display Question Number : Yes Single Line Question Option : No Option Orientation : Vertical

निम्नलिखित में से कौन सा विकल्प कार्बन मोनोऑक्साइड अणुओं के एक मोल का द्रव्यमान दर्शाता है?

Options :

1. ✘ 4.4 ग्राम
2. ✘ 44 ग्राम
3. ✔ 28 ग्राम
4. ✘ 2.8 ग्राम

Question Number : 84 Question Id : 168000284 Display Question Number : Yes Single Line Question Option : No Option Orientation : Vertical

Which one of the following carbon compounds has a functional group different from others?

Options :

1. ✘ CH_3OH
2. ✔ $\text{CH}_3\text{CH}_2\text{CHO}$
3. ✘ $(\text{CH}_3)_3\text{OH}$
4. ✘ $\text{CH}_3\text{CH}_2\text{OH}$

Question Number : 84 Question Id : 168000284 Display Question Number : Yes Single Line Question Option : No Option Orientation : Vertical

निम्नलिखित में से कौन से कार्बन यौगिक का क्रियात्मक समूह अन्य से भिन्न है?

Options :

1. ✘ CH_3OH

2. ✓ $\text{CH}_3\text{CH}_2\text{CHO}$

3. ✗ $(\text{CH}_3)_3\text{OH}$

4. ✗ $\text{CH}_3\text{CH}_2\text{OH}$

Question Number : 85 Question Id : 168000285 Display Question Number : Yes Single Line Question Option : No Option Orientation : Vertical

Which allotropic form of carbon has free electrons due to which it acts as a good conductor of electricity?

Options :

1. ✓ Graphite

2. ✗ Diamond

3. ✗ Lamp black

4. ✗ Coal

Question Number : 85 Question Id : 168000285 Display Question Number : Yes Single Line Question Option : No Option Orientation : Vertical

कार्बन का कौन सा अपररूप मुक्त इलेक्ट्रॉनों की उपस्थिति के कारण एक अच्छे विद्युत सुचालक के रूप में कार्य करता है?

Options :

1. ✓ ग्रेफाइट

2. ✗ हीरा

3. ✗ काजल

4. ✗ कोयला

Question Number : 86 Question Id : 168000286 Display Question Number : Yes Single Line Question Option : No Option Orientation : Vertical

Which of the following is a puppet form associated with Tamil Nadu?

Options :

1. ✗ Putul Nautch

2. ✓ Bommalattam

3. ✘ Pavakoothu

4. ✘ Gombeyatta

Question Number : 86 Question Id : 168000286 Display Question Number : Yes Single Line Question Option : No Option Orientation : Vertical

निम्नलिखित में से कौन-सी कठपुतली शैली तमिलनाडु से संबंधित है?

Options :

1. ✘ पुतुल नाच

2. ✔ बोम्मालट्टम

3. ✘ पावाकूथु

4. ✘ गोम्बेयट्टा

Question Number : 87 Question Id : 168000287 Display Question Number : Yes Single Line Question Option : No Option Orientation : Vertical

Who defeated Ibrahim Lodi in the First Battle of Panipat?

Options :

1. ✔ Babur

2. ✘ Akbar

3. ✘ Vikramaditya

4. ✘ Ahmed Shah

Question Number : 87 Question Id : 168000287 Display Question Number : Yes Single Line Question Option : No Option Orientation : Vertical

पानीपत की पहली लड़ाई में इब्राहीम लोदी को किसने हराया था?

Options :

1. ✔ बाबर

2. ✘ अकबर

3. ✘ विक्रमादित्य

4. ✘ अहमद शाह

Question Number : 88 Question Id : 168000288 Display Question Number : Yes Single Line Question Option : No Option Orientation : Vertical

Which of the following national parks is in Bihar?

Options :

1. ✔ Valmiki
2. ✘ Periyar
3. ✘ Ranthambore
4. ✘ Kaziranga

Question Number : 88 Question Id : 168000288 Display Question Number : Yes Single Line Question Option : No Option Orientation : Vertical

निम्नलिखित में से कौन-सा राष्ट्रीय उद्यान बिहार में है?

Options :

1. ✔ वाल्मीकि
2. ✘ पेरियार
3. ✘ रणथंभौर
4. ✘ काज़ीरंगा

Question Number : 89 Question Id : 168000289 Display Question Number : Yes Single Line Question Option : No Option Orientation : Vertical

As per Economic Survey 2016-17 vol. 2, which of the following does **NOT** fall under India's Services Sector?

Options :

1. ✘ Public Administration and Defence
2. ✘ Railways
3. ✔ Mining
4. ✘ Hotels and Restaurants

Question Number : 89 Question Id : 168000289 Display Question Number : Yes Single Line Question Option : No Option Orientation : Vertical

आर्थिक सर्वेक्षण 2016-17 भाग 2 के अनुसार निम्नलिखित में से क्या भारत के सेवा क्षेत्र के अंतर्गत नहीं आता?

Options :

1. ✘ लोक प्रशासन और रक्षा
2. ✘ रेलवे
3. ✔ खनन
4. ✘ होटल और रेस्तरां

Question Number : 90 Question Id : 168000290 Display Question Number : Yes Single Line Question Option : No Option Orientation : Vertical

As per the Constitution of India, which of the following is **NOT** a prescribed condition for a candidature for the post of President of India.

Options :

1. ✘ A citizen of India.
2. ✘ Someone who has completed the age of thirty-five years.
3. ✔ Someone who has completed the age of twenty-five years.
4. ✘ Someone who does not hold any office of profit under the Government of India or the Government of any State or under any local or other authority subject to the control of any of the said Governments.

Question Number : 90 Question Id : 168000290 Display Question Number : Yes Single Line Question Option : No Option Orientation : Vertical

भारतीय संविधान के अनुसार निम्नलिखित में से कौन-सा विकल्प भारत के राष्ट्रपति के पद का उम्मीदवार बनने हेतु निर्धारित शर्त नहीं है?

Options :

1. ✘ वह भारत का नागरिक हो।
2. ✘ वह जिसने पैंतीस वर्ष की आयु पूरी कर ली हो।
3. ✔ वह जिसने पच्चीस वर्ष की आयु पूरी कर ली हो।
4. ✘ वह जो भारत सरकार या किसी भी राज्य सरकार या किसी भी सरकार के नियंत्रण वाले स्थानीय अथवा अन्य प्राधिकरण के अधीन किसी लाभ के पद पर ना हो।

Question Number : 91 Question Id : 168000291 Display Question Number : Yes Single Line Question Option : No Option Orientation : Vertical

Who among the following is associated with the development of In Vitro fertilisation?

Options :

1. ✘ James Watson
2. ✘ Frederick Hopkins
3. ✘ George Whipple
4. ✔ Robert G. Edwards

Question Number : 91 Question Id : 168000291 Display Question Number : Yes Single Line Question Option : No Option Orientation : Vertical

निम्नलिखित में से कौन कृत्रिम परिवेशी निषेचन (इन विट्रो फर्टिलाइज़ेशन) के विकास से संबंधित है?

Options :

1. ✘ जेम्स वाटसन
2. ✘ फ्रेडरिक हॉपकिंस
3. ✘ जॉर्ज व्हिपल
4. ✔ रॉबर्ट जी. एडवर्ड्स

Question Number : 92 Question Id : 168000292 Display Question Number : Yes Single Line Question Option : No Option Orientation : Vertical

Which of the following Indian musicians received the Magsaysay award, 2016, for his/her attempts at healing India's caste divides in the field of music?

Options :

1. ✘ Bezwada Wilson
2. ✘ T. N. Seshan
3. ✘ James Lyngdoh
4. ✔ T. M. Krishna

Question Number : 92 Question Id : 168000292 Display Question Number : Yes Single Line Question Option : No Option Orientation : Vertical

निम्नलिखित में से किस भारतीय संगीतकार को भारतीय संगीत के क्षेत्र में जातिभेद को मिटाने के प्रयास हेतु 2016 में मैगसेसे पुरस्कार से सम्मानित किया गया?

Options :

1. ✘ बेज़वाडा विल्सन
2. ✘ टी. एन. शेषन
3. ✘ जेम्स लिंगदोह
4. ✔ टी. एम. कृष्णा

Question Number : 93 Question Id : 168000293 Display Question Number : Yes Single Line Question Option : No Option Orientation : Vertical

Following are the four major Lawn Tennis Grand Slam Tournaments which take place in one calendar year (not necessarily in this order):

- US Open
- French Open
- Australian Open
- Wimbledon

As per 2017 schedules of these tournaments, choose their correct chronological order (starting from January till December) from the given alternatives.

Options :

1. ✔ Australian Open – French Open – Wimbledon – US Open
2. ✘ French Open – US Open – Wimbledon – Australian Open
3. ✘ Wimbledon – Australian Open – French Open – US Open
4. ✘ Australian Open – Wimbledon – French Open – US Open

Question Number : 93 Question Id : 168000293 Display Question Number : Yes Single Line Question Option : No Option Orientation : Vertical

एक कैलेंडर वर्ष में होने वाले चार बड़े लॉन टेनिस ग्रैंड स्लैम टूर्नामेंट नीचे दिए गए हैं (ज़रूरी नहीं कि इसी क्रम में हों):

- यूएस ओपन
- फ्रेंच ओपन
- ऑस्ट्रेलियन ओपन
- विंबलडन

इन टूर्नामेंटों के 2017 के कार्यक्रम के अनुसार, दिए गए विकल्पों में से सही कालानुक्रम (जनवरी से दिसंबर तक) वाले विकल्प का चयन करें।

Options :

1. ✔ ऑस्ट्रेलियन ओपन - फ्रेंच ओपन - विंबलडन - यूएस ओपन

2. ✘ फ्रेंच ओपन - यूएस ओपन - विंबलडन - ऑस्ट्रेलियन ओपन
3. ✘ विंबलडन - ऑस्ट्रेलियन ओपन - फ्रेंच ओपन - यूएस ओपन
4. ✘ ऑस्ट्रेलियन ओपन - विंबलडन - फ्रेंच ओपन - यूएस ओपन

Question Number : 94 Question Id : 168000294 Display Question Number : Yes Single Line Question Option : No Option Orientation : Vertical

In which of the following disciplines was the Dronacharya Award 2017 conferred on Roshan Lal?

Options :

1. ✘ Hockey
2. ✔ Wrestling
3. ✘ Boxing
4. ✘ Shooting

Question Number : 94 Question Id : 168000294 Display Question Number : Yes Single Line Question Option : No Option Orientation : Vertical

रोशन लाल को 2017 में किस खेल के लिए द्रोणाचार्य पुरस्कार से सम्मानित किया गया था?

Options :

1. ✘ हॉकी
2. ✔ कुश्ती
3. ✘ मुक्केबाज़ी
4. ✘ निशानेबाज़ी

Question Number : 95 Question Id : 168000295 Display Question Number : Yes Single Line Question Option : No Option Orientation : Vertical

In the Bhaona theatre form, the cultural glimpses of which of the following Indian states is seen?

Options :

1. ✔ Assam
2. ✘ Maharashtra

3. ✘ Gujarat

4. ✘ Sikkim

Question Number : 95 Question Id : 168000295 Display Question Number : Yes Single Line Question Option : No Option Orientation : Vertical

भाओना नाटकों में निम्नलिखित में से किस भारतीय राज्य की सांस्कृतिक झलक दिखती है?

Options :

1. ✔ असम

2. ✘ महाराष्ट्र

3. ✘ गुजरात

4. ✘ सिक्किम

Question Number : 96 Question Id : 168000296 Display Question Number : Yes Single Line Question Option : No Option Orientation : Vertical

In a certain code language PIN is coded as 746 and SCALE can be coded as 85392. How can PENCIL be coded?

Options :

1. ✘ 762549

2. ✘ 726459

3. ✔ 726549

4. ✘ 725649

Question Number : 96 Question Id : 168000296 Display Question Number : Yes Single Line Question Option : No Option Orientation : Vertical

एक कोड भाषा में PIN को 746 और SCALE को 85392 के रूप में लिखा जाता है। PENCIL को कैसे लिखा जाएगा?

Options :

1. ✘ 762549

2. ✘ 726459

3. ✔ 726549

4. ✘ 725649

Question Number : 97 Question Id : 168000297 Display Question Number : Yes Single Line Question Option : No Option Orientation : Vertical

'Film' is related to 'Director' in the same way as 'Magazine' is related to _____.

Options :

1. ✘ Producer
2. ✔ Editor
3. ✘ Reader
4. ✘ Printer

Question Number : 97 Question Id : 168000297 Display Question Number : Yes Single Line Question Option : No Option Orientation : Vertical

'फिल्म' का संबंध 'निर्देशक' से उसी प्रकार से है, जैसे 'पत्रिका' का संबंध _____ से है।

Options :

1. ✘ निर्माता
2. ✔ संपादक
3. ✘ पाठक
4. ✘ मुद्रक

Question Number : 98 Question Id : 168000298 Display Question Number : Yes Single Line Question Option : No Option Orientation : Vertical

Insert the group of letters from the options that completes the first word and begins the second.

LI () B

Options :

1. ✘ ON
2. ✘ EN
3. ✔ VER
4. ✘ OER

Question Number : 98 Question Id : 168000298 Display Question Number : Yes Single Line Question Option : No Option Orientation : Vertical

उस अक्षर-समूह को खाली जगह में रखें जो पहले शब्द को पूरा करता हो और दूसरे का आरंभ करता हो।

LI () B

Options :

1. ✘ ON

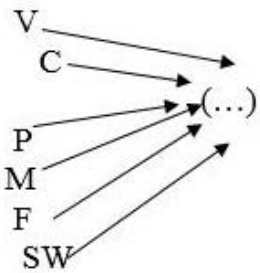
2. ✘ EN

3. ✔ VER

4. ✘ OER

Question Number : 99 Question Id : 168000299 Display Question Number : Yes Single Line Question Option : No Option Orientation : Vertical

Which of the following options, when joined by each letter in the image as a prefix, forms a meaningful word?



Options :

1. ✔ AN

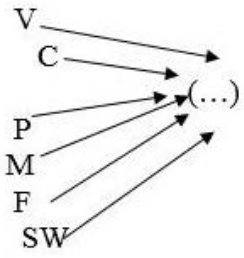
2. ✘ OT

3. ✘ ET

4. ✘ NE

Question Number : 99 Question Id : 168000299 Display Question Number : Yes Single Line Question Option : No Option Orientation : Vertical

निम्नलिखित में से कौन-सा ऐसा विकल्प है जिसमें एक उपसर्ग के रूप में जोड़े जाने पर चित्र में दिखाया गया प्रत्येक अक्षर/अक्षर-युग्म एक सार्थक अंग्रेज़ी शब्द बनाता है?



Options :

1. ✓ AN
2. ✗ OT
3. ✗ ET
4. ✗ NE

Question Number : 100 Question Id : 168000300 Display Question Number : Yes Single Line Question Option : No Option Orientation : Vertical

Select the missing number in the series.

114, 116, 120, 126, 134, 144, _____

Options :

1. ✗ 154
2. ✓ 156
3. ✗ 160
4. ✗ 164

Question Number : 100 Question Id : 168000300 Display Question Number : Yes Single Line Question Option : No Option Orientation : Vertical

श्रृंखला में लुप्त संख्या का पता लगाएं।

114, 116, 120, 126, 134, 144, _____

Options :

1. ✗ 154
2. ✓ 156

3. ✖ 160

4. ✖ 164