

## Haryana Staff Selection Commission

### Notations :

- 1.Options shown in green color and with ✓ icon are correct.
- 2.Options shown in red color and with ✗ icon are incorrect.

<b>Subject Name:</b>	CAT 8 Senior Scale Stenographer English Hindi CBT Exam
<b>Total Marks:</b>	200
<b>Display Marks:</b>	Yes
<b>Calculator:</b>	None
<b>Magnifying Glass Required?:</b>	No
<b>Ruler Required?:</b>	No
<b>Eraser Required?:</b>	No
<b>Scratch Pad Required?:</b>	No
<b>Rough Sketch/Notepad Required?:</b>	No
<b>Protractor Required?:</b>	No

CAT 8 Senior Scale Stenographer English Hindi CBT Exam

**Group Marks:** 200

CAT 8 Senior Scale Stenographer English Hindi CBT Exam

<b>Section Marks:</b>	200
<b>Display Number Panel:</b>	Yes
<b>Group All Questions:</b>	No

**Question Number : 1 Question Id : 260269601 Display Question Number : Yes Single Line Question Option : No Option Orientation : Vertical**

Which of the following sites is the latest in terms of chronology?

### Options :

1. ✗ Bhagwanpura
2. ✗ Daulatpur
3. ✗ Mirzapur
4. ✓ Raja Karna Ka Tilla

Question Number : 1 Question Id : 260269601 Display Question Number : Yes Single Line Question Option : No Option Orientation : Vertical

निम्नलिखित में से कौन-सा स्थल कालक्रम के अनुसार नवीनतम है?

Options :

1. ✘ भगवानपुरा
2. ✘ दौलतपुर
3. ✘ मिर्जापुर
4. ✔ राजा कर्ण का टीला

Question Number : 2 Question Id : 260269602 Display Question Number : Yes Single Line Question Option : No Option Orientation : Vertical

The earliest reference to the Ambala region is found in:

Options :

1. ✘ Aitareya Aranyaka
2. ✘ Brihad Aranyaka
3. ✘ Katha Aranyaka
4. ✔ Taittiriya Aranyaka

Question Number : 2 Question Id : 260269602 Display Question Number : Yes Single Line Question Option : No Option Orientation : Vertical

अंबाला क्षेत्र का सबसे पहला उल्लेख इसमें पाया जाता है:

Options :

1. ✘ ऐतरेय आरण्यक
2. ✘ बृहद आरण्यक
3. ✘ कथा आरण्यक
4. ✔ तैत्तिरीय आरण्यक

Question Number : 3 Question Id : 260269603 Display Question Number : Yes Single Line Question Option : No Option Orientation : Vertical

The old name of Yamunanagar was:

Options :

1. ✓ Abdullahpur
2. ✗ Chhachhrauli
3. ✗ Kalanaur
4. ✗ Ratanpur

Question Number : 3 Question Id : 260269603 Display Question Number : Yes Single Line Question Option : No Option Orientation : Vertical

यमुनानगर का पुराना नाम था:

Options :

1. ✓ अब्दुल्लाहपुर
2. ✗ छछरौली
3. ✗ कालानौर
4. ✗ रतनपुर

Question Number : 4 Question Id : 260269604 Display Question Number : Yes Single Line Question Option : No Option Orientation : Vertical

Barsi Gate in Hansi was built by:

Options :

1. ✓ Alauddin Khilji
2. ✗ Firoz Shah Tughlaq
3. ✗ Bahlol Lodi
4. ✗ Ibrahim Lodi

Question Number : 4 Question Id : 260269604 Display Question Number : Yes Single Line Question Option : No Option Orientation : Vertical

हांसी का बरसी दरवाज़ा किसने बनवाया था?

Options :

1. ✓ अलाउद्दीन खिलजी

2. ✘ फ़िरोज़ शाह तुग़लक़

3. ✘ बहलोल लोदी

4. ✘ इब्राहिम लोदी

Question Number : 5 Question Id : 260269605 Display Question Number : Yes Single Line Question Option : No Option Orientation : Vertical

Who among the following is the current health minister of Haryana?

Options :

1. ✘ Ram Bilas Sharma

2. ✘ Captain Abhimanyu

3. ✔ Anil Vij

4. ✘ Om Prakash Dhankar

Question Number : 5 Question Id : 260269605 Display Question Number : Yes Single Line Question Option : No Option Orientation : Vertical

निम्नलिखित में से हरियाणा के वर्तमान स्वास्थ्य मंत्री कौन हैं?

Options :

1. ✘ राम बिलास शर्मा

2. ✘ कैप्टन अभिमन्यु

3. ✔ अनिल विज

4. ✘ ओम प्रकाश धनकर

Question Number : 6 Question Id : 260269606 Display Question Number : Yes Single Line Question Option : No Option Orientation : Vertical

Who among the following won the 2016 John F. Richards Prize for the book 'Ashoka in Ancient India'?

Options :

1. ✘ Balbir Singh

2. ✔ Nayanjot Lahiri

3. ✘ Purn Singh Dabas

4. ✘ Sarjan Singh Baijiya

Question Number : 6 Question Id : 260269606 Display Question Number : Yes Single Line Question Option : No Option Orientation : Vertical

निम्नलिखित में से किसने 'अशोका इन एन्शेंट इंडिया' पुस्तक के लिए 2016 का जॉन एफ रिचर्ड्स पुरस्कार जीता था?

Options :

1. ✘ बलबीर सिंह

2. ✔ नयनजोत लाहिड़ी

3. ✘ पूर्ण सिंह डबास

4. ✘ सरजन सिंह बाजीया

Question Number : 7 Question Id : 260269607 Display Question Number : Yes Single Line Question Option : No Option Orientation : Vertical

As per its recent announcement, the Haryana Government has banned \_\_\_\_\_ year-old diesel vehicles from plying in the districts of NCR region.

Options :

1. ✘ 15

2. ✘ 20

3. ✘ 5

4. ✔ 10

Question Number : 7 Question Id : 260269607 Display Question Number : Yes Single Line Question Option : No Option Orientation : Vertical

हाल ही की एक घोषणा के अनुसार हरियाणा सरकार ने एनसीआर (NCR) क्षेत्र के अंतर्गत आने वाले जिलों में \_\_\_\_\_ वर्ष से पुराने डीज़ल वाहनों के चलने पर प्रतिबंध लगा दिया है।

Options :

1. ✘ 15

2. ✘ 20

3. ✘ 5

4. ✓ 10

Question Number : 8 Question Id : 260269608 Display Question Number : Yes Single Line Question Option : No Option  
Orientation : Vertical

The Council of Ministers of the present Haryana Government has \_\_\_\_\_ female cabinet minister(s).

Options :

1. ✗ 3

2. ✗ 2

3. ✓ 1

4. ✗ 9

Question Number : 8 Question Id : 260269608 Display Question Number : Yes Single Line Question Option : No Option  
Orientation : Vertical

वर्तमान हरियाणा सरकार की मंत्रिपरिषद में \_\_\_\_\_ महिला/महिलाएँ कैबिनेट मंत्री हैं।

Options :

1. ✗ 3

2. ✗ 2

3. ✓ 1

4. ✗ 9

Question Number : 9 Question Id : 260269609 Display Question Number : Yes Single Line Question Option : No Option  
Orientation : Vertical

The collection of essays, 'Shiv Shambhu Ke Chitthe aur Khat: Banam Lord Curzon', was written by which freedom fighter?

Options :

1. ✓ Balmukund Gupta

2. ✗ Ayodhya Prasad Goyalia

3. ✗ Anupchand Aftab

4. ✗ Deedar Singh

Question Number : 9 Question Id : 260269609 Display Question Number : Yes Single Line Question Option : No Option  
Orientation : Vertical

'शिव शंभू के चिट्ठे और खत: बनाम लार्ड कर्ज़न' नामक निबंध संग्रह किस स्वतंत्रता सेनानी की रचना है?

Options :

1. ✓ बालमुकुंद गुप्त
2. ✘ अयोध्या प्रसाद गोयलीय
3. ✘ अनूपचंद आफ़ताब
4. ✘ दीदार सिंह

Question Number : 10 Question Id : 260269610 Display Question Number : Yes Single Line Question Option : No Option Orientation : Vertical

Who wrote the 'Vichar Sagar' which is considered a comprehensive book on Vedic literature?

Options :

1. ✘ Banarsi Das
2. ✘ Udho Das
3. ✘ Hari Das
4. ✓ Nishchal Das

Question Number : 10 Question Id : 260269610 Display Question Number : Yes Single Line Question Option : No Option Orientation : Vertical

वैदिक साहित्य पर एक विस्तृत पुस्तक के रूप में जानी जाने वाली 'विचार सागर' किसने लिखी है?

Options :

1. ✘ बनारसी दास
2. ✘ ऊधो दास
3. ✘ हरि दास
4. ✓ निश्चल दास

Question Number : 11 Question Id : 260269611 Display Question Number : Yes Single Line Question Option : No Option Orientation : Vertical

Who has written the book 'Mera Desh Mere Log' on the life of the people of Fiji?

Options :

1. ✘ Ujjwal Singh

2. ✘ Bhag Singh

3. ✔ Joginder Singh Kanwal

4. ✘ Bhai Santokh Singh

Question Number : 11 Question Id : 260269611 Display Question Number : Yes Single Line Question Option : No Option Orientation : Vertical

फ़िजी के लोगों के जीवन पर आधारित किताब 'मेरा देश मेरे लोग' किसने लिखी है?

Options :

1. ✘ उज्ज्वल सिंह

2. ✘ भाग सिंह

3. ✔ जोगिंदर सिंह कंवल

4. ✘ भाई संतोख सिंह

Question Number : 12 Question Id : 260269612 Display Question Number : Yes Single Line Question Option : No Option Orientation : Vertical

How many primary cooperative marketing societies were there in Haryana, as of 2011-12?

Options :

1. ✘ 65

2. ✔ 71

3. ✘ 86

4. ✘ 93

Question Number : 12 Question Id : 260269612 Display Question Number : Yes Single Line Question Option : No Option Orientation : Vertical

हरियाणा में 2011-12 तक, कितनी प्राथमिक सहकारी विपणन समितियाँ थीं?

Options :

1. ✘ 65

2. ✔ 71

3. ✘ 86



4. ✘ 93

Question Number : 13 Question Id : 260269613 Display Question Number : Yes Single Line Question Option : No Option Orientation : Vertical

The total arable area irrigated by canals in Haryana was \_\_\_\_\_, as of 2010-11.

Options :

1. ✔ 20.82 lakh hectare
2. ✘ 22.38 lakh hectare
3. ✘ 24.76 lakh hectare
4. ✘ 26.45 lakh hectare

Question Number : 13 Question Id : 260269613 Display Question Number : Yes Single Line Question Option : No Option Orientation : Vertical

हरियाणा में 2010-11 तक, नहरों द्वारा सिंचित कुल कृषि क्षेत्र \_\_\_\_\_ था।

Options :

1. ✔ 20.82 लाख हेक्टेयर
2. ✘ 22.38 लाख हेक्टेयर
3. ✘ 24.76 लाख हेक्टेयर
4. ✘ 26.45 लाख हेक्टेयर

Question Number : 14 Question Id : 260269614 Display Question Number : Yes Single Line Question Option : No Option Orientation : Vertical

According to Haryana Government, the total length of paved roads in Haryana, as of 2011-12, was \_\_\_\_\_.

Options :

1. ✘ 34,546 kilometers
2. ✘ 36,298 kilometers
3. ✔ 38,499 kilometers
4. ✘ 40,374 kilometers

Question Number : 14 Question Id : 260269614 Display Question Number : Yes Single Line Question Option : No Option Orientation : Vertical

हरियाणा सरकार के अनुसार हरियाणा में 2011-12 तक पक्की सड़कों की कुल लंबाई \_\_\_\_\_ थी।

Options :

1. ✘ 34,546 किलोमीटर
2. ✘ 36,298 किलोमीटर
3. ✔ 38,499 किलोमीटर
4. ✘ 40,374 किलोमीटर

Question Number : 15 Question Id : 260269615 Display Question Number : Yes Single Line Question Option : No Option Orientation : Vertical

Which one of the following is **NOT** a Police Commissionerate of Haryana?

Options :

1. ✔ Police Commissionerate, Rohtak
2. ✘ Police Commissionerate, Panchkula
3. ✘ Police Commissionerate, Faridabad
4. ✘ Police Commissionerate, Gurugram

Question Number : 15 Question Id : 260269615 Display Question Number : Yes Single Line Question Option : No Option Orientation : Vertical

निम्नलिखित में से कौन सा हरियाणा का एक पुलिस आयुक्तालय नहीं है?

Options :

1. ✔ पुलिस आयुक्तालय, रोहतक
2. ✘ पुलिस आयुक्तालय, पंचकुला
3. ✘ पुलिस आयुक्तालय, फरीदाबाद
4. ✘ पुलिस आयुक्तालय, गुरुग्राम

Question Number : 16 Question Id : 260269616 Display Question Number : Yes Single Line Question Option : No Option Orientation : Vertical

Who is the current agriculture Minister of Haryana?

Options :

1. ✘ Captain Abhimanyu
2. ✔ Om Prakash Dhankar
3. ✘ Kavita Jain
4. ✘ Krishan Lal Panwar

Question Number : 16 Question Id : 260269616 Display Question Number : Yes Single Line Question Option : No Option Orientation : Vertical

हरियाणा के वर्तमान कृषि मंत्री कौन हैं?

Options :

1. ✘ कैप्टन अभिमन्यु
2. ✔ ओम प्रकाश धनकर
3. ✘ कविता जैन
4. ✘ कृष्ण लाल पंवार

Question Number : 17 Question Id : 260269617 Display Question Number : Yes Single Line Question Option : No Option Orientation : Vertical

The Panipat Municipal Committee was first constituted in \_\_\_\_\_.

Options :

1. ✘ 1895
2. ✘ 1857
3. ✔ 1867
4. ✘ 1848

Question Number : 17 Question Id : 260269617 Display Question Number : Yes Single Line Question Option : No Option Orientation : Vertical

पानीपत नगर पालिका पहली बार \_\_\_\_\_ में गठित की गई थी।

Options :

1. ✘ 1895

2. ✘ 1857

3. ✔ 1867

4. ✘ 1848

Question Number : 18 Question Id : 260269618 Display Question Number : Yes Single Line Question Option : No Option Orientation : Vertical

The focus of Haryana Government in the 2016-17 budget was on providing \_\_\_\_\_ jobs to the youngsters each year.

Options :

1. ✘ 1.05 lakh

2. ✔ 1.15 lakh

3. ✘ 1.25 lakh

4. ✘ 1.50 lakh

Question Number : 18 Question Id : 260269618 Display Question Number : Yes Single Line Question Option : No Option Orientation : Vertical

वर्ष 2016-17 के बजट में, हरियाणा सरकार का ध्यान प्रत्येक वर्ष युवाओं को \_\_\_\_\_ नौकरियाँ प्रदान करने पर केन्द्रित था।

Options :

1. ✘ 1.05 लाख

2. ✔ 1.15 लाख

3. ✘ 1.25 लाख

4. ✘ 1.50 लाख

Question Number : 19 Question Id : 260269619 Display Question Number : Yes Single Line Question Option : No Option Orientation : Vertical

Where is the headquarters of the Haryana State Pollution Control Board?

Options :

1. ✔ Panchkula

2. ✘ Hisar

3. ✘ Faridabad

4. ✘ Karnal

Question Number : 19 Question Id : 260269619 Display Question Number : Yes Single Line Question Option : No Option Orientation : Vertical

हरियाणा राज्य प्रदूषण नियंत्रण बोर्ड का मुख्यालय कहाँ है?

Options :

1. ✓ पंचकुला

2. ✗ हिसार

3. ✗ फरीदाबाद

4. ✗ करनाल

Question Number : 20 Question Id : 260269620 Display Question Number : Yes Single Line Question Option : No Option Orientation : Vertical

In which of the following cities of Haryana is the National Institute of Solar Energy located?

Options :

1. ✗ Panipat

2. ✗ Rohtak

3. ✗ Jind

4. ✓ Gurugram

Question Number : 20 Question Id : 260269620 Display Question Number : Yes Single Line Question Option : No Option Orientation : Vertical

हरियाणा के निम्नलिखित में से कौन-से शहर में राष्ट्रीय सौर ऊर्जा संस्थान स्थित है?

Options :

1. ✗ पानीपत

2. ✗ रोहतक

3. ✗ जिंद

4. ✓ गुरुग्राम

Question Number : 21 Question Id : 260269621 Display Question Number : Yes Single Line Question Option : No Option Orientation : Vertical

The authority for handling all grievances regarding noise pollution by industrial units in Haryana has been bestowed on the:

Options :

1. ✓ Regional Officer, Haryana State Pollution Control Board
2. ✗ Superintendent of Police of the concerned district
3. ✗ Sub-divisional Magistrate of the concerned district
4. ✗ District Magistrate of the concerned district

Question Number : 21 Question Id : 260269621 Display Question Number : Yes Single Line Question Option : No Option Orientation : Vertical

हरियाणा में औद्योगिक इकाइयों द्वारा ध्वनि प्रदूषण के संबंध में सभी शिकायतों के निपटान का अधिकार किसे प्रदान किया गया है?

Options :

1. ✓ क्षेत्रीय अधिकारी, हरियाणा राज्य प्रदूषण नियंत्रण बोर्ड
2. ✗ संबंधित ज़िले का पुलिस अधीक्षक
3. ✗ संबंधित ज़िले का उप-विभागीय मजिस्ट्रेट
4. ✗ सम्बंधित ज़िले का ज़िला मजिस्ट्रेट

Question Number : 22 Question Id : 260269622 Display Question Number : Yes Single Line Question Option : No Option Orientation : Vertical

The Chaudhary Devi Lal Herbal Nature Park is situated in which district of Haryana?

Options :

1. ✓ Yamunanagar
2. ✗ Rohtak
3. ✗ Sirsa
4. ✗ Palwal

Question Number : 22 Question Id : 260269622 Display Question Number : Yes Single Line Question Option : No Option Orientation : Vertical

चौधरी देवी लाल हर्बल नेचर पार्क हरियाणा के कौन-से ज़िले में स्थित है?

Options :

1. ✓ यमुनानगर
2. ✗ रोहतक
3. ✗ सिरसा
4. ✗ पलवल

Question Number : 23 Question Id : 260269623 Display Question Number : Yes Single Line Question Option : No Option Orientation : Vertical

Kapal Mochan is an ancient pilgrimage centre in Yamunanagar district of Haryana. It is also known as:

Options :

1. ✗ Surya Mochan
2. ✗ Devi Mochan
3. ✗ Ganesh Mochan
4. ✓ Gopal Mochan

Question Number : 23 Question Id : 260269623 Display Question Number : Yes Single Line Question Option : No Option Orientation : Vertical

कपाल मोचन हरियाणा के यमुनानगर ज़िले में स्थित एक प्राचीन तीर्थ स्थल है। इसे अन्य किस नाम से जाना जाता है?

Options :

1. ✗ सूर्य मोचन
2. ✗ देवी मोचन
3. ✗ गणेश मोचन
4. ✓ गोपाल मोचन

Question Number : 24 Question Id : 260269624 Display Question Number : Yes Single Line Question Option : No Option Orientation : Vertical

Modawala Mandir in Mahendragarh district of Haryana is dedicated to:

Options :

1. ✗ Lord Brahma
2. ✗ Lord Rama

3. ✘ Lord Krishna

4. ✔ Lord Shiva

Question Number : 24 Question Id : 260269624 Display Question Number : Yes Single Line Question Option : No Option Orientation : Vertical

हरियाणा के महेन्द्रगढ़ ज़िले में स्थित मोडावाला मंदिर किसे समर्पित है?

Options :

1. ✘ भगवान ब्रह्मा

2. ✘ भगवान राम

3. ✘ भगवान कृष्ण

4. ✔ भगवान शिव

Question Number : 25 Question Id : 260269625 Display Question Number : Yes Single Line Question Option : No Option Orientation : Vertical

Mandola is a place of tourist attraction in Mahendragarh district. A fair is held here in the memory of Baba Kesria on:

Options :

1. ✔ 1<sup>st</sup> September

2. ✘ 1<sup>st</sup> July

3. ✘ 1<sup>st</sup> April

4. ✘ 1<sup>st</sup> December

Question Number : 25 Question Id : 260269625 Display Question Number : Yes Single Line Question Option : No Option Orientation : Vertical

महेन्द्रगढ़ ज़िले में स्थित मंडोला पर्यटकों के लिए एक आकर्षण स्थल है। यहाँ पर \_\_\_\_\_ को बाबा केसरिया की स्मृति में एक मेला आयोजित किया जाता है।

Options :

1. ✔ 1 सितम्बर

2. ✘ 1 जुलाई

3. ✘ 1 अप्रैल



4. ✘ 1 दिसंबर

Question Number : 26 Question Id : 260269626 Display Question Number : Yes Single Line Question Option : No Option Orientation : Vertical

The first sixteen consonants of Pitman's shorthand forms \_\_\_\_\_ pair/pairs.

Options :

1. ✘ one

2. ✔ two

3. ✘ three

4. ✘ four

Question Number : 26 Question Id : 260269626 Display Question Number : Yes Single Line Question Option : No Option Orientation : Vertical

The first sixteen consonants of Pitman's shorthand forms \_\_\_\_\_ pair/pairs.

Options :

1. ✘ one

2. ✔ two

3. ✘ three

4. ✘ four

Question Number : 27 Question Id : 260269627 Display Question Number : Yes Single Line Question Option : No Option Orientation : Vertical

The nasals of Pitman's shorthand are represented by a \_\_\_\_ curve.

Options :

1. ✔ horizontal

2. ✘ diagonal

3. ✘ perpendicular

4. ✘ vertical

Question Number : 27 Question Id : 260269627 Display Question Number : Yes Single Line Question Option : No Option Orientation : Vertical

The nasals of Pitman's shorthand are represented by a \_\_\_\_\_ curve.

Options :

1.  horizontal
2.  diagonal
3.  perpendicular
4.  vertical

Question Number : 28 Question Id : 260269628 Display Question Number : Yes Single Line Question Option : No Option Orientation : Vertical

Triphones represent \_\_\_\_\_ vowel(s) in one sign.

Options :

1.  one
2.  two
3.  three
4.  four

Question Number : 28 Question Id : 260269628 Display Question Number : Yes Single Line Question Option : No Option Orientation : Vertical

Triphones represent \_\_\_\_\_ vowel(s) in one sign.

Options :

1.  one
2.  two
3.  three
4.  four

Question Number : 29 Question Id : 260269629 Display Question Number : Yes Single Line Question Option : No Option Orientation : Vertical

From the given options, choose the one that represents a large initial circle.

Options :

1.  S

2. ✘ st

3. ✘ str

4. ✔ SW

Question Number : 29 Question Id : 260269629 Display Question Number : Yes Single Line Question Option : No Option Orientation : Vertical

From the given options, choose the one that represents a large initial circle.

Options :

1. ✘ s

2. ✘ st

3. ✘ str

4. ✔ SW

Question Number : 30 Question Id : 260269630 Display Question Number : Yes Single Line Question Option : No Option Orientation : Vertical

The light sound of 'ns' after a curve is expressed by the sign \_\_\_\_.

Options :

1. ✘ ms

2. ✘ fs

3. ✔ ns

4. ✘ ls

Question Number : 30 Question Id : 260269630 Display Question Number : Yes Single Line Question Option : No Option Orientation : Vertical

The light sound of 'ns' after a curve is expressed by the sign \_\_\_\_.

Options :

1. ✘ ms

2. ✘ fs

3. ✔ ns

4. ✘ ls

Question Number : 31 Question Id : 260269631 Display Question Number : Yes Single Line Question Option : No Option Orientation : Vertical

How is the tick 'h' employed in phrasing?

Options :

1. ✘ initially
2. ✔ medially
3. ✘ finally
4. ✘ Cannot predict from the given options

Question Number : 31 Question Id : 260269631 Display Question Number : Yes Single Line Question Option : No Option Orientation : Vertical

How is the tick 'h' employed in phrasing?

Options :

1. ✘ initially
2. ✔ medially
3. ✘ finally
4. ✘ Cannot predict from the given options

Question Number : 32 Question Id : 260269632 Display Question Number : Yes Single Line Question Option : No Option Orientation : Vertical

The stroke \_\_\_\_\_ is used, joined or disjoined, for the prefix Accom as in Accommodation.

Options :

1. ✘ g
2. ✘ n
3. ✘ m
4. ✔ k

Question Number : 32 Question Id : 260269632 Display Question Number : Yes Single Line Question Option : No Option Orientation : Vertical

The stroke \_\_\_\_\_ is used, joined or disjoined, for the prefix Accom as in Accommodation.

Options :

1. ✘ g
2. ✘ n
3. ✘ m
4. ✔ k

Question Number : 33 Question Id : 260269633 Display Question Number : Yes Single Line Question Option : No Option Orientation : Vertical

A small initial hook to 'l' represents: \_\_\_\_.

Options :

1. ✘ wh
2. ✘ w
3. ✔ h
4. ✘ y

Question Number : 33 Question Id : 260269633 Display Question Number : Yes Single Line Question Option : No Option Orientation : Vertical

A small initial hook to 'l' represents: \_\_\_\_.

Options :

1. ✘ wh
2. ✘ w
3. ✔ h
4. ✘ y

Question Number : 34 Question Id : 260269634 Display Question Number : Yes Single Line Question Option : No Option Orientation : Vertical

Identify the option that states, "The Governments in past have drawn many schemes to overcome the problem of unemployment."

Options :

1. ✘ 

2. ✘

3. ✔

4. ✘

Question Number : 34 Question Id : 260269634 Display Question Number : Yes Single Line Question Option : No Option Orientation : Vertical

Identify the option that states, "The Governments in past have drawn many schemes to overcome the problem of unemployment."

Options :

1. ✘

2. ✘

3. ✔

4. ✘

Question Number : 35 Question Id : 260269635 Display Question Number : Yes Single Line Question Option : No Option Orientation : Vertical

Identify the option that states, "As far as payment is concerned, you can send cheque for the half amount in advance"

Options :

1. ✘

2. ✓

3. ✗

4. ✗

Question Number : 35 Question Id : 260269635 Display Question Number : Yes Single Line Question Option : No Option Orientation : Vertical

Identify the option that states, "As far as payment is concerned, you can send cheque for the half amount in advance"

Options :

1. ✗

2. ✓

3. ✗

4. ✗


Question Number : 36 Question Id : 260269636 Display Question Number : Yes Single Line Question Option : No Option Orientation : Vertical

शब्द-चिह्न को पहचानें।

Options :

1. ✓ मुख्तार
2. ✗ मुख्तर
3. ✗ मुख्यतर
4. ✗ मौखिक

Question Number : 36 Question Id : 260269636 Display Question Number : Yes Single Line Question Option : No Option Orientation : Vertical





शब्द-चिह्न  को पहचानें।

Options :

1. ✓ मुख्तार
2. ✗ मुख्तर
3. ✗ मुख्यतर
4. ✗ मौखिक

Question Number : 37 Question Id : 260269637 Display Question Number : Yes Single Line Question Option : No Option Orientation : Vertical

संक्षिप्त शब्द चिह्न 'विपत्ति' को पहचाने?

- A. 
- B. 
- C. 
- D. 

Options :





1. ✗ A
2. ✓ B
3. ✗ C



4. ✘ D

Question Number : 37 Question Id : 260269637 Display Question Number : Yes Single Line Question Option : No Option Orientation : Vertical

संक्षिप्त शब्द चिन्ह 'विपत्ति' को पहचाने?

- A. 
- B. 
- C. 
- D. 

Options :

1. ✘ A





2. ✔ B

3. ✘ C

4. ✘ D

Question Number : 38 Question Id : 260269638 Display Question Number : Yes Single Line Question Option : No Option Orientation : Vertical

पूर्ण नियम के अनुसार 'सम्पन्न' का शब्द-चिह्न चुनें:

- A. 
- B. 
- C. 
- D. 

Options :

1. ✘ A





2. ✓ B

3. ✗ C

4. ✗ D

Question Number : 38 Question Id : 260269638 Display Question Number : Yes Single Line Question Option : No Option Orientation : Vertical

पूर्ण नियम के अनुसार 'सम्पन्न' का शब्द-चिह्न चुनें:

- A. 
- B. 
- C. 
- D. 

Options :

1. ✗ A

2. ✓ B

3. ✗ C

4. ✗ D

Question Number : 39 Question Id : 260269639 Display Question Number : Yes Single Line Question Option : No Option Orientation : Vertical

शब्द में साधारण व्यंजन रेखा को दुगुना करने के नियमानुसार 'दफ्तर' में कौन-सा व्यंजन बड़ा करने पर पूर्ण होगा?

Options :

1. ✗ द

2. ✗ फ

3. ✓ त

4. ✗ र

Question Number : 39 Question Id : 260269639 Display Question Number : Yes Single Line Question Option : No Option Orientation : Vertical

शब्द में साधारण व्यंजन रेखा को दुगुना करने के नियमानुसार 'दफ्तर' में कौन-सा व्यंजन बड़ा करने पर पूर्ण होगा?

Options :

1. ✘ द
2. ✘ फ
3. ✔ त
4. ✘ र

Question Number : 40 Question Id : 260269640 Display Question Number : Yes Single Line Question Option : No Option Orientation : Vertical

शब्दांश  को पहचानें।

Options :

1. ✘ विवाह-पत्र
2. ✔ आवरण-पत्र
3. ✘ विवाद-पत्र
4. ✘ विवरण-पत्र

Question Number : 40 Question Id : 260269640 Display Question Number : Yes Single Line Question Option : No Option Orientation : Vertical


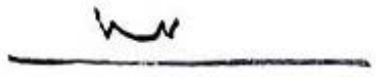


शब्दांश  को पहचानें।

Options :

1. ✘ विवाह-पत्र
2. ✔ आवरण-पत्र
3. ✘ विवाद-पत्र
4. ✘ विवरण-पत्र

Question Number : 41 Question Id : 260269641 Display Question Number : Yes Single Line Question Option : No Option Orientation : Vertical

पूर्ण नियम के अनुसार 'कम्पनी' के लिए शब्द-चिह्न चुनें:

- A. 
- B. 
- C. 
- D. 

Options :

1. ✘ A


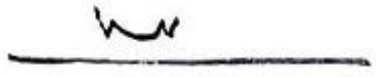


2. ✔ B

3. ✘ C

4. ✘ D

Question Number : 41 Question Id : 260269641 Display Question Number : Yes Single Line Question Option : No Option Orientation : Vertical

पूर्ण नियम के अनुसार 'कम्पनी' के लिए शब्द-चिह्न चुनें:

- A. 
- B. 
- C. 
- D. 

Options :

1. ✘ A

2. ✔ B

3. ✘ C

4. ✘ D

Question Number : 42 Question Id : 260269642 Display Question Number : Yes Single Line Question Option : No Option Orientation : Vertical

'परन्तु साथ ही यह भी कहा जा सकता है' वाक्यांश को निम्न में से पहचानें:

A.

B.

C.

D.

Options :

1. ✘ A

2. ✘ B

3. ✔ C

4. ✘ D

Question Number : 42 Question Id : 260269642 Display Question Number : Yes Single Line Question Option : No Option Orientation : Vertical

'परन्तु साथ ही यह भी कहा जा सकता है' वाक्यांश को निम्न में से पहचानें:

A.

B.

C.

D.

Options :

1. ✘ A

2. ✘ B

3. ✔ C

4. ✘ D

Question Number : 43 Question Id : 260269643 Display Question Number : Yes Single Line Question Option : No Option Orientation : Vertical

पूर्ण नियमानुसार \_\_\_\_\_ (जन संख्यक) का दूसरा प्रारूप बताएँ:

A. \_\_\_\_\_

B. \_\_\_\_\_

C. \_\_\_\_\_

D. \_\_\_\_\_

Options :

1. ✘ A

2. ✔ B

3. ✘ C

4. ✘ D

Question Number : 43 Question Id : 260269643 Display Question Number : Yes Single Line Question Option : No Option Orientation : Vertical

पूर्ण नियमानुसार \_\_\_\_\_ (जन संख्यक) का दूसरा प्रारूप बताएँ:

A. \_\_\_\_\_

B. \_\_\_\_\_

C. \_\_\_\_\_

D. \_\_\_\_\_

Options :

1. ✘ A

2. ✔ B

3. ✘ C

4. ✘ D

Question Number : 44 Question Id : 260269644 Display Question Number : Yes Single Line Question Option : No Option Orientation : Vertical

क्रिया के अंत में 'चाहता/ चाहती/ चाहते' आये तो क्रिया में किस चीज का प्रयोग करना चाहिए?

Options :

1. ✘ अर्ध-वृत्त चाप लगाकर बाहर निकाल देना चाहिए
2. ✔ दीर्घ चाप लगाना चाहिए
3. ✘ मध्यम चाप लगाना चाहिए
4. ✘ पूर्ण चाप लगाना चाहिए

Question Number : 44 Question Id : 260269644 Display Question Number : Yes Single Line Question Option : No Option Orientation : Vertical

क्रिया के अंत में 'चाहता/ चाहती/ चाहते' आये तो क्रिया में किस चीज का प्रयोग करना चाहिए?

Options :

1. ✘ अर्ध-वृत्त चाप लगाकर बाहर निकाल देना चाहिए
2. ✔ दीर्घ चाप लगाना चाहिए
3. ✘ मध्यम चाप लगाना चाहिए
4. ✘ पूर्ण चाप लगाना चाहिए

Question Number : 45 Question Id : 260269645 Display Question Number : Yes Single Line Question Option : No Option Orientation : Vertical

संक्षिप्त वाक्यांश एव को पहचानें।

Options :

1. ✘ होने या न होने से
2. ✘ होने से
3. ✔ होना व न होना
4. ✘ होना या नहीं होना

Question Number : 45 Question Id : 260269645 Display Question Number : Yes Single Line Question Option : No Option Orientation : Vertical

संक्षिप्त वाक्यांश से को पहचानें।

Options :

1. ✘ होने या न होने से
2. ✘ होने से
3. ✔ होना व न होना
4. ✘ होना या नहीं होना

Question Number : 46 Question Id : 260269646 Display Question Number : Yes Single Line Question Option : No Option Orientation : Vertical

Select the appropriate option and fill in the blank.

Is there \_\_\_\_\_ rice for them all?

Options :

1. ✘ much of
2. ✘ a few of
3. ✘ few
4. ✔ enough

Question Number : 46 Question Id : 260269646 Display Question Number : Yes Single Line Question Option : No Option Orientation : Vertical

Select the appropriate option and fill in the blank.

Is there \_\_\_\_\_ rice for them all?

Options :

1. ✘ much of
2. ✘ a few of
3. ✘ few



4. ✓ enough

Question Number : 47 Question Id : 260269647 Display Question Number : Yes Single Line Question Option : No Option Orientation : Vertical

Select the appropriate option and fill in the blank.

This road is \_\_\_\_\_ than any other road in the town.

Options :

1. ✓ worse

2. ✗ roughest

3. ✗ worst

4. ✗ most uneven

Question Number : 47 Question Id : 260269647 Display Question Number : Yes Single Line Question Option : No Option Orientation : Vertical

Select the appropriate option and fill in the blank.

This road is \_\_\_\_\_ than any other road in the town.

Options :

1. ✓ worse

2. ✗ roughest

3. ✗ worst

4. ✗ most uneven

Question Number : 48 Question Id : 260269648 Display Question Number : Yes Single Line Question Option : No Option Orientation : Vertical

Select the appropriate option and fill in the blank.

I love my \_\_\_\_\_ bowl. I eat my cereal in it.

Options :

1. ✗ white big ceramic

2. ✓ big white ceramic

3. ✗ white ceramic big

4. ✘ ceramic big white

Question Number : 48 Question Id : 260269648 Display Question Number : Yes Single Line Question Option : No Option Orientation : Vertical

Select the appropriate option and fill in the blank.

I love my \_\_\_\_\_ bowl. I eat my cereal in it.

Options :

1. ✘ white big ceramic

2. ✔ big white ceramic

3. ✘ white ceramic big

4. ✘ ceramic big white

Question Number : 49 Question Id : 260269649 Display Question Number : Yes Single Line Question Option : No Option Orientation : Vertical

Select the appropriate option and fill in the blank.

The man said he had seen the robbers \_\_\_\_\_ into the house.

Options :

1. ✘ gone

2. ✘ are going

3. ✔ go

4. ✘ goes

Question Number : 49 Question Id : 260269649 Display Question Number : Yes Single Line Question Option : No Option Orientation : Vertical

Select the appropriate option and fill in the blank.

The man said he had seen the robbers \_\_\_\_\_ into the house.

Options :

1. ✘ gone

2. ✘ are going

3. ✓ go

4. ✗ goes

Question Number : 50 Question Id : 260269650 Display Question Number : Yes Single Line Question Option : No Option Orientation : Vertical

Select the appropriate option and fill in the blank.

I am sorry to say that most of the information \_\_\_\_\_ inaccurate.

Options :

1. ✗ are

2. ✗ were

3. ✗ be

4. ✓ was

Question Number : 50 Question Id : 260269650 Display Question Number : Yes Single Line Question Option : No Option Orientation : Vertical

Select the appropriate option and fill in the blank.

I am sorry to say that most of the information \_\_\_\_\_ inaccurate.

Options :

1. ✗ are

2. ✗ were

3. ✗ be

4. ✓ was

Question Number : 51 Question Id : 260269651 Display Question Number : Yes Single Line Question Option : No Option Orientation : Vertical

Select the appropriate option and fill in the blank.

I told him \_\_\_\_\_ about what had happened.

Options :

1. ✗ didn't worry

2. ✓ not to worry

3. ✘ not worrying

4. ✘ does not worry

Question Number : 51 Question Id : 260269651 Display Question Number : Yes Single Line Question Option : No Option Orientation : Vertical

Select the appropriate option and fill in the blank.

I told him \_\_\_\_\_ about what had happened.

Options :

1. ✘ didn't worry

2. ✔ not to worry

3. ✘ not worrying

4. ✘ does not worry

Question Number : 52 Question Id : 260269652 Display Question Number : Yes Single Line Question Option : No Option Orientation : Vertical

Select the appropriate antonym of the given word from the options below.

**Industrious**

Options :

1. ✘ busy

2. ✘ austere

3. ✔ lazy

4. ✘ intolerant

Question Number : 52 Question Id : 260269652 Display Question Number : Yes Single Line Question Option : No Option Orientation : Vertical

Select the appropriate antonym of the given word from the options below.

**Industrious**

Options :

1. ✘ busy

2. ✘ austere

3. ✔ lazy

4. ✘ intolerant

Question Number : 53 Question Id : 260269653 Display Question Number : Yes Single Line Question Option : No Option Orientation : Vertical

Select the appropriate antonym of the given word from the options below.

### AMPLIFY

Options :

1. ✔ reduce

2. ✘ intensify

3. ✘ disperse

4. ✘ strengthen

Question Number : 53 Question Id : 260269653 Display Question Number : Yes Single Line Question Option : No Option Orientation : Vertical

Select the appropriate antonym of the given word from the options below.

### AMPLIFY

Options :

1. ✔ reduce

2. ✘ intensify

3. ✘ disperse

4. ✘ strengthen

Question Number : 54 Question Id : 260269654 Display Question Number : Yes Single Line Question Option : No Option Orientation : Vertical

Select the appropriate antonym of the given word from the options below.

### DECENT

Options :

1. ✘ ridiculous

2. ✘ extravagant

3. ✔ vulgar

4. ✘ ordinary

Question Number : 54 Question Id : 260269654 Display Question Number : Yes Single Line Question Option : No Option Orientation : Vertical

Select the appropriate antonym of the given word from the options below.

**DECENT**

Options :

1. ✘ ridiculous

2. ✘ extravagant

3. ✔ vulgar

4. ✘ ordinary

Question Number : 55 Question Id : 260269655 Display Question Number : Yes Single Line Question Option : No Option Orientation : Vertical

Select the option that best expresses the meaning of the underlined idiom in the given sentence.  
She stood by him through thick and thin.

Options :

1. ✘ during problems

2. ✔ in all circumstances

3. ✘ without offence

4. ✘ on intimate terms

Question Number : 55 Question Id : 260269655 Display Question Number : Yes Single Line Question Option : No Option Orientation : Vertical

Select the option that best expresses the meaning of the underlined idiom in the given sentence.  
She stood by him through thick and thin.

Options :

1. ✘ during problems

2. ✓ in all circumstances

3. ✗ without offence

4. ✗ on intimate terms

Question Number : 56 Question Id : 260269656 Display Question Number : Yes Single Line Question Option : No Option Orientation : Vertical

‘अत्युत्तम’ कीन दो शब्दों से बना है?

Options :

1. ✗ अत्य + उत्तम

2. ✓ अति + उत्तम

3. ✗ अत्यु + त्तम

4. ✗ अत्यू + त्तम

Question Number : 56 Question Id : 260269656 Display Question Number : Yes Single Line Question Option : No Option Orientation : Vertical

‘अत्युत्तम’ कीन दो शब्दों से बना है?

Options :

1. ✗ अत्य + उत्तम

2. ✓ अति + उत्तम

3. ✗ अत्यु + त्तम

4. ✗ अत्यू + त्तम

Question Number : 57 Question Id : 260269657 Display Question Number : Yes Single Line Question Option : No Option Orientation : Vertical

‘पंजाब’ शब्द में समास है:

Options :

1. ✗ अव्ययीभाव

2. ✘ तत्पुरुष

3. ✔ द्विगु

4. ✘ बहुब्रीहि

Question Number : 57 Question Id : 260269657 Display Question Number : Yes Single Line Question Option : No Option Orientation : Vertical

‘पंजाब’ शब्द में समास है:

Options :

1. ✘ अव्ययीभाव

2. ✘ तत्पुरुष

3. ✔ द्विगु

4. ✘ बहुब्रीहि

Question Number : 58 Question Id : 260269658 Display Question Number : Yes Single Line Question Option : No Option Orientation : Vertical

‘जो सहन न किया जा सके’ इस रस वाक्यांश के लिए सही शब्द है:

Options :

1. ✘ सहनशील

2. ✘ सह्य

3. ✘ सहभाव

4. ✔ असह्य

Question Number : 58 Question Id : 260269658 Display Question Number : Yes Single Line Question Option : No Option Orientation : Vertical

‘जो सहन न किया जा सके’ इस रस वाक्यांश के लिए सही शब्द है:

Options :

1. ✘ सहनशील

2. ✘ सह्य



3. ✘ सहभाव

4. ✔ असह्य

Question Number : 59 Question Id : 260269659 Display Question Number : Yes Single Line Question Option : No Option Orientation : Vertical

'सोना' शब्द का पर्याय नहीं है:

Options :

1. ✔ सवर्ण

2. ✘ सुवर्ण

3. ✘ स्वर्ण

4. ✘ हेम

Question Number : 59 Question Id : 260269659 Display Question Number : Yes Single Line Question Option : No Option Orientation : Vertical

'सोना' शब्द का पर्याय नहीं है:

Options :

1. ✔ सवर्ण

2. ✘ सुवर्ण

3. ✘ स्वर्ण

4. ✘ हेम

Question Number : 60 Question Id : 260269660 Display Question Number : Yes Single Line Question Option : No Option Orientation : Vertical

निम्नलिखित में से कौन-से शब्द की वर्तनी अशुद्ध है?

Options :

1. ✘ उल्लिखित

2. ✘ उद्गम

3. ✘ प्रज्वलित

4. ✓ उज्वल

Question Number : 60 Question Id : 260269660 Display Question Number : Yes Single Line Question Option : No Option Orientation : Vertical

निम्नलिखित में से कौन-से शब्द की वर्तनी अशुद्ध है?

Options :

1. ✗ उल्लिखित

2. ✗ उद्गम

3. ✗ प्रज्वलित

4. ✓ उज्वल

Question Number : 61 Question Id : 260269661 Display Question Number : Yes Single Line Question Option : No Option Orientation : Vertical

'निंदा' शब्द का विलोम होता है:

Options :

1. ✗ निंद्य

2. ✗ अनिंद्य

3. ✓ स्तुति

4. ✗ प्रस्तुति

Question Number : 61 Question Id : 260269661 Display Question Number : Yes Single Line Question Option : No Option Orientation : Vertical

'निंदा' शब्द का विलोम होता है:

Options :

1. ✗ निंद्य

2. ✗ अनिंद्य

3. ✓ स्तुति

4. ✘ प्रस्तुति

Question Number : 62 Question Id : 260269662 Display Question Number : Yes Single Line Question Option : No Option Orientation : Vertical

निम्नलिखित में से कौन-सा शब्द तत्सम है?

Options :

1. ✘ सात
2. ✘ सच
3. ✘ शक्कर
4. ✔ विवाह

Question Number : 62 Question Id : 260269662 Display Question Number : Yes Single Line Question Option : No Option Orientation : Vertical

निम्नलिखित में से कौन-सा शब्द तत्सम है?

Options :

1. ✘ सात
2. ✘ सच
3. ✘ शक्कर
4. ✔ विवाह

Question Number : 63 Question Id : 260269663 Display Question Number : Yes Single Line Question Option : No Option Orientation : Vertical

'नाराज होना' के लिए कौन-सा मुहावरा है?

Options :

1. ✘ मुँह पर हवाइयाँ उड़ना
2. ✔ मुँह फुलाना
3. ✘ मुँह की खाना
4. ✘ मुँह ताकना

Question Number : 63 Question Id : 260269663 Display Question Number : Yes Single Line Question Option : No Option Orientation : Vertical

‘नाराज होना’ के लिए कौन-सा मुहावरा है?

Options :

1. ✘ मुँह पर हवाइयाँ उड़ना
2. ✔ मुँह फुलाना
3. ✘ मुँह की खाना
4. ✘ मुँह ताकना

Question Number : 64 Question Id : 260269664 Display Question Number : Yes Single Line Question Option : No Option Orientation : Vertical

निम्नलिखित में से कौन-सा शब्द ‘तद्भव’ है?

Options :

1. ✘ कर्ण
2. ✘ पक्षी
3. ✘ हस्त
4. ✔ होठ

Question Number : 64 Question Id : 260269664 Display Question Number : Yes Single Line Question Option : No Option Orientation : Vertical

निम्नलिखित में से कौन-सा शब्द ‘तद्भव’ है?

Options :

1. ✘ कर्ण
2. ✘ पक्षी
3. ✘ हस्त
4. ✔ होठ

Question Number : 65 Question Id : 260269665 Display Question Number : Yes Single Line Question Option : No Option Orientation : Vertical

'वंश' शब्द का अर्थ नहीं होता:

Options :

1. ✘ कुल
2. ✘ बाँस
3. ✔ बस में करना
4. ✘ जाति

Question Number : 65 Question Id : 260269665 Display Question Number : Yes Single Line Question Option : No Option Orientation : Vertical

'वंश' शब्द का अर्थ नहीं होता:

Options :

1. ✘ कुल
2. ✘ बाँस
3. ✔ बस में करना
4. ✘ जाति

Question Number : 66 Question Id : 260269666 Display Question Number : Yes Single Line Question Option : No Option Orientation : Vertical

If 'r' is the remainder when each of 7654, 8506 and 9997 is divided by the greatest number  $d$  ( $d > 1$ ), then the value of  $(d - r)$  is:

Options :

1. ✘ 28
2. ✘ 24
3. ✘ 18
4. ✔ 14

Question Number : 66 Question Id : 260269666 Display Question Number : Yes Single Line Question Option : No Option Orientation : Vertical

यदि 7654, 8506 और 9997 में से प्रत्येक को सबसे बड़ी संख्या  $d$  ( $d > 1$ ) से विभाजित किए जाने पर 'r' शेष बचता है, तो  $(d - r)$  का मूल्य होगा:

Options :

1. ✘ 28
2. ✘ 24
3. ✘ 18
4. ✔ 14

Question Number : 67 Question Id : 260269667 Display Question Number : Yes Single Line Question Option : No Option Orientation : Vertical

A's expenses are 30% more than B's expenses, and B's expenses are 10% less than C's expenses. If the sum of their expenses is ₹ 64,470, then the difference between the expenses of A and C is:

Options :

1. ✘ ₹ 2,100
2. ✔ ₹ 3,570
3. ✘ ₹ 4,780
4. ✘ ₹ 5,670

Question Number : 67 Question Id : 260269667 Display Question Number : Yes Single Line Question Option : No Option Orientation : Vertical

A का खर्च B के खर्च से 30% अधिक है, और B का खर्च C के खर्च से 10% कम है। यदि इनके खर्चों का योग ₹ 64,470 हो, तो A और C के खर्चों के बीच का अंतर होगा:

Options :

1. ✘ ₹ 2,100
2. ✔ ₹ 3,570
3. ✘ ₹ 4,780
4. ✘ ₹ 5,670

Question Number : 68 Question Id : 260269668 Display Question Number : Yes Single Line Question Option : No Option Orientation : Vertical

When 15 is included in a list of natural numbers, the average of the updated list increases by 2. When 1 is included in the updated list, the average of the updated list decreases by 1. How many numbers are there in the original list?

Options :

1. ✘ 8

2. ✘ 7

3. ✘ 6

4. ✔ 4

Question Number : 68 Question Id : 260269668 Display Question Number : Yes Single Line Question Option : No Option  
Orientation : Vertical

जब 15 को प्राकृतिक संख्याओं की एक सूची में शामिल किया जाता है, तो नई सूची का औसत 2 बढ़ जाता है। जब इस नई सूची में 1 को शामिल किया जाता है, तो नई सूची का औसत 1 घट जाता है। मूल सूची में कितनी संख्याएँ हैं?

Options :

1. ✘ 8

2. ✘ 7

3. ✘ 6

4. ✔ 4

Question Number : 69 Question Id : 260269669 Display Question Number : Yes Single Line Question Option : No Option  
Orientation : Vertical

A sum of ₹ 21,000 is lent out at 10% per annum, interest compounded annually. What is the difference between the compound interest for the 2<sup>nd</sup> year and the 4<sup>th</sup> year?

Options :

1. ✘ ₹ 254

2. ✘ ₹ 441

3. ✔ ₹ 485.10

4. ✘ ₹ 533.50

Question Number : 69 Question Id : 260269669 Display Question Number : Yes Single Line Question Option : No Option  
Orientation : Vertical

₹ 21,000 की राशि को 10% वार्षिक दर पर उधार दिया जाता है, और चक्रवृद्धि ब्याज वार्षिक नियोजित है। दूसरे वर्ष और चौथे वर्ष के चक्रवृद्धि ब्याज के बीच कितना अंतर होगा?

Options :

1. ✘ ₹ 254

2. ✘ ₹ 441

3. ✔ ₹ 485.10

4. ✘ ₹ 533.50

Question Number : 70 Question Id : 260269670 Display Question Number : Yes Single Line Question Option : No Option Orientation : Vertical

A person sells an article at ₹ 2,835 after giving a discount of 19% on its marked price. Had he not given the discount, he would have earned a profit of 40% on the cost price. What is the cost price of the article?

Options :

1. ✔ ₹ 2,500

2. ✘ ₹ 2,060

3. ✘ ₹ 2,076

4. ✘ ₹ 2,200

Question Number : 70 Question Id : 260269670 Display Question Number : Yes Single Line Question Option : No Option Orientation : Vertical

एक व्यक्ति किसी वस्तु के अंकित मूल्य पर 19% की छूट देने के बाद इसे ₹ 2,835 में बेचता है। यदि उसने छूट नहीं दी होती, तो उसे लागत मूल्य पर 40% का लाभ प्राप्त होता। वस्तु का लागत मूल्य क्या है?

Options :

1. ✔ ₹ 2,500

2. ✘ ₹ 2,060

3. ✘ ₹ 2,076

4. ✘ ₹ 2,200

Question Number : 71 Question Id : 260269671 Display Question Number : Yes Single Line Question Option : No Option Orientation : Vertical

A and B together can complete a task in 12 days whereas B and C together can complete it in 15 days. If A's efficiency is twice that of C, then the number of days required for B alone to finish the same work is:

Options :

1. ✘ 15 days

2. ✔ 20 days



3. ✘ 30 days

4. ✘ 45 days

Question Number : 71 Question Id : 260269671 Display Question Number : Yes Single Line Question Option : No Option Orientation : Vertical

A और B मिलकर एक काम को 12 दिनों में कर सकते हैं, जबकि B और C मिलकर उसी काम को 15 दिनों में कर सकते हैं। यदि A की क्षमता C की क्षमता से दुगुनी हो, तो B को वही काम अकेले पूरा करने के लिए कितने दिन लगेंगे?

Options :

1. ✘ 15 दिन

2. ✔ 20 दिन

3. ✘ 30 दिन

4. ✘ 45 दिन

Question Number : 72 Question Id : 260269672 Display Question Number : Yes Single Line Question Option : No Option Orientation : Vertical

A sum of ₹ 6,270 is divided among A, B and C such that the ratio of the share of A to the combined share of B and C is 3 : 7 and the ratio of B's share to the combined share of other two is 2 : 9. What is the share of C?

Options :

1. ✘ ₹ 1,140

2. ✘ ₹ 1,881

3. ✔ ₹ 3,249

4. ✘ ₹ 3,429

Question Number : 72 Question Id : 260269672 Display Question Number : Yes Single Line Question Option : No Option Orientation : Vertical

₹ 6,270 की राशि को A, B और C में इस प्रकार विभाजित किया जाता है कि A के हिस्से का B और C के संयुक्त हिस्से से अनुपात 3 : 7 है और B के हिस्से का अन्य दोनों के संयुक्त हिस्से से अनुपात 2 : 9 है। C का हिस्सा कितना है?

Options :

1. ✘ ₹ 1,140

2. ✘ ₹ 1,881

3. ✓ ₹ 3,249

4. ✘ ₹ 3,429

Question Number : 73 Question Id : 260269673 Display Question Number : Yes Single Line Question Option : No Option Orientation : Vertical

An aeroplane takes off 30 minutes later than its scheduled time, and in order to reach a destination 1,500 km away, it had to increase its speed by 250 km/h from its usual speed. How much time (in hours) will it take to cover a distance of 2,250 km with its usual speed?

Options :

1. ✘ 4 hours

2. ✘  $3\frac{1}{2}$  hours

3. ✓ 3 hours

4. ✘  $2\frac{1}{2}$  hours

Question Number : 73 Question Id : 260269673 Display Question Number : Yes Single Line Question Option : No Option Orientation : Vertical

एक हवाई जहाज अपने निर्धारित समय से 30 मिनट बाद उड़ान भरता है और 1,500 किमी दूर स्थित गंतव्य पर पहुँचने के लिए अपनी गति को सामान्य गति से 250 किमी/घंटा बढ़ाता है। अपनी सामान्य गति से 2,250 किमी की दूरी तय करने के लिए यह कितना समय (घंटों में) लेगा?

Options :

1. ✘ 4 घंटे

2. ✘  $3\frac{1}{2}$  घंटे

3. ✓ 3 घंटे

4. ✘  $2\frac{1}{2}$  घंटे

Question Number : 74 Question Id : 260269674 Display Question Number : Yes Single Line Question Option : No Option Orientation : Vertical

A pot contains acid and water in the ratio 4 : 1 and the total quantity of the solution is 20 litres. How much solution should be taken out of it and same quantity of water added so that the ratio of acid and water in the resulting solution becomes 3 : 2?

Options :

1. ✘ 6 litres

2. ✓ 5 litres

3. ✗  $5\frac{1}{2}$  litres

4. ✗  $4\frac{1}{2}$  litres

Question Number : 74 Question Id : 260269674 Display Question Number : Yes Single Line Question Option : No Option Orientation : Vertical

एक बर्तन में 4 : 1 के अनुपात में एसिड और पानी है, और घोल की कुल मात्रा 20 लीटर है। इसमें से घोल की कितनी मात्रा निकाल कर उतनी ही मात्रा में पानी मिलाया जाए कि नए घोल में एसिड और पानी का अनुपात 3 : 2 हो जाए?

Options :

1. ✗ 6 लीटर

2. ✓ 5 लीटर

3. ✗  $5\frac{1}{2}$  लीटर

4. ✗  $4\frac{1}{2}$  लीटर

Question Number : 75 Question Id : 260269675 Display Question Number : Yes Single Line Question Option : No Option Orientation : Vertical

If one root of the equation  $(a - b)x^2 + ax + 1 = 0$  is double the other, where a and b are real numbers such that  $a \neq b$ , then:

Options :

1. ✗  $2b^2 = 9(a - b)$

2. ✗  $2a^2 = 9(a + b)$

3. ✗  $2b^2 = 9(a + b)$

4. ✓  $2a^2 = 9(a - b)$

Question Number : 75 Question Id : 260269675 Display Question Number : Yes Single Line Question Option : No Option Orientation : Vertical

यदि समीकरण  $(a - b)x^2 + ax + 1 = 0$  का एक मूल दूसरे से दोगुना है, और a तथा b ऐसी वास्तविक संख्याएँ हैं कि  $a \neq b$ , तो:

Options :

1. ✘  $2b^2 = 9(a - b)$

2. ✘  $2a^2 = 9(a + b)$

3. ✘  $2b^2 = 9(a + b)$

4. ✔  $2a^2 = 9(a - b)$

Question Number : 76 Question Id : 260269676 Display Question Number : Yes Single Line Question Option : No Option Orientation : Vertical

An object is suspended in air by a spring balance. The reading of the balance is 8.0 N. When the object is submerged in water, the scale reads 3.0 N. The density of the object is:

Options :

1. ✘  $1.0 \times 10^3 \text{ kg m}^{-3}$

2. ✔  $1.6 \times 10^3 \text{ kg m}^{-3}$

3. ✘  $2.4 \times 10^3 \text{ kg m}^{-3}$

4. ✘  $3.0 \times 10^3 \text{ kg m}^{-3}$

Question Number : 76 Question Id : 260269676 Display Question Number : Yes Single Line Question Option : No Option Orientation : Vertical

किसी वस्तु को एक स्प्रिंग बैलेंस द्वारा हवा में लटकाया गया है। बैलेंस की रीडिंग 8.0 N है। जब उसी वस्तु को पानी में डुबाया जाता है तो रीडिंग 3.0 N हो जाती है। वस्तु का घनत्व है:

Options :

1. ✘  $1.0 \times 10^3 \text{ kg m}^{-3}$

2. ✔  $1.6 \times 10^3 \text{ kg m}^{-3}$

3. ✘  $2.4 \times 10^3 \text{ kg m}^{-3}$

4. ✘  $3.0 \times 10^3 \text{ kg m}^{-3}$

Question Number : 77 Question Id : 260269677 Display Question Number : Yes Single Line Question Option : No Option Orientation : Vertical

An object is thrown vertically down with a velocity of 3.0 m/s. The distance travelled by it in the fifth second is: (take  $g = 10 \text{ m/s}^2$ ):

Options :

1. ✘ 12 m
2. ✘ 24 m
3. ✘ 36 m
4. ✔ 48 m

Question Number : 77 Question Id : 260269677 Display Question Number : Yes Single Line Question Option : No Option Orientation : Vertical

किसी वस्तु को 3 मी/से के वेग से ऊर्ध्वाधर नीचे फेंका जाता है। पाँचवें सेकेंड में इसके द्वारा तय की गई दूरी होगी: (मान लें  $g = 10 \text{ मी/से}^2$ ):

Options :

1. ✘ 12 मी
2. ✘ 24 मी
3. ✘ 36 मी
4. ✔ 48 मी

Question Number : 78 Question Id : 260269678 Display Question Number : Yes Single Line Question Option : No Option Orientation : Vertical

An object is placed at a distance of 7.5 cm on the principal axis of a concave mirror of focal length 15 cm. The image formed by the mirror is:

Options :

1. ✘ Virtual and diminished
2. ✔ Virtual and enlarged
3. ✘ Real and diminished
4. ✘ Real and enlarged

Question Number : 78 Question Id : 260269678 Display Question Number : Yes Single Line Question Option : No Option Orientation : Vertical

किसी वस्तु को 15 सेमी फोकल दूरी के एक अवतल दर्पण के मुख्य अक्ष पर 7.5 सेमी की दूरी पर रखा गया है। दर्पण द्वारा बनाई गई छवि होगी:

Options :

1. ✘ आभासी और छोटी
2. ✔ आभासी और बड़ी
3. ✘ वास्तविक और छोटी
4. ✘ वास्तविक और बड़ी

Question Number : 79 Question Id : 260269679 Display Question Number : Yes Single Line Question Option : No Option Orientation : Vertical

A ray of light of wavelength 650 nm (in air) passes from air into a medium where its wavelength becomes 390 nm. The refractive index of the medium is about:

Options :

1. ✘ 1.24
2. ✘ 1.46
3. ✔ 1.67
4. ✘ 1.8

Question Number : 79 Question Id : 260269679 Display Question Number : Yes Single Line Question Option : No Option Orientation : Vertical

650 nm तरंगदैर्घ्य (हवा में) की एक प्रकाश किरण हवा से एक ऐसे माध्यम में जाती है जिसमें इसका तरंगदैर्घ्य 390 nm हो जाता है। माध्यम का अपवर्तनांक लगभग कितना होगा?

Options :

1. ✘ 1.24
2. ✘ 1.46
3. ✔ 1.67
4. ✘ 1.8

Question Number : 80 Question Id : 260269680 Display Question Number : Yes Single Line Question Option : No Option Orientation : Vertical

An object, 1.0 cm in size is placed in front of a concave mirror of focal length 12cm. The size of the image formed is 1.5 cm and it is inverted. The distance of the object from the mirror is:

Options :

1. ✘ 10.5 cm
2. ✔ 20.0 cm
3. ✘ 24.0 cm
4. ✘ 30.0 cm

Question Number : 80 Question Id : 260269680 Display Question Number : Yes Single Line Question Option : No Option Orientation : Vertical

1.0 सेमी आकार वाली किसी वस्तु को 12 सेमी की फोकल दूरी वाले अवतल दर्पण के सामने रखा गया है। दर्पण द्वारा बनाई गई छवि का आकार 1.5 सेमी है और यह उलटी है। दर्पण से वस्तु की दूरी है:

Options :

1. ✘ 10.5 सेमी
2. ✔ 20.0 सेमी
3. ✘ 24.0 सेमी
4. ✘ 30.0 सेमी

Question Number : 81 Question Id : 260269681 Display Question Number : Yes Single Line Question Option : No Option Orientation : Vertical

Which one of the following elements has the outermost shell electronic configuration similar to that of sulphur?

Options :

1. ✘ Phosphorous
2. ✘ Silicon
3. ✔ Oxygen
4. ✘ Chlorine

Question Number : 81 Question Id : 260269681 Display Question Number : Yes Single Line Question Option : No Option Orientation : Vertical

निम्नलिखित तत्वों में से किसके बाह्यतम कोश का इलेक्ट्रॉनिक विन्यास सल्फर के समान होता है?

Options :

1. ✘ फॉस्फोरस

2. ✘ सिलिकन
3. ✔ ऑक्सीजन
4. ✘ क्लोरीन

Question Number : 82 Question Id : 260269682 Display Question Number : Yes Single Line Question Option : No Option Orientation : Vertical

What is the IUPAC name of acetylene?

Options :

1. ✘ Propene
2. ✘ Ethene
3. ✔ Ethyne
4. ✘ Butyne

Question Number : 82 Question Id : 260269682 Display Question Number : Yes Single Line Question Option : No Option Orientation : Vertical

एसीटिलीन का आई.यू.पी.ए.सी. नाम क्या है?

Options :

1. ✘ प्रोपीन
2. ✘ इथीन
3. ✔ इथाइन
4. ✘ ब्यूटाइन

Question Number : 83 Question Id : 260269683 Display Question Number : Yes Single Line Question Option : No Option Orientation : Vertical

Which one of the following represents the mass of one mole of methane molecules?

Options :

1. ✘ 1.6 gram
2. ✔ 16 gram



3. ✘ 32 gram

4. ✘ 3.2 gram

Question Number : 83 Question Id : 260269683 Display Question Number : Yes Single Line Question Option : No Option Orientation : Vertical

निम्न में से कौन सा विकल्प मिथेन अणुओं के एक मोल का द्रव्यमान दर्शाता है?

Options :

1. ✘ 1.6 ग्राम

2. ✔ 16 ग्राम

3. ✘ 32 ग्राम

4. ✘ 3.2 ग्राम

Question Number : 84 Question Id : 260269684 Display Question Number : Yes Single Line Question Option : No Option Orientation : Vertical

Which element among the following has the least tendency to form cation?

Options :

1. ✘ Aluminium

2. ✔ Carbon

3. ✘ Sodium

4. ✘ Zinc

Question Number : 84 Question Id : 260269684 Display Question Number : Yes Single Line Question Option : No Option Orientation : Vertical

निम्नलिखित में से किस तत्व में धनायन बनाने की प्रवृत्ति न्यूनतम होती है?

Options :

1. ✘ एल्युमिनियम

2. ✔ कार्बन

3. ✘ सोडियम

4. ✘ जिंक

Question Number : 85 Question Id : 260269685 Display Question Number : Yes Single Line Question Option : No Option Orientation : Vertical

The reaction between an ester and NaOH to produce sodium salt of carboxylic acid and alcohol is called:

Options :

1. ✘ Esterification
2. ✔ Saponification
3. ✘ Wurtz's reaction
4. ✘ Aldol condensation

Question Number : 85 Question Id : 260269685 Display Question Number : Yes Single Line Question Option : No Option Orientation : Vertical

कार्बोक्सिलिक अम्ल का सोडियम लवण तथा एल्कोहल उत्पादित करने के लिए एस्टर और NaOH के बीच होने वाली अभिक्रिया कहलाती है:

Options :

1. ✘ एस्टरीकरण (एस्टरीफिकेशन)
2. ✔ साबुनीकरण (सैपोनिफिकेशन)
3. ✘ वुर्ट्ज अभिक्रिया (वुर्ट्ज रिएक्शन)
4. ✘ एल्डोल संघनन (एल्डोल कंडेंसेशन)

Question Number : 86 Question Id : 260269686 Display Question Number : Yes Single Line Question Option : No Option Orientation : Vertical

Which of the following Indian artists has won Padma Vibhushan, Padma Bhushan as well as Padma Shree?

Options :

1. ✘ Allauddin Khan
2. ✘ Birju Maharaj
3. ✘ Uday Shankar
4. ✔ K. G. Subramanyan

Question Number : 86 Question Id : 260269686 Display Question Number : Yes Single Line Question Option : No Option Orientation : Vertical

निम्न में से किस कलाकार ने पद्म श्री के साथ ही पद्म विभूषण और पद्म भूषण पुरस्कार भी जीते हैं?

Options :

1. ✘ अलाउद्दीन खान
2. ✘ बिरजू महाराज
3. ✘ उदय शंकर
4. ✔ के. जी. सुब्रमण्यन

Question Number : 87 Question Id : 260269687 Display Question Number : Yes Single Line Question Option : No Option Orientation : Vertical

Who founded the Arya Samaj in 1875, an organisation that attempted to reform Hinduism?

Options :

1. ✔ Swami Dayanand Saraswati
2. ✘ Ramakrishna Paramahansa
3. ✘ Raja Ram Mohan Roy
4. ✘ Swami Vivekananda

Question Number : 87 Question Id : 260269687 Display Question Number : Yes Single Line Question Option : No Option Orientation : Vertical

किस व्यक्ति ने 1875 में आर्य समाज नामक उस संगठन की स्थापना की थी जिसने हिंदू धर्म में सुधार लाने का प्रयास किया था?

Options :

1. ✔ स्वामी दयानंद सरस्वती
2. ✘ रामकृष्ण परमहंस
3. ✘ राजा राम मोहन रॉय
4. ✘ स्वामी विवेकानंद

Question Number : 88 Question Id : 260269688 Display Question Number : Yes Single Line Question Option : No Option Orientation : Vertical

According to the report published by the Department of Agriculture Cooperation and Farmers Welfare titled 'Agricultural Statistics at a Glance 2016', which was the largest SOYABEAN producing state during 2015-16? (considering Production in absolute terms)

Options :

1. ✘ Haryana
2. ✘ Rajasthan
3. ✘ Maharashtra
4. ✔ Madhya Pradesh

Question Number : 88 Question Id : 260269688 Display Question Number : Yes Single Line Question Option : No Option Orientation : Vertical

कृषि, सहकारिता और किसान कल्याण विभाग द्वारा 'कृषि सांख्यिकी एक नज़र में, 2016' शीर्षक से प्रकाशित रिपोर्ट के अनुसार 2015-16 के दौरान सोयाबीन का सर्वाधिक उत्पादन करने वाला राज्य कौन-सा था? (उत्पादन को निरपेक्ष पद मानते हुए)

Options :

1. ✘ हरियाणा
2. ✘ राजस्थान
3. ✘ महाराष्ट्र
4. ✔ मध्य प्रदेश

Question Number : 89 Question Id : 260269689 Display Question Number : Yes Single Line Question Option : No Option Orientation : Vertical

According to Reserve Bank of India, which of the following is **NOT** a Nationalised Bank as on 1<sup>st</sup> of September 2017?

Options :

1. ✘ Bank of Baroda
2. ✘ Bank of India
3. ✘ Bank of Maharashtra
4. ✔ ICICI Bank

Question Number : 89 Question Id : 260269689 Display Question Number : Yes Single Line Question Option : No Option Orientation : Vertical

भारतीय रिज़र्व बैंक के अनुसार 1 सितंबर 2017 तक निम्न में से कौन-सा एक राष्ट्रीयकृत बैंक नहीं था?

Options :

1. ✘ बैंक ऑफ बड़ौदा
2. ✘ बैंक ऑफ इंडिया
3. ✘ बैंक ऑफ महाराष्ट्र
4. ✔ आईसीआईसीआई बैंक

Question Number : 90 Question Id : 260269690 Display Question Number : Yes Single Line Question Option : No Option Orientation : Vertical

As prescribed by the Constitution of India, who appoints the Attorney-General of India?

Options :

1. ✘ The Prime Minister
2. ✔ The President
3. ✘ Council of States
4. ✘ House of the People

Question Number : 90 Question Id : 260269690 Display Question Number : Yes Single Line Question Option : No Option Orientation : Vertical

भारत के संविधान के अनुसार भारत के महान्यायवादी की नियुक्ति कौन करता है?

Options :

1. ✘ प्रधानमंत्री
2. ✔ राष्ट्रपति
3. ✘ राज्य सभा
4. ✘ लोक सभा

Question Number : 91 Question Id : 260269691 Display Question Number : Yes Single Line Question Option : No Option Orientation : Vertical

ISRO and NASA are working towards the realisation of NISAR mission by 2021. What is the full form of NISAR?

Options :

1. ✘ NASA-ISRO Satellite Application Reach
2. ✘ NASA-ISRO Scientific Aperture Radio
3. ✘ NASA-ISRO Scientific Armed Range
4. ✔ NASA-ISRO Synthetic Aperture Radar

Question Number : 91 Question Id : 260269691 Display Question Number : Yes Single Line Question Option : No Option Orientation : Vertical

इसरो और नासा 2021 तक एनआईएसएआर (NISAR) मिशन को वास्तविक रूप देने के लिए काम कर रहे हैं। एनआईएसएआर (NISAR) का पूरा नाम क्या है?

Options :

1. ✘ नासा-इसरो सेटेलाइट ऐप्लिकेशन रीच
2. ✘ नासा-इसरो साइंटिफिक अपर्चर रेडियो
3. ✘ नासा-इसरो साइंटिफिक आर्म्ड रेंज
4. ✔ नासा-इसरो सिंथेटिक अपर्चर रडार

Question Number : 92 Question Id : 260269692 Display Question Number : Yes Single Line Question Option : No Option Orientation : Vertical

Name the host of the 59<sup>th</sup> annual Grammy Awards, 2017.

Options :

1. ✘ Jimmy Kimmel
2. ✘ Stephen Colbert
3. ✔ James Corden
4. ✘ Kevin Spacey

Question Number : 92 Question Id : 260269692 Display Question Number : Yes Single Line Question Option : No Option Orientation : Vertical

59वें वार्षिक ग्रैमी पुरस्कार 2017 के मेज़बान का नाम क्या था?

Options :

1. ✘ जिमी किम्मेल
2. ✘ स्टीफ़न कोलबर्ट
3. ✔ जेम्स कॉर्डन
4. ✘ केविन स्पेसी

Question Number : 93 Question Id : 260269693 Display Question Number : Yes Single Line Question Option : No Option Orientation : Vertical

The Thomas Cup, sometimes called the World Men's Team Championships, is an international \_\_\_\_\_ competition.

Options :

1. ✘ Football
2. ✘ Cricket
3. ✔ Badminton
4. ✘ Hockey

Question Number : 93 Question Id : 260269693 Display Question Number : Yes Single Line Question Option : No Option Orientation : Vertical

थोमस कप, जिसे 'विश्व पुरुष टीम चैंपियनशिप' भी कहा जाता है, अंतरराष्ट्रीय \_\_\_\_\_ प्रतियोगिता है।

Options :

1. ✘ फुटबॉल
2. ✘ क्रिकेट
3. ✔ बैडमिंटन
4. ✘ हॉकी

Question Number : 94 Question Id : 260269694 Display Question Number : Yes Single Line Question Option : No Option Orientation : Vertical

Which of the following Indian cities hosted the 22nd Asian Athletics Championship, 2017?

Options :

1. ✘ Delhi
2. ✘ Pune

3. ✘ Hyderabad

4. ✔ Bhubaneswar

Question Number : 94 Question Id : 260269694 Display Question Number : Yes Single Line Question Option : No Option Orientation : Vertical

निम्न में से भारत के किस शहर ने 22वीं एशियाई एथलेटिक्स चैंपियनशिप, 2017 की मेज़बानी की थी?

Options :

1. ✘ दिल्ली

2. ✘ पुणे

3. ✘ हैदराबाद

4. ✔ भुवनेश्वर

Question Number : 95 Question Id : 260269695 Display Question Number : Yes Single Line Question Option : No Option Orientation : Vertical

Which of the following is a traditional regional music from Odisha?

Options :

1. ✘ Burrakatha

2. ✘ Laman

3. ✔ Daskathia

4. ✘ Tappa

Question Number : 95 Question Id : 260269695 Display Question Number : Yes Single Line Question Option : No Option Orientation : Vertical

निम्नलिखित में से कौन-सा ओडिशा का पारंपरिक क्षेत्रीय संगीत है?

Options :

1. ✘ बुराकथा

2. ✘ लमन

3. ✔ दसकठिया



4. ✘ टप्पा

Question Number : 96 Question Id : 260269696 Display Question Number : Yes Single Line Question Option : No Option Orientation : Vertical

Find the odd one out.

Options :

1. ✘ Few

2. ✘ Any

3. ✘ Some

4. ✔ All

Question Number : 96 Question Id : 260269696 Display Question Number : Yes Single Line Question Option : No Option Orientation : Vertical

असंगत की पहचान करें।

Options :

1. ✘ Few

2. ✘ Any

3. ✘ Some

4. ✔ All

Question Number : 97 Question Id : 260269697 Display Question Number : Yes Single Line Question Option : No Option Orientation : Vertical

HANDLE is related to CYCLE in the same way as STEERING is related to \_\_\_\_\_.

Options :

1. ✘ BIKE

2. ✔ CAR

3. ✘ AUTORICKSHAW

4. ✘ SCOOTER

Question Number : 97 Question Id : 260269697 Display Question Number : Yes Single Line Question Option : No Option Orientation : Vertical

जिस प्रकार 'हैंडल' 'साइकिल' से संबंधित है, उसी प्रकार 'स्टीयरिंग' \_\_\_\_\_ से संबंधित है।

Options :

1. ✘ बाइक
2. ✔ कार
3. ✘ ऑटोरिक्शा
4. ✘ स्कूटर

Question Number : 98 Question Id : 260269698 Display Question Number : Yes Single Line Question Option : No Option Orientation : Vertical

Insert the group of letters from the options that completes the first word and begins the second.

ENRICH (----) OR

Options :

1. ✔ MENT
2. ✘ IEST
3. ✘ EST
4. ✘ ER

Question Number : 98 Question Id : 260269698 Display Question Number : Yes Single Line Question Option : No Option Orientation : Vertical

उस अक्षर-समूह को जोड़ें जो पहले शब्द को पूरा करता हो और दूसरे शब्द को प्रारम्भ करता हो।

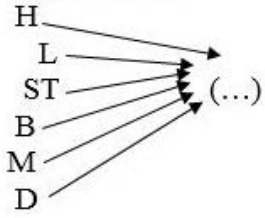
ENRICH (----) OR

Options :

1. ✔ MENT
2. ✘ IEST
3. ✘ EST
4. ✘ ER

Question Number : 99 Question Id : 260269699 Display Question Number : Yes Single Line Question Option : No Option Orientation : Vertical

Select the option which can have any of the letters/group of letters from the image appended to it as a prefix to make an English word.

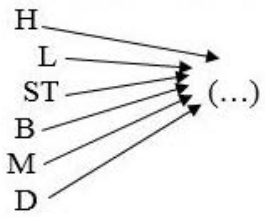


Options :

1. ✘ AIR
2. ✘ AD
3. ✔ EAD
4. ✘ EAR

Question Number : 99 Question Id : 260269699 Display Question Number : Yes Single Line Question Option : No Option Orientation : Vertical

उस अक्षर-समूह का चयन करें जिसमें निम्नांकित किसी भी अक्षर/अक्षर-युग्म को उपसर्ग के रूप में जोड़कर एक अंग्रेजी शब्द बनाया जा सके।



Options :

1. ✘ AIR
2. ✘ AD
3. ✔ EAD
4. ✘ EAR

Question Number : 100 Question Id : 260269700 Display Question Number : Yes Single Line Question Option : No Option Orientation : Vertical

If + means  $\div$ ,  $\div$  means  $-$ ,  $-$  means  $\times$  and  $\times$  means  $+$ , then the value of the expression  $8 + 4 \div 4 - 3 \times 2 = ?$

Options :

1. ✘ 8
2. ✔ -8
3. ✘ 1

4. ✘ -1

Question Number : 100 Question Id : 260269700 Display Question Number : Yes Single Line Question Option : No Option  
Orientation : Vertical

यदि + का अर्थ ÷, ÷ का अर्थ -, - का अर्थ × और × का अर्थ + हो, तो समीकरण  $8 + 4 ÷ 4 - 3 × 2$  का मान होगा:

Options :

1. ✘ 8

2. ✔ -8

3. ✘ 1

4. ✘ -1