



## Haryana Staff Selection Commission

### Notations :

- 1.Options shown in **green** color and with  icon are correct.
- 2.Options shown in **red** color and with  icon are incorrect.

<b>Subject Name:</b>	CAT 6 Junior Scale Stenographer English Hindi CBT Exam
<b>Total Marks:</b>	200
<b>Display Marks:</b>	Yes
<b>Calculator:</b>	None
<b>Magnifying Glass Required?:</b>	No
<b>Ruler Required?:</b>	No
<b>Eraser Required?:</b>	No
<b>Scratch Pad Required?:</b>	No
<b>Rough Sketch/Notepad Required?:</b>	No
<b>Protractor Required?:</b>	No

CAT 6 Junior Scale Stenographer English Hindi CBT Exam

**Group Marks:** 200





CAT 6 Junior Scale Stenographer English Hindi CBT Exam

<b>Section Marks:</b>	200
<b>Display Number Panel:</b>	Yes
<b>Group All Questions:</b>	No

**Question Number : 1 Question Id : 168000601 Display Question Number : Yes Single Line Question Option : No Option Orientation : Vertical**

The fort of Ballabgarh was built in:

### Options :

1.  1729
2.  1739
3.  1749
4.  1759

**Question Number : 1 Question Id : 168000601 Display Question Number : Yes Single Line Question Option : No Option Orientation : Vertical**

बल्लभगढ़ का किला इस वर्ष में बनवाया गया था:

Options :

1. ✘ 1729
2. ✔ 1739
3. ✘ 1749
4. ✘ 1759

Question Number : 2 Question Id : 168000602 Display Question Number : Yes Single Line Question Option : No Option Orientation : Vertical

Who was in charge of the Maratha artillery in the Third Battle of Panipat (1761)?

Options :

1. ✔ Ibrahim Khan Gardi
2. ✘ Malhar Rao Holkar
3. ✘ Sada Shiv Rao Bhau
4. ✘ Vishwasrao

Question Number : 2 Question Id : 168000602 Display Question Number : Yes Single Line Question Option : No Option Orientation : Vertical

पानीपत की तीसरी लड़ाई (1761) में मराठा तोपखाने का प्रभारी कौन था?

Options :

1. ✔ इब्राहिम खान गार्दी
2. ✘ मल्हार राव होल्कर
3. ✘ सदा शिव राव भाऊ
4. ✘ विश्वास राव

Question Number : 3 Question Id : 168000603 Display Question Number : Yes Single Line Question Option : No Option Orientation : Vertical

Who among the following provided shelter to Maratha refugees after the third battle of Panipat (1761)?

Options :

1. ✘ Badan Singh

2. ✘ Jawahar Singh
3. ✘ Ratan Singh
4. ✔ Suraj Mal

Question Number : 3 Question Id : 168000603 Display Question Number : Yes Single Line Question Option : No Option Orientation : Vertical

पानीपत की तीसरी लड़ाई (1761) के बाद निम्नलिखित में से किसने मराठा शरणार्थियों को आश्रय दिया था?

Options :

1. ✘ बदन सिंह
2. ✘ जवाहर सिंह
3. ✘ रतन सिंह
4. ✔ सूरज मल

Question Number : 4 Question Id : 168000604 Display Question Number : Yes Single Line Question Option : No Option Orientation : Vertical

Which of the following pairs (Ruler-Principality) is NOT a correct match?

Options :

1. ✘ Abdur Rahman Khan – Jhajjar
2. ✘ Ahmad Ali – Farrukhnagar
3. ✔ Hasan Ali Khan – Bahadurgarh
4. ✘ Raja Nahar Singh – Ballabgarh

Question Number : 4 Question Id : 168000604 Display Question Number : Yes Single Line Question Option : No Option Orientation : Vertical

निम्नलिखित में से किस युग्म (शासक-रियासत) का मिलान सही नहीं है?

Options :

1. ✘ अब्दुर रहमान खान - झज्जर
2. ✘ अहमद अली - फ़ारूखनगर

3. ✓ हसन अली खान - बहादुरगढ़

4. ✗ राजा नाहर सिंह - बल्लभगढ़

Question Number : 5 Question Id : 168000605 Display Question Number : Yes Single Line Question Option : No Option Orientation : Vertical

Which among the following is a recently created district by the Haryana Government?

Options :

1. ✗ Karnal

2. ✗ Sonipat

3. ✓ Dadri

4. ✗ Faridabad

Question Number : 5 Question Id : 168000605 Display Question Number : Yes Single Line Question Option : No Option Orientation : Vertical

हाल ही में हरियाणा सरकार द्वारा निम्नलिखित में से कौन सा ज़िला बनाया गया है?

Options :

1. ✗ करनाल

2. ✗ सोनीपत

3. ✓ दादरी

4. ✗ फ़रीदाबाद

Question Number : 6 Question Id : 168000606 Display Question Number : Yes Single Line Question Option : No Option Orientation : Vertical

The Haryana Government has signed a Memorandum of Cooperation with Apio Inc for developing \_\_\_\_\_ horticulture villages.

Options :

1. ✗ 50

2. ✗ 100

3. ✗ 160

4. ✓ 340

Question Number : 6 Question Id : 168000606 Display Question Number : Yes Single Line Question Option : No Option  
Orientation : Vertical

हरियाणा सरकार ने \_\_\_\_\_ बाग़बानी वाले गांवों के विकास के लिए एपीओ कंपनी (Apio Inc.) के साथ एक सहयोग ज़ापन पर हस्ताक्षर किए हैं।

Options :

1. ✗ 50

2. ✗ 100

3. ✗ 160

4. ✓ 340

Question Number : 7 Question Id : 168000607 Display Question Number : Yes Single Line Question Option : No Option  
Orientation : Vertical

As per the recently launched initiative of the Haryana Government, which among the following is expected to become the country's first district to have the Caterpillar Train?

Options :

1. ✗ Karnal

2. ✗ Sonipat

3. ✓ Gurugram

4. ✗ Faridabad

Question Number : 7 Question Id : 168000607 Display Question Number : Yes Single Line Question Option : No Option  
Orientation : Vertical

हाल ही में हरियाणा सरकार द्वारा शुरू की गयी पहल के अनुसार, निम्नलिखित में से किस ज़िले को, देश का पहला कैटरपिलर ट्रेन वाला ज़िला बनने की उम्मीद है?

Options :

1. ✗ करनाल

2. ✗ सोनीपत

3. ✓ गुरुग्राम

4. ✗ फ़रीदाबाद

Question Number : 8 Question Id : 168000608 Display Question Number : Yes Single Line Question Option : No Option Orientation : Vertical

The Focus Nation(s) for the 30<sup>th</sup> Surajkund International Crafts Mela was/were:

Options :

1. ✓ Japan and China
2. ✗ Singapore
3. ✗ Bangladesh
4. ✗ Egypt

Question Number : 8 Question Id : 168000608 Display Question Number : Yes Single Line Question Option : No Option Orientation : Vertical

30वें सूरजकुंड अंतर्राष्ट्रीय शिल्प मेले का केंद्र बिंदु कौनसा/कौनसे राष्ट्र था/थे?

Options :

1. ✓ जापान और चीन
2. ✗ सिंगापुर
3. ✗ बांग्लादेश
4. ✗ इजिप्त (मिस्र)

Question Number : 9 Question Id : 168000609 Display Question Number : Yes Single Line Question Option : No Option Orientation : Vertical

“Surya Satakam” was written by:

Options :

1. ✓ Mayur
2. ✗ Nitanda
3. ✗ Garibdas
4. ✗ Kalidas

Question Number : 9 Question Id : 168000609 Display Question Number : Yes Single Line Question Option : No Option Orientation : Vertical

“सूर्य शतकम्” के लेखक थे:

Options :

1. ✓ मयूर
2. ✗ नितानन्द
3. ✗ गरीबदास
4. ✗ कालिदास

Question Number : 10 Question Id : 168000610 Display Question Number : Yes Single Line Question Option : No Option Orientation : Vertical

Famous Urdu poet Khwaja Altaf Hussain Haali hailed from which of the following places?

Options :

1. ✗ Ambala
2. ✗ Faridabad
3. ✗ Jind
4. ✓ Panipat

Question Number : 10 Question Id : 168000610 Display Question Number : Yes Single Line Question Option : No Option Orientation : Vertical

प्रसिद्ध उर्दू कवि ख्वाजा अल्ताफ हुसैन हाली का सम्बन्ध निम्नलिखित में से किस स्थान से है?

Options :

1. ✗ अम्बाला
2. ✗ फरीदाबाद
3. ✗ जिंद
4. ✓ पानीपत

Question Number : 11 Question Id : 168000611 Display Question Number : Yes Single Line Question Option : No Option Orientation : Vertical

‘Sursagar’ was written by:

Options :

1. ✘ Haridas
2. ✔ Surdas
3. ✘ Tulsidas
4. ✘ Kabir

Question Number : 11 Question Id : 168000611 Display Question Number : Yes Single Line Question Option : No Option Orientation : Vertical

‘सूरसागर’ इनके द्वारा लिखी गई थी:

Options :

1. ✘ हरिदास
2. ✔ सूरदास
3. ✘ तुलसीदास
4. ✘ कबीर

Question Number : 12 Question Id : 168000612 Display Question Number : Yes Single Line Question Option : No Option Orientation : Vertical

According to the 2011 census, \_\_\_\_\_ villages of Haryana have been electrified.

Options :

1. ✘ 5,284
2. ✘ 5,932
3. ✔ 6,764
4. ✘ 6,378

Question Number : 12 Question Id : 168000612 Display Question Number : Yes Single Line Question Option : No Option Orientation : Vertical

2011 की जनगणना के अनुसार, हरियाणा के \_\_\_\_\_ गांवों का विद्युतीकरण हो चुका है।

Options :

1. ✘ 5,284



2. ✘ 5,932

3. ✔ 6,764

4. ✘ 6,378

Question Number : 13 Question Id : 168000613 Display Question Number : Yes Single Line Question Option : No Option Orientation : Vertical

The total number of medical institutions in Haryana (as of 2011-12) was:

Options :

1. ✘ 4

2. ✔ 5

3. ✘ 6

4. ✘ 7

Question Number : 13 Question Id : 168000613 Display Question Number : Yes Single Line Question Option : No Option Orientation : Vertical

हरियाणा में (2011-12 तक) चिकित्सा संस्थानों की कुल संख्या थी:

Options :

1. ✘ 4

2. ✔ 5

3. ✘ 6

4. ✘ 7

Question Number : 14 Question Id : 168000614 Display Question Number : Yes Single Line Question Option : No Option Orientation : Vertical

There were \_\_\_\_\_ primary health centres (as of 2011-12) in Haryana.

Options :

1. ✔ 441

2. ✘ 465

3. ✘ 487

4. ✘ 512

Question Number : 14 Question Id : 168000614 Display Question Number : Yes Single Line Question Option : No Option Orientation : Vertical

हरियाणा में (2011-12 तक) \_\_\_\_\_ प्राथमिक स्वास्थ्य केंद्र थे।

Options :

1. ✔ 441

2. ✘ 465

3. ✘ 487

4. ✘ 512

Question Number : 15 Question Id : 168000615 Display Question Number : Yes Single Line Question Option : No Option Orientation : Vertical

The number of Panchas in any Gram Panchayat varies from \_\_\_\_\_, excluding the Sarpanch, according to the size of population of the Gram Sabha.

Options :

1. ✘ 3 to 10

2. ✘ 5 to 15

3. ✔ 6 to 20

4. ✘ 8 to 24

Question Number : 15 Question Id : 168000615 Display Question Number : Yes Single Line Question Option : No Option Orientation : Vertical

ग्राम सभा की आबादी के आकार के अनुसार सरपंच को छोड़कर किसी भी ग्राम पंचायत में पंचों की संख्या \_\_\_\_\_ होती है।

Options :

1. ✘ 3 से 10

2. ✘ 5 से 15

3. ✔ 6 से 20

4. ✘ 8 से 24

Question Number : 16 Question Id : 168000616 Display Question Number : Yes Single Line Question Option : No Option Orientation : Vertical

For setting up a \_\_\_\_\_ in Haryana, ₹ 10 Cr has been fixed in Haryana's Budget (2016-17).

Options :

1. ✘ Central University
2. ✔ Ayush University
3. ✘ Sanskrit University
4. ✘ Model College

Question Number : 16 Question Id : 168000616 Display Question Number : Yes Single Line Question Option : No Option Orientation : Vertical

हरियाणा के वर्ष 2016-17 के बजट में हरियाणा में \_\_\_\_\_ स्थापित करने के लिए 10 करोड़ रुपये निर्धारित किए गए हैं।

Options :

1. ✘ केन्द्रीय विश्वविद्यालय
2. ✔ आयुष विश्वविद्यालय
3. ✘ संस्कृत विश्वविद्यालय
4. ✘ मॉडल कॉलेज

Question Number : 17 Question Id : 168000617 Display Question Number : Yes Single Line Question Option : No Option Orientation : Vertical

The Housing Board Haryana was set up in year \_\_\_\_\_.

Options :

1. ✔ 1971
2. ✘ 1972
3. ✘ 1973
4. ✘ 1975

Question Number : 17 Question Id : 168000617 Display Question Number : Yes Single Line Question Option : No Option Orientation : Vertical

हाउसिंग बोर्ड हरियाणा, वर्ष \_\_\_\_\_ में स्थापित किया गया था।

Options :

1. ✓ 1971
2. ✗ 1972
3. ✗ 1973
4. ✗ 1975

Question Number : 18 Question Id : 168000618 Display Question Number : Yes Single Line Question Option : No Option Orientation : Vertical

Haryana's Swarna Jayanti (Golden Jubilee) celebrations of attaining Statehood *took place/will take place* from:

Options :

1. ✗ 1 November 2016 to 1 November 2017
2. ✓ 1 November 2016 to 31 October 2017
3. ✗ 1 November 2017 to 31 November 2017
4. ✗ 1 November 2017 to 31 October 2018

Question Number : 18 Question Id : 168000618 Display Question Number : Yes Single Line Question Option : No Option Orientation : Vertical

हरियाणा राज्य के गठन के उपलक्ष्य में स्वर्ण जयंती समारोह (गोल्डन जुबिली) कब मनाया गया था/जायेगा ?

Options :

1. ✗ 1 नवम्बर 2016 से 1 नवम्बर 2017 तक
2. ✓ 1 नवम्बर 2016 से 31 अक्टूबर 2017 तक
3. ✗ 1 नवम्बर 2017 से 31 नवम्बर 2017 तक
4. ✗ 1 नवम्बर 2017 से 31 अक्टूबर 2018 तक

Question Number : 19 Question Id : 168000619 Display Question Number : Yes Single Line Question Option : No Option Orientation : Vertical

The area of land under cultivation in Haryana is:

Options :

1. ✗ 65%
2. ✗ 70%

3. ✘ 75%

4. ✔ 80%

Question Number : 19 Question Id : 168000619 Display Question Number : Yes Single Line Question Option : No Option Orientation : Vertical

हरियाणा में खेती के लिए उपयुक्त भूमि का क्षेत्रफल है:

Options :

1. ✘ 65%

2. ✘ 70%

3. ✘ 75%

4. ✔ 80%

Question Number : 20 Question Id : 168000620 Display Question Number : Yes Single Line Question Option : No Option Orientation : Vertical

Due to a large scale plantation initiated by the Forest Department of the Haryana Government, the forest and tree cover increased in the year 2011. To what percentage of the state's geographical area did it increase? (as per the State of Forest 2011 report)

Options :

1. ✔ 6.80%

2. ✘ 9.60%

3. ✘ 12.40%

4. ✘ 14.20%

Question Number : 20 Question Id : 168000620 Display Question Number : Yes Single Line Question Option : No Option Orientation : Vertical

हरियाणा सरकार के वन विभाग द्वारा बड़े पैमाने पर शुरू किए गए वृक्षारोपण के कारण, वर्ष 2011 में जंगल और वृक्ष आवरण बढ़ गया। राज्य के भौगोलिक क्षेत्र में कितने प्रतिशत वृक्ष-क्षेत्र की वृद्धि हुई है? (राज्य के वन विभाग रिपोर्ट 2011 के अनुसार)

Options :

1. ✔ 6.80%

2. ✘ 9.60%

3. ✘ 12.40%

4. ✘ 14.20%

Question Number : 21 Question Id : 168000621 Display Question Number : Yes Single Line Question Option : No Option Orientation : Vertical

At which place has the Jatayu Conservation Breeding Centre been established for the breeding and conservation of Indian vultures?

Options :

1. ✘ Ballabgarh
2. ✘ Jagadhri
3. ✔ Pinjore
4. ✘ Samalkha

Question Number : 21 Question Id : 168000621 Display Question Number : Yes Single Line Question Option : No Option Orientation : Vertical

भारतीय गिद्धों के प्रजनन और संरक्षण के लिए जटायु संरक्षण प्रजनन केंद्र की स्थापना किस स्थान पर की गई है?

Options :

1. ✘ बल्लभगढ़
2. ✘ जगाधरी
3. ✔ पिंजौर
4. ✘ समालखा

Question Number : 22 Question Id : 168000622 Display Question Number : Yes Single Line Question Option : No Option Orientation : Vertical

Which of the following places in Haryana is the durries making hub in Haryana?

Options :

1. ✘ Jhajjar
2. ✘ Fatehabad
3. ✔ Panipat
4. ✘ Hisar

Question Number : 22 Question Id : 168000622 Display Question Number : Yes Single Line Question Option : No Option Orientation : Vertical

निम्नलिखित में से कौन सा स्थान हरियाणा में दरियाँ (durries) बनाने का केंद्र है?

Options :

1. ✘ झज्जर
2. ✘ फतेहाबाद
3. ✔ पानीपत
4. ✘ हिसार

Question Number : 23 Question Id : 168000623 Display Question Number : Yes Single Line Question Option : No Option Orientation : Vertical

The Sohna Car Rally is organised in Haryana in the month of:

Options :

1. ✔ February
2. ✘ June
3. ✘ August
4. ✘ November

Question Number : 23 Question Id : 168000623 Display Question Number : Yes Single Line Question Option : No Option Orientation : Vertical

हरियाणा में सोहना कार रैली का आयोजन किस महीने में किया जाता है?

Options :

1. ✔ फरवरी
2. ✘ जून
3. ✘ अगस्त
4. ✘ नवंबर

Question Number : 24 Question Id : 168000624 Display Question Number : Yes Single Line Question Option : No Option Orientation : Vertical

Which community of Haryana is very well known for making durries?

Options :

1. ✔ Jats

2. ✘ Ahirs
3. ✘ Meos
4. ✘ Gujjars

Question Number : 24 Question Id : 168000624 Display Question Number : Yes Single Line Question Option : No Option Orientation : Vertical

हरियाणा का कौन सा समुदाय दरियाँ बनाने के लिए सुप्रसिद्ध है?

Options :

1. ✔ जाट
2. ✘ अहीर
3. ✘ मेव
4. ✘ गुज्जर

Question Number : 25 Question Id : 168000625 Display Question Number : Yes Single Line Question Option : No Option Orientation : Vertical

Kalander Shah's Tomb was built in Karnal by:

Options :

1. ✘ Akbar
2. ✘ Sher Shah Suri
3. ✘ Babur
4. ✔ Ghiyas-Ud-Din

Question Number : 25 Question Id : 168000625 Display Question Number : Yes Single Line Question Option : No Option Orientation : Vertical

करनाल में कलंदर शाह का मक़बरा इनके द्वारा बनवाया गया था:

Options :

1. ✘ अकबर
2. ✘ शेर शाह सूरी
3. ✘ बाबर



4. ✓ ग़ियास-उद-दीन

Question Number : 26 Question Id : 168000626 Display Question Number : Yes Single Line Question Option : No Option Orientation : Vertical

Identify the simple long vowel sounds from the given options:

Options :

1. ✗ ah, a, e, aw, o, oo

2. ✓ a, e, i, o, u, oo

3. ✗ I, OW,OI,U

4. ✗ em, en, ing

Question Number : 26 Question Id : 168000626 Display Question Number : Yes Single Line Question Option : No Option Orientation : Vertical

Identify the simple long vowel sounds from the given options:

Options :

1. ✗ ah, a, e, aw, o, oo

2. ✓ a, e, i, o, u, oo

3. ✗ I, OW,OI,U

4. ✗ em, en, ing

Question Number : 27 Question Id : 168000627 Display Question Number : Yes Single Line Question Option : No Option Orientation : Vertical

The period or full stop is represented by:

Options :

1. ✓ X

2. ✗ -

3. ✗ ?

4. ✗ !

Question Number : 27 Question Id : 168000627 Display Question Number : Yes Single Line Question Option : No Option Orientation : Vertical

The period or full stop is represented by:

Options :

1. ✓ X
2. ✗ -
3. ✗ ?
4. ✗ !

Question Number : 28 Question Id : 168000628 Display Question Number : Yes Single Line Question Option : No Option Orientation : Vertical

The \_\_\_\_\_ sounded vowel in the word governs the position of an outline.

Options :

1. ✗ Second
2. ✗ Third
3. ✗ Fourth
4. ✓ First

Question Number : 28 Question Id : 168000628 Display Question Number : Yes Single Line Question Option : No Option Orientation : Vertical

The \_\_\_\_\_ sounded vowel in the word governs the position of an outline.

Options :

1. ✗ Second
2. ✗ Third
3. ✗ Fourth
4. ✓ First

Question Number : 29 Question Id : 168000629 Display Question Number : Yes Single Line Question Option : No Option Orientation : Vertical

A triphone represents \_\_\_\_\_ vowel(s) in one sign.

Options :

1. ✗ 1

2. ✓ 3

3. ✗ 2

4. ✗ 4

Question Number : 29 Question Id : 168000629 Display Question Number : Yes Single Line Question Option : No Option Orientation : Vertical

A triphone represents \_\_\_\_\_ vowel(s) in one sign.

Options :

1. ✗ 1

2. ✓ 3

3. ✗ 2

4. ✗ 4

Question Number : 30 Question Id : 168000630 Display Question Number : Yes Single Line Question Option : No Option Orientation : Vertical

In a phrase, the word 'him' should have a \_\_\_\_\_ vowel inserted.

Options :

1. ✗ circle

2. ✗ dash

3. ✓ dot

4. ✗ loop

Question Number : 30 Question Id : 168000630 Display Question Number : Yes Single Line Question Option : No Option Orientation : Vertical

In a phrase, the word 'him' should have a \_\_\_\_\_ vowel inserted.

Options :

1. ✗ circle

2. ✗ dash

3. ✓ dot

4. ✗ loop

Question Number : 31 Question Id : 168000631 Display Question Number : Yes Single Line Question Option : No Option Orientation : Vertical

The sound of z initially must be represented by a \_\_\_\_\_.

Options :

1. ✘ circle
2. ✔ stroke
3. ✘ big circle
4. ✘ loop

Question Number : 31 Question Id : 168000631 Display Question Number : Yes Single Line Question Option : No Option Orientation : Vertical

The sound of z initially must be represented by a \_\_\_\_\_.

Options :

1. ✘ circle
2. ✔ stroke
3. ✘ big circle
4. ✘ loop

Question Number : 32 Question Id : 168000632 Display Question Number : Yes Single Line Question Option : No Option Orientation : Vertical

The \_\_\_\_\_ 's' must be written when initial s is immediately followed by a triphone as in word 'science'.

Options :

1. ✔ stroke
2. ✘ circle
3. ✘ loop
4. ✘ hook

Question Number : 32 Question Id : 168000632 Display Question Number : Yes Single Line Question Option : No Option Orientation : Vertical

The \_\_\_\_\_ 's' must be written when initial s is immediately followed by a triphone as in word 'science'.

Options :

1. ✓ stroke

2. ✗ circle


3. ✗ loop


4. ✗ hook


Question Number : 33 Question Id : 168000633 Display Question Number : Yes Single Line Question Option : No Option Orientation : Vertical

The s-s circle represents two s-s in phrases like \_\_\_\_\_ in this city.

Options :

1. ✗ 

2. ✗ 

3. ✗ 


4. ✓ 


Question Number : 33 Question Id : 168000633 Display Question Number : Yes Single Line Question Option : No Option Orientation : Vertical

The s-s circle represents two s-s in phrases like \_\_\_\_\_ in this city.

Options :

1. ✗ 

2. ✗ 

3. ✗ 


4. ✓ 


Question Number : 34 Question Id : 168000634 Display Question Number : Yes Single Line Question Option : No Option Orientation : Vertical


Select the correct option in shorthand for the following sentence.


Dear friend I would like to tell you about learning shorthand

Options :

1. ✘ 

2. ✘ 

3. ✔ 


4. ✘ 


Question Number : 34 Question Id : 168000634 Display Question Number : Yes Single Line Question Option : No Option Orientation : Vertical


Select the correct option in shorthand for the following sentence.


Dear friend I would like to tell you about learning shorthand

Options :

1. ✘ 

2. ✘ 

3. ✔ 





4. ✘ 

Question Number : 35 Question Id : 168000635 Display Question Number : Yes Single Line Question Option : No Option Orientation : Vertical

Select the correct option in shorthand for the following sentence.

The only one way out for you is to understand the nature of the feeling.

Options :







Question Number : 35 Question Id : 168000635 Display Question Number : Yes Single Line Question Option : No Option Orientation : Vertical


Select the correct option in shorthand for the following sentence.

The only one way out for you is to understand the nature of the feeling.

Options :



Question Number : 36 Question Id : 168000636 Display Question Number : Yes Single Line Question Option : No Option Orientation : Vertical

 (बी से अ) 'ल' व्यंजन का दूसरा प्रारूप बताएं?

A. 

B. 

C. 

D. 

Options :


1. ✘ A

2. ✔ B

3. ✘ C

4. ✘ D

Question Number : 36 Question Id : 168000636 Display Question Number : Yes Single Line Question Option : No Option Orientation : Vertical

 (बी से अ) 'ल' व्यंजन का दूसरा प्रारूप बताएं?

A. 

B. 

C. 

D. 

Options :

1. ✘ A


2. ✔ B

3. ✘ C

4. ✘ D



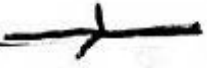
Question Number : 37 Question Id : 168000637 Display Question Number : Yes Single Line Question Option : No Option Orientation : Vertical

शब्द-चिह्न  को पहचानें।

Options :

1. ✘ उसी
2. ✘ इसी
3. ✔ उसका
4. ✘ उतने

Question Number : 37 Question Id : 168000637 Display Question Number : Yes Single Line Question Option : No Option Orientation : Vertical


शब्द-चिह्न  को पहचानें।


Options :


1. ✘ उसी
2. ✘ इसी
3. ✔ उसका
4. ✘ उतने


Question Number : 38 Question Id : 168000638 Display Question Number : Yes Single Line Question Option : No Option Orientation : Vertical

'कहा जा रहा था' वाक्यांश के लिए सही संकेत पहचानें।

A. 

B. 

C. 

D. 

Options :

1. ✘ A
2. ✘ B
3. ✔ C
4. ✘ D

Question Number : 38 Question Id : 168000638 Display Question Number : Yes Single Line Question Option : No Option Orientation : Vertical

‘कहा जा रहा था’ वाक्यांश के लिए सही संकेत पहचानें।

A.

B.

C.

D.

Options :

1. ✘ A
2. ✘ B
3. ✔ C
4. ✘ D

Question Number : 39 Question Id : 168000639 Display Question Number : Yes Single Line Question Option : No Option Orientation : Vertical

साधारण संक्षिप्त लिपि को पहचानें।

Options :

1. ✔ जिम्मेदारी

2. ✘ जिम्मेदार
3. ✘ जमादारी
4. ✘ जनादारी

Question Number : 39 Question Id : 168000639 Display Question Number : Yes Single Line Question Option : No Option Orientation : Vertical

साधारण संक्षिप्त लिपि  को पहचानें।

Options :

1. ✔ जिम्मेदारी
2. ✘ जिम्मेदार
3. ✘ जमादारी
4. ✘ जनादारी

Question Number : 40 Question Id : 168000640 Display Question Number : Yes Single Line Question Option : No Option Orientation : Vertical

‘समझदार’ में किस चाप का प्रयोग होता है?

Options :

1. ✘ अर्ध चाप
2. ✔ दीर्घ चाप
3. ✘ पूर्ण चाप
4. ✘ लघु चाप

Question Number : 40 Question Id : 168000640 Display Question Number : Yes Single Line Question Option : No Option Orientation : Vertical

‘समझदार’ में किस चाप का प्रयोग होता है?

Options :

1. ✘ अर्ध चाप

2. ✓ दीर्घ चाप

3. ✗ पूर्ण चाप

4. ✗ लघु चाप

Question Number : 41 Question Id : 168000641 Display Question Number : Yes Single Line Question Option : No Option Orientation : Vertical

त्वरा लिपि के अनुसार ४ इस संक्षिप्त लिपि को पहचानें।

Options :

1. ✗ समझदार

2. ✗ समादार

3. ✗ समाज्ञदार

4. ✓ समझदारी

Question Number : 41 Question Id : 168000641 Display Question Number : Yes Single Line Question Option : No Option Orientation : Vertical

त्वरा लिपि के अनुसार ४ इस संक्षिप्त लिपि को पहचानें।

Options :

1. ✗ समझदार

2. ✗ समादार

3. ✗ समाज्ञदार

4. ✓ समझदारी


Question Number : 42 Question Id : 168000642 Display Question Number : Yes Single Line Question Option : No Option Orientation : Vertical

२ इस वाक्यांश को पहचानें।

Options :

1. ✓ सदा के लिए
2. ✗ सत्य के लिए
3. ✗ सर्वदा के लिए
4. ✗ सीधा के लिए

Question Number : 42 Question Id : 168000642 Display Question Number : Yes Single Line Question Option : No Option Orientation : Vertical





 इस वाक्यांश को पहचानें।

Options :

1. ✓ सदा के लिए
2. ✗ सत्य के लिए
3. ✗ सर्वदा के लिए
4. ✗ सीधा के लिए

Question Number : 43 Question Id : 168000643 Display Question Number : Yes Single Line Question Option : No Option Orientation : Vertical

पूर्ण नियमानुसार शब्दांश  (ईमानदारी) के दूसरे प्रारूप को पहचानें।

- A. 
- B. 
- C. 
- D. 

Options :

1. ✗ A
2. ✗ B

3. ✘ C

4. ✔ D

Question Number : 43 Question Id : 168000643 Display Question Number : Yes Single Line Question Option : No Option Orientation : Vertical

पूर्ण नियमानुसार शब्दांश  (ईमानदारी) के दूसरे प्रारूप को पहचानें।

A. B. C. D. 

Options :

1. ✘ A

2. ✘ B

3. ✘ C

4. ✔ D

Question Number : 44 Question Id : 168000644 Display Question Number : Yes Single Line Question Option : No Option Orientation : Vertical

हिन्दी शीघ्रलिपि में 'ह' व्यंजन को काटने से क्या बनता है?

Options :

1. ✘ ड

2. ✘ ङ

3. ✘ द

4. ✔ ढ

Question Number : 44 Question Id : 168000644 Display Question Number : Yes Single Line Question Option : No Option Orientation : Vertical





हिन्दी शीघ्रलिपि में 'ह' व्यंजन को काटने से क्या बनता है?

Options :

1. ✘ ड
2. ✘ ङ
3. ✘ द
4. ✔ ढ

Question Number : 45 Question Id : 168000645 Display Question Number : Yes Single Line Question Option : No Option Orientation : Vertical

पूर्ण नियमानुसार 'प्रवासी - भारतवासी' को साधारण संक्षिप्त लिपि के अनुसार पहचानें:

- A. 
- B. 
- C. 
- D. 


Options :

1. ✘ A
2. ✘ B
3. ✘ C
4. ✔ D

Question Number : 45 Question Id : 168000645 Display Question Number : Yes Single Line Question Option : No Option Orientation : Vertical

पूर्ण नियमानुसार 'प्रवासी - भारतवासी' को साधारण संक्षिप्त लिपि के अनुसार पहचानें:

A. 

B. 

C. 

D. 

Options :

1. ✘ A

2. ✘ B

3. ✘ C

4. ✔ D

Question Number : 46 Question Id : 168000646 Display Question Number : Yes Single Line Question Option : No Option Orientation : Vertical

Select the appropriate antonym from the options below.

Distinctive

Options :

1. ✔ ordinary

2. ✘ peculiar

3. ✘ special

4. ✘ different

Question Number : 46 Question Id : 168000646 Display Question Number : Yes Single Line Question Option : No Option Orientation : Vertical

Select the appropriate antonym from the options below.

Distinctive

Options :



1. ✓ ordinary
2. ✗ peculiar
3. ✗ special
4. ✗ different

Question Number : 47 Question Id : 168000647 Display Question Number : Yes Single Line Question Option : No Option Orientation : Vertical

**Select the appropriate antonym from the options below.**

Concerned

Options :

1. ✗ anxious
2. ✗ interested
3. ✓ detached
4. ✗ attentive

Question Number : 47 Question Id : 168000647 Display Question Number : Yes Single Line Question Option : No Option Orientation : Vertical

**Select the appropriate antonym from the options below.**

Concerned

Options :

1. ✗ anxious
2. ✗ interested
3. ✓ detached
4. ✗ attentive

Question Number : 48 Question Id : 168000648 Display Question Number : Yes Single Line Question Option : No Option Orientation : Vertical

**Select the appropriate antonym from the options below.**

Betray

Options :

1. ✘ deceive
2. ✘ mislead
3. ✘ divulge
4. ✔ conceal

Question Number : 48 Question Id : 168000648 Display Question Number : Yes Single Line Question Option : No Option Orientation : Vertical

Select the appropriate antonym from the options below.

Betray

Options :

1. ✘ deceive
2. ✘ mislead
3. ✘ divulge
4. ✔ conceal

Question Number : 49 Question Id : 168000649 Display Question Number : Yes Single Line Question Option : No Option Orientation : Vertical

Select the option that can be used in place of the underlined word(s) in the given sentence.

He told his cousin to her face that she was wrong. He told \_\_\_\_\_ to her face that she was wrong.

Options :

1. ✘ he
2. ✔ her
3. ✘ she
4. ✘ him

Question Number : 49 Question Id : 168000649 Display Question Number : Yes Single Line Question Option : No Option Orientation : Vertical

Select the option that can be used in place of the underlined word(s) in the given sentence.

He told his cousin to her face that she was wrong. He told \_\_\_\_\_ to her face that she was wrong.

Options :

1. ✘ he
2. ✔ her
3. ✘ she
4. ✘ him

Question Number : 50 Question Id : 168000650 Display Question Number : Yes Single Line Question Option : No Option Orientation : Vertical

Select the option that can be used in place of the underlined word(s) in the given sentence.

I met two persons in the canteen. \_\_\_\_\_ clothes were quite shabby.

Options :

1. ✘ Them
2. ✘ They
3. ✔ Their
4. ✘ Theirs

Question Number : 50 Question Id : 168000650 Display Question Number : Yes Single Line Question Option : No Option Orientation : Vertical

Select the option that can be used in place of the underlined word(s) in the given sentence.

I met two persons in the canteen. \_\_\_\_\_ clothes were quite shabby.

Options :

1. ✘ Them
2. ✘ They
3. ✔ Their
4. ✘ Theirs

Question Number : 51 Question Id : 168000651 Display Question Number : Yes Single Line Question Option : No Option Orientation : Vertical

Select the option that can be used in place of the underlined word(s) in the given sentence.

If you need a coat, you have to buy \_\_\_\_\_ as I can't lend you mine.

Options :

1. ✓ one

2. ✗ out

3. ✗ them

4. ✗ him

Question Number : 51 Question Id : 168000651 Display Question Number : Yes Single Line Question Option : No Option Orientation : Vertical

Select the option that can be used in place of the underlined word(s) in the given sentence.

If you need a coat, you have to buy \_\_\_\_\_ as I can't lend you mine.

Options :

1. ✓ one

2. ✗ out

3. ✗ them

4. ✗ him

Question Number : 52 Question Id : 168000652 Display Question Number : Yes Single Line Question Option : No Option Orientation : Vertical

Select the appropriate option and fill in the blank.

It became \_\_\_\_\_ day by day, so we decided to move to south for two months.

Options :

1. ✗ cold

2. ✗ the coldest

3. ✗ very cold

4. ✓ colder

Question Number : 52 Question Id : 168000652 Display Question Number : Yes Single Line Question Option : No Option Orientation : Vertical

Select the appropriate option and fill in the blank.

It became \_\_\_\_\_ day by day, so we decided to move to south for two months.

Options :

1. ✘ cold
2. ✘ the coldest
3. ✘ very cold
4. ✔ colder

Question Number : 53 Question Id : 168000653 Display Question Number : Yes Single Line Question Option : No Option Orientation : Vertical

**Select the appropriate option and fill in the blank.**

I find mathematics \_\_\_\_\_ than history.

Options :

1. ✔ easier
2. ✘ more easy
3. ✘ very easy
4. ✘ easy

Question Number : 53 Question Id : 168000653 Display Question Number : Yes Single Line Question Option : No Option Orientation : Vertical

**Select the appropriate option and fill in the blank.**

I find mathematics \_\_\_\_\_ than history.

Options :

1. ✔ easier
2. ✘ more easy
3. ✘ very easy
4. ✘ easy

Question Number : 54 Question Id : 168000654 Display Question Number : Yes Single Line Question Option : No Option Orientation : Vertical

**Select the appropriate option and fill in the blank.**

I purchased a \_\_\_\_\_ bag from Kanpur.

Options :

1. ✘ brown new leather
2. ✔ new brown leather
3. ✘ leather new brown
4. ✘ new leather brown

Question Number : 54 Question Id : 168000654 Display Question Number : Yes Single Line Question Option : No Option Orientation : Vertical

**Select the appropriate option and fill in the blank.**

I purchased a \_\_\_\_\_ bag from Kanpur.

Options :

1. ✘ brown new leather
2. ✔ new brown leather
3. ✘ leather new brown
4. ✘ new leather brown

Question Number : 55 Question Id : 168000655 Display Question Number : Yes Single Line Question Option : No Option Orientation : Vertical

**Select the option that best expresses the meaning of the underlined idiom in the given sentence.**

He knows the ins and outs of that whole affair.

Options :

1. ✔ the full details
2. ✘ the practical aspect
3. ✘ the problems
4. ✘ the half truth

Question Number : 55 Question Id : 168000655 Display Question Number : Yes Single Line Question Option : No Option Orientation : Vertical

**Select the option that best expresses the meaning of the underlined idiom in the given sentence.**

He knows the ins and outs of that whole affair.

Options :

1. ✓ the full details
2. ✗ the practical aspect
3. ✗ the problems
4. ✗ the half truth

Question Number : 56 Question Id : 168000656 Display Question Number : Yes Single Line Question Option : No Option Orientation : Vertical

'निष्कलंक' शब्द में संधि है:

Options :

1. ✗ स्वर संधि
2. ✓ विसर्ग संधि
3. ✗ व्यंजन संधि
4. ✗ अयादि संधि

Question Number : 56 Question Id : 168000656 Display Question Number : Yes Single Line Question Option : No Option Orientation : Vertical

'निष्कलंक' शब्द में संधि है:

Options :

1. ✗ स्वर संधि
2. ✓ विसर्ग संधि
3. ✗ व्यंजन संधि
4. ✗ अयादि संधि

Question Number : 57 Question Id : 168000657 Display Question Number : Yes Single Line Question Option : No Option Orientation : Vertical

'यथानियम' शब्द में समास है:

Options :

1. ✓ अट्ययी भाव
2. ✗ तत्पुरुष
3. ✗ बहुब्रीहि
4. ✗ कर्मधारय

Question Number : 57 Question Id : 168000657 Display Question Number : Yes Single Line Question Option : No Option Orientation : Vertical

‘यथानियम’ शब्द में समास है:

Options :

1. ✓ अट्ययी भाव
2. ✗ तत्पुरुष
3. ✗ बहुब्रीहि
4. ✗ कर्मधारय

Question Number : 58 Question Id : 168000658 Display Question Number : Yes Single Line Question Option : No Option Orientation : Vertical

‘जिसका कोई शत्रु न हो’ वाक्यांश के लिए एक शब्द होगा:

Options :

1. ✓ अजातशत्रु
2. ✗ जातशत्रु
3. ✗ अजेय
4. ✗ योद्धा

Question Number : 58 Question Id : 168000658 Display Question Number : Yes Single Line Question Option : No Option Orientation : Vertical

‘जिसका कोई शत्रु न हो’ वाक्यांश के लिए एक शब्द होगा:

Options :



1. ✓ अजातशत्रु

2. ✗ जातशत्रु

3. ✗ अजेय

4. ✗ योद्धा

Question Number : 59 Question Id : 168000659 Display Question Number : Yes Single Line Question Option : No Option Orientation : Vertical

'स्त्री' का पर्यायवाची शब्द नहीं है:

Options :

1. ✓ महिषी

2. ✗ ललना

3. ✗ महिला

4. ✗ कामिनी

Question Number : 59 Question Id : 168000659 Display Question Number : Yes Single Line Question Option : No Option Orientation : Vertical

'स्त्री' का पर्यायवाची शब्द नहीं है:

Options :

1. ✓ महिषी

2. ✗ ललना

3. ✗ महिला

4. ✗ कामिनी

Question Number : 60 Question Id : 168000660 Display Question Number : Yes Single Line Question Option : No Option Orientation : Vertical

कौन-से शब्द की वर्तनी अशुद्ध है?

Options :

1. ✗ उद्भव

2. ✓ अत्याधिक
3. ✗ उद्भांत
4. ✗ अत्यावश्यक

Question Number : 60 Question Id : 168000660 Display Question Number : Yes Single Line Question Option : No Option Orientation : Vertical

कौन-से शब्द की वर्तनी अशुद्ध है?

Options :

1. ✗ उद्भव
2. ✓ अत्याधिक
3. ✗ उद्भांत
4. ✗ अत्यावश्यक

Question Number : 61 Question Id : 168000661 Display Question Number : Yes Single Line Question Option : No Option Orientation : Vertical

'परोक्ष' का विलोम है:

Options :

1. ✓ प्रत्यक्ष
2. ✗ सम्मुखं
3. ✗ ओझल
4. ✗ विलुप्त

Question Number : 61 Question Id : 168000661 Display Question Number : Yes Single Line Question Option : No Option Orientation : Vertical

'परोक्ष' का विलोम है:

Options :

1. ✓ प्रत्यक्ष
2. ✗ सम्मुखं

3. ✘ ओझल

4. ✘ विलुप्त

Question Number : 62 Question Id : 168000662 Display Question Number : Yes Single Line Question Option : No Option Orientation : Vertical

निम्नलिखित में से 'तत्सम' शब्द कौन-सा है?

Options :

1. ✘ साँस

2. ✔ साहस

3. ✘ हँसी

4. ✘ खेल

Question Number : 62 Question Id : 168000662 Display Question Number : Yes Single Line Question Option : No Option Orientation : Vertical

निम्नलिखित में से 'तत्सम' शब्द कौन-सा है?

Options :

1. ✘ साँस

2. ✔ साहस

3. ✘ हँसी

4. ✘ खेल

Question Number : 63 Question Id : 168000663 Display Question Number : Yes Single Line Question Option : No Option Orientation : Vertical

'एक मात्र सहारा' के लिए उपयुक्त मुहावरा होगा:

Options :

1. ✘ आँखें तरसना

2. ✔ अंधे की लाठी

3. ✘ आँखों का तारा

4. ✘ ऑसू पोंछना

Question Number : 63 Question Id : 168000663 Display Question Number : Yes Single Line Question Option : No Option Orientation : Vertical

'एक मात्र सहारा' के लिए उपयुक्त मुहावरा होगा:

Options :

1. ✘ आँखें तरसना

2. ✔ अंधे की लाठी

3. ✘ आँखों का तारा

4. ✘ ऑसू पोंछना

Question Number : 64 Question Id : 168000664 Display Question Number : Yes Single Line Question Option : No Option Orientation : Vertical

निम्नलिखित में से कौन-सा शब्द 'तद्भव' है?

Options :

1. ✔ पूत

2. ✘ नयन

3. ✘ श्वास

4. ✘ जिहवा

Question Number : 64 Question Id : 168000664 Display Question Number : Yes Single Line Question Option : No Option Orientation : Vertical

निम्नलिखित में से कौन-सा शब्द 'तद्भव' है?

Options :

1. ✔ पूत

2. ✘ नयन

3. ✘ श्वास

4. ✘ जिहवा

Question Number : 65 Question Id : 168000665 Display Question Number : Yes Single Line Question Option : No Option Orientation : Vertical

'दंड' के अर्थ वाला शब्द नहीं है:

Options :

1. ✘ डंडा
2. ✘ जुर्माना
3. ✘ एक प्रकार का व्यायाम
4. ✔ खंभा

Question Number : 65 Question Id : 168000665 Display Question Number : Yes Single Line Question Option : No Option Orientation : Vertical

'दंड' के अर्थ वाला शब्द नहीं है:

Options :

1. ✘ डंडा
2. ✘ जुर्माना
3. ✘ एक प्रकार का व्यायाम
4. ✔ खंभा

Question Number : 66 Question Id : 168000666 Display Question Number : Yes Single Line Question Option : No Option Orientation : Vertical

If  $a(a + b + c) = 85$ ,  $b(a + b + c) = 96$ ,  $a(a + b + c) = 108$ , then  $c =$

Options :

1. ✘  $\frac{108}{15}$
2. ✘  $\frac{108}{99}$
3. ✔  $\frac{108}{17}$

4. ✘  $\frac{108}{11}$

Question Number : 66 Question Id : 168000666 Display Question Number : Yes Single Line Question Option : No Option Orientation : Vertical

यदि  $a(a + b + c) = 85$ ,  $b(a + b + c) = 96$ ,  $a(a + b + c) = 108$  है, तो  $c =$

Options :

1. ✘  $\frac{108}{15}$

2. ✘  $\frac{108}{99}$

3. ✔  $\frac{108}{17}$

4. ✘  $\frac{108}{11}$

Question Number : 67 Question Id : 168000667 Display Question Number : Yes Single Line Question Option : No Option Orientation : Vertical

If the average of five consecutive odd numbers is 75, then the sum and difference between the largest number and smallest number is:

Options :

1. ✘ 200 and 8

2. ✘ 180 and 8

3. ✘ 160 and 8

4. ✔ 150 and 8

Question Number : 67 Question Id : 168000667 Display Question Number : Yes Single Line Question Option : No Option Orientation : Vertical

यदि पांच क्रमागत विषम संख्याओं का औसत 75 है, तो सबसे बड़ी संख्या और सबसे छोटी संख्या का योगफल और अंतर होगा:

Options :

1. ✘ 200 और 8

2. ✘ 180 और 8

3. ✘ 160 और 8

4. ✔ 150 और 8

Question Number : 68 Question Id : 168000668 Display Question Number : Yes Single Line Question Option : No Option Orientation : Vertical

A person deposited a certain sum in a bank on compound interest. The sum becomes ₹ 900 in 3 yrs and ₹ 1,000 in 4 yrs. The rate of interest is:

Options :

1. ✘  $\frac{100}{8}\%$

2. ✔  $\frac{100}{9}\%$

3. ✘  $\frac{100}{6}\%$

4. ✘  $\frac{100}{7}\%$

Question Number : 68 Question Id : 168000668 Display Question Number : Yes Single Line Question Option : No Option Orientation : Vertical

एक व्यक्ति ने एक बैंक में चक्रवृद्धि ब्याज पर एक निश्चित धनराशि जमा की थी। धनराशि 3 वर्ष में ₹ 900 और 4 वर्ष में ₹ 1,000 हो जाती है। ब्याज की दर होगी:

Options :

1. ✘  $\frac{100}{8}\%$

2. ✔  $\frac{100}{9}\%$

3. ✘  $\frac{100}{6}\%$

4. ✘  $\frac{100}{7}\%$

Question Number : 69 Question Id : 168000669 Display Question Number : Yes Single Line Question Option : No Option Orientation : Vertical

To pass an examination, a student needs 55% marks. If he scored 120 and failed by 78 marks, then the total marks for which the exam is conducted is:

Options :

1. ✘ 350
2. ✘ 320
3. ✔ 360
4. ✘ 330

Question Number : 69 Question Id : 168000669 Display Question Number : Yes Single Line Question Option : No Option Orientation : Vertical

एक परीक्षा उत्तीर्ण करने के लिए, एक छात्र को 55% अंक चाहिये। यदि वह 120 अंक अर्जित करता है और 78 अंकों से अनुत्तीर्ण हो जाता है, तो कुल कितने गुणों के लिए परीक्षा आयोजित की गयी है?

Options :

1. ✘ 350
2. ✘ 320
3. ✔ 360
4. ✘ 330

Question Number : 70 Question Id : 168000670 Display Question Number : Yes Single Line Question Option : No Option Orientation : Vertical

If  $x_1$  and  $x_2$  are the roots of the equation  $2x^2 + 5x + 3 = 0$ , then  $\frac{1}{x_1}$  and  $\frac{1}{x_2}$  are the roots of the equation:

Options :

1. ✘  $3x^2 - 5x - 2 = 0$
2. ✘  $3x^2 + 5x - 2 = 0$
3. ✘  $3x^2 - 5x + 2 = 0$
4. ✔  $3x^2 + 5x + 2 = 0$

Question Number : 70 Question Id : 168000670 Display Question Number : Yes Single Line Question Option : No Option Orientation : Vertical

यदि समीकरण  $2x^2 + 5x + 3 = 0$  के मूल  $x_1$  और  $x_2$  हैं, तो  $\frac{1}{x_1}$  और  $\frac{1}{x_2}$  किस समीकरण के मूल होंगे?

Options :



1. ✘  $3x^2 - 5x - 2 = 0$

2. ✘  $3x^2 + 5x - 2 = 0$

3. ✘  $3x^2 - 5x + 2 = 0$

4. ✔  $3x^2 + 5x + 2 = 0$

Question Number : 71 Question Id : 168000671 Display Question Number : Yes Single Line Question Option : No Option Orientation : Vertical

X, Y, Z invest their capitals in the ratio of 2 : 3 : 5 and their duration of investment are in the ratio of 4 : 5 : 6. The ratio of their profit is:

Options :

1. ✘ 4 : 5 : 6

2. ✔ 8 : 15 : 30

3. ✘ 1 : 2 : 3

4. ✘ 5 : 6 : 7

Question Number : 71 Question Id : 168000671 Display Question Number : Yes Single Line Question Option : No Option Orientation : Vertical

X, Y, Z अपनी पूँजी का निवेश 2 : 3 : 5 अनुपात में करते हैं और उनके निवेश की अवधि का अनुपात 4 : 5 : 6 है। उनके लाभ का अनुपात होगा:

Options :

1. ✘ 4 : 5 : 6

2. ✔ 8 : 15 : 30

3. ✘ 1 : 2 : 3

4. ✘ 5 : 6 : 7

Question Number : 72 Question Id : 168000672 Display Question Number : Yes Single Line Question Option : No Option Orientation : Vertical

X travels at 4 km/hr from a certain point. After 4 hours, Y starts his journey on bike and travels at 10 km/hr from the same point in the same direction. The distance covered by Y before he meets X is: (round to one decimal)

Options :

1. ✘ 26.8 km

2. ✘ 26.3 km
3. ✘ 26.5 km
4. ✔ 26.7 km

Question Number : 72 Question Id : 168000672 Display Question Number : Yes Single Line Question Option : No Option Orientation : Vertical

X एक निश्चित बिंदु से 4 किमी/घंटा की गति से यात्रा करता है। 4 घंटे बाद, Y बाइक द्वारा उसी बिंदु से उसी दिशा में 10 किमी/घंटा की गति से अपनी यात्रा शुरू करता है। X से मिलने से पहले Y द्वारा तय की गयी दूरी होगी: (एक दशमलव स्थान तक पूर्णांकित)

Options :

1. ✘ 26.8 किमी
2. ✘ 26.3 किमी
3. ✘ 26.5 किमी
4. ✔ 26.7 किमी

Question Number : 73 Question Id : 168000673 Display Question Number : Yes Single Line Question Option : No Option Orientation : Vertical

X, Y, Z together complete a task for ₹ 1,105. X, Y and Z alone can complete the task in 7, 8 and 11 days respectively. Then X's share is:

Options :

1. ✔ ₹ 440
2. ✘ ₹ 110
3. ✘ ₹ 400
4. ✘ ₹ 450

Question Number : 73 Question Id : 168000673 Display Question Number : Yes Single Line Question Option : No Option Orientation : Vertical

X, Y, Z एक साथ मिलकर एक कार्य को ₹ 1,105 में पूरा करते हैं। X, Y और Z अकेले इसी कार्य को क्रमशः 7, 8 और 11 दिन में पूरा कर सकते हैं। तो X का भाग होगा:

Options :

1. ✔ ₹ 440

2. ✘ ₹ 110

3. ✘ ₹ 400

4. ✘ ₹ 450

Question Number : 74 Question Id : 168000674 Display Question Number : Yes Single Line Question Option : No Option Orientation : Vertical

A vessel contains 100 litres of milk. 10% of milk is replaced with same amount of water. The same task is done 3 more times. The present quantity (in litres) of milk in the mixture is: (round to one decimal)

Options :

1. ✘ 65.4 litres

2. ✘ 65.5 litres

3. ✔ 65.6 litres

4. ✘ 65.7 litres

Question Number : 74 Question Id : 168000674 Display Question Number : Yes Single Line Question Option : No Option Orientation : Vertical

एक बर्तन में 100 लीटर दूध है। 10% दूध के स्थान पर उतनी ही मात्रा में पानी मिला दिया जाता है। यह प्रक्रिया 3 बार और की जाती है। मिश्रण में दूध की वर्तमान मात्रा (लीटर में) होगी: (एक दशमलव स्थान तक पूर्णांकित)

Options :

1. ✘ 65.4 लीटर

2. ✘ 65.5 लीटर

3. ✔ 65.6 लीटर

4. ✘ 65.7 लीटर

Question Number : 75 Question Id : 168000675 Display Question Number : Yes Single Line Question Option : No Option Orientation : Vertical

Raju sold an article for ₹ 4,000 at some profit. If he had sold it for ₹ 3,200, then he would have lost 60% of the first profit. What is the cost price of the article?

Options :

1. ✔ ₹ 3,500

2. ✘ ₹ 4,000

3. ✘ ₹ 3,600

4. ✘ ₹ 4,200

Question Number : 75 Question Id : 168000675 Display Question Number : Yes Single Line Question Option : No Option Orientation : Vertical

राजू ने एक वस्तु कुछ लाभ पर ₹ 4000 में बेची। यदि उसने इसे ₹ 3200 में बेचा होता, तो उसे पहले लाभ से 60% कम लाभ प्राप्त हुआ होता। वस्तु का क्रय मूल्य क्या है?

Options :

1. ✔ ₹ 3500

2. ✘ ₹ 4000

3. ✘ ₹ 3600

4. ✘ ₹ 4200

Question Number : 76 Question Id : 168000676 Display Question Number : Yes Single Line Question Option : No Option Orientation : Vertical

A small brick is suspended in air by a spring balance. The reading of the balance is 0.36 kg. When the piece is submerged in water, the scale reads 0.16 kg. The density of the brick is:

Options :

1. ✘  $1.2 \times 10^3 \text{ kg m}^{-3}$

2. ✘  $1.4 \times 10^3 \text{ kg m}^{-3}$

3. ✔  $1.8 \times 10^3 \text{ kg m}^{-3}$

4. ✘  $2.0 \times 10^3 \text{ kg m}^{-3}$

Question Number : 76 Question Id : 168000676 Display Question Number : Yes Single Line Question Option : No Option Orientation : Vertical

एक कमानीदार तुला द्वारा एक छोटी ईंट को हवा में लटकाया जाता है। तुला का पाठ्यांक 0.36 kg है। जब टुकड़े (ईंट) को पानी में डुबाया जाता है, तो पैमाना 0.16 kg पाठ्यांक दर्शाता है। ईंट का घनत्व है:

Options :

1. ✘  $1.2 \times 10^3 \text{ kg m}^{-3}$

2. ✘  $1.4 \times 10^3 \text{ kg m}^{-3}$

3. ✔  $1.8 \times 10^3 \text{ kg m}^{-3}$

4. ✘  $2.0 \times 10^3 \text{ kg m}^{-3}$

Question Number : 77 Question Id : 168000677 Display Question Number : Yes Single Line Question Option : No Option Orientation : Vertical

An object is dropped from a height of 320 m. The distance travelled by it in the fifth second is:  
(take  $g = 10 \text{ m/s}^2$ ):

Options :

1. ✘ 30 m

2. ✔ 45 m

3. ✘ 60 m

4. ✘ 75 m

Question Number : 77 Question Id : 168000677 Display Question Number : Yes Single Line Question Option : No Option Orientation : Vertical

एक वस्तु को 320 m की ऊंचाई से गिराया जाता है। पांचवें सेकंड में इसके द्वारा तय की गई दूरी होगी:  
(माना कि  $g = 10 \text{ m/s}^2$ )

Options :

1. ✘ 30 m

2. ✔ 45 m

3. ✘ 60 m

4. ✘ 75 m

Question Number : 78 Question Id : 168000678 Display Question Number : Yes Single Line Question Option : No Option Orientation : Vertical

An object is placed on the principal axis of a convex lens at a distance more than twice the focal length. The image formed is:

Options :

1. ✘ Real and enlarged

2. ✘ Real and of the same size

3. ✓ Real and diminished

4. ✗ Virtual and enlarged

Question Number : 78 Question Id : 168000678 Display Question Number : Yes Single Line Question Option : No Option Orientation : Vertical

एक वस्तु को एक उत्तल लेंस के मुख्य अक्ष पर उसकी फोकल लम्बाई से दोगुनी से अधिक दूरी पर रखा गया है। बनी हुई छवि होगी:

Options :

1. ✗ वास्तविक और अभिवर्धित

2. ✗ वास्तविक और उसी आकार की

3. ✓ वास्तविक और हासित

4. ✗ आभासी और अभिवर्धित

Question Number : 79 Question Id : 168000679 Display Question Number : Yes Single Line Question Option : No Option Orientation : Vertical

A ray of light passes from water into a slab of glass. As it passes from water to glass, its:

Options :

1. ✗ speed increases and wavelength decreases

2. ✗ speed decreases and wavelength increases

3. ✓ speed and wavelength both decrease

4. ✗ speed and wavelength both increase

Question Number : 79 Question Id : 168000679 Display Question Number : Yes Single Line Question Option : No Option Orientation : Vertical

प्रकाश की एक किरण पानी में से कांच के एक स्लैब में से गुजरती है। जैसे ही यह पानी में से कांच में प्रवेश करती है, तो इसकी:

Options :

1. ✗ गति बढ़ जाती है और तरंगदैर्घ्य घट जाती है

2. ✗ गति घट जाती है और तरंगदैर्घ्य बढ़ जाती है

3. ✓ गति और तरंगदैर्घ्य दोनों ही घट जाती हैं

4. ✗ गति और तरंगदैर्घ्य दोनों ही बढ़ जाती हैं

Question Number : 80 Question Id : 168000680 Display Question Number : Yes Single Line Question Option : No Option Orientation : Vertical

An object, 1.2 cm in size, is placed 16 cm in front of a convex lens of focal length 12 cm. Following Cartesian sign convention, the image distance  $v$  and the magnification  $m$  produced by the lens are respectively:

Options :

1. ✗ 24 cm, 1.5

2. ✗ 24 cm, -1.5

3. ✗ 48 cm, 3.0

4. ✓ 48 cm, -3.0

Question Number : 80 Question Id : 168000680 Display Question Number : Yes Single Line Question Option : No Option Orientation : Vertical

एक वस्तु, जिसका आकार 1.2 cm है, 12 cm की फोकल लंबाई वाले उत्तल लेंस के सामने 16 cm की दूरी पर रखी गई है। कार्टेशियन चिह्न सम्मेलन के अनुसार, लेंस द्वारा निर्मित चित्र की दूरी  $v$  और आवर्धन  $m$  क्रमशः ये होगा:

Options :

1. ✗ 24 cm, 1.5

2. ✗ 24 cm, -1.5

3. ✗ 48 cm, 3.0

4. ✓ 48 cm, -3.0

Question Number : 81 Question Id : 168000681 Display Question Number : Yes Single Line Question Option : No Option Orientation : Vertical

Which one of the following oxides is not acidic?

Options :

1. ✗  $\text{SO}_2$

2. ✗  $\text{SO}_3$

3. ✓  $\text{Na}_2\text{O}$

4. ✘ CO<sub>2</sub>

Question Number : 81 Question Id : 168000681 Display Question Number : Yes Single Line Question Option : No Option Orientation : Vertical

निम्नलिखित में से कौन सा ऑक्साइड अम्लीय नहीं है?

Options :

1. ✘ SO<sub>2</sub>

2. ✘ SO<sub>3</sub>

3. ✔ Na<sub>2</sub>O

4. ✘ CO<sub>2</sub>

Question Number : 82 Question Id : 168000682 Display Question Number : Yes Single Line Question Option : No Option Orientation : Vertical

What is the total number of structural isomers shown by pentane?

Options :

1. ✘ 2

2. ✔ 3

3. ✘ 0

4. ✘ 5

Question Number : 82 Question Id : 168000682 Display Question Number : Yes Single Line Question Option : No Option Orientation : Vertical

पेन्टेन द्वारा दर्शाए गए संरचनात्मक आइसोमर (isomers) की कुल संख्या कितनी होती है?

Options :

1. ✘ 2

2. ✔ 3

3. ✘ 0

4. ✘ 5

Question Number : 83 Question Id : 168000683 Display Question Number : Yes Single Line Question Option : No Option Orientation : Vertical



Which one of the following represents the mass of half mole of sodium atoms?

Options :

1. ✓ 11.5 gram
2. ✗ 12.5 gram
3. ✗ 1.15 gram
4. ✗ 0.115 gram

Question Number : 83 Question Id : 168000683 Display Question Number : Yes Single Line Question Option : No Option Orientation : Vertical

निम्नलिखित में से कौन सा विकल्प सोडियम परमाणु के आधे मोल का द्रव्यमान दर्शाता है?

Options :

1. ✓ 11.5 ग्राम
2. ✗ 12.5 ग्राम
3. ✗ 1.15 ग्राम
4. ✗ 0.115 ग्राम

Question Number : 84 Question Id : 168000684 Display Question Number : Yes Single Line Question Option : No Option Orientation : Vertical

Which is the functional group found in acetic acid?

Options :

1. ✗  $-\text{CONH}_2$
2. ✗  $-\text{NH}_2$
3. ✗  $>\text{CO}$
4. ✓  $-\text{COOH}$

Question Number : 84 Question Id : 168000684 Display Question Number : Yes Single Line Question Option : No Option Orientation : Vertical

एसिटिक अम्ल में कौन सा क्रियात्मक समूह पाया जाता है?

Options :

1. ✗  $-\text{CONH}_2$

2. ✘  $-\text{NH}_2$
3. ✘  $>\text{CO}$
4. ✔  $-\text{COOH}$

Question Number : 85 Question Id : 168000685 Display Question Number : Yes Single Line Question Option : No Option Orientation : Vertical

Which one of the following compounds undergoes addition reactions?

Options :

1. ✘ Propane
2. ✔ Ethene
3. ✘ Pentane
4. ✘ Butane

Question Number : 85 Question Id : 168000685 Display Question Number : Yes Single Line Question Option : No Option Orientation : Vertical

निम्नलिखित में से कौन सा यौगिक, योगात्मक अभिक्रिया से गुजरता है?

Options :

1. ✘ प्रोपेन
2. ✔ ईथेन
3. ✘ पेंटेन
4. ✘ ब्यूटेन

Question Number : 86 Question Id : 168000686 Display Question Number : Yes Single Line Question Option : No Option Orientation : Vertical

What is the meaning of "Rupabheda" in Indian classical painting?

Options :

1. ✔ The knowledge of appearances

2. ✘ Feelings of form
3. ✘ Measurement and structure
4. ✘ Graceful artistic representation

Question Number : 86 Question Id : 168000686 Display Question Number : Yes Single Line Question Option : No Option Orientation : Vertical

भारतीय शास्त्रीय चित्रकला में "रूपभेद" का क्या अर्थ होता है?

Options :

1. ✔ प्रतीति का ज्ञान
2. ✘ स्वरूप की अनुभूतियाँ
3. ✘ मापन और संरचना
4. ✘ गरिमामय कलात्मक प्रस्तुतिकरण

Question Number : 87 Question Id : 168000687 Display Question Number : Yes Single Line Question Option : No Option Orientation : Vertical

In which year did a large Indian Ocean earthquake cause a Tsunami in India?

Options :

1. ✘ 2005
2. ✔ 2004
3. ✘ 2014
4. ✘ 2013

Question Number : 87 Question Id : 168000687 Display Question Number : Yes Single Line Question Option : No Option Orientation : Vertical

हिंद महासागर में एक बहुत बड़े भूकंप के कारण भारत में किस वर्ष में सुनामी आई थी?

Options :

1. ✘ 2005
2. ✔ 2004

3. ✘ 2014

4. ✘ 2013

Question Number : 88 Question Id : 168000688 Display Question Number : Yes Single Line Question Option : No Option Orientation : Vertical

Averaging 6,100 metres, what is the highest section of the Himalayas called?

Options :

1. ✘ Kanchenjunga

2. ✘ Annapurna

3. ✔ Greater Himalayas

4. ✘ Nanda Devi

Question Number : 88 Question Id : 168000688 Display Question Number : Yes Single Line Question Option : No Option Orientation : Vertical

औसतन 6,100 मीटर की ऊंचाई वाले, हिमालय के सबसे ऊंचे खंड (चोटी) को क्या कहा जाता है?

Options :

1. ✘ कंचनजंगा

2. ✘ अन्नपूर्णा

3. ✔ बृहत्तर हिमालय

4. ✘ नंदादेवी

Question Number : 89 Question Id : 168000689 Display Question Number : Yes Single Line Question Option : No Option Orientation : Vertical

Which sector contributed to approximately 7% of India's GDP in 2016?

Options :

1. ✘ Real Estate

2. ✔ IT & ITES

3. ✘ Agriculture

## 4. ✘ Banking

Question Number : 89 Question Id : 168000689 Display Question Number : Yes Single Line Question Option : No Option Orientation : Vertical

वर्ष 2016 में किस क्षेत्र ने भारत के सकल घरेलू उत्पाद (जीडीपी) में लगभग 7% का योगदान दिया?

Options :

1. ✘ रियल एस्टेट
2. ✔ आईटी और आईटीईएस
3. ✘ कृषि
4. ✘ बैंकिंग

Question Number : 90 Question Id : 168000690 Display Question Number : Yes Single Line Question Option : No Option Orientation : Vertical

Uttarakhand was formed out of the reorganisation of which of the following states?

Options :

1. ✔ Uttar Pradesh
2. ✘ Bihar
3. ✘ Madhya Pradesh
4. ✘ Punjab

Question Number : 90 Question Id : 168000690 Display Question Number : Yes Single Line Question Option : No Option Orientation : Vertical

निम्नलिखित में से किस राज्य के पुनर्गठन से उत्तराखंड का गठन किया गया था?

Options :

1. ✔ उत्तर प्रदेश
2. ✘ बिहार
3. ✘ मध्य प्रदेश
4. ✘ पंजाब

Question Number : 91 Question Id : 168000691 Display Question Number : Yes Single Line Question Option : No Option Orientation : Vertical

Dendrology is the study of:

Options :

1. ✓ Trees
2. ✗ Roots
3. ✗ Age
4. ✗ Teeth

Question Number : 91 Question Id : 168000691 Display Question Number : Yes Single Line Question Option : No Option Orientation : Vertical

डेंड्रोलॉजी में किसका अध्ययन किया जाता है?

Options :

1. ✓ वृक्ष
2. ✗ जड़ें
3. ✗ आयु
4. ✗ दांत

Question Number : 92 Question Id : 168000692 Display Question Number : Yes Single Line Question Option : No Option Orientation : Vertical

Which country has discovered 3,500-year-old royal tomb?

Options :

1. ✓ Egypt
2. ✗ India
3. ✗ Russia
4. ✗ Cambodia

Question Number : 92 Question Id : 168000692 Display Question Number : Yes Single Line Question Option : No Option Orientation : Vertical

किस देश में 3,500 वर्ष पुरानी शाही कब्र खोजी गयी है?

Options :

1. ✓ इजिप्ट (मिस्र)

2. ✗ भारत

3. ✗ रूस

4. ✗ कंबोडिया

Question Number : 93 Question Id : 168000693 Display Question Number : Yes Single Line Question Option : No Option Orientation : Vertical

What type of game is "Kancha"?

Options :

1. ✗ Glass juggling

2. ✗ Shooting stone pebbles at glass bottles

3. ✗ Throwing small rings into glasses

4. ✓ Game played using marbles

Question Number : 93 Question Id : 168000693 Display Question Number : Yes Single Line Question Option : No Option Orientation : Vertical

“कंचा” किस प्रकार का खेल है?

Options :

1. ✗ कांच की जादूगरी

2. ✗ कांच की बोतलों पर पत्थर के कंकड़ मारना

3. ✗ ग्लास में छोटे छल्ले फेंकना

4. ✓ कांच की गोलियों से खेला जाने वाला खेल

Question Number : 94 Question Id : 168000694 Display Question Number : Yes Single Line Question Option : No Option Orientation : Vertical

Which of the following countries has won SABA U-16 Championship 2017?

Options :

1. ✗ Nepal

2. ✓ India

3. ✗ Srilanka

4. ✗ Bhutan

Question Number : 94 Question Id : 168000694 Display Question Number : Yes Single Line Question Option : No Option Orientation : Vertical

निम्नलिखित देशों में से किसने साबा अंडर-16 चैम्पियनशिप 2017 का खिताब जीता है?

Options :

1. ✗ नेपाल

2. ✓ भारत

3. ✗ श्रीलंका

4. ✗ भूटान

Question Number : 95 Question Id : 168000695 Display Question Number : Yes Single Line Question Option : No Option Orientation : Vertical

Vermiculture is used in:

Options :

1. ✗ Poultry farming

2. ✓ Organic farming

3. ✗ Animal husbandry

4. ✗ Fish harvesting

Question Number : 95 Question Id : 168000695 Display Question Number : Yes Single Line Question Option : No Option Orientation : Vertical

वर्मीकल्चर शब्द का प्रयोग इसके लिए किया जाता है:

Options :

1. ✗ मुर्गी पालन

2. ✓ जैविक खेती



3. ✘ पशुपालन

4. ✘ मत्स्य पालन

Question Number : 96 Question Id : 168000696 Display Question Number : Yes Single Line Question Option : No Option Orientation : Vertical

In a certain code language, TEACHER is coded as VGCEJGT. How is STUDENT represented in that code?

Options :

1. ✘ UWVFGPV

2. ✘ VWUFGPV

3. ✔ UVWFGPV

4. ✘ UVWGFPV

Question Number : 96 Question Id : 168000696 Display Question Number : Yes Single Line Question Option : No Option Orientation : Vertical

एक निश्चित कूट भाषा में, TEACHER को VGCEJGT लिखा जाता है। उसी कूट भाषा में STUDENT को किस प्रकार लिखा जाएगा?

Options :

1. ✘ UWVFGPV

2. ✘ VWUFGPV

3. ✔ UVWFGPV

4. ✘ UVWGFPV

Question Number : 97 Question Id : 168000697 Display Question Number : Yes Single Line Question Option : No Option Orientation : Vertical

Complete the analogy.

2/5 : 29 :: ?

Options :

1. ✘ 1/4 : 16

2. ✘ 2/5 : 36

3. ✓ 3/4 : 25

4. ✗ 4/9 : 87

Question Number : 97 Question Id : 168000697 Display Question Number : Yes Single Line Question Option : No Option Orientation : Vertical

सादृश्य को पूरा करें।

2/5 : 29 :: ?

Options :

1. ✗ 1/4 : 16

2. ✗ 2/5 : 36

3. ✓ 3/4 : 25

4. ✗ 4/9 : 87

Question Number : 98 Question Id : 168000698 Display Question Number : Yes Single Line Question Option : No Option Orientation : Vertical

Select the set of letters from the options that completes the first word and begins the second word.

NOTI(\_\_\_\_)MENT

Options :

1. ✗ EC

2. ✗ ON

3. ✗ ER

4. ✓ CE

Question Number : 98 Question Id : 168000698 Display Question Number : Yes Single Line Question Option : No Option Orientation : Vertical

दिए गए विकल्पों में से अक्षरों के उस समूह (समुच्चय) का चयन करें जो पहले शब्द को पूरा करता हो और दूसरे शब्द का आरम्भ करता हो।

NOTI(\_\_\_\_)MENT

Options :

1. ✗ EC

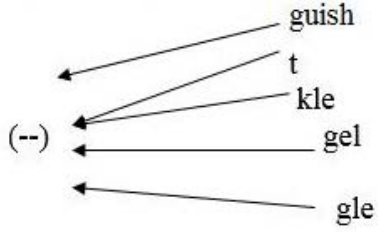
2. ✗ ON

3. ✘ ER

4. ✔ CE

Question Number : 99 Question Id : 168000699 Display Question Number : Yes Single Line Question Option : No Option Orientation : Vertical

Select the set of letters that can be prefixed to all the set of letters given in the image to form a meaningful English word.



Options :

1. ✘ cy

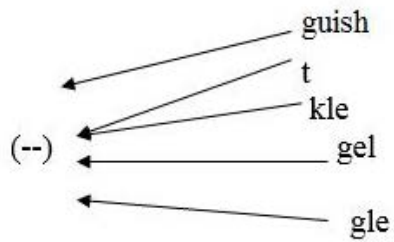
2. ✔ an

3. ✘ De

4. ✘ Ny

Question Number : 99 Question Id : 168000699 Display Question Number : Yes Single Line Question Option : No Option Orientation : Vertical

अक्षरों के उस समूह (समुच्चय) का चयन करें जिसे चित्र में दिए गए प्रत्येक अक्षर-समूह के साथ उपसर्ग के रूप में जोड़े जाने पर एक अर्थपूर्ण अंग्रेज़ी शब्द बने।



Options :

1. ✘ cy

2. ✔ an

3. ✘ De

4. ✘ Ny

Question Number : 100 Question Id : 168000700 Display Question Number : Yes Single Line Question Option : No Option Orientation : Vertical

Select the number that would fit in the blank in the below series:

80, 68, 58, 50, 44, \_\_\_\_\_, 38

Options :

1. ✘ 36

2. ✘ 46

3. ✘ 42

4. ✔ 40

Question Number : 100 Question Id : 168000700 Display Question Number : Yes Single Line Question Option : No Option Orientation : Vertical

उस संख्या का चयन करें जो नीचे दी गई श्रृंखला के रिक्त स्थान के लिए उपयुक्त हो:

80, 68, 58, 50, 44, \_\_\_\_\_, 38

Options :

1. ✘ 36

2. ✘ 46

3. ✘ 42

4. ✔ 40