



## Haryana Staff Selection Commission

**Notations :**

1. Options shown in **green** color and with  icon are correct.
2. Options shown in **red** color and with  icon are incorrect.

<b>Subject Name:</b>	CAT 2 Steno Typist Hindi CBT Exam
<b>Total Marks:</b>	200
<b>Display Marks:</b>	Yes
<b>Calculator:</b>	None
<b>Magnifying Glass Required?:</b>	No
<b>Ruler Required?:</b>	No
<b>Eraser Required?:</b>	No
<b>Scratch Pad Required?:</b>	No
<b>Rough Sketch/Notepad Required?:</b>	No
<b>Protractor Required?:</b>	No

CAT 2 Steno Typist Hindi CBT Exam

**Group Marks:** 200





CAT 2 Steno Typist Hindi CBT Exam

<b>Section Marks:</b>	200
<b>Display Number Panel:</b>	Yes
<b>Group All Questions:</b>	No

**Question Number : 1 Question Id : 260269301 Display Question Number : Yes Single Line Question Option : No Option Orientation : Vertical**

Which of the following battle marked the end of Maratha rule in Haryana region?

**Options :**

1.  Battle of Narnaul, 1780
2.  Battle of Gokalgarh, 1798
3.  Battle of Laswari, 1803
4.  Battle of Chhachhrauli, 1818

Question Number : 1 Question Id : 260269301 Display Question Number : Yes Single Line Question Option : No Option Orientation : Vertical

निम्नलिखित में से किस युद्ध के बाद हरियाणा क्षेत्र में मराठा शासन का अंत हो गया था?

Options :

1. ✘ नारनौल की लड़ाई, 1780
2. ✘ गोकलगढ़ की लड़ाई, 1798
3. ✔ लसवारी की लड़ाई, 1803
4. ✘ छछरौली की लड़ाई, 1818

Question Number : 2 Question Id : 260269302 Display Question Number : Yes Single Line Question Option : No Option Orientation : Vertical

Who ruled over Haryana territory at the time of Ghaznavid invasions?

Options :

1. ✘ Bhatti Rajputs of western Haryana
2. ✘ Chauhan Rajputs of Ajmer
3. ✘ Jatus Rajputs of Agroha
4. ✔ Tomar Rajputs of Delhi

Question Number : 2 Question Id : 260269302 Display Question Number : Yes Single Line Question Option : No Option Orientation : Vertical

गजनवी के आक्रमणों के समय हरियाणा राज्य पर किसका शासन था?

Options :

1. ✘ पश्चिमी हरियाणा के भाटी राजपूत
2. ✘ अजमेर के चौहान राजपूत
3. ✘ आगरा के जाटस राजपूत
4. ✔ दिल्ली के तोमर राजपूत

Question Number : 3 Question Id : 260269303 Display Question Number : Yes Single Line Question Option : No Option Orientation : Vertical

Which dynasty ruled over Haryana at the time of Timurid invasions?

Options :

1. ✘ Khiljis
2. ✔ Tughlaqs
3. ✘ Sayyids
4. ✘ Lodis

Question Number : 3 Question Id : 260269303 Display Question Number : Yes Single Line Question Option : No Option Orientation : Vertical

तिमूरिद के हमलों के दौरान हरियाणा पर किस राजवंश का शासन था?

Options :

1. ✘ खिलजी
2. ✔ तुगलक
3. ✘ सैयद
4. ✘ लोदी

Question Number : 4 Question Id : 260269304 Display Question Number : Yes Single Line Question Option : No Option Orientation : Vertical

Which of the following was **NOT** a *Sarkar* during Akbar's rule?

Options :

1. ✔ Ambala
2. ✘ Delhi
3. ✘ Hissar
4. ✘ Sarhind

Question Number : 4 Question Id : 260269304 Display Question Number : Yes Single Line Question Option : No Option Orientation : Vertical

निम्नलिखित में से कौन सी सरकार, अकबर के शासन के दौरान नहीं थी?

Options :

1. ✔ अंबाला

2. ✘ दिल्ली
3. ✘ हिसार
4. ✘ सरहिंद

Question Number : 5 Question Id : 260269305 Display Question Number : Yes Single Line Question Option : No Option Orientation : Vertical

What is the slogan given by Haryana Chief Minister Manohar Lal Khattar to eradicate casteism?

Options :

1. ✘ Ek Haryana, Shresth Haryana
2. ✔ Haryana Ek, Haryanvi Ek
3. ✘ Sabka Saath, Sabka Vikas
4. ✘ Acche Din Aane Wale Hain

Question Number : 5 Question Id : 260269305 Display Question Number : Yes Single Line Question Option : No Option Orientation : Vertical

जातिवाद को समाप्त करने के लिए हरियाणा के मुख्यमंत्री मनोहर लाल खट्टर द्वारा दिया गया नारा क्या है?

Options :

1. ✘ एक हरियाणा, श्रेष्ठ हरियाणा
2. ✔ हरियाणा एक, हरियाणवी एक
3. ✘ सबका साथ, सबका विकास
4. ✘ अच्छे दिन आने वाले हैं

Question Number : 6 Question Id : 260269306 Display Question Number : Yes Single Line Question Option : No Option Orientation : Vertical

Which among the following was one of the first two districts to adopt the Mahila Police Volunteer Initiative?

Options :

1. ✔ Mahendragarh
2. ✘ Sonipat

3. ✘ Kurukshetra

4. ✘ Faridabad

Question Number : 6 Question Id : 260269306 Display Question Number : Yes Single Line Question Option : No Option Orientation : Vertical

निम्नलिखित में से कौन सा जिला महिला पुलिस स्वयंसेवी पहल को अपनाने वाले पहले दो जिलों में से एक था?

Options :

1. ✔ महेंद्रगढ़

2. ✘ सोनीपत

3. ✘ कुरुक्षेत्र

4. ✘ फरीदाबाद

Question Number : 7 Question Id : 260269307 Display Question Number : Yes Single Line Question Option : No Option Orientation : Vertical

The Indian women's hockey team, led by Ritu Rani from Haryana, became the first women's hockey team from India to qualify for the Olympics after a gap of \_\_\_\_\_ years.

Options :

1. ✘ 6

2. ✘ 16

3. ✘ 26

4. ✔ 36

Question Number : 7 Question Id : 260269307 Display Question Number : Yes Single Line Question Option : No Option Orientation : Vertical

हरियाणा के रितु रानी के नेतृत्व वाली भारतीय महिला हॉकी टीम, \_\_\_\_\_ वर्ष के अंतराल के बाद ओलंपिक के लिए क्वालीफाई करने वाली भारत की पहली महिला हॉकी टीम बन गई।

Options :

1. ✘ 6

2. ✘ 16

3. ✘ 26



4. ✓ 36

Question Number : 8 Question Id : 260269308 Display Question Number : Yes Single Line Question Option : No Option  
Orientation : Vertical

Haryana was the \_\_\_\_\_ state in the country to allow the revision of pension and family pension as per 7<sup>th</sup> Pay Commission.

Options :

1. ✓ 1<sup>st</sup>2. ✗ 2<sup>nd</sup>3. ✗ 3<sup>rd</sup>4. ✗ 4<sup>th</sup>

Question Number : 8 Question Id : 260269308 Display Question Number : Yes Single Line Question Option : No Option  
Orientation : Vertical

7 वें वेतन आयोग के अनुसार हरियाणा राज्य, पेंशन और पारिवारिक पेंशन में संशोधन की अनुमति देने वाला देश का \_\_\_\_\_ राज्य था।

Options :

1. ✓ पहला

2. ✗ दूसरा

3. ✗ तीसरा

4. ✗ चौथा

Question Number : 9 Question Id : 260269309 Display Question Number : Yes Single Line Question Option : No Option  
Orientation : Vertical

Who is the author of the children's literature book 'Papa Mammi Par Mukadama'?

Options :

1. ✗ Vishwabandhu Sharma

2. ✓ Ghamandi Lal Aggarwal

3. ✗ Liladhar Dukhi

4. ✗ Kamla Chamola

Question Number : 9 Question Id : 260269309 Display Question Number : Yes Single Line Question Option : No Option Orientation : Vertical

बाल साहित्य 'पापा मम्मी पर मुकदमा' के लेखक कौन हैं?

Options :

1. ✘ विश्वबंधु शर्मा
2. ✔ घमंडी लाल अग्रवाल
3. ✘ लीलाधर दुखी
4. ✘ कमला चमोला

Question Number : 10 Question Id : 260269310 Display Question Number : Yes Single Line Question Option : No Option Orientation : Vertical

Who among the following is the author of the novel 'Sindhu Putra'?

Options :

1. ✔ Amrit Lal Madaan
2. ✘ Deepchand Nirmohi
3. ✘ Kumar Ravindra
4. ✘ Rakesh Vatsa

Question Number : 10 Question Id : 260269310 Display Question Number : Yes Single Line Question Option : No Option Orientation : Vertical

उपन्यास 'सिंधु पुत्र' के लेखक निम्नलिखित में से कौन हैं?

Options :

1. ✔ अमृत लाल मदान
2. ✘ दीपचंद निर्मोही
3. ✘ कुमार रवींद्र
4. ✘ राकेश वत्स

Question Number : 11 Question Id : 260269311 Display Question Number : Yes Single Line Question Option : No Option Orientation : Vertical

The novel 'Nardansh' is written by:

Options :

1. ✘ Indira Swapna
2. ✘ Pawan Chaudhari
3. ✔ Rakesh Vatsa
4. ✘ Madhukant

Question Number : 11 Question Id : 260269311 Display Question Number : Yes Single Line Question Option : No Option Orientation : Vertical

'नरदंश' नामक उपन्यास इन्होंने लिखा है:

Options :

1. ✘ इंदिरा स्वप्न
2. ✘ पवन चौधरी
3. ✔ राकेश वत्स
4. ✘ मधुकांत

Question Number : 12 Question Id : 260269312 Display Question Number : Yes Single Line Question Option : No Option Orientation : Vertical

Which river separates the present boundary of Haryana from Uttar Pradesh?

Options :

1. ✔ Yamuna
2. ✘ Ghaggar
3. ✘ Tangri
4. ✘ Markanda

Question Number : 12 Question Id : 260269312 Display Question Number : Yes Single Line Question Option : No Option Orientation : Vertical

कौन सी नदी हरियाणा की वर्तमान सीमा को उत्तर प्रदेश से अलग करती है?

Options :



1. ✓ यमुना
2. ✗ घग्गर
3. ✗ तान्गरी
4. ✗ मार्कडा

Question Number : 13 Question Id : 260269313 Display Question Number : Yes Single Line Question Option : No Option Orientation : Vertical

Which of the following is the new police district of Haryana?

Options :

1. ✗ Mahendragarh
2. ✗ Kaithal
3. ✓ Hansi
4. ✗ Jind

Question Number : 13 Question Id : 260269313 Display Question Number : Yes Single Line Question Option : No Option Orientation : Vertical

निम्नलिखित में से कौन सा हरियाणा का नया पुलिस जिला है?

Options :

1. ✗ महेंद्रगढ़
2. ✗ कैथल
3. ✓ हंसी
4. ✗ जींद

Question Number : 14 Question Id : 260269314 Display Question Number : Yes Single Line Question Option : No Option Orientation : Vertical

How many police ranges are there in Haryana?

Options :

1. ✗ Four
2. ✓ Five

3. ✘ Six

4. ✘ Seven

Question Number : 14 Question Id : 260269314 Display Question Number : Yes Single Line Question Option : No Option Orientation : Vertical

हरियाणा में कुल कितनी पुलिस श्रेणियां हैं?

Options :

1. ✘ चार

2. ✔ पांच

3. ✘ छह

4. ✘ सात

Question Number : 15 Question Id : 260269315 Display Question Number : Yes Single Line Question Option : No Option Orientation : Vertical

In the Haryana Legislative Assembly (Vidhan Sabha) Elections 2014, Congress MLA Jai Tirath defeated the Indian National Lok Dal's (INLD) candidate Inderjeet by just \_\_\_\_\_ votes.

Options :

1. ✔ 3

2. ✘ 5

3. ✘ 7

4. ✘ 9

Question Number : 15 Question Id : 260269315 Display Question Number : Yes Single Line Question Option : No Option Orientation : Vertical

हरियाणा विधान सभा चुनाव 2014 में कांग्रेस के विधायक जय तीरथ ने इंडियन नेशनल लोक दल (INLD) के उम्मीदवार इंद्रजीत को केवल \_\_\_\_\_ मतों से हराया था।

Options :

1. ✔ 3

2. ✘ 5

3. ✘ 7

4. ✘ 9

Question Number : 16 Question Id : 260269316 Display Question Number : Yes Single Line Question Option : No Option Orientation : Vertical

In 2006, the Haryana State Board of Technical Education had accepted the recommendations of a committee headed by Navin Jindal for improvement of the standard of \_\_\_\_\_ education in Haryana.

Options :

1. ✘ Primary
2. ✘ Higher
3. ✔ Polytechnic
4. ✘ Secondary

Question Number : 16 Question Id : 260269316 Display Question Number : Yes Single Line Question Option : No Option Orientation : Vertical

2006 में, हरियाणा राज्य तकनीकी शिक्षा बोर्ड ने हरियाणा में \_\_\_\_\_ शिक्षा के मानकों में सुधार के लिए नवीन जिंदल की अध्यक्षता वाली समिति की सिफारिशों को स्वीकार कर लिया।

Options :

1. ✘ प्राथमिक
2. ✘ उच्चतम
3. ✔ पॉलिटेक्निक
4. ✘ माध्यमिक

Question Number : 17 Question Id : 260269317 Display Question Number : Yes Single Line Question Option : No Option Orientation : Vertical

In all, there are \_\_\_\_\_ panchayat samitis in Haryana.

Options :

1. ✘ 110
2. ✘ 115
3. ✔ 119
4. ✘ 123

Question Number : 17 Question Id : 260269317 Display Question Number : Yes Single Line Question Option : No Option Orientation : Vertical

कुल मिलाकर हरियाणा में \_\_\_\_\_ पंचायत समितियां हैं।

Options :

1. ✘ 110
2. ✘ 115
3. ✔ 119
4. ✘ 123

Question Number : 18 Question Id : 260269318 Display Question Number : Yes Single Line Question Option : No Option Orientation : Vertical

The Government of Haryana had constituted a Pay Anomalies Commission for the removal of pay anomalies and deviations which was headed by:

Options :

1. ✘ Vivek Padam Singh
2. ✔ G. Madhavan
3. ✘ S. P. Verma
4. ✘ Daljit Singh

Question Number : 18 Question Id : 260269318 Display Question Number : Yes Single Line Question Option : No Option Orientation : Vertical

हरियाणा सरकार ने वेतन विसंगतियों और अंतरों को खत्म करने के लिए वेतन विसंगति आयोग का गठन किया था। इसकी अध्यक्षता किसने की थी?

Options :

1. ✘ विवेक पदम सिंह
2. ✔ जी. माधवन
3. ✘ एस. पी. वर्मा
4. ✘ दलजीत सिंह

Question Number : 19 Question Id : 260269319 Display Question Number : Yes Single Line Question Option : No Option Orientation : Vertical

The geological formation of Haryana can be categorised into three of the following geological systems. Find the odd one out.

Options :

1. ✓ Chota Nagpur plateau
2. ✗ Aravalli System
3. ✗ Shivalik Range
4. ✗ Indo-Gangetic Alluvial Plains

Question Number : 19 Question Id : 260269319 Display Question Number : Yes Single Line Question Option : No Option Orientation : Vertical

हरियाणा के भूगर्भीय गठन को निम्नलिखित भौगोलिक प्रणालियों में से तीन में वर्गीकृत किया जा सकता है। इनमें से असंगत की पहचान करें।

Options :

1. ✓ छोटा नागपुर पठार
2. ✗ अरावली पर्वतमाला
3. ✗ शिवालिक रेंज
4. ✗ सिंधु-गंगा के मैदानी क्षेत्र

Question Number : 20 Question Id : 260269320 Display Question Number : Yes Single Line Question Option : No Option Orientation : Vertical

\_\_\_\_\_ city is famous in India by the name of 'City of Weavers'.

Options :

1. ✓ Panipat
2. ✗ Jind
3. ✗ Bhiwani
4. ✗ Palwal

Question Number : 20 Question Id : 260269320 Display Question Number : Yes Single Line Question Option : No Option Orientation : Vertical

\_\_\_\_\_ शहर भारत में 'बुनकरों के शहर' के नाम से प्रसिद्ध है।

Options :



1. ✓ पानीपत

2. ✗ जींद

3. ✗ भिवानी

4. ✗ पलवल

Question Number : 21 Question Id : 260269321 Display Question Number : Yes Single Line Question Option : No Option Orientation : Vertical

As per India State of Forest Report 2015, approximately \_\_\_\_\_ of Haryana's geographical area is under forest cover.

Options :

1. ✓ 1,584 sq.km

2. ✗ 2,224 sq.km

3. ✗ 7,288 sq.km

4. ✗ 3,357 sq.km

Question Number : 21 Question Id : 260269321 Display Question Number : Yes Single Line Question Option : No Option Orientation : Vertical

भारत राज्य वन रिपोर्ट 2015 के अनुसार, हरियाणा के भौगोलिक क्षेत्र का लगभग \_\_\_\_\_ वन क्षेत्र में है।

Options :

1. ✓ 1,584 वर्ग किलोमीटर

2. ✗ 2,224 वर्ग किलोमीटर

3. ✗ 7,288 वर्ग किलोमीटर

4. ✗ 3,357 वर्ग किलोमीटर

Question Number : 22 Question Id : 260269322 Display Question Number : Yes Single Line Question Option : No Option Orientation : Vertical

The Jhumar Dance is also known as:

Options :

1. ✗ Haryanvi Saang

2. ✓ Haryanvi Gidda

3. ✗ Daph

4. ✗ Chaupia

Question Number : 22 Question Id : 260269322 Display Question Number : Yes Single Line Question Option : No Option Orientation : Vertical

झूमर नृत्य को किस नाम से भी जाना जाता है?

Options :

1. ✗ हरियाणवी सांग

2. ✓ हरियाणवी गिद्धा

3. ✗ डाफ

4. ✗ चौपिया

Question Number : 23 Question Id : 260269323 Display Question Number : Yes Single Line Question Option : No Option Orientation : Vertical

According to legend, whose mundan (head tonsuring) ceremony was performed at the Bhadrakali Temple of Kurukshetra?

Options :

1. ✓ Shri Krishna and Balaram

2. ✗ Arjuna and Yudhishtira

3. ✗ Shri Ram and Lakshman

4. ✗ Bharat and Shatrughna

Question Number : 23 Question Id : 260269323 Display Question Number : Yes Single Line Question Option : No Option Orientation : Vertical

पौराणिक कथाओं के अनुसार, कुरुक्षेत्र के भद्रकाली मंदिर में किसके मुंडन (सिर का मुंडन) का अनुष्ठान किया गया था?

Options :

1. ✓ श्री कृष्ण और बलराम

2. ✗ अर्जुन और युधिष्ठिर

3. ✘ श्रीराम और लक्ष्मण

4. ✘ भरत और शत्रुघ्न

Question Number : 24 Question Id : 260269324 Display Question Number : Yes Single Line Question Option : No Option Orientation : Vertical

Who among the following is known to be the architect of modern Kurukshetra?

Options :

1. ✘ Dr. Sarup Singh

2. ✘ Ranbir Singh Hooda

3. ✘ Nihal Singh Takshak

4. ✔ Gulzarilal Nanda

Question Number : 24 Question Id : 260269324 Display Question Number : Yes Single Line Question Option : No Option Orientation : Vertical

निम्नलिखित में से किसको आधुनिक कुरुक्षेत्र का वास्तुकार माना जाता है?

Options :

1. ✘ डॉ. सरूप सिंह

2. ✘ रणबीर सिंह हुड्डा

3. ✘ निहाल सिंह तक्षक

4. ✔ गुलजारिलाल नंदा

Question Number : 25 Question Id : 260269325 Display Question Number : Yes Single Line Question Option : No Option Orientation : Vertical

Which among the following is considered one of the 51 Shakti Pithas of India?

Options :

1. ✘ Prachi Shiva Temple in Kurukshetra

2. ✘ Kartikeya Temple in Pehowa

3. ✔ Bhadrakali Temple in Kurukshetra

## 4. ✘ Brahm Sarovar in Kurukshetra


Question Number : 25 Question Id : 260269325 Display Question Number : Yes Single Line Question Option : No Option Orientation : Vertical

निम्नलिखित में से किसको भारत के 51 शक्ति पीठों में से एक माना जाता है?

Options :

1. ✘ कुरुक्षेत्र में प्राची शिव मंदिर
2. ✘ पहोवा में कार्तिकेय मंदिर
3. ✔ कुरुक्षेत्र में भद्रकाली मंदिर
4. ✘ कुरुक्षेत्र में ब्रह्म सरोवर


Question Number : 26 Question Id : 260269326 Display Question Number : Yes Single Line Question Option : No Option Orientation : Vertical

मात्रा के अनुसार इस चिह्न  का सही विकल्प बताए?

Options :

1. ✘ मास्क
2. ✘ मासक
3. ✔ मासूक
4. ✘ मास्को

Question Number : 26 Question Id : 260269326 Display Question Number : Yes Single Line Question Option : No Option Orientation : Vertical

मात्रा के अनुसार इस चिह्न  का सही विकल्प बताए?

Options :



1. ✘ मास्क
2. ✘ मासक

3. ✓ मासूक

4. ✗ मास्को

Question Number : 27 Question Id : 260269327 Display Question Number : Yes Single Line Question Option : No Option Orientation : Vertical

‘उन्होंने’ का शब्द-चिह्न पहचानें:

A. B. C. D. 

Options :

1. ✗ A





2. ✓ B

3. ✗ C

4. ✗ D

Question Number : 27 Question Id : 260269327 Display Question Number : Yes Single Line Question Option : No Option Orientation : Vertical

‘उन्होंने’ का शब्द-चिह्न पहचानें:

A. B. C. D. 



Options :

1. ✘ A

2. ✔ B

3. ✘ C

4. ✘ D

Question Number : 28 Question Id : 260269328 Display Question Number : Yes Single Line Question Option : No Option Orientation : Vertical

इस शब्द-चिह्न को पहचानें — :

Options :

1. ✘ दो

2. ✘ तीन

3. ✘ चार

4. ✔ एक

Question Number : 28 Question Id : 260269328 Display Question Number : Yes Single Line Question Option : No Option Orientation : Vertical

इस शब्द-चिह्न को पहचानें — :

Options :

1. ✘ दो

2. ✘ तीन

3. ✘ चार


4. ✔ एक

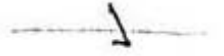
Question Number : 29 Question Id : 260269329 Display Question Number : Yes Single Line Question Option : No Option Orientation : Vertical

'तब' का शब्द-चिह्न पहचानें:

A. 

B. 

C. 

D. 

Options :

1. ✘ A

2. ✘ B

3. ✘ C


4. ✔ D


Question Number : 29 Question Id : 260269329 Display Question Number : Yes Single Line Question Option : No Option Orientation : Vertical

'तब' का शब्द-चिह्न पहचानें:

A. 

B. 

C. 

D. 

Options :


1. ✘ A

2. ✘ B

3. ✘ C

4. ✔ D


Question Number : 30 Question Id : 260269330 Display Question Number : Yes Single Line Question Option : No Option Orientation : Vertical

इस शब्द-चिह्न को पहचानें: 

Options :

1. ✓ अन्तर
2. ✗ अंदर
3. ✗ अन्यत्र
4. ✗ अन्डर

Question Number : 30 Question Id : 260269330 Display Question Number : Yes Single Line Question Option : No Option Orientation : Vertical





इस शब्द-चिह्न को पहचानें: 

Options :

1. ✓ अन्तर
2. ✗ अंदर
3. ✗ अन्यत्र
4. ✗ अन्डर

Question Number : 31 Question Id : 260269331 Display Question Number : Yes Single Line Question Option : No Option Orientation : Vertical

'हिन्दुस्तान' का सही शब्द-चिह्न बताएँ:

- A. 
- B. 
- C. 
- D. 

Options :

1. ✗ A

2. ✘ B

3. ✔ C

4. ✘ D

Question Number : 31 Question Id : 260269331 Display Question Number : Yes Single Line Question Option : No Option Orientation : Vertical

'हिन्दुस्तान' का सही शब्द-चिह्न बताएँ:

A. 

B. 

C. 

D. 

Options :


1. ✘ A

2. ✘ B

3. ✔ C

4. ✘ D

Question Number : 32 Question Id : 260269332 Display Question Number : Yes Single Line Question Option : No Option Orientation : Vertical

इस शब्द-चिह्न को पहचानें: 

Options :


1. ✘ ज़वाब

2. ✘ बाबत

3. ✘ बनिस्पत

## 4. ✓ जवाब-तलब

Question Number : 32 Question Id : 260269332 Display Question Number : Yes Single Line Question Option : No Option Orientation : Vertical

इस शब्द-चिह्न को पहचानें: 

Options :

1. ✗ ज़वाब

2. ✗ बाबत

3. ✗ बनिस्पत

4. ✓ जवाब-तलब

Question Number : 33 Question Id : 260269333 Display Question Number : Yes Single Line Question Option : No Option Orientation : Vertical

'व्यापार' का सही शब्द-चिह्न पहचानें:

A. 

B. 

C. 

D. 

Options :

1. ✗ A

2. ✓ B





3. ✗ C

4. ✗ D

Question Number : 33 Question Id : 260269333 Display Question Number : Yes Single Line Question Option : No Option Orientation : Vertical



‘व्यापार’ का सही शब्द-चिह्न पहचानें:





- A. 
- B. 
- C. 
- D. 

Options :

1. ✘ A
2. ✔ B
3. ✘ C
4. ✘ D

Question Number : 34 Question Id : 260269334 Display Question Number : Yes Single Line Question Option : No Option Orientation : Vertical

पूर्ण नियमानुसार लिखे ‘देशी व्यापार आदि से’ का सही विकल्प पहचानें:





- A. 
- B. 
- C. 
- D. 

Options :

1. ✔ A
2. ✘ B
3. ✘ C
4. ✘ D

Question Number : 34 Question Id : 260269334 Display Question Number : Yes Single Line Question Option : No Option Orientation : Vertical


पूर्ण नियमानुसार लिखे 'देशी व्यापार आदि से' का सही विकल्प पहचानें:

- A. 
- B. 
- C. 
- D. 

Options :

1. ✓ A
2. ✗ B
3. ✗ C
4. ✗ D


Question Number : 35 Question Id : 260269335 Display Question Number : Yes Single Line Question Option : No Option Orientation : Vertical

सर्वनाम के अनुसार इस शब्द-चिह्न को पहचानें: 

Options :

1. ✓ किन्हीने
2. ✗ किन्हींने
3. ✗ किनने
4. ✗ किनसे

Question Number : 35 Question Id : 260269335 Display Question Number : Yes Single Line Question Option : No Option Orientation : Vertical

सर्वनाम के अनुसार इस शब्द-चिह्न को पहचानें: 

Options :

1. ✓ किन्हीने


2. ✗ किन्होंने

3. ✗ किनने

4. ✗ किनसे


Question Number : 36 Question Id : 260269336 Display Question Number : Yes Single Line Question Option : No Option Orientation : Vertical

सर्वनाम के अनुसार 'उनमें' का सही शब्द-चिह्न पहचानें:

A. 

B. 

C. 

D. 

Options :

1. ✗ A


2. ✓ B

3. ✗ C

4. ✗ D


Question Number : 36 Question Id : 260269336 Display Question Number : Yes Single Line Question Option : No Option Orientation : Vertical

सर्वनाम के अनुसार 'उनमें' का सही शब्द-चिह्न पहचानें:

A. 

B. 

C. 

D. 

Options :

1. ✘ A

2. ✔ B

3. ✘ C

4. ✘ D

Question Number : 37 Question Id : 260269337 Display Question Number : Yes Single Line Question Option : No Option Orientation : Vertical

'लम्बा' का सही शब्द-चिह्न पहचानें:

A. 

B. 

C. 

D. 

Options :

1. ✔ A

2. ✘ B

3. ✘ C

4. ✘ D

Question Number : 37 Question Id : 260269337 Display Question Number : Yes Single Line Question Option : No Option Orientation : Vertical

‘लम्बा’ का सही शब्द-चिह्न पहचानें:

A. B. C. D. 

Options :

1. ✔ A



2. ✘ B

3. ✘ C

4. ✘ D

Question Number : 38 Question Id : 260269338 Display Question Number : Yes Single Line Question Option : No Option Orientation : Vertical

‘प्रस्ताव’ को शब्द-चिह्न के अनुसार पहचानें:

A. B. C. D. 

Options :

1. ✓ A

2. ✗ B

3. ✗ C

4. ✗ D

Question Number : 38 Question Id : 260269338 Display Question Number : Yes Single Line Question Option : No Option Orientation : Vertical

‘प्रस्ताव’ को शब्द-चिह्न के अनुसार पहचानें:

A. 

B. 

C. 

D. 

Options :

1. ✓ A

2. ✗ B





3. ✗ C

4. ✗ D

Question Number : 39 Question Id : 260269339 Display Question Number : Yes Single Line Question Option : No Option Orientation : Vertical



वाक्यांश के अनुसार 'जाँच-पड़ताल' पहचानें:





- A. 
- B. 
- C. 
- D. 

Options :

1. ✘ A
2. ✘ B
3. ✘ C
4. ✔ D

Question Number : 39 Question Id : 260269339 Display Question Number : Yes Single Line Question Option : No Option Orientation : Vertical

वाक्यांश के अनुसार 'जाँच-पड़ताल' पहचानें:





- A. 
- B. 
- C. 
- D. 

Options :

1. ✘ A
2. ✘ B
3. ✘ C
4. ✔ D

Question Number : 40 Question Id : 260269340 Display Question Number : Yes Single Line Question Option : No Option Orientation : Vertical

व्यंजन को दुगुना करने के नियम के अनुसार 'आडम्बर' का शब्द-चिह्न को पहचानें:

- A. 
- B. 
- C. 
- D. 

Options :

1. ✔ A

2. ✘ B

3. ✘ C

4. ✘ D

Question Number : 40 Question Id : 260269340 Display Question Number : Yes Single Line Question Option : No Option Orientation : Vertical

व्यंजन को दुगुना करने के नियम के अनुसार 'आडम्बर' का शब्द-चिह्न को पहचानें:

A. 

B. 

C. 

D. 

Options :

1. ✔ A





2. ✘ B

3. ✘ C

4. ✘ D

Question Number : 41 Question Id : 260269341 Display Question Number : Yes Single Line Question Option : No Option Orientation : Vertical

‘खुद’ का सही शब्द-चिह्न पहचानें:





- A. 
- B. 
- C. 
- D. 

Options :

1. ✘ A
2. ✔ B
3. ✘ C
4. ✘ D

Question Number : 41 Question Id : 260269341 Display Question Number : Yes Single Line Question Option : No Option Orientation : Vertical

‘खुद’ का सही शब्द-चिह्न पहचानें:

- A. 
- B. 
- C. 
- D. 

Options :

1. ✘ A

2. ✓ B

3. ✗ C

4. ✗ D

Question Number : 42 Question Id : 260269342 Display Question Number : Yes Single Line Question Option : No Option Orientation : Vertical

ऋषि प्रणाली शीघ्र लिपि की पुस्तक 'हिन्दी संकेत लिपि' का प्रथम संस्करण किस सन् में प्रकाशित हुआ था?

Options :

1. ✗ सन् 1932

2. ✗ सन् 1949

3. ✓ सन् 1938

4. ✗ सन् 1935

Question Number : 42 Question Id : 260269342 Display Question Number : Yes Single Line Question Option : No Option Orientation : Vertical

ऋषि प्रणाली शीघ्र लिपि की पुस्तक 'हिन्दी संकेत लिपि' का प्रथम संस्करण किस सन् में प्रकाशित हुआ था?

Options :

1. ✗ सन् 1932

2. ✗ सन् 1949

3. ✓ सन् 1938

4. ✗ सन् 1935

Question Number : 43 Question Id : 260269343 Display Question Number : Yes Single Line Question Option : No Option Orientation : Vertical

ऋषि प्रणाली हिन्दी शीघ्र लिपि को किस सन् में भारत सरकार की शॉर्ट-हैण्ड एंव टाइपराइटिंग कमेटी ने संस्तुत करते हुए मान्यता प्रदान की थी?

Options :

1. ✗ सन् 1954

2. ✓ सन् 1948

3. ✘ सन् 1952

4. ✘ सन् 1955

Question Number : 43 Question Id : 260269343 Display Question Number : Yes Single Line Question Option : No Option Orientation : Vertical

ऋषि प्रणाली हिन्दी शीघ्र लिपि को किस सन् में भारत सरकार की शॉर्ट-हैण्ड एंव टाइपराइटिंग कमेटी ने संस्तुत करते हुए मान्यता प्रदान की थी?

Options :

1. ✘ सन् 1954

2. ✔ सन् 1948

3. ✘ सन् 1952

4. ✘ सन् 1955

Question Number : 44 Question Id : 260269344 Display Question Number : Yes Single Line Question Option : No Option Orientation : Vertical

शॉर्ट-हैण्ड को हिन्दी संकेत लिपि और शीघ्रलिपि के अलावा किस नाम से जाना जाता है?

Options :

1. ✘ टंकण लिपि

2. ✘ प्रयोग लिपि

3. ✘ उपयोग लिपि

4. ✔ त्वरा लिपि

Question Number : 44 Question Id : 260269344 Display Question Number : Yes Single Line Question Option : No Option Orientation : Vertical

शॉर्ट-हैण्ड को हिन्दी संकेत लिपि और शीघ्रलिपि के अलावा किस नाम से जाना जाता है?

Options :

1. ✘ टंकण लिपि

2. ✘ प्रयोग लिपि

3. ✘ उपयोग लिपि



## 4. ✓ त्वरा लिपि

Question Number : 45 Question Id : 260269345 Display Question Number : Yes Single Line Question Option : No Option Orientation : Vertical

किन दो अंग्रेजी प्रणालियों के अनुसार ऋषि अग्रवाल ने हिन्दी संकेत लिपि का अविष्कार किया था?

Options :

1. ✗ पिट मैन्-ग्रेग
2. ✗ पिट मैन्-डटन
3. ✗ स्लोन डुप्लायन-ग्रेग
4. ✓ पिटमैन्-स्लोन डुप्लायन

Question Number : 45 Question Id : 260269345 Display Question Number : Yes Single Line Question Option : No Option Orientation : Vertical

किन दो अंग्रेजी प्रणालियों के अनुसार ऋषि अग्रवाल ने हिन्दी संकेत लिपि का अविष्कार किया था?

Options :

1. ✗ पिट मैन्-ग्रेग
2. ✗ पिट मैन्-डटन
3. ✗ स्लोन डुप्लायन-ग्रेग
4. ✓ पिटमैन्-स्लोन डुप्लायन

Question Number : 46 Question Id : 260269346 Display Question Number : Yes Single Line Question Option : No Option Orientation : Vertical

Fill in the blanks in the sentence below with suitable articles. Choose your answer from the options given:

Rescuers are racing against \_\_\_\_\_ clock to reach survivors trapped under \_\_\_\_\_ rubble of \_\_\_\_\_ school in Mexico City which collapsed during Tuesday's earthquake.

Options :

1. ✓ the, the, a

2. ✘ a, a, a

3. ✘ the, a, the

4. ✘ a, a, the

**Question Number : 46 Question Id : 260269346 Display Question Number : Yes Single Line Question Option : No Option Orientation : Vertical**

*Fill in the blanks in the sentence below with suitable articles. Choose your answer from the options given:*

Rescuers are racing against \_\_\_\_\_ clock to reach survivors trapped under \_\_\_\_\_ rubble of \_\_\_\_\_ school in Mexico City which collapsed during Tuesday's earthquake.

**Options :**

1. ✔ the, the, a

2. ✘ a, a, a

3. ✘ the, a, the

4. ✘ a, a, the

**Question Number : 47 Question Id : 260269347 Display Question Number : Yes Single Line Question Option : No Option Orientation : Vertical**

*Fill in the blanks in the sentence below with suitable articles. Choose your answer from the options given:*

Long term tracking of \_\_\_\_\_ satellite Vanguard 1 continues to help scientists understand \_\_\_\_\_ influence of \_\_\_\_\_ Earth's atmosphere on satellites and how orbits decay over time.

**Options :**

1. ✔ the, the, the,

2. ✘ a, the, the

3. ✘ the, the, an

4. ✘ the , an, the

**Question Number : 47 Question Id : 260269347 Display Question Number : Yes Single Line Question Option : No Option Orientation : Vertical**

*Fill in the blanks in the sentence below with suitable articles. Choose your answer from the options given:*

Long term tracking of \_\_\_\_\_ satellite Vanguard 1 continues to help scientists understand \_\_\_\_\_ influence of \_\_\_\_\_ Earth's atmosphere on satellites and how orbits decay over time.

**Options :**

1. ✓ the, the, the,
2. ✗ a, the, the
3. ✗ the, the, an
4. ✗ the , an, the

Question Number : 48 Question Id : 260269348 Display Question Number : Yes Single Line Question Option : No Option Orientation : Vertical

Fill in the blank in the sentence below with a suitable modal verb. Choose your answer from the options given:

With the possibility that lives \_\_\_ still be saved, rescuers were battling to save any souls left beneath the rubble.

Options :

1. ✗ should
2. ✗ shall
3. ✓ can
4. ✗ will

Question Number : 48 Question Id : 260269348 Display Question Number : Yes Single Line Question Option : No Option Orientation : Vertical

Fill in the blank in the sentence below with a suitable modal verb. Choose your answer from the options given:

With the possibility that lives \_\_\_ still be saved, rescuers were battling to save any souls left beneath the rubble.

Options :

1. ✗ should
2. ✗ shall
3. ✓ can
4. ✗ will

Question Number : 49 Question Id : 260269349 Display Question Number : Yes Single Line Question Option : No Option Orientation : Vertical

Read the sentence given below. The nouns in the sentence are highlighted. From the options given, choose the type of nouns each highlighted word is:

**Courage** is resistance to fear, mastery of **fear**, not absence of fear. (Mark Twain)

Options :

1. ✘ collective noun, abstract noun
2. ✘ common noun, collective noun
3. ✘ proper noun, common noun
4. ✔ abstract noun, abstract noun

Question Number : 49 Question Id : 260269349 Display Question Number : Yes Single Line Question Option : No Option Orientation : Vertical

Read the sentence given below. The nouns in the sentence are highlighted. From the options given, choose the type of nouns each highlighted word is:

**Courage** is resistance to fear, mastery of **fear**, not absence of fear. (Mark Twain)

Options :

1. ✘ collective noun, abstract noun
2. ✘ common noun, collective noun
3. ✘ proper noun, common noun
4. ✔ abstract noun, abstract noun

Question Number : 50 Question Id : 260269350 Display Question Number : Yes Single Line Question Option : No Option Orientation : Vertical

The passage below has been given in four parts as options. One of the parts contains an error. Choose the option that has the error:

Options :

1. ✔ animals who live close to the surface and want to hide
2. ✘ can produce dazzling displays of light in a process known as
3. ✘ bioluminescence, confusing predators below who think they are looking at
4. ✘ dappled sunshine hitting the water's surface

Question Number : 50 Question Id : 260269350 Display Question Number : Yes Single Line Question Option : No Option Orientation : Vertical

The passage below has been given in four parts as options. One of the parts contains an error. Choose the option that has the error:

Options :



1. ✓ animals who live close to the surface and want to hide
2. ✗ can produce dazzling displays of light in a process known as
3. ✗ bioluminescence, confusing predators below who think they are looking at
4. ✗ dappled sunshine hitting the water's surface

Question Number : 51 Question Id : 260269351 Display Question Number : Yes Single Line Question Option : No Option Orientation : Vertical

*From the options given, choose the one that replaces the sentence below correctly:*

It was raining. That's the only reason I didn't take the children to the park.

Options :

1. ✓ If it hadn't been raining, I would have taken the children to the park.
2. ✗ If it hadn't been raining, I will have taken the children to the park.
3. ✗ If it hadn't been rain, I would have taken the children to the park
4. ✗ If it hadn't been raining, I should have taken the children to the park.

Question Number : 51 Question Id : 260269351 Display Question Number : Yes Single Line Question Option : No Option Orientation : Vertical

*From the options given, choose the one that replaces the sentence below correctly:*

It was raining. That's the only reason I didn't take the children to the park.

Options :

1. ✓ If it hadn't been raining, I would have taken the children to the park.
2. ✗ If it hadn't been raining, I will have taken the children to the park.
3. ✗ If it hadn't been rain, I would have taken the children to the park
4. ✗ If it hadn't been raining, I should have taken the children to the park.

Question Number : 52 Question Id : 260269352 Display Question Number : Yes Single Line Question Option : No Option Orientation : Vertical

Choose the option that offers the correct **synonym** of the highlighted word in the sentence given below. Pay attention to the meaning of the highlighted word in context of the sentence.

**Conjoined** twins are extremely rare in wild animals.

Options :

1. ✘ Couple
2. ✘ Separated
3. ✘ Sewn
4. ✔ Attached

Question Number : 52 Question Id : 260269352 Display Question Number : Yes Single Line Question Option : No Option Orientation : Vertical

Choose the option that offers the correct **synonym** of the highlighted word in the sentence given below. Pay attention to the meaning of the highlighted word in context of the sentence.

**Conjoined** twins are extremely rare in wild animals.

Options :

1. ✘ Couple
2. ✘ Separated
3. ✘ Sewn
4. ✔ Attached

Question Number : 53 Question Id : 260269353 Display Question Number : Yes Single Line Question Option : No Option Orientation : Vertical

Choose the option that offers the correct **antonym** of the highlighted word in the sentence given below. Pay attention to the meaning of the highlighted word in context of the sentence.

Any effort can easily lead to overheating, so to **combat** the high temperatures, the penguins stretch out on their stomachs so their feet can cool off in the breeze.

Options :

1. ✘ encounter
2. ✔ calm
3. ✘ affray
4. ✘ peace



Question Number : 53 Question Id : 260269353 Display Question Number : Yes Single Line Question Option : No Option Orientation : Vertical

Choose the option that offers the correct **antonym** of the highlighted word in the sentence given below. Pay attention to the meaning of the highlighted word in context of the sentence.

Any effort can easily lead to overheating, so to **combat** the high temperatures, the penguins stretch out on their stomachs so their feet can cool off in the breeze.

Options :

1. ✘ encounter
2. ✔ calm
3. ✘ affray
4. ✘ peace

Question Number : 54 Question Id : 260269354 Display Question Number : Yes Single Line Question Option : No Option Orientation : Vertical

Choose from the options given below the one that employs an appropriate tag question:

I hope there aren't any spiders in the bedroom, \_\_\_\_\_

Options :

1. ✔ are there?
2. ✘ were there?
3. ✘ is there?
4. ✘ aren't there?

Question Number : 54 Question Id : 260269354 Display Question Number : Yes Single Line Question Option : No Option Orientation : Vertical

Choose from the options given below the one that employs an appropriate tag question:

I hope there aren't any spiders in the bedroom, \_\_\_\_\_

Options :

1. ✔ are there?
2. ✘ were there?
3. ✘ is there?
4. ✘ aren't there?

Question Number : 55 Question Id : 260269355 Display Question Number : Yes Single Line Question Option : No Option Orientation : Vertical

*From the options given below, choose the one that has the prepositions placed correctly to form a proper sentence:*

Options :

1. ✘

Baby penguins, on their downy winter coats, are in an even greater risk of overheating. Those too young to swim in open water find welcome relief with a quick splash-around in a small river or with a trip to the penguin spa, complete with penguin 'mud packs'.

2. ✘

Chicks, in their downy winter coats, are in an even greater risk of overheating. Those too young to swim on open water find welcome relief with a quick splash-around in a small river or with a trip to the penguin spa, complete with penguin 'mud packs'.

3. ✔

Chicks, in their downy winter coats, are at an even greater risk of overheating. Those too young to swim in open water find welcome relief with a quick splash-around in a small river or with a trip to the penguin spa, complete with penguin 'mud packs'.

4. ✘

Chicks, in their downy winter coats, are at an even greater risk of overheating. Those too young to swim in open water find welcome relief from a quick-splash around on a small river or with a trip to the penguin spa, complete with penguin 'mud packs'.

Question Number : 55 Question Id : 260269355 Display Question Number : Yes Single Line Question Option : No Option Orientation : Vertical

*From the options given below, choose the one that has the prepositions placed correctly to form a proper sentence:*

Options :

1. ✘

Baby penguins, on their downy winter coats, are in an even greater risk of overheating. Those too young to swim in open water find welcome relief with a quick splash-around in a small river or with a trip to the penguin spa, complete with penguin 'mud packs'.

2. ✘

Chicks, in their downy winter coats, are in an even greater risk of overheating. Those too young to swim on open water find welcome relief with a quick splash-around in a small river or with a trip to the penguin spa, complete with penguin 'mud packs'.

3. ✔

Chicks, in their downy winter coats, are at an even greater risk of overheating. Those too young to swim in open water find welcome relief with a quick splash-around in a small river or with a trip to the penguin spa, complete with penguin 'mud packs'.

4. ✘

Chicks, in their downy winter coats, are at an even greater risk of overheating. Those too young to swim in open water find welcome relief from a quick-splash around on a small river or with a trip to the penguin spa, complete with penguin 'mud packs'.

Question Number : 56 Question Id : 260269356 Display Question Number : Yes Single Line Question Option : No Option Orientation : Vertical

'व्याप्त' शब्द बना है:

Options :

1. ✓ वि + आप्त
2. ✗ व्या + प्त
3. ✗ व्य + आप्त
4. ✗ व्याप् + त

Question Number : 56 Question Id : 260269356 Display Question Number : Yes Single Line Question Option : No Option Orientation : Vertical

'व्याप्त' शब्द बना है:

Options :

1. ✓ वि + आप्त
2. ✗ व्या + प्त
3. ✗ व्य + आप्त
4. ✗ व्याप् + त

Question Number : 57 Question Id : 260269357 Display Question Number : Yes Single Line Question Option : No Option Orientation : Vertical

'धनी-मानी' शब्द में समास है:

Options :

1. ✗ तत्पुरुष
2. ✗ द्विगु
3. ✓ द्वंद्व
4. ✗ कर्मधारय

Question Number : 57 Question Id : 260269357 Display Question Number : Yes Single Line Question Option : No Option Orientation : Vertical

'धनी-मानी' शब्द में समास है:

Options :

1. ✘ तत्पुरुष
2. ✘ द्विगु
3. ✔ द्वंद्व
4. ✘ कर्मधारय

Question Number : 58 Question Id : 260269358 Display Question Number : Yes Single Line Question Option : No Option Orientation : Vertical

‘जिसके समान कोई अन्य न हो’ वाक्यांश के लिए एक शब्द होगा:

Options :

1. ✔ अनन्य
2. ✘ असंभव
3. ✘ अनुपम
4. ✘ अनूठा

Question Number : 58 Question Id : 260269358 Display Question Number : Yes Single Line Question Option : No Option Orientation : Vertical

‘जिसके समान कोई अन्य न हो’ वाक्यांश के लिए एक शब्द होगा:

Options :

1. ✔ अनन्य
2. ✘ असंभव
3. ✘ अनुपम
4. ✘ अनूठा

Question Number : 59 Question Id : 260269359 Display Question Number : Yes Single Line Question Option : No Option Orientation : Vertical

‘मछली’ का पर्यायवाची नहीं है:

Options :

1. ✘ मकर



2. ✘ मत्स्य

3. ✔ मीनाक्षी

4. ✘ मीन

Question Number : 59 Question Id : 260269359 Display Question Number : Yes Single Line Question Option : No Option Orientation : Vertical

‘मछली’ का पर्यायवाची नहीं है:

Options :

1. ✘ मकर

2. ✘ मत्स्य

3. ✔ मीनाक्षी

4. ✘ मीन

Question Number : 60 Question Id : 260269360 Display Question Number : Yes Single Line Question Option : No Option Orientation : Vertical

निम्नलिखित में से कौन-से शब्द की वर्तनी अशुद्ध है?

Options :

1. ✘ अनुभूति

2. ✘ अनुभव

3. ✔ अनुत्तम

4. ✘ अप्रिय

Question Number : 60 Question Id : 260269360 Display Question Number : Yes Single Line Question Option : No Option Orientation : Vertical

निम्नलिखित में से कौन-से शब्द की वर्तनी अशुद्ध है?

Options :

1. ✘ अनुभूति

2. ✘ अनुभव

3. ✓ अनुत्तम

4. ✗ अप्रिय

Question Number : 61 Question Id : 260269361 Display Question Number : Yes Single Line Question Option : No Option Orientation : Vertical

'मौखिक' शब्द का विलोम है:

Options :

1. ✗ वाचिक

2. ✓ लिखित

3. ✗ वाग्मी

4. ✗ वाचाल

Question Number : 61 Question Id : 260269361 Display Question Number : Yes Single Line Question Option : No Option Orientation : Vertical

'मौखिक' शब्द का विलोम है:

Options :

1. ✗ वाचिक

2. ✓ लिखित

3. ✗ वाग्मी

4. ✗ वाचाल

Question Number : 62 Question Id : 260269362 Display Question Number : Yes Single Line Question Option : No Option Orientation : Vertical

निम्नलिखित में से कौन-सा शब्द तत्सम है?

Options :

1. ✗ सीख

2. ✗ खीर

3. ✗ सपना

4. ✓ लज्जा



Question Number : 62 Question Id : 260269362 Display Question Number : Yes Single Line Question Option : No Option Orientation : Vertical

निम्नलिखित में से कौन-सा शब्द तत्सम है?

Options :

1. ✘ सीख
2. ✘ खीर
3. ✘ सपना
4. ✔ लज्जा

Question Number : 63 Question Id : 260269363 Display Question Number : Yes Single Line Question Option : No Option Orientation : Vertical

'ठीक न्याय' के लिए उपयुक्त मुहावरा है:

Options :

1. ✘ दूधों नहाओ पूतों फलो
2. ✘ रस्सी जल गई बल नही गया
3. ✘ दाँत खट्टे करना
4. ✔ दूध का दूध पानी का पानी करना

Question Number : 63 Question Id : 260269363 Display Question Number : Yes Single Line Question Option : No Option Orientation : Vertical

'ठीक न्याय' के लिए उपयुक्त मुहावरा है:

Options :

1. ✘ दूधों नहाओ पूतों फलो
2. ✘ रस्सी जल गई बल नही गया
3. ✘ दाँत खट्टे करना
4. ✔ दूध का दूध पानी का पानी करना

Question Number : 64 Question Id : 260269364 Display Question Number : Yes Single Line Question Option : No Option Orientation : Vertical

निम्नलिखित में से कौन-सा शब्द तद्रव है?

Options :

1. ✘ मुख
2. ✘ श्रेष्ठ
3. ✔ भगत
4. ✘ पुत्र

Question Number : 64 Question Id : 260269364 Display Question Number : Yes Single Line Question Option : No Option Orientation : Vertical

निम्नलिखित में से कौन-सा शब्द तद्रव है?

Options :

1. ✘ मुख
2. ✘ श्रेष्ठ
3. ✔ भगत
4. ✘ पुत्र

Question Number : 65 Question Id : 260269365 Display Question Number : Yes Single Line Question Option : No Option Orientation : Vertical

'गुरु' शब्द का अर्थ नहीं है:

Options :

1. ✘ शिक्षक
2. ✘ बड़ा
3. ✘ भारी
4. ✔ आकर्षण

Question Number : 65 Question Id : 260269365 Display Question Number : Yes Single Line Question Option : No Option Orientation : Vertical

'गुरु' शब्द का अर्थ नहीं है:

Options :

1. ✘ शिक्षक
2. ✘ बड़ा
3. ✘ भारी
4. ✔ आकर्षण

Question Number : 66 Question Id : 260269366 Display Question Number : Yes Single Line Question Option : No Option Orientation : Vertical

If the product of two numbers is 3,026 and their LCM is 89, then their HCF is:

Options :

1. ✘ 39
2. ✘ 33
3. ✘ 29
4. ✔ 34

Question Number : 66 Question Id : 260269366 Display Question Number : Yes Single Line Question Option : No Option Orientation : Vertical

दो संख्याओ का गुणनफल 3,026 है, तथा लघुत्तम समापवर्त्य 89 है तो उनका महत्तम समापवर्तक ज्ञात कीजिए।

Options :

1. ✘ 39
2. ✘ 33
3. ✘ 29
4. ✔ 34

Question Number : 67 Question Id : 260269367 Display Question Number : Yes Single Line Question Option : No Option Orientation : Vertical

A bus travels from A to B at the speed of 45 kmph and returns in the same route from B to A at 50 kmph. The average speed of the bus during the entire journey is:(round to one decimal):

Options :

1. ✘ 47.5 kmph
2. ✔ 47.4 kmph
3. ✘ 47.3 kmph
4. ✘ 47.2 kmph

Question Number : 67 Question Id : 260269367 Display Question Number : Yes Single Line Question Option : No Option Orientation : Vertical

एक बस A से B तक की दूरी 45 किलोमीटर/घंटे की चाल से तय करती है और उसी रास्ते से B से A पर 50 किलोमीटर/घंटे की चाल से वापस आ जाती है। पूरी यात्रा के दौरान बस की औसत चाल ज्ञात कीजिए (दशमलव के एक स्थान तक पूर्णांकित किया हुआ।)

Options :

1. ✘ 47.5 किलोमीटर/घंटा
2. ✔ 47.4 किलोमीटर/घंटा
3. ✘ 47.3 किलोमीटर/घंटा
4. ✘ 47.2 किलोमीटर/घंटा

Question Number : 68 Question Id : 260269368 Display Question Number : Yes Single Line Question Option : No Option Orientation : Vertical

₹ 11,730 and ₹ 10,200 are the compound and simple interest for a certain sum for 2 years with rate of interest being the same for both calculated per annum. The sum is:

Options :

1. ✔ ₹ 17,000
2. ✘ ₹ 18,000
3. ✘ ₹ 17,500
4. ✘ ₹ 17,750

Question Number : 68 Question Id : 260269368 Display Question Number : Yes Single Line Question Option : No Option Orientation : Vertical

₹ 11,730 और ₹ 10,200 एक निश्चित धनराशि पर 2 वर्ष में एक समान वार्षिक ब्याज की दर पर प्राप्त होने वाले चक्रवृद्धि ब्याज और साधारण ब्याज हैं। वह धनराशि है:

Options :

1. ✓ ₹ 17,000
2. ✗ ₹ 18,000
3. ✗ ₹ 17,500
4. ✗ ₹ 17,750

Question Number : 69 Question Id : 260269369 Display Question Number : Yes Single Line Question Option : No Option Orientation : Vertical

X, Y, Z are three numbers such that X and Y are 20% and 25% more than Z respectively. Then X is what percentage of Y?

Options :

1. ✗ 99%
2. ✗ 94%
3. ✓ 96%
4. ✗ 95%

Question Number : 69 Question Id : 260269369 Display Question Number : Yes Single Line Question Option : No Option Orientation : Vertical

X, Y, Z तीन संख्याएं इस प्रकार हैं, कि X और Y, Z से क्रमशः 20% और 25% अधिक है। X, Y का कितना प्रतिशत है?

Options :

1. ✗ 99%
2. ✗ 94%
3. ✓ 96%
4. ✗ 95%

Question Number : 70 Question Id : 260269370 Display Question Number : Yes Single Line Question Option : No Option Orientation : Vertical

If two roots of the equation  $ax^2 + bx + c = 0$  are equal, then  $c =$

Options :

1. ✓  $\frac{b^2}{4a}$

2. ✘  $\frac{-b^2}{4a}$

3. ✘  $\frac{a^2}{4b}$

4. ✘  $\frac{4a}{b^2}$

Question Number : 70 Question Id : 260269370 Display Question Number : Yes Single Line Question Option : No Option Orientation : Vertical

यदि समीकरण  $ax^2 + bx + c = 0$  के दो मूल बराबर हैं, तो  $c =$

Options :

1. ✔  $\frac{b^2}{4a}$

2. ✘  $\frac{-b^2}{4a}$

3. ✘  $\frac{a^2}{4b}$

4. ✘  $\frac{4a}{b^2}$

Question Number : 71 Question Id : 260269371 Display Question Number : Yes Single Line Question Option : No Option Orientation : Vertical

A telephone call for 6 minutes costs ₹ 32. What is the cost in rupees for the call of duration 4 minutes? (round to one decimal value)

Options :

1. ✘ 21.4

2. ✘ 21.5

3. ✔ 21.3

4. ✘ 21.2

Question Number : 71 Question Id : 260269371 Display Question Number : Yes Single Line Question Option : No Option Orientation : Vertical



6 मिनट के लिए एक टेलीफोन कॉल का मूल्य 32 रुपये है। 4 मिनट की कॉल का मूल्य रुपये में क्या है? (एक दशमलव स्थान तक पूर्णांकित करें)

Options :

1. ✘ 21.4
2. ✘ 21.5
3. ✔ 21.3
4. ✘ 21.2

Question Number : 72 Question Id : 260269372 Display Question Number : Yes Single Line Question Option : No Option Orientation : Vertical

Mr. Kiran travels equal distance with the speed of 10 kmph, 30 kmph and 8 kmph respectively. He takes a total time of 15.5 minutes. The total distance travelled is:

Options :

1. ✘ 2.5 km
2. ✔ 3 km
3. ✘ 3.5 km
4. ✘ 4 km

Question Number : 72 Question Id : 260269372 Display Question Number : Yes Single Line Question Option : No Option Orientation : Vertical

श्रीमान किरन तीन बराबर दूरियों को क्रमशः 10 किलोमीटर/घंटे, 30 किलोमीटर/घंटे और 8 किलोमीटर/घंटे की चाल से तय करता है। अगर वह 15.5 मिनट का कुल समय लेता है तो उसके द्वारा तय की गयी कुल दूरी है:

Options :

1. ✘ 2.5 किलोमीटर
2. ✔ 3 किलोमीटर
3. ✘ 3.5 किलोमीटर
4. ✘ 4 किलोमीटर

Question Number : 73 Question Id : 260269373 Display Question Number : Yes Single Line Question Option : No Option Orientation : Vertical

A shop owner marks the prices of his goods at 20% higher than the cost price. Later, while selling the goods, a discount of 20% is given on the marked price. The loss/gain to the owner is:



Options :

1. ✓ 4% loss
2. ✗ 4% gain
3. ✗ 2% loss
4. ✗ 2% gain

Question Number : 73 Question Id : 260269373 Display Question Number : Yes Single Line Question Option : No Option Orientation : Vertical

एक दुकानदार वस्तुओं पर क्रय मूल्य से 20% अधिक मूल्य अंकित करके रखता है। बाद में वह अंकित मूल्य पर 20% की छूट देकर वस्तुओं को बेचता है। दुकानदार का हानि/लाभ है

Options :

1. ✓ 4% हानि
2. ✗ 4% लाभ
3. ✗ 2% हानि
4. ✗ 2% लाभ

Question Number : 74 Question Id : 260269374 Display Question Number : Yes Single Line Question Option : No Option Orientation : Vertical

A jar contains whisky with the alcohol proportion of 30%. A part of this whisky is replaced by another brand that contains alcohol in the proportion of 19%. Now the percentage of alcohol is 26% in the whisky. The quantity of whisky replaced is:

Options :

1. ✗ 4/7
2. ✓ 4/11
3. ✗ 7/11
4. ✗ 3/7

Question Number : 74 Question Id : 260269374 Display Question Number : Yes Single Line Question Option : No Option Orientation : Vertical

एक जार में विहस्की है जिसमें अल्कोहल का अनुपात 30% है। इस विहस्की की थोड़ी सी मात्रा को एक अन्य ब्रांड से बदल दिया जाता है जिसमें अल्कोहल का अनुपात 19% है। अब विहस्की में अल्कोहल का अनुपात 26% हो जाता है। बदली गयी विहस्की की मात्रा है:

Options :

1. ✘ 4/7

2. ✔ 4/11

3. ✘ 7/11

4. ✘ 3/7

Question Number : 75 Question Id : 260269375 Display Question Number : Yes Single Line Question Option : No Option Orientation : Vertical

The marked price of a bicycle is ₹ 1,824. A shopkeeper allows a discount of 14% and gets a profit of 14%. Find the cost price of the bicycle.

Options :

1. ✘ ₹ 850

2. ✘ ₹ 1,000

3. ✘ ₹ 900

4. ✔ ₹ 1,376

Question Number : 75 Question Id : 260269375 Display Question Number : Yes Single Line Question Option : No Option Orientation : Vertical

एक साइकिल का अंकित मूल्य ₹ 1,824 है। दुकानदार इस अंकित मूल्य पर 14% छूट देकर 14% लाभ अर्जित करता है। साइकिल का क्रय मूल्य ज्ञात कीजिए।

Options :

1. ✘ ₹ 850

2. ✘ ₹ 1,000

3. ✘ ₹ 900

4. ✔ ₹ 1,376

Question Number : 76 Question Id : 260269376 Display Question Number : Yes Single Line Question Option : No Option Orientation : Vertical

A piece of brick is suspended in air by a spring balance. The reading of the balance is 0.14 kg. When the piece is submerged in water, the scale reads 0.04 kg. The density of the brick is:

Options :

1. ✘  $1.1 \times 10^3 \text{ kg m}^{-3}$
2. ✘  $1.2 \times 10^3 \text{ kg m}^{-3}$
3. ✔  $1.4 \times 10^3 \text{ kg m}^{-3}$
4. ✘  $1.6 \times 10^3 \text{ kg m}^{-3}$

Question Number : 76 Question Id : 260269376 Display Question Number : Yes Single Line Question Option : No Option Orientation : Vertical

ईंट का एक टुकड़ा हवा में कमानीदार तुला से लटका हुआ है। तुला का पाठ्यांक 0.14 किलोग्राम है। जब यह वस्तु पानी में डूबी हो तो तुला का पाठ्यांक 0.04 किलोग्राम दिखता है। ईंट का घनत्व होगा:

Options :

1. ✘  $1.1 \times 10^3$  किलोग्राम मीटर<sup>-3</sup>
2. ✘  $1.2 \times 10^3$  किलोग्राम मीटर<sup>-3</sup>
3. ✔  $1.4 \times 10^3$  किलोग्राम मीटर<sup>-3</sup>
4. ✘  $1.6 \times 10^3$  किलोग्राम मीटर<sup>-3</sup>

Question Number : 77 Question Id : 260269377 Display Question Number : Yes Single Line Question Option : No Option Orientation : Vertical

An object is thrown vertically upwards with a velocity of 60 m/s. The distance travelled by it in the fourth second is: ( take  $g = 10 \text{ m/s}^2$  )

Options :

1. ✘ 15 m
2. ✔ 25 m
3. ✘ 40 m
4. ✘ 50 m

Question Number : 77 Question Id : 260269377 Display Question Number : Yes Single Line Question Option : No Option Orientation : Vertical

एक वस्तु 60 मीटर/सेकंड के वेग से उर्ध्वाधर ऊपर की ओर फेंकी जाती है। चौथे सेकंड में इसके द्वारा तय की गई दूरी होगी:

( $g = 10 \text{ मीटर/सेकंड}^2$ )

Options :

1. ✘ 15 मीटर
2. ✔ 25 मीटर
3. ✘ 40 मीटर
4. ✘ 50 मीटर

Question Number : 78 Question Id : 260269378 Display Question Number : Yes Single Line Question Option : No Option Orientation : Vertical

An object is placed in front of a concave mirror at a point between its pole and focus. The image formed by the mirror is:

Options :

1. ✘ Real and of the same size
2. ✘ Real and diminished
3. ✔ Virtual and enlarged
4. ✘ Virtual and diminished

Question Number : 78 Question Id : 260269378 Display Question Number : Yes Single Line Question Option : No Option Orientation : Vertical

कोई वस्तु अवतल दर्पण के सामने उसके ध्रुव और फोकस के मध्य एक बिंदु पर रखी गई है। दर्पण द्वारा बनाया गया प्रतिबिंब होगा:

Options :

1. ✘ वास्तविक और समान आकार का
2. ✘ वास्तविक और संकुचित
3. ✔ आभासी और बड़े आकार का
4. ✘ आभासी और संकुचित

Question Number : 79 Question Id : 260269379 Display Question Number : Yes Single Line Question Option : No Option Orientation : Vertical

When a ray of light passes from water to air, it bends:

Options :

1. ✘ Away from the normal and slows down



2. ✓ Away from the normal and speeds up
3. ✗ Towards the normal and slows down
4. ✗ Towards the normal and speeds up

Question Number : 79 Question Id : 260269379 Display Question Number : Yes Single Line Question Option : No Option Orientation : Vertical

प्रकाश की एक किरण पानी से हवा में जाती है। जैसे ही यह पानी से हवा में गुजरती है तो यह:

Options :

1. ✗ सामान्य (अभिलम्ब) से दूर मुड़ जाती है तथा धीमी हो जाती है
2. ✓ सामान्य (अभिलम्ब) से दूर मुड़ जाती है तथा तीव्र हो जाती है
3. ✗ सामान्य (अभिलम्ब) की ओर मुड़ जाती है तथा धीमी हो जाती है
4. ✗ सामान्य (अभिलम्ब) की ओर मुड़ जाती है तथा तीव्र हो जाती है

Question Number : 80 Question Id : 260269380 Display Question Number : Yes Single Line Question Option : No Option Orientation : Vertical

An object is placed in front of a convex mirror of focal length 24 cm. The image formed is at a distance of 14.4 cm. Following Cartesian sign convention, the object distance,  $u$  and the magnification,  $m$  are expressed respectively as:

Options :

1. ✗ -18 cm, -0.8
2. ✗ 18 cm, 0.8
3. ✗ 36 cm, -0.4
4. ✓ -36 cm, 0.4

Question Number : 80 Question Id : 260269380 Display Question Number : Yes Single Line Question Option : No Option Orientation : Vertical

एक वस्तु 24 सेंटीमीटर फोकल लम्बाई के एक उत्तल दर्पण के सामने रखी हुई है। प्रतिबिंब 14.4 सेंटीमीटर की दूरी पर बनता है। कार्टेसियन संकेत रीति से, वस्तु की दूरी  $u$  और आवर्धन  $m$  क्रमशः यह दर्शाए जाएंगे:

Options :

1. ✗ -18 सेंटीमीटर, -0.8

2. ✘ 18 सेंटीमीटर, 0.8
3. ✘ 36 सेंटीमीटर, -0.4
4. ✔ -36 सेंटीमीटर, 0.4

Question Number : 81 Question Id : 260269381 Display Question Number : Yes Single Line Question Option : No Option Orientation : Vertical

Which one of the following compounds is NOT soluble in water?

Options :

1. ✔ CH<sub>4</sub>
2. ✘ NaCl
3. ✘ NaNO<sub>3</sub>
4. ✘ NH<sub>4</sub>Cl

Question Number : 81 Question Id : 260269381 Display Question Number : Yes Single Line Question Option : No Option Orientation : Vertical

निम्नलिखित में से कौन सा यौगिक जल में घुलनशील नहीं है?

Options :

1. ✔ CH<sub>4</sub>
2. ✘ NaCl
3. ✘ NaNO<sub>3</sub>
4. ✘ NH<sub>4</sub>Cl

Question Number : 82 Question Id : 260269382 Display Question Number : Yes Single Line Question Option : No Option Orientation : Vertical

Which compound among the following has carbon-carbon triple bond?

Options :

1. ✘ CH<sub>4</sub>
2. ✔ C<sub>2</sub>H<sub>2</sub>



3. ✘  $C_2H_6$ 4. ✘  $C_2H_4$ 

Question Number : 82 Question Id : 260269382 Display Question Number : Yes Single Line Question Option : No Option Orientation : Vertical

निम्नलिखित में से किस यौगिक में कार्बन-कार्बन त्रिबंध होता है?

Options :

1. ✘  $CH_4$ 2. ✔  $C_2H_2$ 3. ✘  $C_2H_6$ 4. ✘  $C_2H_4$ 

Question Number : 83 Question Id : 260269383 Display Question Number : Yes Single Line Question Option : No Option Orientation : Vertical

Which one of the following represents the mass of one mole of magnesium atoms?

Options :

1. ✘ 0.24 gram

2. ✘ 2.4 gram

3. ✔ 24 gram

4. ✘ 12 gram

Question Number : 83 Question Id : 260269383 Display Question Number : Yes Single Line Question Option : No Option Orientation : Vertical

निम्नलिखित में से कौन सा विकल्प मैग्नीशियम परमाणु के एक मोल का द्रव्यमान दर्शाता है?

Options :

1. ✘ 0.24 ग्राम

2. ✘ 2.4 ग्राम

3. ✔ 24 ग्राम

4. ✘ 12 ग्राम

Question Number : 84 Question Id : 260269384 Display Question Number : Yes Single Line Question Option : No Option Orientation : Vertical

Which among the following chemical formula is used to represent the functional group amide?

Options :

1. ✓ -CONH<sub>2</sub>
2. ✗ -NH<sub>2</sub>
3. ✗ -OH
4. ✗ -CN

Question Number : 84 Question Id : 260269384 Display Question Number : Yes Single Line Question Option : No Option Orientation : Vertical

निम्नलिखित में से कौन सा रासायनिक सूत्र एमाइड के क्रियात्मक समूह को दर्शाता है?

Options :

1. ✓ -CONH<sub>2</sub>
2. ✗ -NH<sub>2</sub>
3. ✗ -OH
4. ✗ -CN

Question Number : 85 Question Id : 260269385 Display Question Number : Yes Single Line Question Option : No Option Orientation : Vertical

What is the organic compound produced when an alcohol is treated with carboxylic acid?

Options :

1. ✗ Amine
2. ✗ Ether
3. ✓ Ester
4. ✗ Cyanide

Question Number : 85 Question Id : 260269385 Display Question Number : Yes Single Line Question Option : No Option Orientation : Vertical

अल्कोहल को कार्बोक्सिलिक अम्ल के साथ अभिकृत करने पर कौन सा कार्बनिक यौगिक बनता है?

Options :

1. ✘ एमीन
2. ✘ ईथर
3. ✔ एस्टर
4. ✘ सायनाइड

Question Number : 86 Question Id : 260269386 Display Question Number : Yes Single Line Question Option : No Option Orientation : Vertical

What is Mrinalini Sarabhai famous for?

Options :

1. ✔ Bharatnatyam
2. ✘ Kuchipudi
3. ✘ Mohiniyattam
4. ✘ Kathakali

Question Number : 86 Question Id : 260269386 Display Question Number : Yes Single Line Question Option : No Option Orientation : Vertical

मृणालिनी साराभाई किस लिए प्रसिद्ध हैं?

Options :

1. ✔ भरतनाट्यम
2. ✘ कुचिपुडी
3. ✘ मोहिनीअट्टम
4. ✘ कथकली

Question Number : 87 Question Id : 260269387 Display Question Number : Yes Single Line Question Option : No Option Orientation : Vertical

In which year was Mahatma Gandhi assassinated?

Options :

1. ✘ 1947

2. ✔ 1948

3. ✘ 1949

4. ✘ 1950

Question Number : 87 Question Id : 260269387 Display Question Number : Yes Single Line Question Option : No Option Orientation : Vertical

महात्मा गांधी की हत्या किस वर्ष में हुई थी?

Options :

1. ✘ 1947

2. ✔ 1948

3. ✘ 1949

4. ✘ 1950

Question Number : 88 Question Id : 260269388 Display Question Number : Yes Single Line Question Option : No Option Orientation : Vertical

Also called Cape Comorin, what is the Southernmost tip of Peninsular India?

Options :

1. ✘ Venadu

2. ✘ Nagarkovil

3. ✘ Devi Kanya

4. ✔ Kanyakumari

Question Number : 88 Question Id : 260269388 Display Question Number : Yes Single Line Question Option : No Option Orientation : Vertical

प्रायद्वीपीय भारत के दक्षिणी छोर के अंतिम बिंदु को केप कोमोरिन के अलावा क्या कहा जाता है?

Options :

1. ✘ वेनाडू

2. ✘ नगरकोविल

3. ✘ देवी कन्या
4. ✔ कन्याकुमारी

Question Number : 89 Question Id : 260269389 Display Question Number : Yes Single Line Question Option : No Option Orientation : Vertical

What are the three parts within the 10 page Annual Financial Statement presented in the Indian Parliament?

Options :

1. ✘ Social expense, communal expense and private expense
2. ✘ Consolidated finance, contingency finance and public expense
3. ✔ Consolidated fund, contingency fund and public account
4. ✘ Credits, debits and balance statement

Question Number : 89 Question Id : 260269389 Display Question Number : Yes Single Line Question Option : No Option Orientation : Vertical

भारतीय संसद में प्रस्तुत किये जाने वाले 10 पृष्ठ के वार्षिक वित्तीय विवरण में कौन से तीन भाग होते हैं?

Options :

1. ✘ सामाजिक व्यय, सामुदायिक व्यय और निजी व्यय
2. ✘ संचित वित्त, आकस्मिक वित्त और सार्वजनिक व्यय
3. ✔ संचित निधि, आकस्मिक फंड और सार्वजनिक खाते
4. ✘ जमा, निकासी और शेष विवरण

Question Number : 90 Question Id : 260269390 Display Question Number : Yes Single Line Question Option : No Option Orientation : Vertical

Which state of the Indian Union has a separate constitution?

Options :

1. ✔ Jammu and Kashmir
2. ✘ Sikkim
3. ✘ Goa

4. ✘ Puducherry

Question Number : 90 Question Id : 260269390 Display Question Number : Yes Single Line Question Option : No Option Orientation : Vertical

भारतीय संघ के किस राज्य का एक अलग संविधान है?

Options :

1. ✔ जम्मू और कश्मीर

2. ✘ सिक्किम

3. ✘ गोवा

4. ✘ पुदुच्चेरी

Question Number : 91 Question Id : 260269391 Display Question Number : Yes Single Line Question Option : No Option Orientation : Vertical

What is the unit of measurement of nuclear size?

Options :

1. ✘ Angstrom

2. ✔ Fermi

3. ✘ Newton

4. ✘ Tesla

Question Number : 91 Question Id : 260269391 Display Question Number : Yes Single Line Question Option : No Option Orientation : Vertical

परमाणु आकार की माप की इकाई क्या है?

Options :

1. ✘ ऐंग्स्ट्रॉम

2. ✔ फर्मी

3. ✘ न्यूटन

4. ✘ टेस्ला



Question Number : 92 Question Id : 260269392 Display Question Number : Yes Single Line Question Option : No Option Orientation : Vertical

Who was the winner of the US Open Tennis Women Single title for 2017?

Options :

1. ✘ Maria Sharapova
2. ✘ Serena Williams
3. ✘ Madison Keys
4. ✔ Sloane Stephens

Question Number : 92 Question Id : 260269392 Display Question Number : Yes Single Line Question Option : No Option Orientation : Vertical

वर्ष 2017 के यूएस ओपन टेनिस महिला एकल खिताब की विजेता कौन थी?

Options :

1. ✘ मारिया शारापोवा
2. ✘ सेरेना विलियम्स
3. ✘ मैडिसन कीज़
4. ✔ स्लोअन स्टीफेंस

Question Number : 93 Question Id : 260269393 Display Question Number : Yes Single Line Question Option : No Option Orientation : Vertical

What is the name of the oldest existing football club in India?

Options :

1. ✔ Mohun Bagan A.C.
2. ✘ Dempo S.C.
3. ✘ Salgaocar F.C.
4. ✘ Shillong Lajong F.C.

Question Number : 93 Question Id : 260269393 Display Question Number : Yes Single Line Question Option : No Option Orientation : Vertical

भारत के सबसे पुराने फुटबॉल क्लब का नाम क्या है?

Options :

1. ✓ मोहन बागान ए.सी.
2. ✘ डेम्पो एस.सी.
3. ✘ सलगावकर एफ.सी.
4. ✘ शिलोंग लाजोंग एफ.सी.

Question Number : 94 Question Id : 260269394 Display Question Number : Yes Single Line Question Option : No Option Orientation : Vertical

Who is the Author of the book titled 'India Unbound', which traces India's post-independence economic journey?

Options :

1. ✘ Raghuram Rajan
2. ✓ Gurcharan Das
3. ✘ P Chidambaram
4. ✘ Urjit Patel

Question Number : 94 Question Id : 260269394 Display Question Number : Yes Single Line Question Option : No Option Orientation : Vertical

'इंडिया अनबाउंड' नामक पुस्तक, जो भारत की स्वतंत्रता के बाद की आर्थिक नीतियों की जानकारी प्रदान करती है, के लेखक कौन हैं?

Options :

1. ✘ रघुराम राजन
2. ✓ गुरचरण दास
3. ✘ पी चिदंबरम
4. ✘ उर्जित पटेल

Question Number : 95 Question Id : 260269395 Display Question Number : Yes Single Line Question Option : No Option Orientation : Vertical

Dr. Kiran Mazumdar Shaw is the Chairman & Managing Director of which famous brand?

Options :

1. ✘ TAFE

2. ✘ Microsoft India
3. ✘ Mindtree India
4. ✔ Biocon Ltd.

Question Number : 95 Question Id : 260269395 Display Question Number : Yes Single Line Question Option : No Option Orientation : Vertical

डॉ. किरण मजूमदार शॉ कौन से प्रसिद्ध ब्रांड की अध्यक्ष और प्रबंधन निदेशक हैं?

Options :

1. ✘ टेफ
2. ✘ माइक्रोसॉफ्ट इंडिया
3. ✘ माइंडट्री इंडिया
4. ✔ बायोकॉन लिमिटेड

Question Number : 96 Question Id : 260269396 Display Question Number : Yes Single Line Question Option : No Option Orientation : Vertical

If C = 3, CAR = 22, MADE = 23, then what is the value of CLOUD?

Options :

1. ✘ 45
2. ✘ 50
3. ✔ 55
4. ✘ 56

Question Number : 96 Question Id : 260269396 Display Question Number : Yes Single Line Question Option : No Option Orientation : Vertical

यदि C = 3, CAR = 22, MADE = 23, तो CLOUD का मान क्या होगा?

Options :

1. ✘ 45
2. ✘ 50

3. ✓ 55

4. ✗ 56

Question Number : 97 Question Id : 260269397 Display Question Number : Yes Single Line Question Option : No Option Orientation : Vertical

Complete the analogy.

6 : 125 :: ?

Options :

1. ✓ 9 : 216

2. ✗ 5 : 125

3. ✗ 6 : 216

4. ✗ 7 : 49

Question Number : 97 Question Id : 260269397 Display Question Number : Yes Single Line Question Option : No Option Orientation : Vertical

सादृश्य को पूरा करें।

Options :

1. ✓ 9 : 216

2. ✗ 5 : 125

3. ✗ 6 : 216

4. ✗ 7 : 49

Question Number : 98 Question Id : 260269398 Display Question Number : Yes Single Line Question Option : No Option Orientation : Vertical

Select the word having similar meaning as that of the words on the right and left side of the brackets:

INCLINE (----) NOT FAT

Options :

1. ✓ LEAN

2. ✗ CURL

3. ✗ BAND

4. ✘ BENT

Question Number : 98 Question Id : 260269398 Display Question Number : Yes Single Line Question Option : No Option Orientation : Vertical

उस शब्द का चयन करें जिसका अर्थ ब्रैकेट के दाहिने और बाएं दिए गए शब्दों के अर्थ के समान हो:  
INCLINE (----) NOT FAT

Options :

1. ✔ LEAN

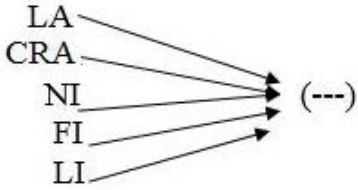
2. ✘ CURL

3. ✘ BAND

4. ✘ BENT

Question Number : 99 Question Id : 260269399 Display Question Number : Yes Single Line Question Option : No Option Orientation : Vertical

Select the set of letters which, when prefixed with any of the set of letters in the image, makes an English word.



Options :

1. ✘ ON

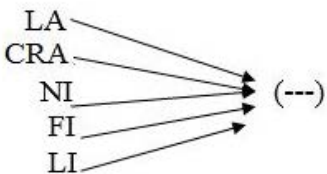
2. ✘ AN

3. ✔ NE

4. ✘ ND

Question Number : 99 Question Id : 260269399 Display Question Number : Yes Single Line Question Option : No Option Orientation : Vertical

उस अक्षर-युग्म का चयन करें जिसमें उपसर्ग के रूप में संलग्न करने पर नीचे दिया गया प्रत्येक अक्षर-समूह एक अंग्रेजी शब्द बनाए।



Options :

1. ✘ ON

2. ✘ AN

3. ✔ NE

4. ✘ ND

Question Number : 100 Question Id : 260269400 Display Question Number : Yes Single Line Question Option : No Option Orientation : Vertical

Select the missing number in the series.

3, 4, 12, 45, \_\_\_\_\_, 1005

Options :

1. ✘ 195

2. ✔ 196

3. ✘ 250

4. ✘ 90

Question Number : 100 Question Id : 260269400 Display Question Number : Yes Single Line Question Option : No Option Orientation : Vertical

श्रृंखला में अनुपस्थित संख्या का चयन करें।

3, 4, 12, 45, \_\_\_\_\_, 1005

Options :

1. ✘ 195

2. ✔ 196

3. ✘ 250

4. ✘ 90